



おうちで、やろう。

Study at home. 小学校受験の家庭学習教材

図形：回転鏡 7

左の四角のマスに鏡に映した時の見え方を考えて、真ん中の四角にかきます。その後その形を矢印の方向へ1回倒した時の見え方を考えて一番右のマスにかきます。

			↘	
--	--	--	---	--

			↘	
--	--	--	---	--

			↘	
--	--	--	---	--

			↘	
--	--	--	---	--

			↘	
--	--	--	---	--

※1. このプリントは、しながわ・目黒こどもスクールのウェブサイトからダウンロードができます。無断複写・引用はご遠慮ください。

※2. このプリントを活用したオンライン授業のスケジュールは、しながわ・目黒こどもスクールのウェブサイトでご確認ください。



おうちで、やろう。

Study at home. 小学校受験の家庭学習教材

図形：回転鏡 8

左の四角のマスに鏡に映した時の見え方を考えて、真ん中の四角にかきます。その後その形を矢印の方向へ1回倒した時の見え方を考えて一番右のマスにかきます。

			↘	
--	--	--	---	--

			↘	
--	--	--	---	--

			↘	
--	--	--	---	--

			↘	
--	--	--	---	--

			↘	
--	--	--	---	--

※1. このプリントは、しながわ・目黒こどもスクールのウェブサイトでダウンロードができます。無断複写・引用はご遠慮ください。

※2. このプリントを活用したオンライン授業のスケジュールは、しながわ・目黒こどもスクールのウェブサイトでご確認ください。



おうちで、やろう。

Study at home. 小学校受験の家庭学習教材

図形：回転鏡 9

左の四角のマスに鏡に映した時の見え方を考えて、真ん中の四角にかきます。その後その形を矢印の方向へ1回倒した時の見え方を考えて一番右のマスにかきます。

			↘	
--	--	--	---	--

			↘	
--	--	--	---	--

			↘	
--	--	--	---	--

			↘	
--	--	--	---	--

			↘	
--	--	--	---	--

※1. このプリントは、しながわ・目黒こどもスクールのウェブサイトでダウンロードができます。無断複写・引用はご遠慮ください。

※2. このプリントを活用したオンライン授業のスケジュールは、しながわ・目黒こどもスクールのウェブサイトでご確認ください。







おうちで、やろう。

Study at home. 小学校受験の家庭学習教材

推理：歯車 7

歯車に重りをつるしました。このとき矢印のついている灰色の歯車は左右どちらに回りますか。回る方向の矢印に○をつけます。



※1. このプリントは、しながわ・目黒こどもスクールのウェブサイトでダウンロードができます。無断複写・引用はご遠慮ください。
※2. このプリントを活用したオンライン授業のスケジュールは、しながわ・目黒こどもスクールのウェブサイトでご確認ください。







おうちで、やろう。

Study at home. 小学校受験の家庭学習教材

推理：歯車 8

歯車に重りをつるしました。このとき矢印のついている灰色の歯車は左右どちらに回りますか。回る方向の矢印に○をつけます。



※1. このプリントは、しながわ・目黒こどもスクールのウェブサイトでダウンロードができます。無断複写・引用はご遠慮ください。
※2. このプリントを活用したオンライン授業のスケジュールは、しながわ・目黒こどもスクールのウェブサイトでご確認ください。







おうちで、やろう。

Study at home. 小学校受験の家庭学習教材

推理：歯車 9

歯車に重りをつるしました。このとき矢印のついている灰色の歯車は左右どちらに回りますか。回る方向の矢印に○をつけます。



※1. このプリントは、しながわ・目黒こどもスクールのウェブサイトでダウンロードができます。無断複写・引用はご遠慮ください。
※2. このプリントを活用したオンライン授業のスケジュールは、しながわ・目黒こどもスクールのウェブサイトでご確認ください。



おうちで、やろう。

Study at home. 小学校受験の家庭学習教材

数量：同数 23

上のミカンとサクランボの数をかぞえます。

それぞれの果物の数と星の数が同じ四角をみつけて、それぞれの果物の四角の左上にある記号をつけます。

--	--	--	--

※1. このプリントは、しながわ・目黒こどもスクールのウェブサイトダウンロードができます。無断複写・引用はご遠慮ください。

※2. このプリントを活用したオンライン授業のスケジュールは、しながわ・目黒こどもスクールのウェブサイトでご確認ください。



おうちで、やろう。

Study at home. 小学校受験の家庭学習教材

数量：同数 24

上の果物の数をかぞえます。

それぞれの果物の数と星の数が同じ四角をみつけて、それぞれの果物の四角の左上にある記号をつけます。

※1. このプリントは、しながわ・目黒こどもスクールのウェブサイトでダウンロードができます。無断複写・引用はご遠慮ください。

※2. このプリントを活用したオンライン授業のスケジュールは、しながわ・目黒こどもスクールのウェブサイトでご確認ください。

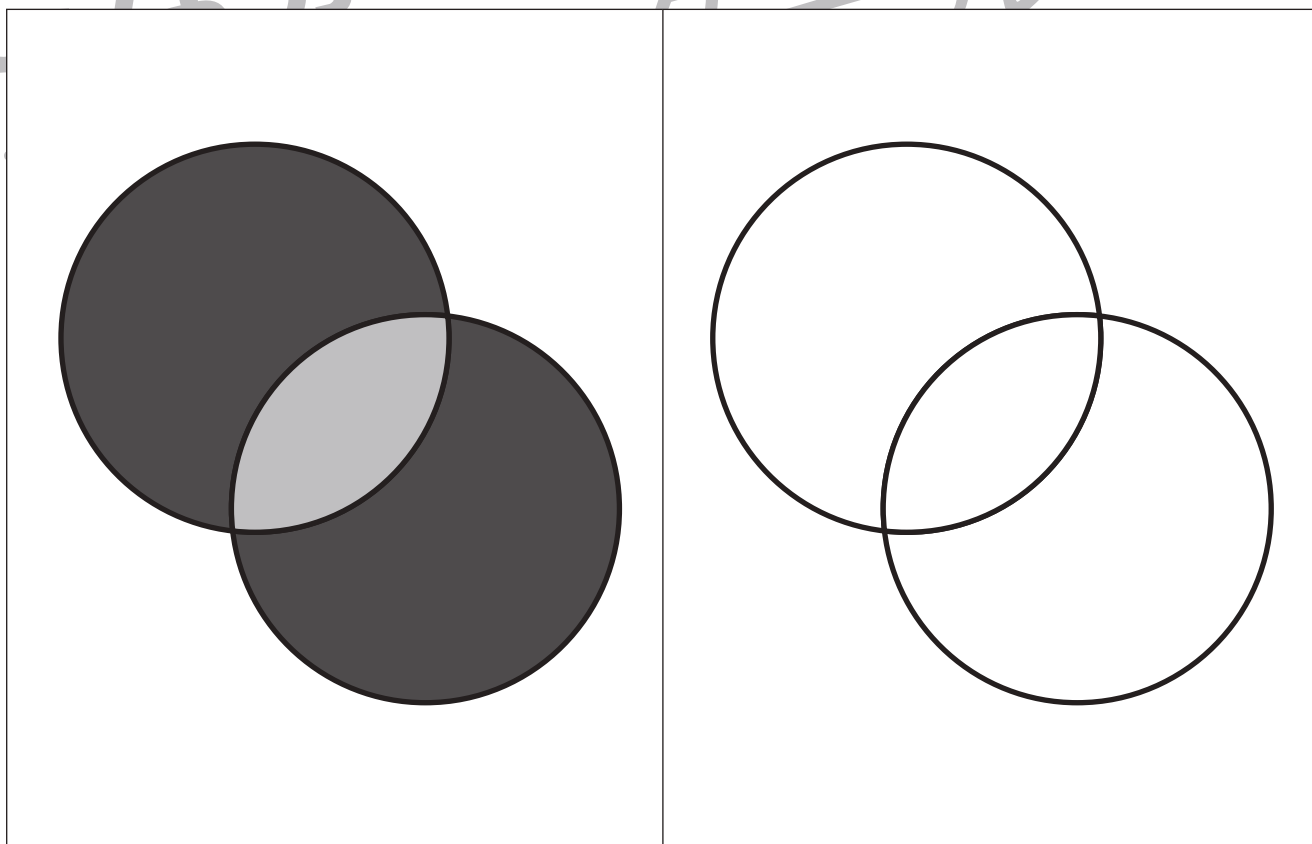
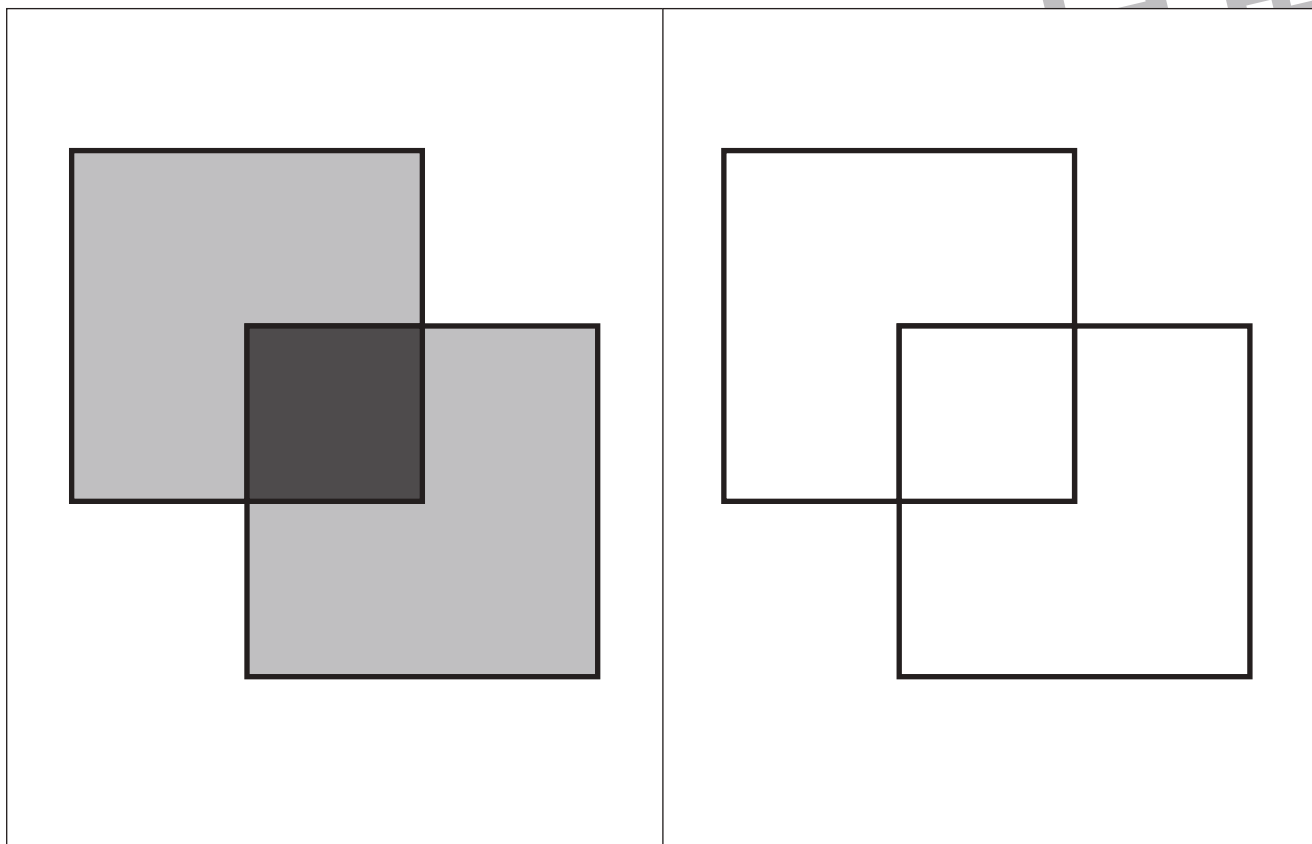


おうちで、やろう。

Study at home. 小学校受験の家庭学習教材

運筆：濃淡 7

左のお手本と同じ濃さになるように右の形を塗ります。この問題は鉛筆でやりましょう。
※この問題に解答はありません。



※1. このプリントは、しながわ・目黒こどもスクールのウェブサイトからダウンロードできます。無断複写・引用はご遠慮ください。
※2. このプリントを活用したオンライン授業のスケジュールは、しながわ・目黒こどもスクールのウェブサイトでご確認ください。

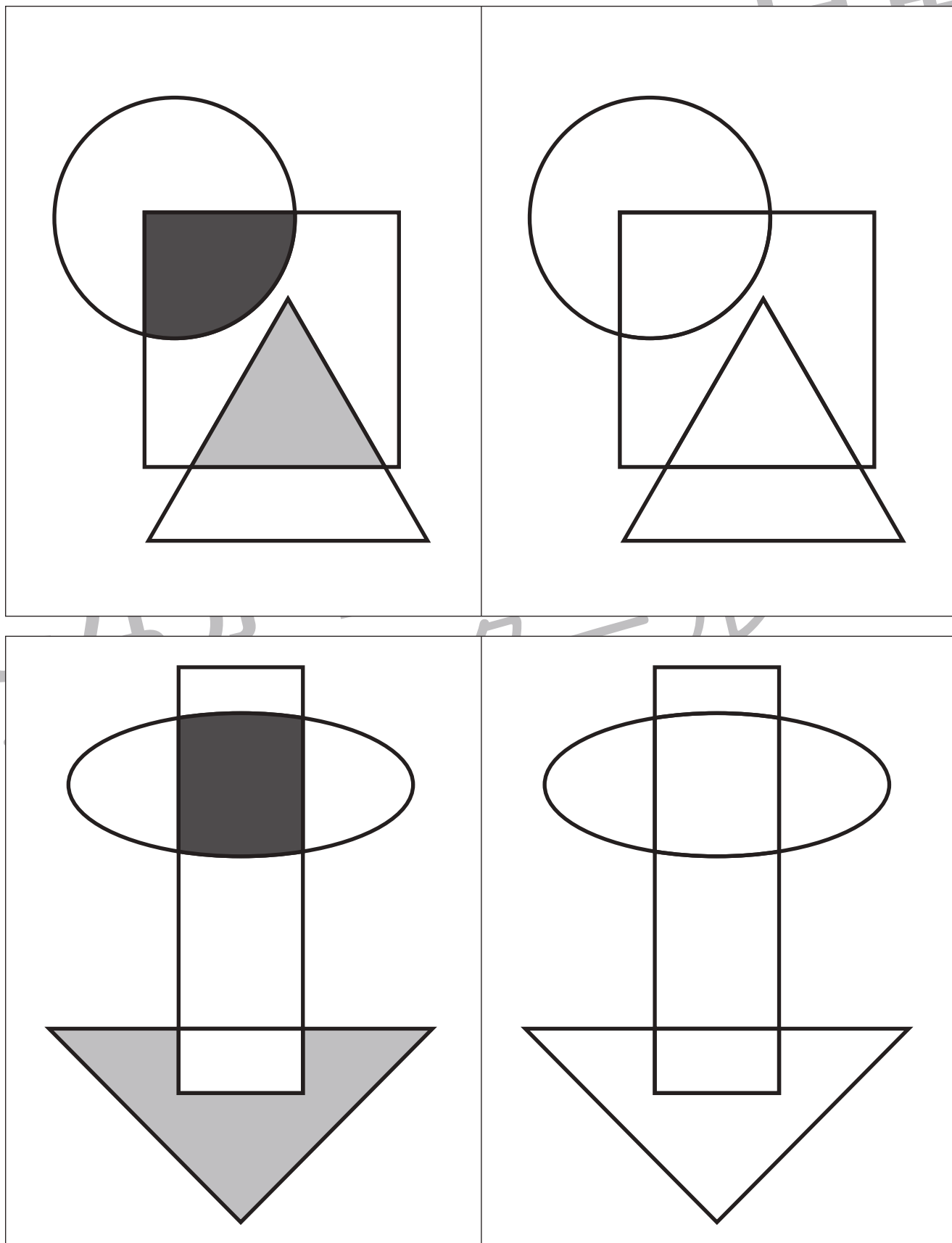


おうちで、やろう。

Study at home. 小学校受験の家庭学習教材

運筆：濃淡 8

左のお手本と同じ濃さになるように右の形を塗ります。この問題は鉛筆でやりましょう。
※この問題に解答はありません。



※1. このプリントは、しながわ・目黒こどもスクールのウェブサイトからダウンロードできます。無断複写・引用はご遠慮ください。
※2. このプリントを活用したオンライン授業のスケジュールは、しながわ・目黒こどもスクールのウェブサイトでご確認ください。