



# おうちで、やろう。

Study at home. 小学校受験の家庭学習教材

## 図形：回転鏡 7

左の四角のマスに鏡に映した時の見え方を考えて、真ん中の四角にかきます。その後その形を矢印の方向へ1回倒した時の見え方を考えて一番右のマスにかきます。

			↙	
--	--	--	---	--

			↙	
--	--	--	---	--

			↙	
--	--	--	---	--

			↙	
--	--	--	---	--

			↙	
--	--	--	---	--

※1. このプリントは、しながわ・目黒こどもスクールのウェブサイトからダウンロードできます。無断複写・引用はご遠慮ください。

※2. このプリントを活用したオンライン授業のスケジュールは、しながわ・目黒こどもスクールのウェブサイトでご確認ください。



# おうちで、やろう。

Study at home. 小学校受験の家庭学習教材

## 図形：回転鏡 8

左の四角のマスに鏡に映した時の見え方を考えて、真ん中の四角にかきます。その後その形を矢印の方向へ1回倒した時の見え方を考えて一番右のマスにかきます。

<table border="1"><tr><td></td><td></td></tr><tr><td>○</td><td>●</td></tr></table>			○	●		<table border="1"><tr><td></td><td></td></tr><tr><td>●</td><td>○</td></tr></table>			●	○	↘	<table border="1"><tr><td>●</td><td></td></tr><tr><td>○</td><td></td></tr></table>	●		○	
○	●															
●	○															
●																
○																

<table border="1"><tr><td></td><td>●</td></tr><tr><td>○</td><td>●</td></tr></table>		●	○	●		<table border="1"><tr><td>●</td><td></td></tr><tr><td>●</td><td>○</td></tr></table>	●		●	○	↘	<table border="1"><tr><td>●</td><td>●</td></tr><tr><td>○</td><td></td></tr></table>	●	●	○	
	●															
○	●															
●																
●	○															
●	●															
○																

<table border="1"><tr><td></td><td>○</td></tr><tr><td>●</td><td>○</td></tr></table>		○	●	○		<table border="1"><tr><td>○</td><td></td></tr><tr><td>○</td><td>●</td></tr></table>	○		○	●	↘	<table border="1"><tr><td>○</td><td>○</td></tr><tr><td>●</td><td></td></tr></table>	○	○	●	
	○															
●	○															
○																
○	●															
○	○															
●																

<table border="1"><tr><td>○</td><td>○</td></tr><tr><td></td><td>●</td></tr></table>	○	○		●		<table border="1"><tr><td>○</td><td>○</td></tr><tr><td>●</td><td></td></tr></table>	○	○	●		↘	<table border="1"><tr><td>●</td><td>○</td></tr><tr><td></td><td>○</td></tr></table>	●	○		○
○	○															
	●															
○	○															
●																
●	○															
	○															

<table border="1"><tr><td>●</td><td>○</td></tr><tr><td>○</td><td>●</td></tr></table>	●	○	○	●		<table border="1"><tr><td>○</td><td>●</td></tr><tr><td>●</td><td>○</td></tr></table>	○	●	●	○	↘	<table border="1"><tr><td>●</td><td>○</td></tr><tr><td>○</td><td>●</td></tr></table>	●	○	○	●
●	○															
○	●															
○	●															
●	○															
●	○															
○	●															

※1. このプリントは、しながわ・目黒こどもスクールのウェブサイトでダウンロードができます。無断複写・引用はご遠慮ください。

※2. このプリントを活用したオンライン授業のスケジュールは、しながわ・目黒こどもスクールのウェブサイトでご確認ください。



# おうちで、やろう。

Study at home. 小学校受験の家庭学習教材

## 図形：回転鏡 9

左の四角のマスに鏡に映した時の見え方を考えて、真ん中の四角にかきます。その後その形を矢印の方向へ1回倒した時の見え方を考えて一番右のマスにかきます。

			↘	
--	--	--	---	--

			↘	
--	--	--	---	--

			↘	
--	--	--	---	--

			↘	
--	--	--	---	--

			↘	
--	--	--	---	--

※1. このプリントは、しながわ・目黒こどもスクールのウェブサイトでダウンロードができます。無断複写・引用はご遠慮ください。  
 ※2. このプリントを活用したオンライン授業のスケジュールは、しながわ・目黒こどもスクールのウェブサイトでご確認ください。







# おうちで、やろう。

Study at home. 小学校受験の家庭学習教材

推理：歯車 7

歯車に重りをつるしました。このとき矢印のついている灰色の歯車は左右どちらに回りますか。回る方向の矢印に○をつけます。



※1. このプリントは、しながわ・目黒こどもスクールのウェブサイトダウンロードができます。無断複写・引用はご遠慮ください。  
※2. このプリントを活用したオンライン授業のスケジュールは、しながわ・目黒こどもスクールのウェブサイトでご確認ください。









# おうちで、やろう。

Study at home. 小学校受験の家庭学習教材

## 推理：歯車 8

歯車に重りをつるしました。このとき矢印のついている灰色の歯車は左右どちらに回りますか。回る方向の矢印に○をつけます。



※1. このプリントは、しながわ・目黒こどもスクールのウェブサイトでダウンロードができます。無断複写・引用はご遠慮ください。  
※2. このプリントを活用したオンライン授業のスケジュールは、しながわ・目黒こどもスクールのウェブサイトでご確認ください。









# おうちで、やろう。

Study at home. 小学校受験の家庭学習教材

## 推理：歯車 9

歯車に重りをつるしました。このとき矢印のついている灰色の歯車は左右どちらに回りますか。回る方向の矢印に○をつけます。



※1. このプリントは、しながわ・目黒こどもスクールのウェブサイトでダウンロードができます。無断複写・引用はご遠慮ください。  
※2. このプリントを活用したオンライン授業のスケジュールは、しながわ・目黒こどもスクールのウェブサイトでご確認ください。



# おうちで、やろう。

Study at home. 小学校受験の家庭学習教材

数量：同数 23

上のミカンとサクランボの数をかぞえます。

それぞれの果物の数と星の数が同じ四角をみつけて、それぞれの果物の四角の左上にある記号をつけます。

--	--	--	--


※1. このプリントは、しながわ・目黒こどもスクールのウェブサイトでダウンロードができます。無断複写・引用はご遠慮ください。

※2. このプリントを活用したオンライン授業のスケジュールは、しながわ・目黒こどもスクールのウェブサイトでご確認ください。



# おうちで、やろう。

Study at home. 小学校受験の家庭学習教材

数量：同数 24

上の果物の数をかぞえます。

それぞれの果物の数と星の数が同じ四角をみつけて、それぞれの果物の四角の左上にある記号をつけます。



※1. このプリントは、しながわ・目黒こどもスクールのウェブサイトでダウンロードができます。無断複写・引用はご遠慮ください。

※2. このプリントを活用したオンライン授業のスケジュールは、しながわ・目黒こどもスクールのウェブサイトでご確認ください。