



おうちで、やろう。

Study at home. 小学校受験の家庭学習教材

常識：なぞなぞ5

①～⑤の問題を聞いて、下の四角の中から正しいものを選びます。


①私はユーカリという葉を食べます。私に○をつけてください。

②私は肉が好きです。雄と雌で姿が変わります。私に△をつけてください。

③私の背中にはこぶがあるので水がない砂漠でも長い距離を歩くことができます。私に□をつけてください。

④私は冬になると冬眠します。私に◎をつけてください。

⑤私は空を飛ばませんが、泳ぐのが得意な鳥です。私に×をつけてください。



※1. このプリントは、しながわ・目黒こどもスクールのウェブサイトでダウンロードができます。無断複写・引用はご遠慮ください。

※2. このプリントを活用したオンライン授業のスケジュールは、しながわ・目黒こどもスクールのウェブサイトでご確認ください。



おうちで、やろう。

Study at home. 小学校受験の家庭学習教材

常識：なぞなぞ6

①～⑤の問題を聞いて、下の四角の中から正しいものを選びます。

①私は楽器です。白と黒の鍵盤を叩いて音を奏でます。私に○をつけてください。

②私には紐がついていて、その先にあるボールを体にのせます。私に△をつけてください。

③私は洋服などをしまっておくものです。一棹（さお）とかぞえます。私に□をつけてください。

④私は掃除をするときに使い、体はとげみだいになっています。私に◎をつけてください。

⑤私は目がたくさんあります。赤い目や黒い目が1から6までついています。私に×をつけてください。



※1. このプリントは、しながわ・目黒こどもスクールのウェブサイトでダウンロードができます。無断複写・引用はご遠慮ください。

※2. このプリントを活用したオンライン授業のスケジュールは、しながわ・目黒こどもスクールのウェブサイトでご確認ください。

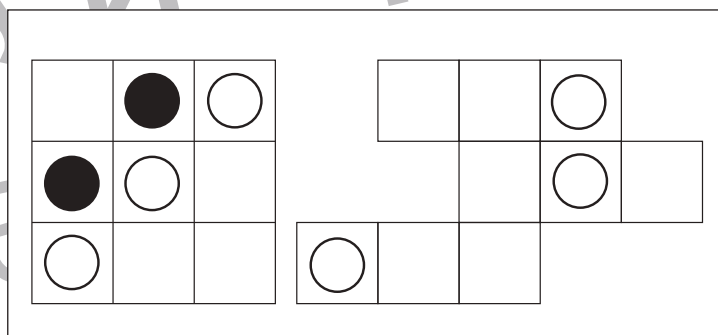
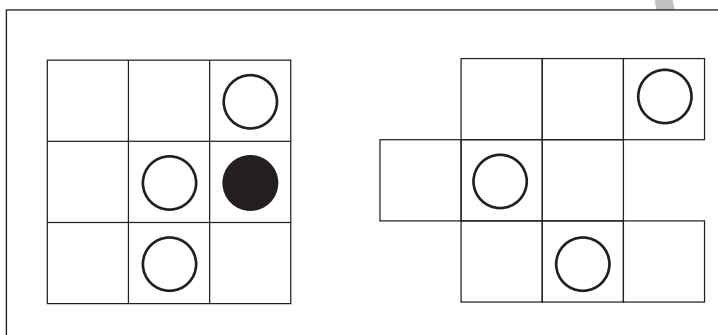
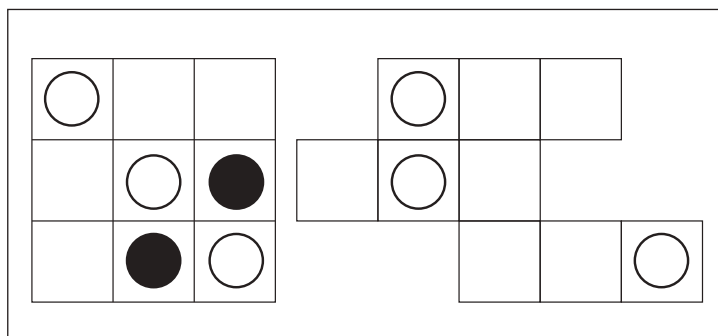
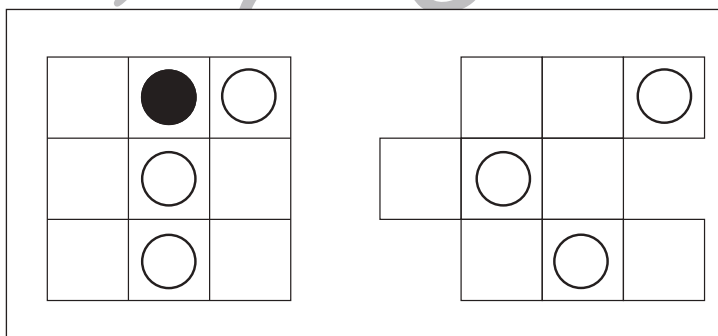
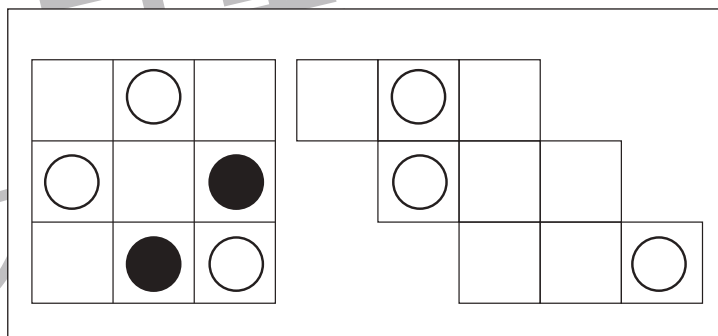
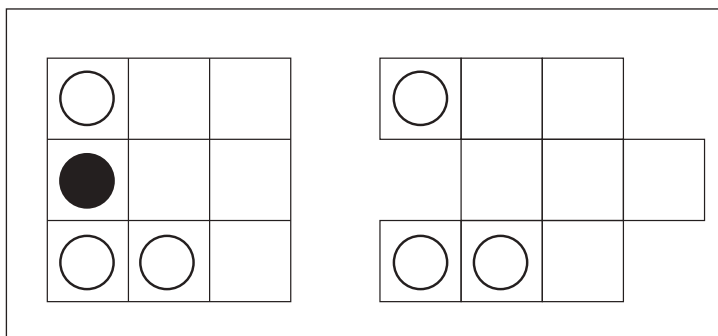
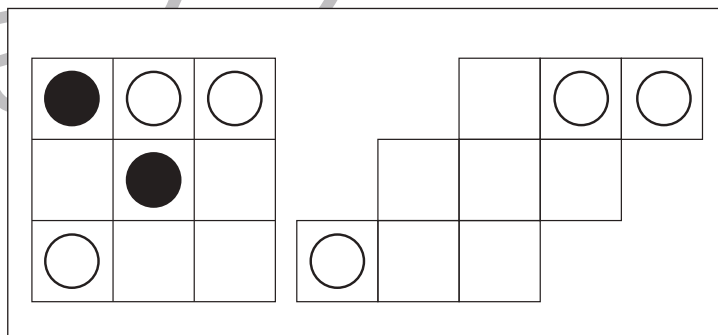
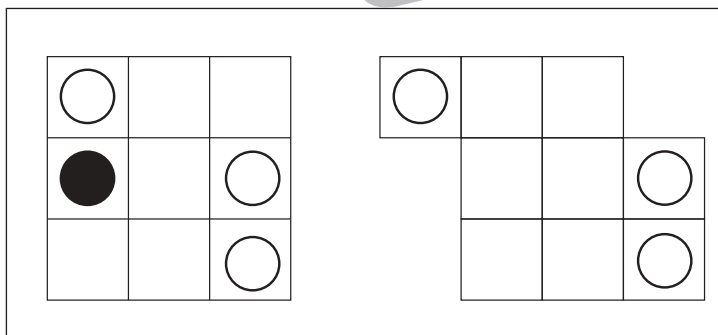
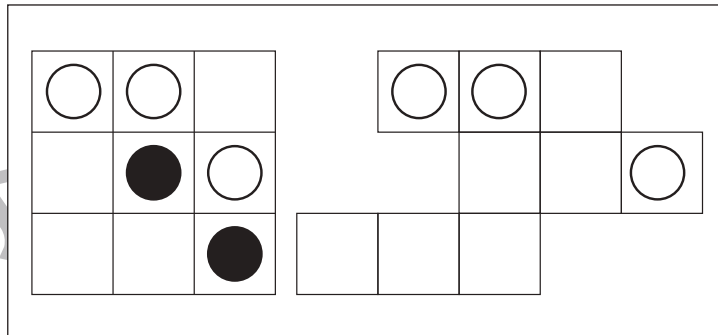
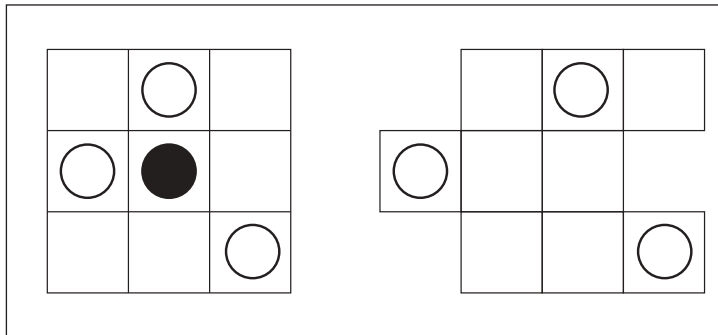


おうちで、やろう。

Study at home. 小学校受験の家庭学習教材

図形：移動 39

左の四角がお手本です。このお手本の白だけを右の四角の同じ場所にかきます。
ただし、右の四角はマスがずれています。どのマスにかけばよいのかを考えましょう。



※1. このプリントは、しながわ・目黒こどもスクールのウェブサイトでダウンロードができます。無断複写・引用はご遠慮ください。
 ※2. このプリントを活用したオンライン授業のスケジュールは、しながわ・目黒こどもスクールのウェブサイトでご確認ください。

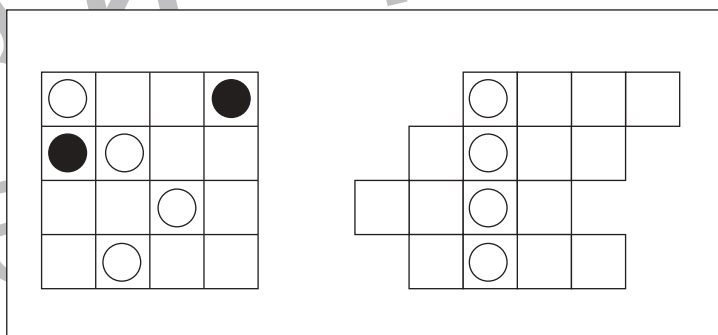
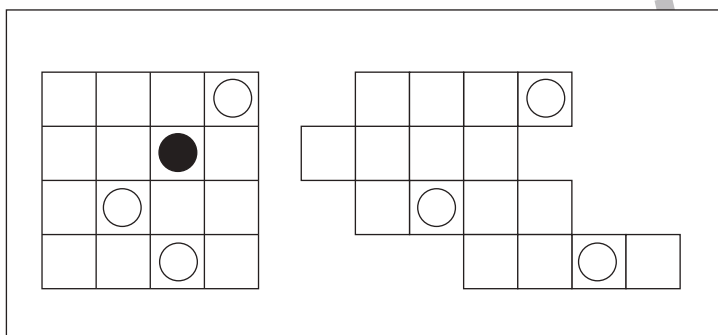
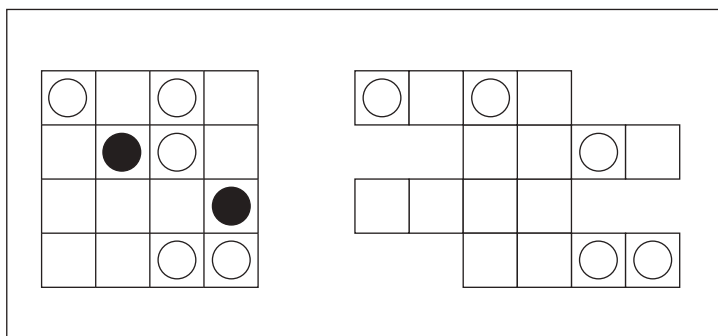
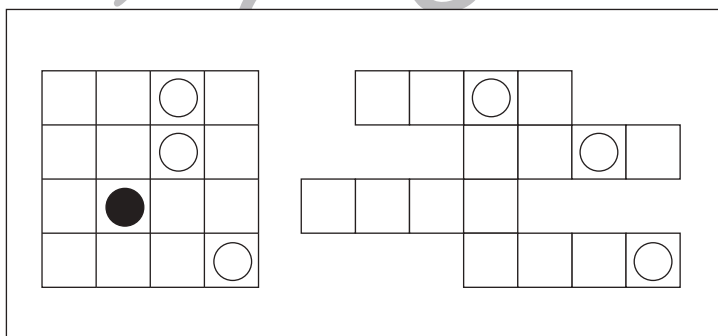
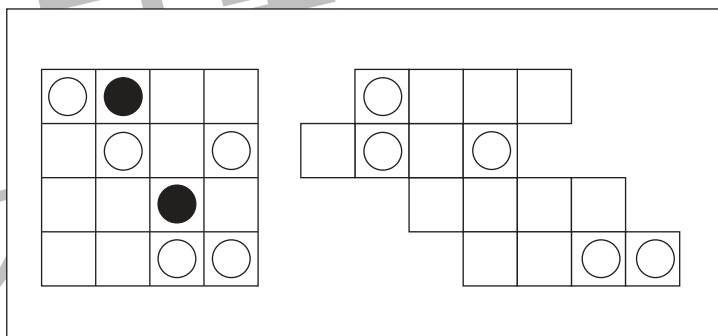
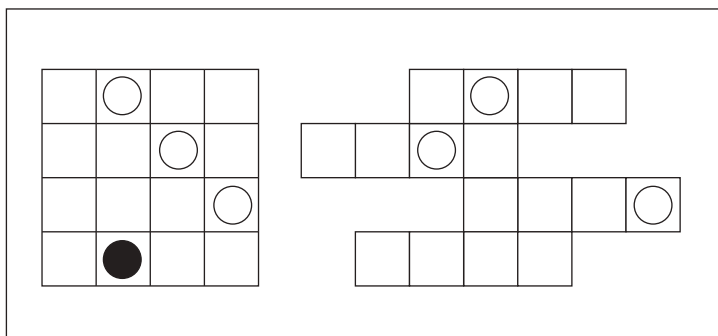
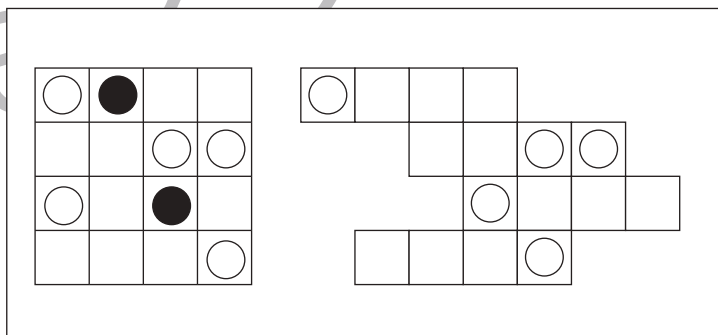
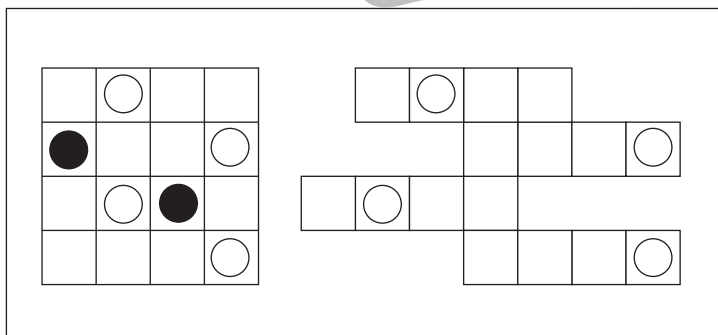
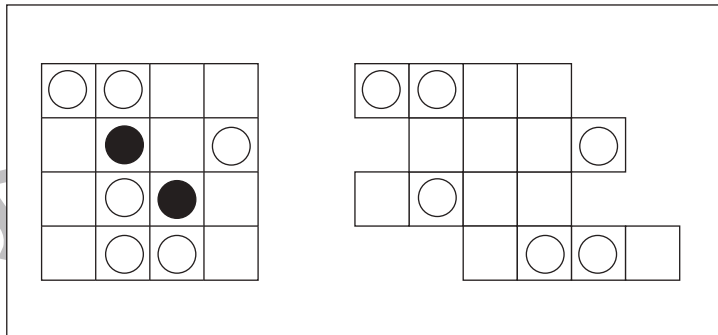
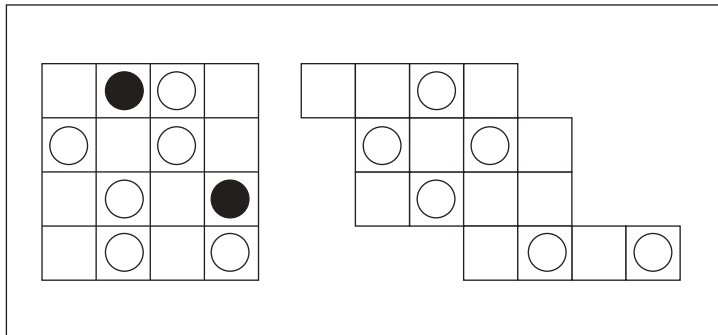


おうちで、やろう。

Study at home. 小学校受験の家庭学習教材

図形：移動 40

左の四角がお手本です。このお手本の白だけを右の四角の同じ場所にかきます。
ただし、右の四角はマスがずれています。どのマスにかけばよいのかを考えましょう。



※1. このプリントは、しながわ・目黒こどもスクールのウェブサイトでダウンロードができます。無断複写・引用はご遠慮ください。
※2. このプリントを活用したオンライン授業のスケジュールは、しながわ・目黒こどもスクールのウェブサイトでご確認ください。

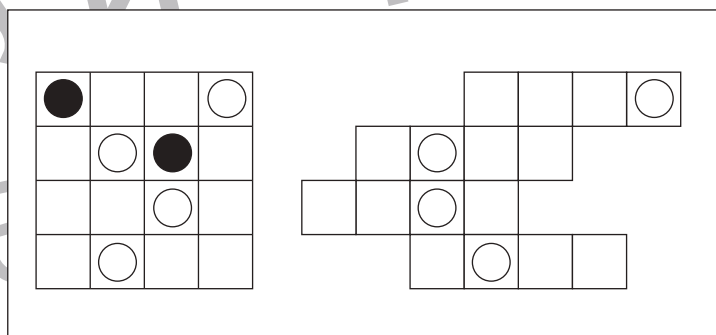
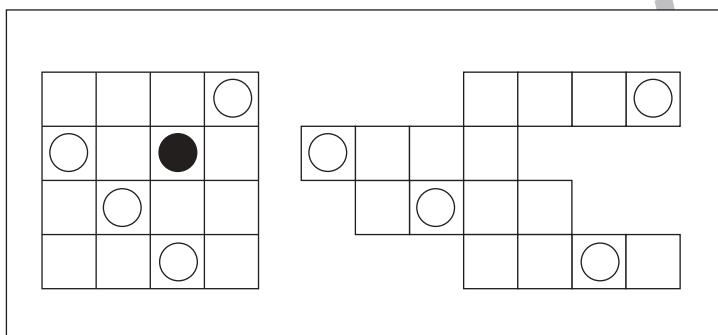
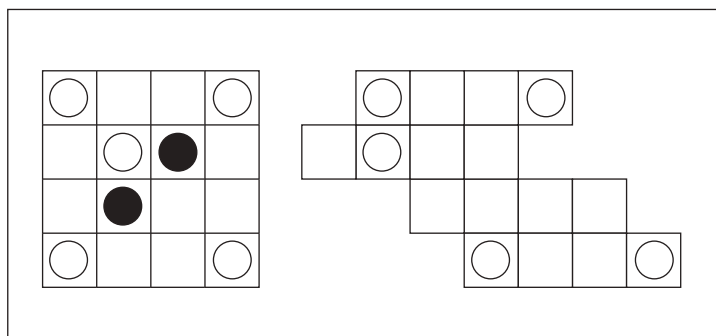
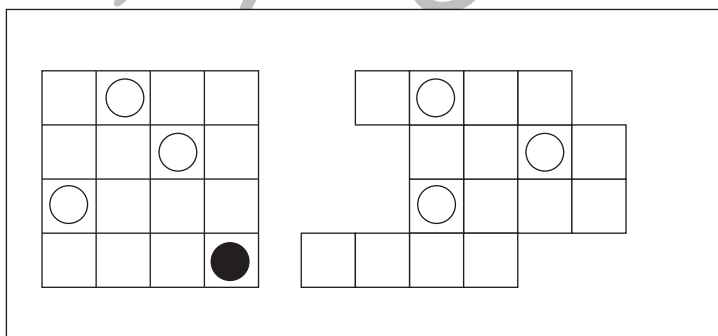
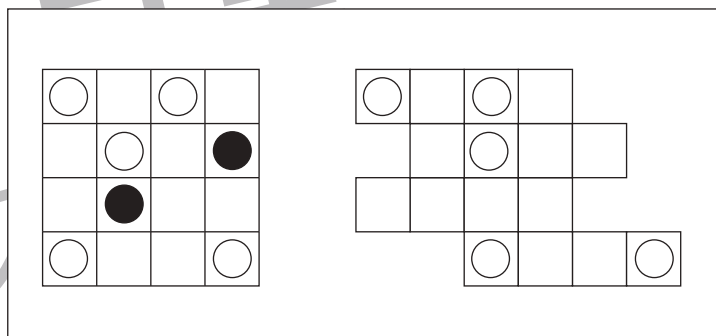
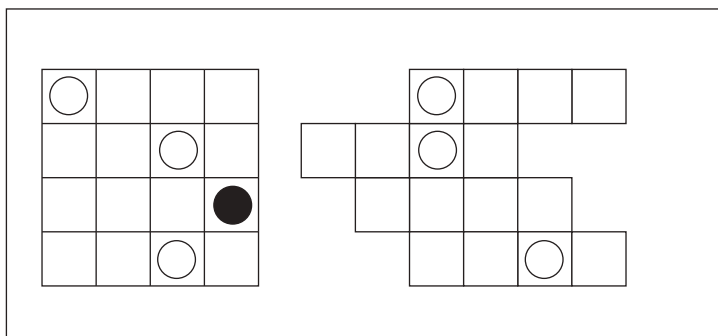
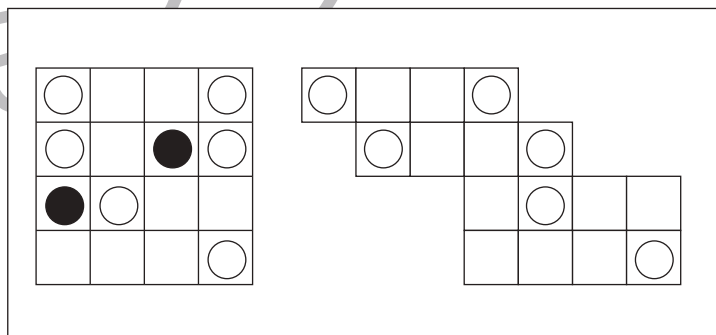
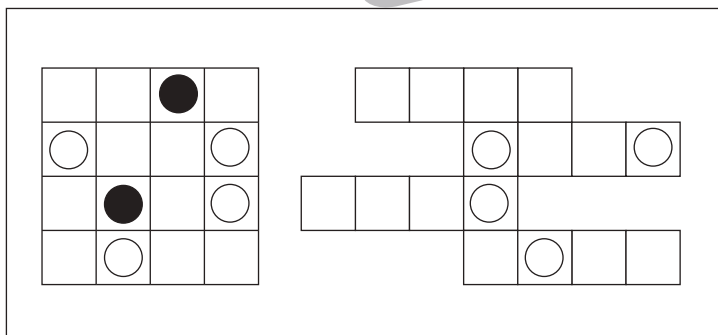
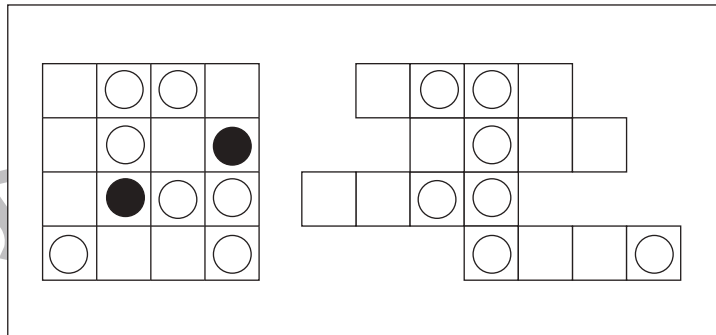
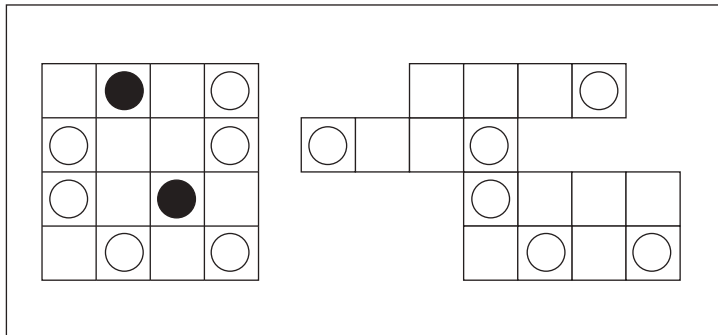


おうちで、やろう。

Study at home. 小学校受験の家庭学習教材

図形：移動 41

左の四角がお手本です。このお手本の白だけを右の四角の同じ場所にかきます。
ただし、右の四角はマスがずれています。どのマスにかけばよいのかを考えましょう。



※1. このプリントは、しながわ・目黒こどもスクールのウェブサイトでダウンロードができます。無断複写・引用はご遠慮ください。
 ※2. このプリントを活用したオンライン授業のスケジュールは、しながわ・目黒こどもスクールのウェブサイトでご確認ください。

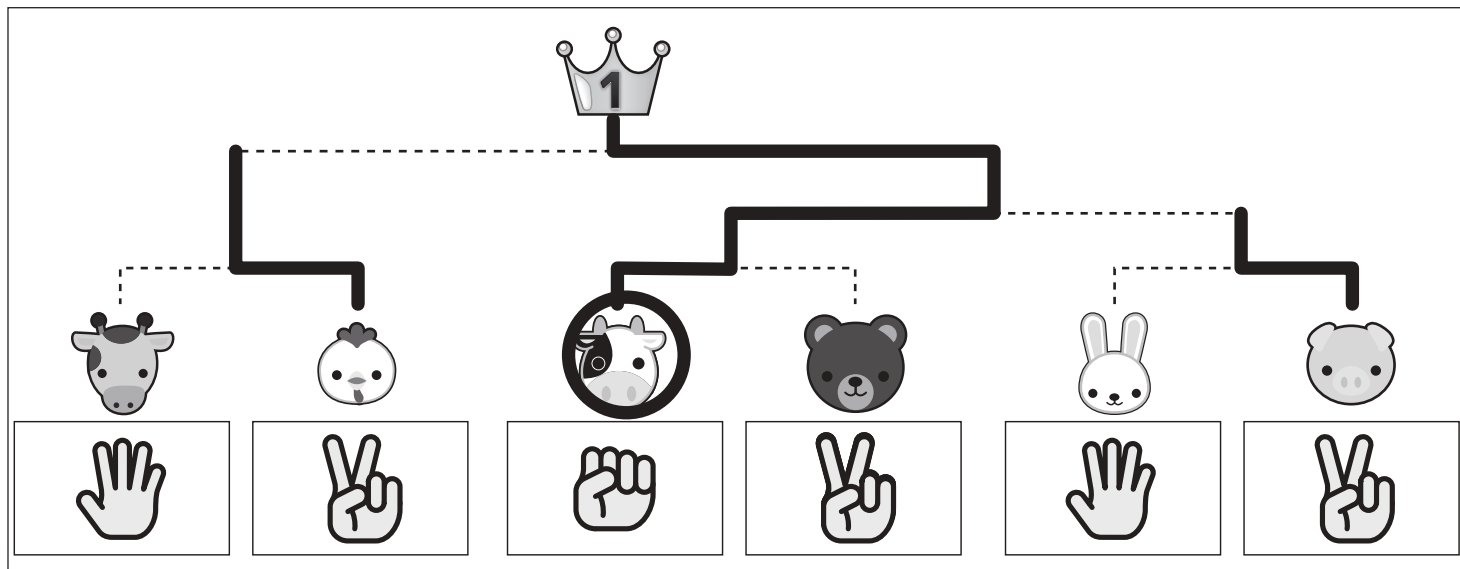
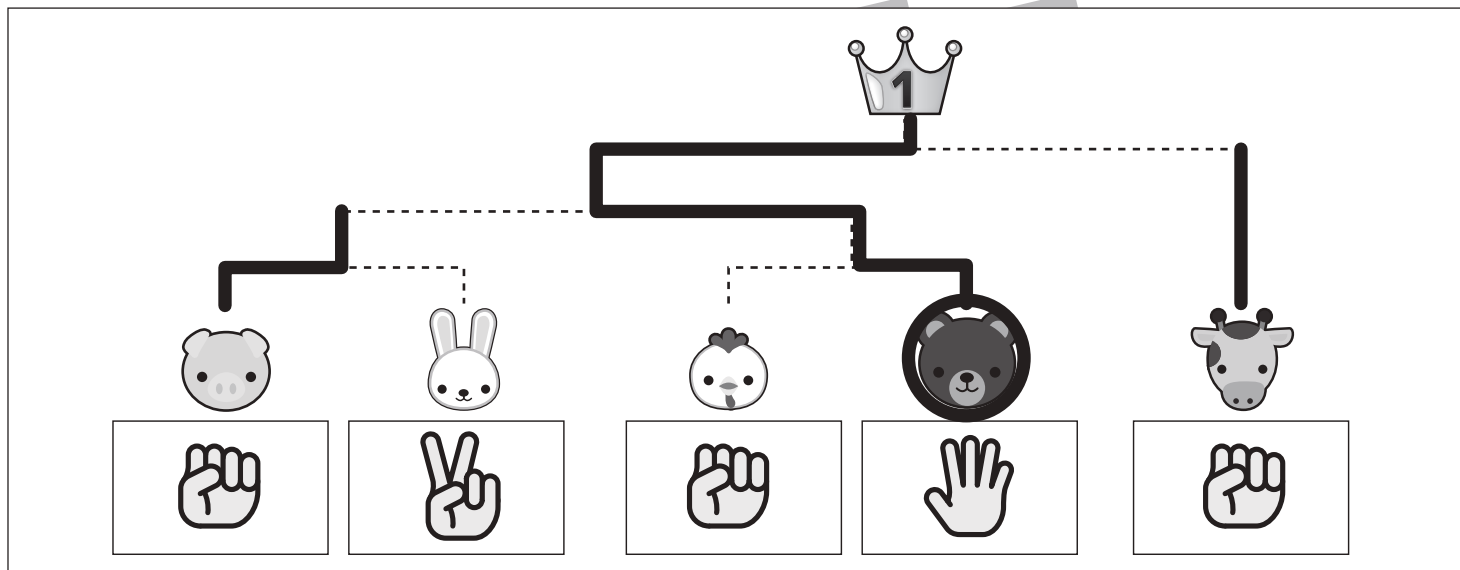
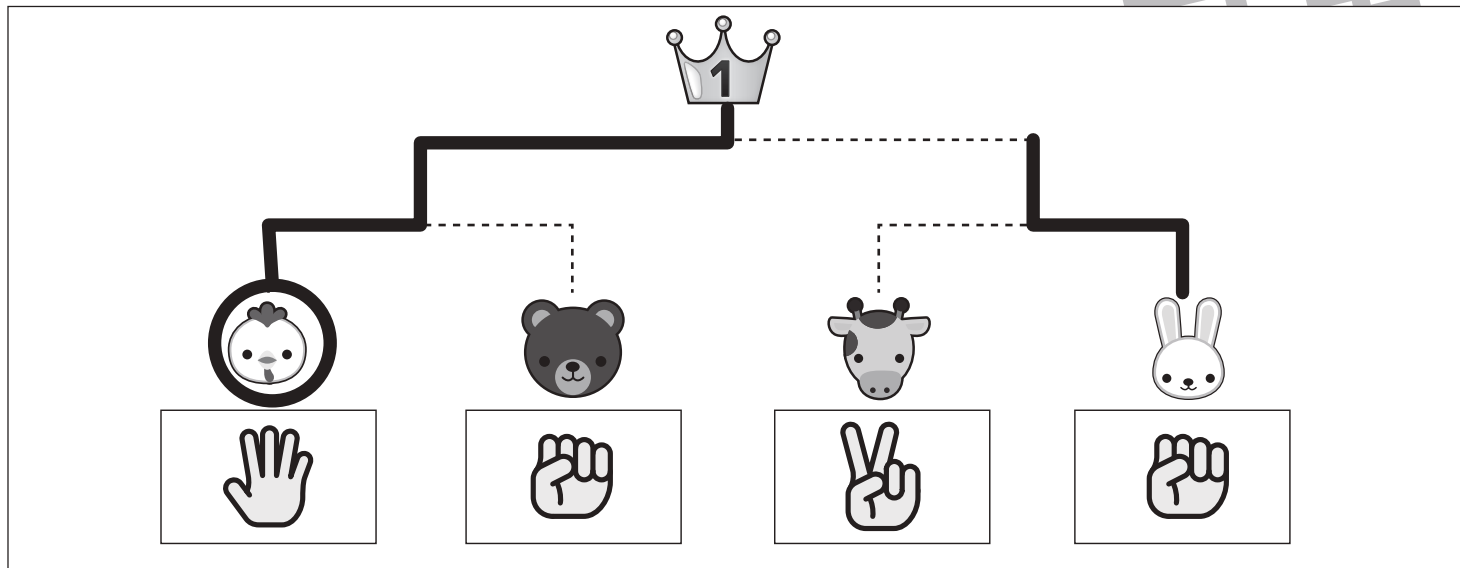


おうちで、やろう。

Study at home. 小学校受験の家庭学習教材

推理：条件推理 22

動物たちがトーナメント勝負をします。トーナメントは点線で結んである2匹の勝負です。勝負はじゃんけんです。それぞれの動物たちは下の四角の中の手を出して進み、勝った動物が次の点線で結んである動物と勝負します。この約束で順番に勝負をして一番になった動物に○をつけます。また、それぞれの動物がどのようにトーナメントを進んだか点線をなぞってみましょう。



※1. このプリントは、しながわ・目黒こどもスクールのウェブサイトからダウンロードできます。無断複写・引用はご遠慮ください。

※2. このプリントを活用したオンライン授業のスケジュールは、しながわ・目黒こどもスクールのウェブサイトでご確認ください。

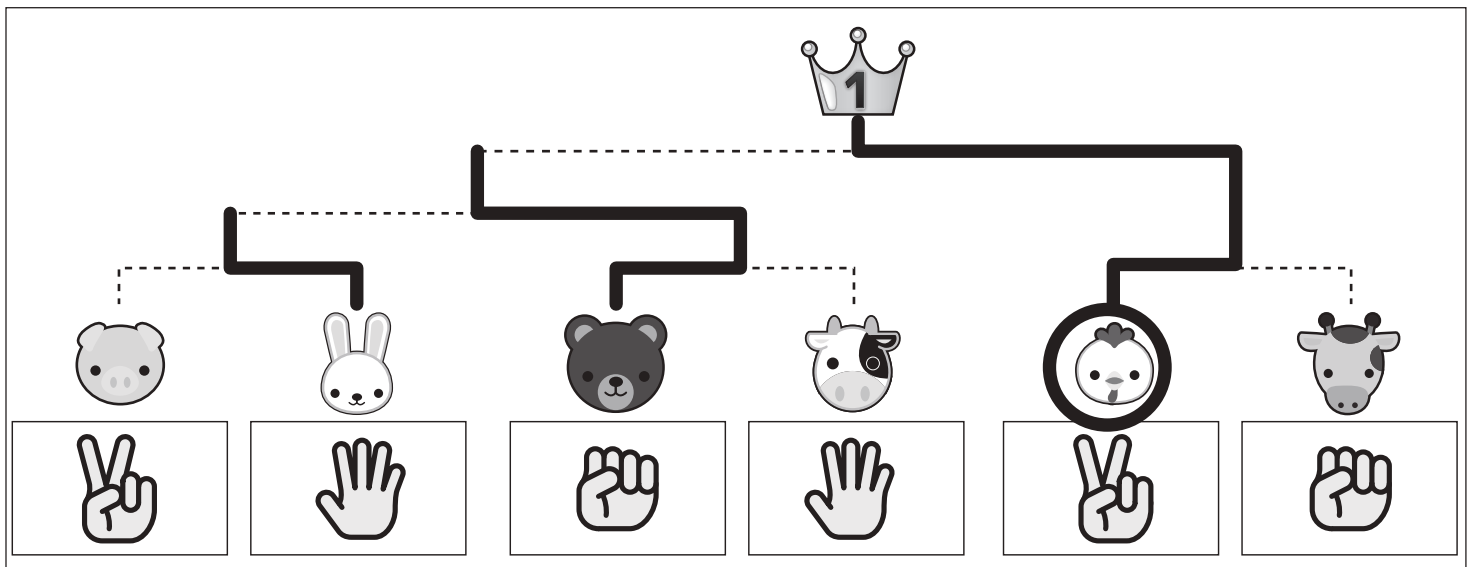
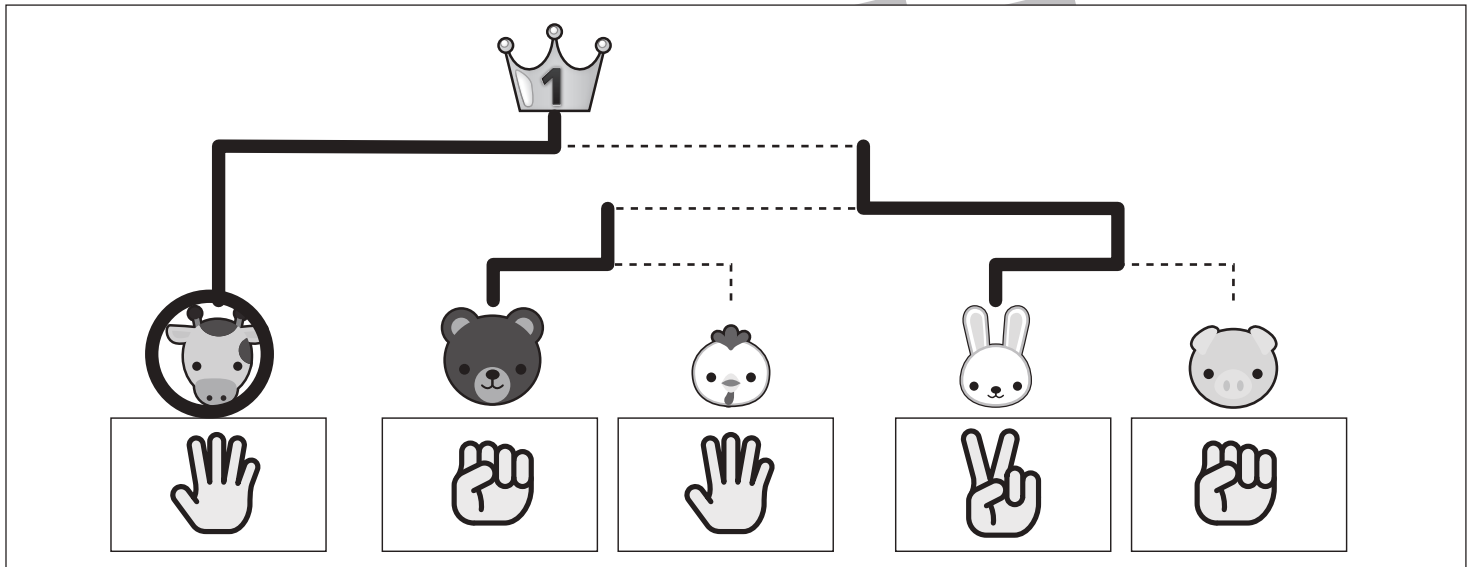
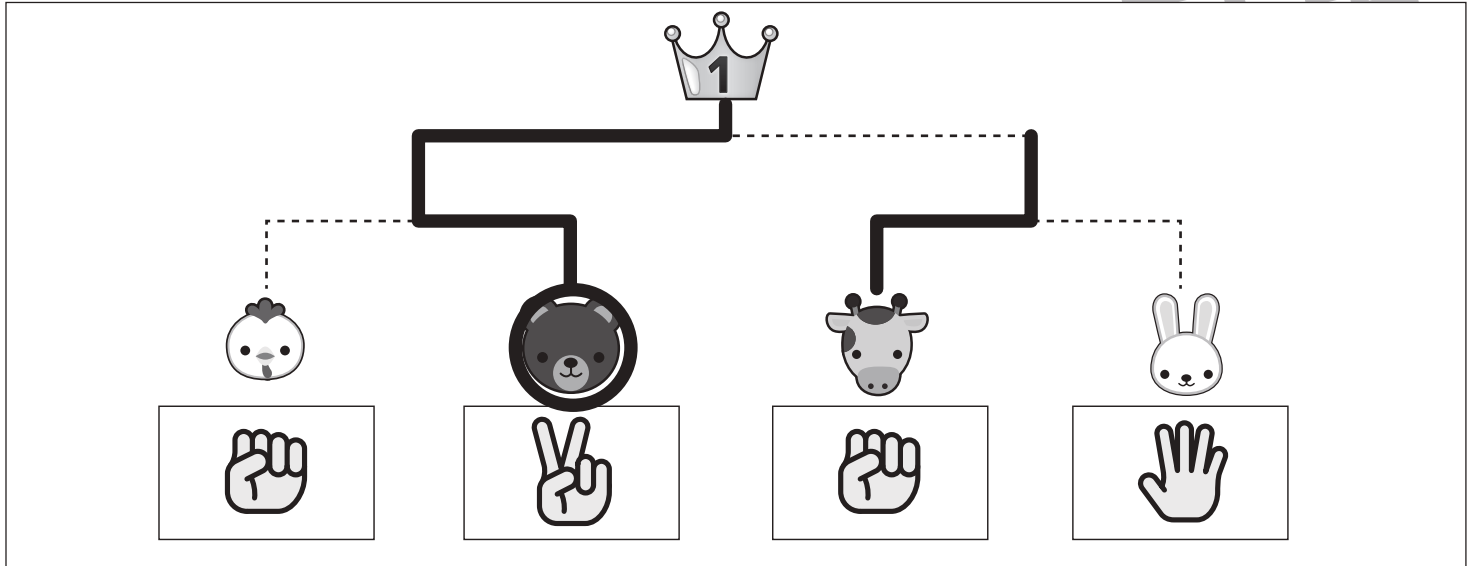


おうちで、やろう。

Study at home. 小学校受験の家庭学習教材

推理：条件推理 23

動物たちがトーナメント勝負をします。トーナメントは点線で結んである2匹の勝負です。勝負はじゃんけんです。それぞれの動物たちは下の四角の中の手を出して進み、負けた動物が次の点線で結んである動物と勝負します。この約束で順番に勝負をして一番になった動物に○をつけます。また、それぞれの動物がどのようにトーナメントを進んだか点線をなぞってみましょう。



※1. このプリントは、しながわ・目黒こどもスクールのウェブサイトでダウンロードができます。無断複写・引用はご遠慮ください。

※2. このプリントを活用したオンライン授業のスケジュールは、しながわ・目黒こどもスクールのウェブサイトでご確認ください。



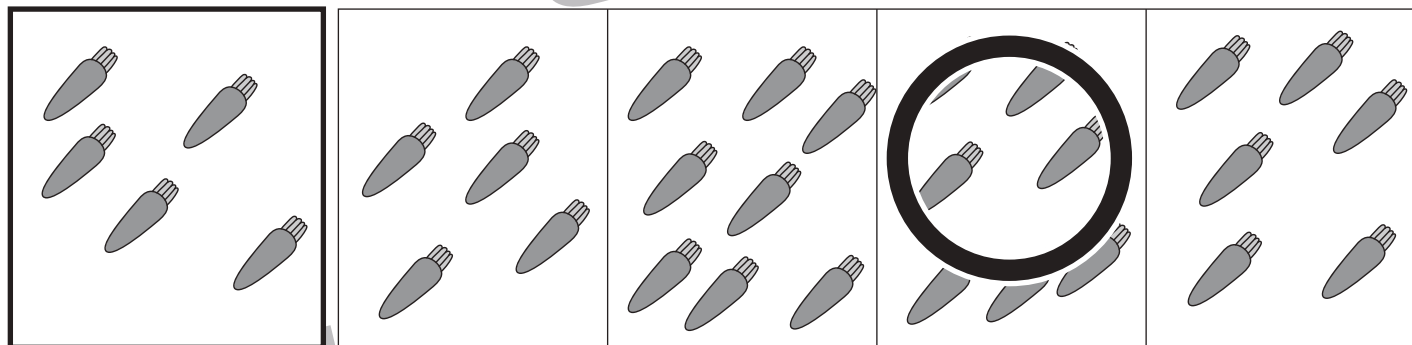



おうちで、やろう。

Study at home. 小学校受験の家庭学習教材

数量：加減 20

左の太い四角の中の数より 2 つ多い四角を右の 4 つの中から選んで○をつけます。



※ 1. このプリントは、しながわ・目黒こどもスクールのウェブサイトでダウンロードができます。無断複写・引用はご遠慮ください。

※ 2. このプリントを活用したオンライン授業のスケジュールは、しながわ・目黒こどもスクールのウェブサイトでご確認ください。

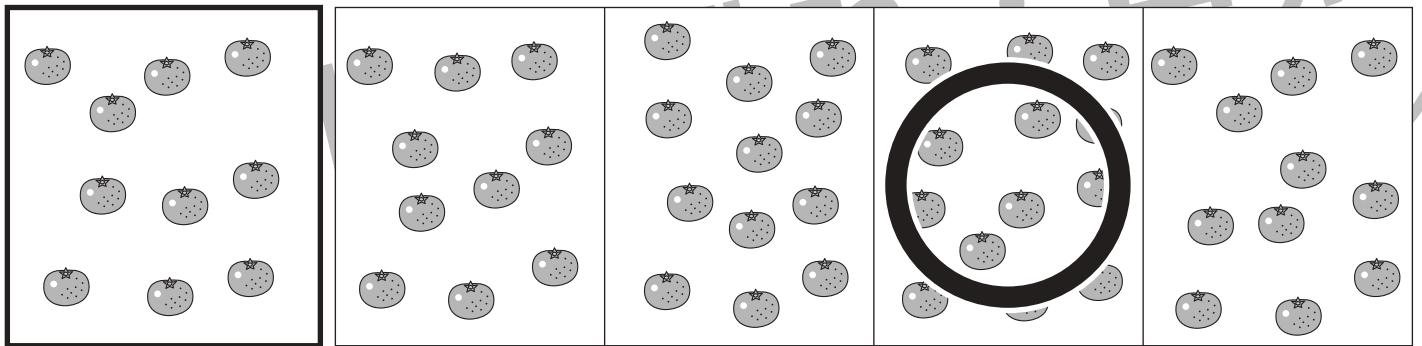
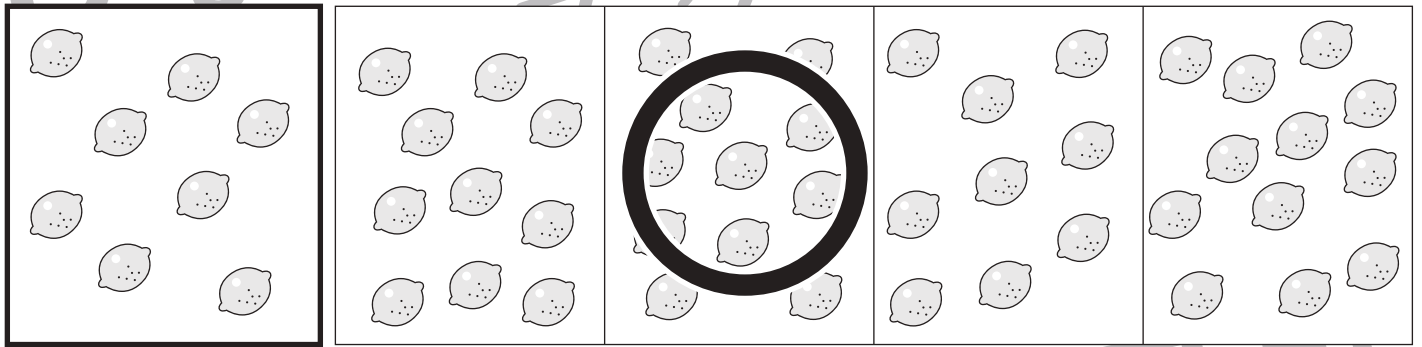

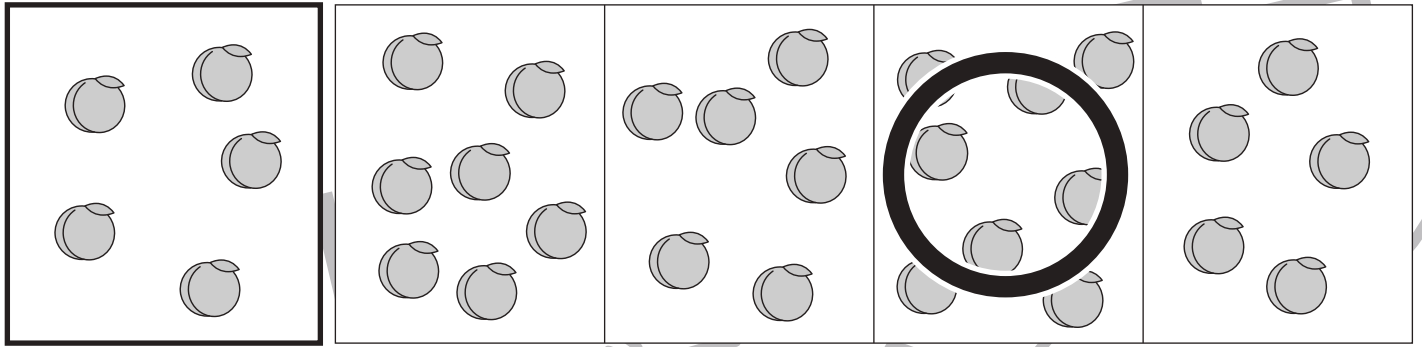


おうちで、やろう。

Study at home. 小学校受験の家庭学習教材

数量：加減 21

左の太い四角の中の数より3つ多い四角を右の4つの中から選んで○をつけます。



※1. このプリントは、しながわ・目黒こどもスクールのウェブサイトでダウンロードができます。無断複写・引用はご遠慮ください。
 ※2. このプリントを活用したオンライン授業のスケジュールは、しながわ・目黒こどもスクールのウェブサイトでご確認ください。