



# おうちで、やろう。

Study at home. 小学校受験の家庭学習教材

## 記憶：絵の記憶 11 記憶用紙

別紙『記憶 - 絵の記憶 11』を行う際に使用します。記憶用紙は点線で折り、①、②、③の問題の際にそれぞれ 20 秒間ずつ記憶させてください。記憶する際は問題用紙は裏返しにします。

それぞれお手本と同じになるようにかきます。

※2022 年 7 月 11 日 (月) のオンライン授業では実施中に記憶する絵を画面で表示します。

①

|   |   |   |  |
|---|---|---|--|
| ○ | ○ | ○ |  |
|   | ○ | ○ |  |
|   |   | ○ |  |

②

|   |   |   |  |   |
|---|---|---|--|---|
| × |   |   |  | × |
|   | × | × |  | × |
|   |   |   |  |   |

③

|   |   |   |   |   |   |
|---|---|---|---|---|---|
|   |   |   | ○ |   |   |
| ○ |   |   |   | ○ |   |
|   | ○ |   |   |   | ○ |
|   |   | ○ |   |   |   |

※1. このプリントは、しながわ・目黒こどもスクールのウェブサイトでダウンロードができます。無断複写・引用はご遠慮ください。

※2. このプリントを活用したオンライン授業のスケジュールは、しながわ・目黒こどもスクールのウェブサイトでご確認ください。



# おうちで、やろう。

Study at home. 小学校受験の家庭学習教材

## 記憶：絵の記憶 11

別紙『記憶 - 絵の記憶 11 (記憶用紙)』を行う際に使用します。記憶用紙の①～③をそれぞれ 20 秒ずつ記憶してから組みめます。それぞれお手本と同じになるようにかきます。

※2022 年 7 月 11 日 (月) のオンライン授業では実施中に記憶する絵を画面で表示します。

※この問題の解答は記憶用紙で確認してください。

①

|  |  |  |  |
|--|--|--|--|
|  |  |  |  |
|  |  |  |  |
|  |  |  |  |

②

|  |  |  |  |  |
|--|--|--|--|--|
|  |  |  |  |  |
|  |  |  |  |  |
|  |  |  |  |  |

③

|  |  |  |  |  |  |
|--|--|--|--|--|--|
|  |  |  |  |  |  |
|  |  |  |  |  |  |
|  |  |  |  |  |  |
|  |  |  |  |  |  |



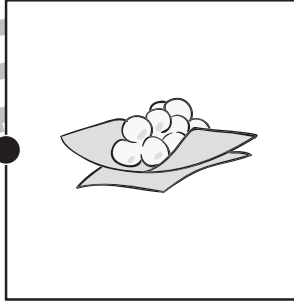





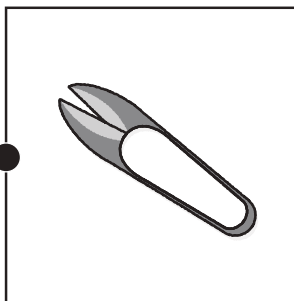








# おうちで、やろう。

Study at home. 小学校受験の家庭学習教材

## 常識：昔話 2

それぞれの四角の中にはある昔話の絵があります。左・真ん中・右の四角で同じお話同士の点と点を線で結びます。

|   |   |   |
|---|---|---|
|    |    |    |
|   |   |   |
|  |  |  |
|  |  |  |
|  |  |  |

※1. このプリントは、しながわ・目黒こどもスクールのウェブサイトでダウンロードができます。無断複写・引用はご遠慮ください。

※2. このプリントを活用したオンライン授業のスケジュールは、しながわ・目黒こどもスクールのウェブサイトでご確認ください。













# おうちで、やろう。

Study at home. 小学校受験の家庭学習教材

## 常識：昔話3

あるお話の絵が左と右に並んでいます。同じお話同士を点と点を線で結びましょう。



※1. このプリントは、しながわ・目黒こどもスクールのウェブサイトでダウンロードができます。無断複写・引用はご遠慮ください。

※2. このプリントを活用したオンライン授業のスケジュールは、しながわ・目黒こどもスクールのウェブサイトでご確認ください。



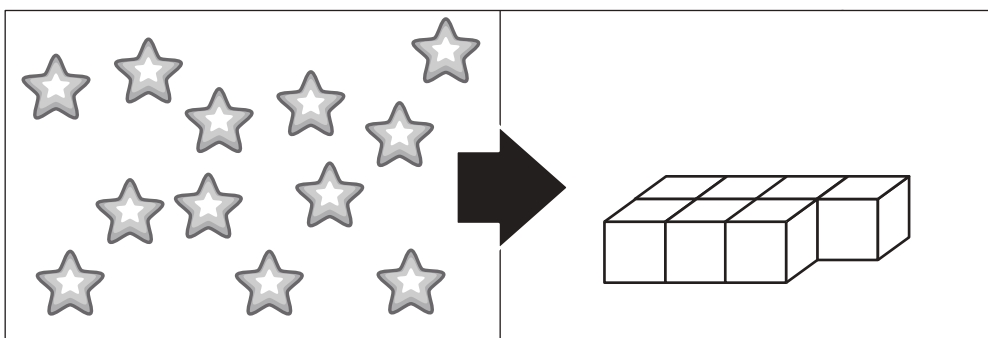
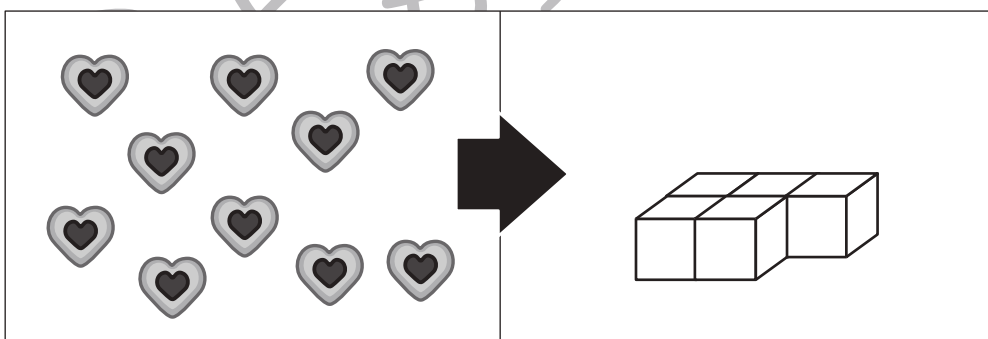

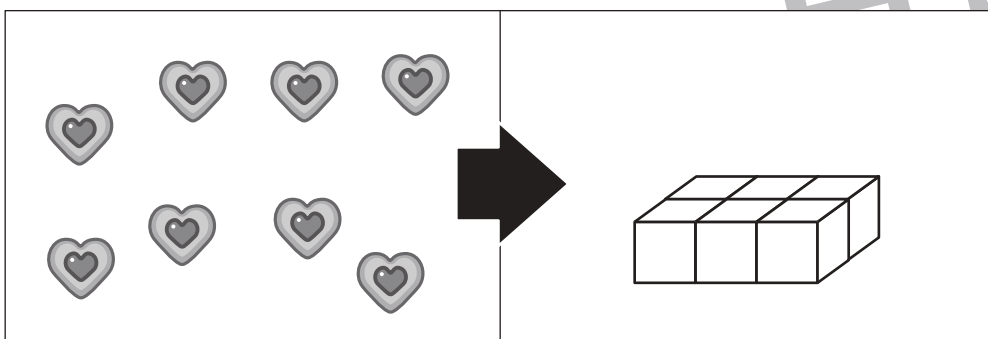
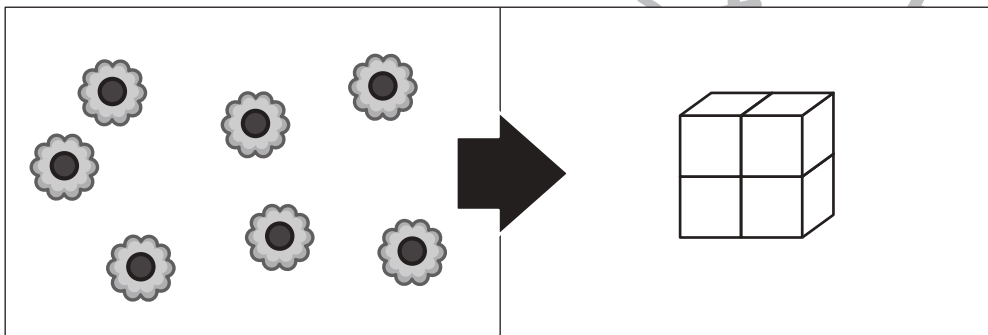
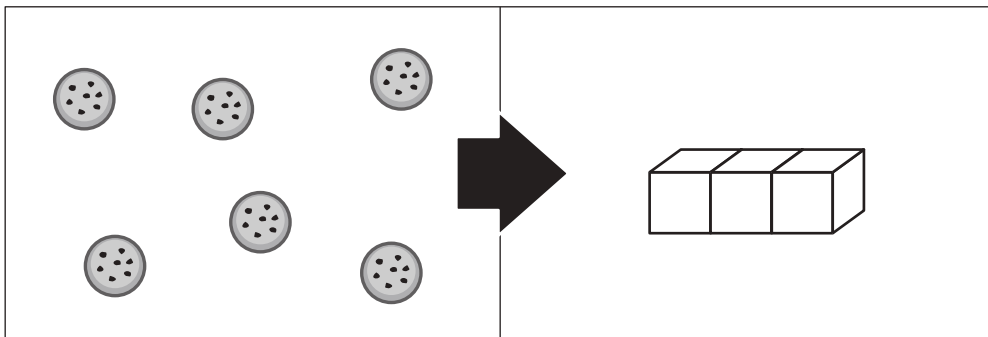


# おうちで、やろう。

Study at home. 小学校受験の家庭学習教材

数量：足りない数1

左のクッキーを右の四角の箱に一枚ずつ入れるとすると、箱はあといくついるでしょうか。その数だけ右の四角に○をかきます。



※1. このプリントは、しながわ・目黒こどもスクールのウェブサイトでダウンロードができます。無断複写・引用はご遠慮ください。  
※2. このプリントを活用したオンライン授業のスケジュールは、しながわ・目黒こどもスクールのウェブサイトでご確認ください。



# おうちで、やろう。

Study at home. 小学校受験の家庭学習教材

## 数量：足りない数2

左の飴を右の四角の箱に一つずつ入れるとすると、あと箱はいくついるでしょうか。その数だけ右の四角に○をかきます。

|  |   |  |  |
|--|---|--|--|
|  | ➔ |  |  |
|--|---|--|--|

|  |   |  |  |
|--|---|--|--|
|  | ➔ |  |  |
|--|---|--|--|

|  |   |  |  |
|--|---|--|--|
|  | ➔ |  |  |
|--|---|--|--|

|  |   |  |  |
|--|---|--|--|
|  | ➔ |  |  |
|--|---|--|--|

|  |   |  |  |
|--|---|--|--|
|  | ➔ |  |  |
|--|---|--|--|

※1. このプリントは、しながわ・目黒こどもスクールのウェブサイトでダウンロードができます。無断複写・引用はご遠慮ください。  
 ※2. このプリントを活用したオンライン授業のスケジュールは、しながわ・目黒こどもスクールのウェブサイトでご確認ください。



# おうちで、やろう。

Study at home. 小学校受験の家庭学習教材

## 数量：足りない数3

左のビーズを右の四角の箱に2個ずつ入れるとすると、箱はあといくついるでしょうか。その数だけ右の四角に○をつけます。

|  |   |  |   |
|--|---|--|---|
|  | → |  | <div style="border: 1px solid black; width: 100%; height: 100%;"></div> |
|--|---|--|---|

|  |   |  |   |
|--|---|--|---|
|  | → |  | <div style="border: 1px solid black; width: 100%; height: 100%;"></div> |
|--|---|--|---|

|  |   |  |   |
|--|---|--|---|
|  | → |  | <div style="border: 1px solid black; width: 100%; height: 100%;"></div> |
|--|---|--|---|

|  |   |  |   |
|--|---|--|---|
|  | → |  | <div style="border: 1px solid black; width: 100%; height: 100%;"></div> |
|--|---|--|---|

|  |   |  |   |
|--|---|--|---|
|  | → |  | <div style="border: 1px solid black; width: 100%; height: 100%;"></div> |
|--|---|--|---|

※1. このプリントは、しながわ・目黒こどもスクールのウェブサイトでダウンロードができます。無断複写・引用はご遠慮ください。  
 ※2. このプリントを活用したオンライン授業のスケジュールは、しながわ・目黒こどもスクールのウェブサイトでご確認ください。












# おうちで、よろう。

Study at home. 小学校受験の家庭学習教材

数量：広さ 14

それぞれの四角の白い部分と灰色の部分の広さを比べます。白い部分と灰色の部分が同じものをみつけて○をつけます。

|   |   |   |
|---|---|---|
|    |    |    |
|  |  |  |
|  |  |  |

※1. このプリントは、しながわ・目黒こどもスクールのウェブサイトからダウンロードできます。無断複写・引用はご遠慮ください。

※2. このプリントを活用したオンライン授業のスケジュールは、しながわ・目黒こどもスクールのウェブサイトでご確認ください。





# おうちで、やろう。

Study at home. 小学校受験の家庭学習教材

推理：広さ 15

それぞれの四角の白い部分と灰色の部分の広さを比べます。白い部分と灰色の部分が同じものをみつけて○をつけます。

|  |  |  |
|--|--|--|
|  |  |  |
|  |  |  |
|  |  |  |

※1. このプリントは、しながわ・目黒こどもスクールのウェブサイトからダウンロードできます。無断複写・引用はご遠慮ください。

※2. このプリントを活用したオンライン授業のスケジュールは、しながわ・目黒こどもスクールのウェブサイトでご確認ください。



# おうちで、やろう。

Study at home. 小学校受験の家庭学習教材

推理：広さ 16

それぞれの四角の白い部分と灰色の部分と黒い部分の広さを比べます。3つとも広さが同じものをみつけて○をつけます。

|  |  |  |
|--|--|--|
|  |  |  |
|  |  |  |
|  |  |  |

※1. このプリントは、しながわ・目黒こどもスクールのウェブサイトでダウンロードができます。無断複写・引用はご遠慮ください。

※2. このプリントを活用したオンライン授業のスケジュールは、しながわ・目黒こどもスクールのウェブサイトでご確認ください。

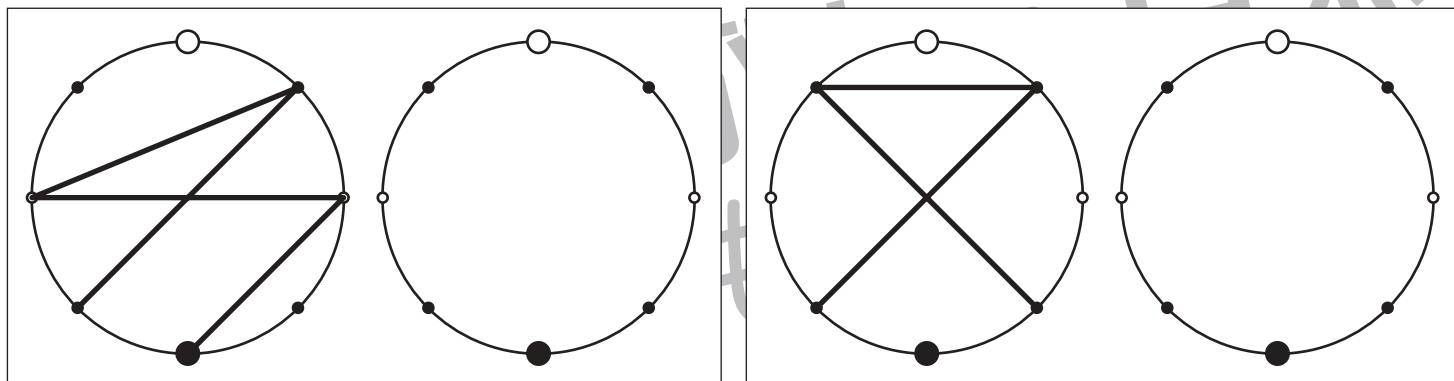
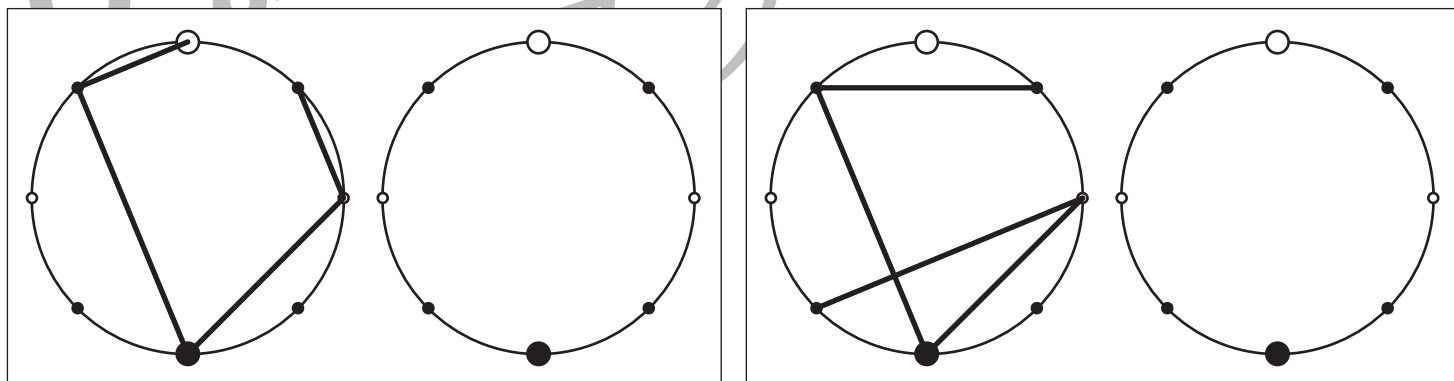
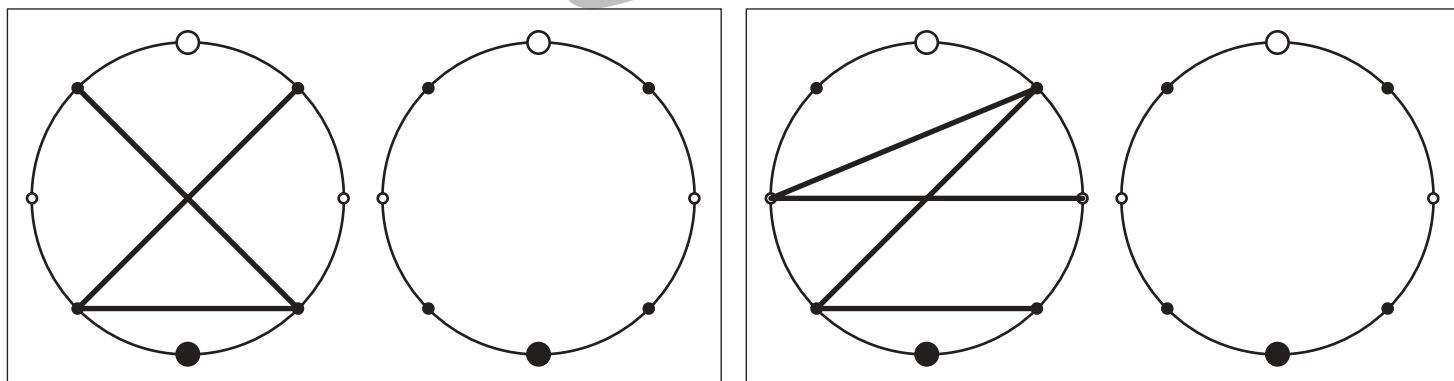
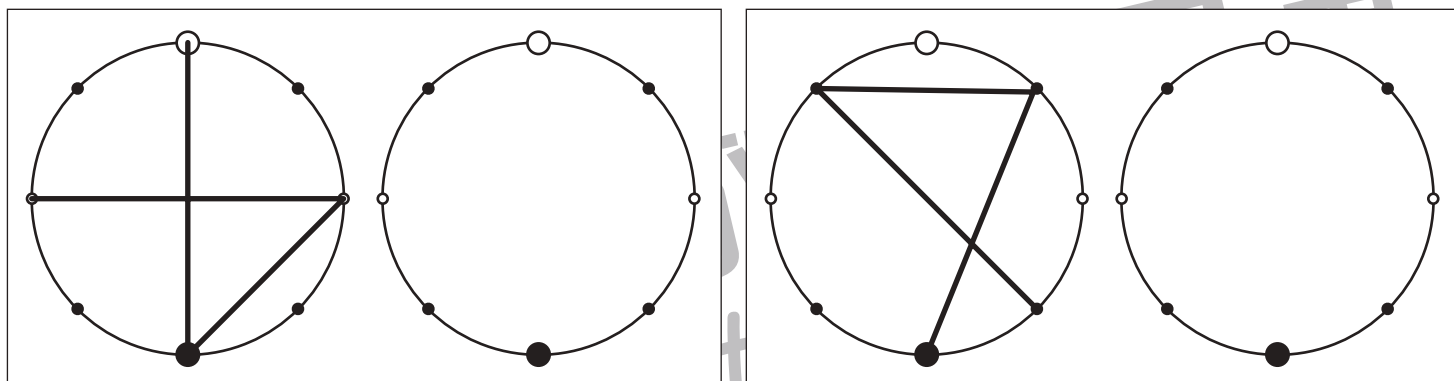


# おうちで、やろう。

Study at home. 小学校受験の家庭学習教材

## 図形：点図形 58

左のお手本を見て、右にそっくり描き写しましょう。※このプリントに解答はありません。



※1. このプリントは、しながわ・目黒こどもスクールのウェブサイトでダウンロードができます。無断複写・引用はご遠慮ください。  
 ※2. このプリントを活用したオンライン授業のスケジュールは、しながわ・目黒こどもスクールのウェブサイトでご確認ください。