

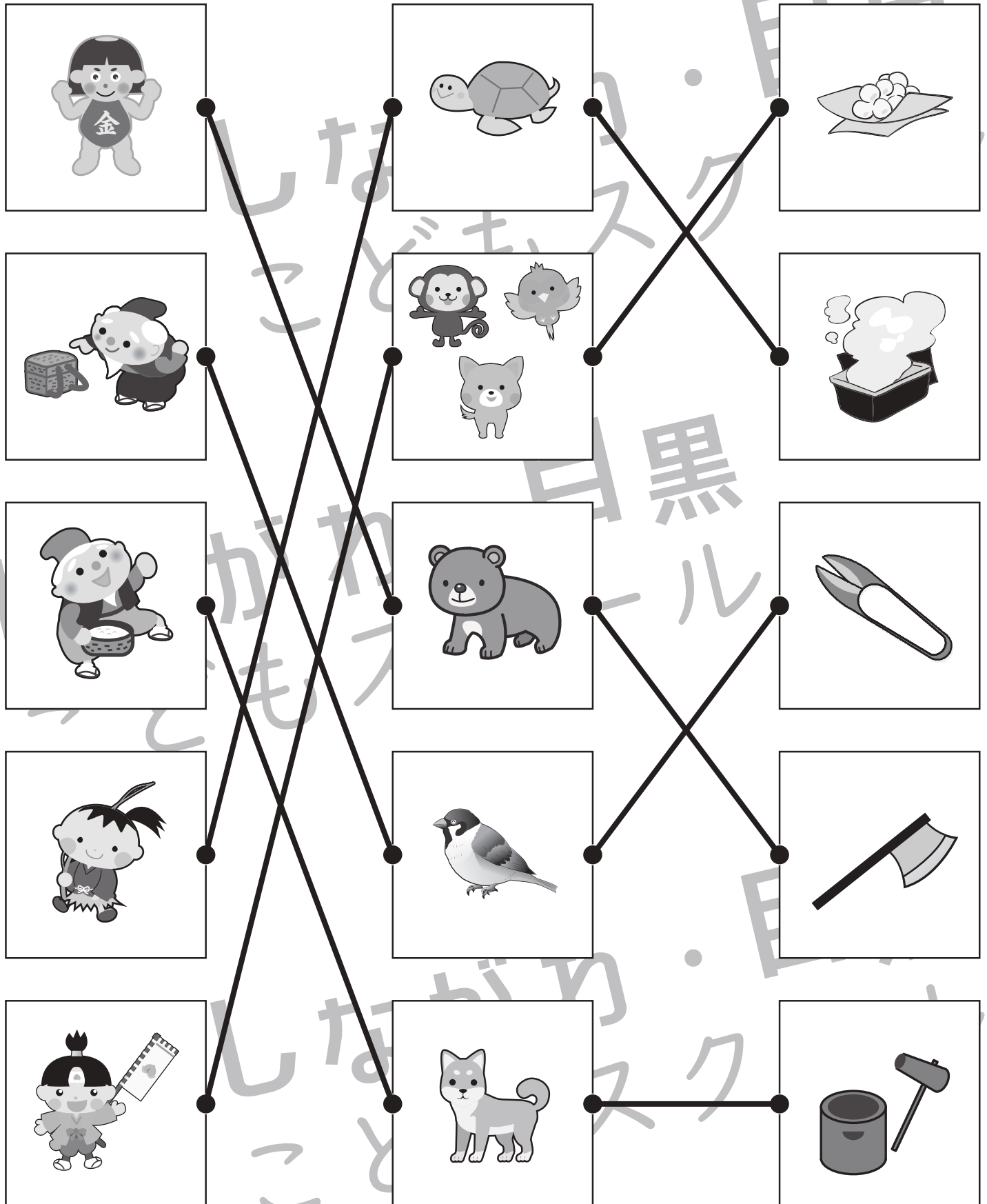


おうちで、やろう。

Study at home. 小学校受験の家庭学習教材

常識：昔話 2

それぞれの四角の中にはある昔話の絵があります。左・真ん中・右の四角で同じお話同士の点と点を線で結びます。



※1. このプリントは、しながわ・目黒こどもスクールのウェブサイトでダウンロードができます。無断複写・引用はご遠慮ください。
 ※2. このプリントを活用したオンライン授業のスケジュールは、しながわ・目黒こどもスクールのウェブサイトでご確認ください。












おうちで、やろう。

Study at home. 小学校受験の家庭学習教材

常識：昔話3

あるお話の絵が左と右に並んでいます。同じお話同士を点と点を線で結びましょう。



※1. このプリントは、しながわ・目黒こどもスクールのウェブサイトダウンロードできます。無断複写・引用はご遠慮ください。
※2. このプリントを活用したオンライン授業のスケジュールは、しながわ・目黒こどもスクールのウェブサイトでご確認ください。



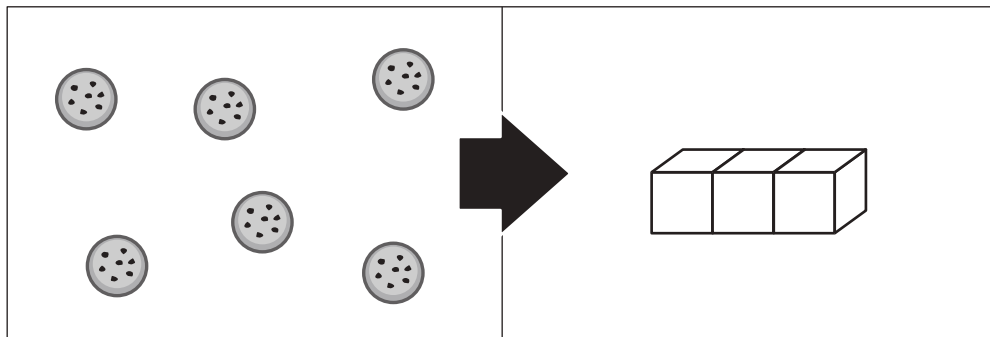


おうちで、やろう。

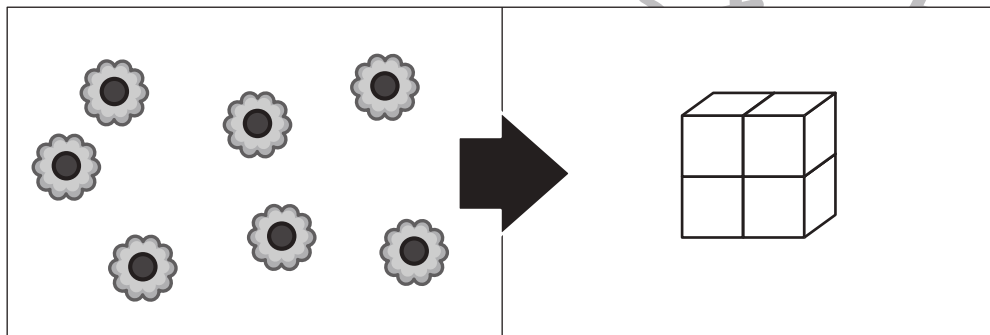
Study at home. 小学校受験の家庭学習教材

数量：足りない数1

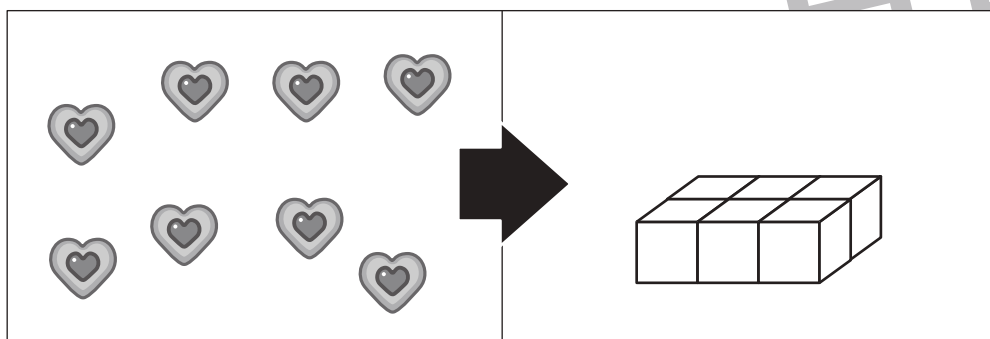
左のクッキーを右の四角の箱に一枚ずつ入れるとすると、箱はあといくついるでしょうか。その数だけ右の四角に○をかきます。



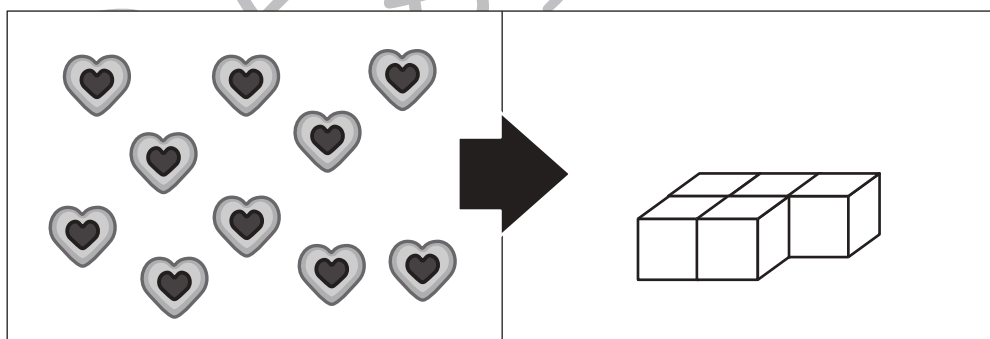
$$\bigcirc \times 3$$



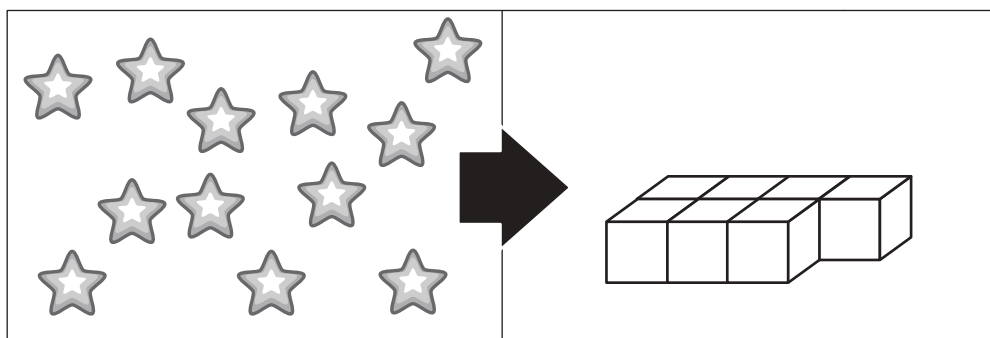
$$\bigcirc \times 3$$



$$\bigcirc \times 2$$



$$\bigcirc \times 5$$



$$\bigcirc \times 5$$

※1. このプリントは、しながわ・目黒こどもスクールのウェブサイトでダウンロードができます。無断複写・引用はご遠慮ください。
※2. このプリントを活用したオンライン授業のスケジュールは、しながわ・目黒こどもスクールのウェブサイトでご確認ください。

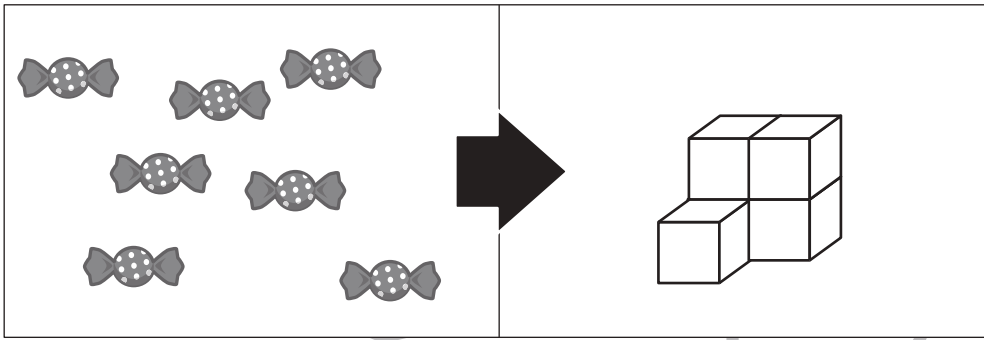


おうちで、やろう。

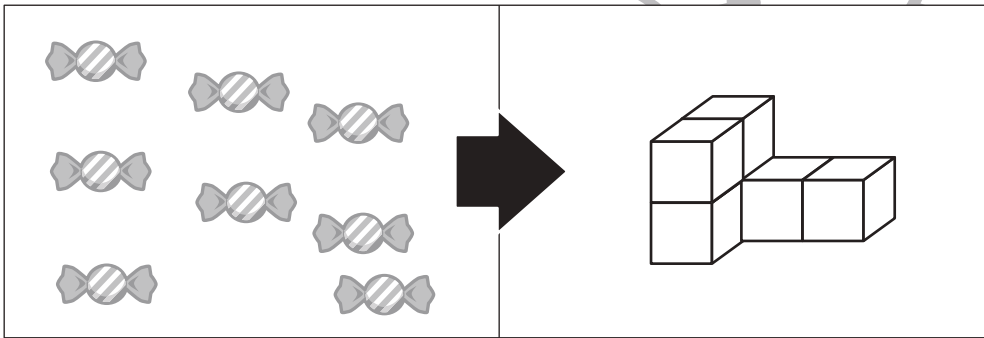
Study at home. 小学校受験の家庭学習教材

数量：足りない数2

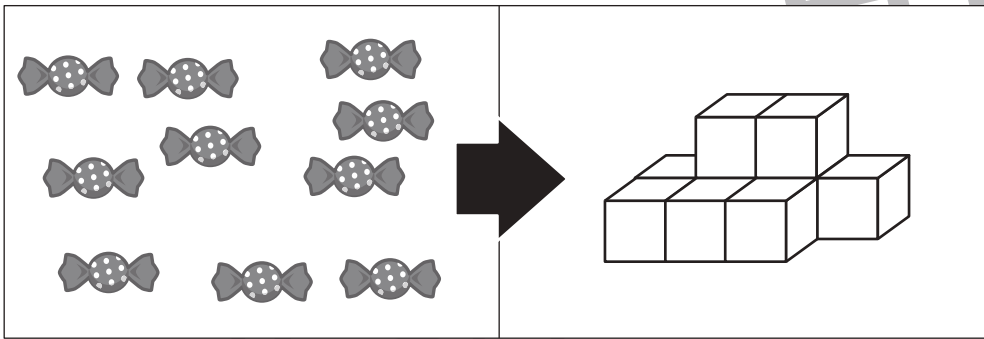
左の飴を右の四角の箱に一つずつ入れるとすると、あと箱はいくついるでしょうか。その数だけ右の四角に○をかきます。



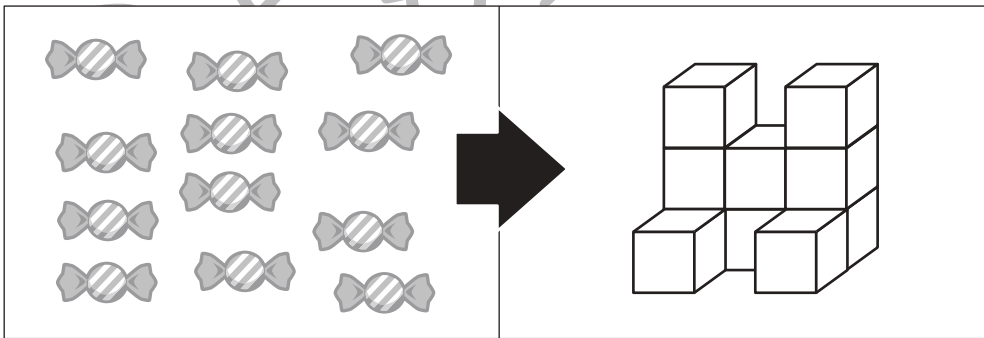
$$\bigcirc \times 2$$



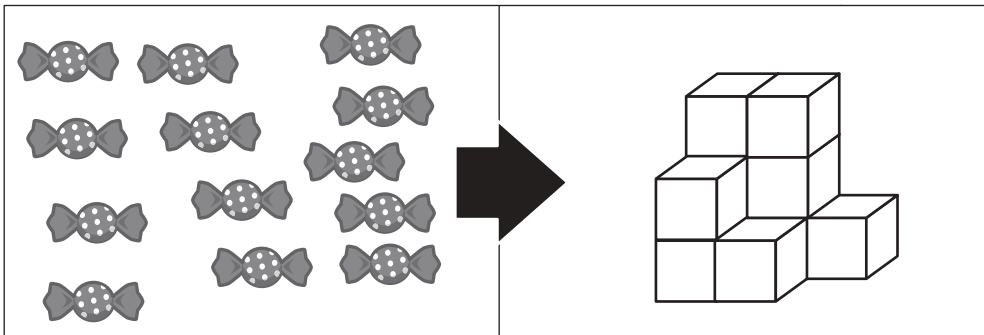
$$\bigcirc \times 2$$



$$\bigcirc \times 1$$



$$\bigcirc \times 2$$



$$\bigcirc \times 3$$

※1. このプリントは、しながわ・目黒こどもスクールのウェブサイトでダウンロードができます。無断複写・引用はご遠慮ください。
※2. このプリントを活用したオンライン授業のスケジュールは、しながわ・目黒こどもスクールのウェブサイトでご確認ください。



おうちで、やろう。

Study at home. 小学校受験の家庭学習教材

数量：足りない数3

左のビーズを右の四角の箱に2個ずつ入れるとすると、箱はあといくついるでしょうか。その数だけ右の四角に○をつけます。

	→	
--	---	--

○ × 2

	→	
--	---	--

○ × 2

	→	
--	---	--

○ × 3

	→	
--	---	--

○ × 4

	→	
--	---	--

○ × 5

※1. このプリントは、しながわ・目黒こどもスクールのウェブサイトでダウンロードができます。無断複写・引用はご遠慮ください。
 ※2. このプリントを活用したオンライン授業のスケジュールは、しながわ・目黒こどもスクールのウェブサイトでご確認ください。



おうちで、やろう。

Study at home. 小学校受験の家庭学習教材

数量：広さ 14

それぞれの四角の白い部分と灰色の部分の広さを比べます。白い部分と灰色の部分が同じものをみつけて○をつけます。

※1. このプリントは、しながわ・目黒こどもスクールのウェブサイトでダウンロードができます。無断複写・引用はご遠慮ください。
 ※2. このプリントを活用したオンライン授業のスケジュールは、しながわ・目黒こどもスクールのウェブサイトでご確認ください。



おうちで、やろう。

Study at home. 小学校受験の家庭学習教材

推理：広さ 15

それぞれの四角の白い部分と灰色の部分の広さを比べます。白い部分と灰色の部分が同じものをみつけて○をつけます。

※1. このプリントは、しながわ・目黒こどもスクールのウェブサイトからダウンロードできます。無断複写・引用はご遠慮ください。

※2. このプリントを活用したオンライン授業のスケジュールは、しながわ・目黒こどもスクールのウェブサイトでご確認ください。



おうちで、やろう。

Study at home. 小学校受験の家庭学習教材

推理：広さ 16

それぞれの四角の白い部分と灰色の部分と黒い部分の広さを比べます。3つとも広さが同じものをみつけて○をつけます。

※1. このプリントは、しながわ・目黒こどもスクールのウェブサイトからダウンロードできます。無断複写・引用はご遠慮ください。

※2. このプリントを活用したオンライン授業のスケジュールは、しながわ・目黒こどもスクールのウェブサイトでご確認ください。