



おうちで、やろう。

Study at home. 小学校受験の家庭学習教材

言語：音の理解 39

- ①ははじめから2番目の音が「い」の動物に○をつけます。 ②ははじめから2番目の音が「め」の動物に○をつけます。
 ③ははじめから2番目の音が「わ」の動物に○をつけます。 ④ははじめから2番目の音が「さ」の動物に○をつけます。
 ⑤ははじめから2番目の音が「く」の動物に○をつけます。

①

②

③

④

⑤

※1. このプリントは、しながわ・目黒こどもスクールのウェブサイトからダウンロードできます。無断複写・引用はご遠慮ください。
 ※2. このプリントを活用したオンライン授業のスケジュールは、しながわ・目黒こどもスクールのウェブサイトでご確認ください。



おうちで、やろう。

Study at home. 小学校受験の家庭学習教材

言語：音の理解 40

- ① 終りから2番目の音が「ろ」の動物に○をつけます。 ② 終りから2番目の音が「ぎ」の動物に○をつけます。
 ③ 終りから2番目の音が「あ」の動物に○をつけます。 ④ 終りから2番目の音が「つ」の動物に○をつけます。
 ⑤ 終りから2番目の音が「り」の動物に○をつけます。

①

This row contains four illustrations of animals: an elephant, a panda, a gorilla, and an owl.

②

This row contains four illustrations of animals: a kangaroo, a camel, a penguin, and a peacock.

③

This row contains four illustrations of animals: a monkey, a cat, a lizard, and a koala.

④

This row contains four illustrations of animals: a rabbit, a sheep, a fox, and a flamingo.

⑤

This row contains four illustrations of animals: a zebra, a hippo, a lion, and a giraffe.

※1. このプリントは、しながわ・目黒こどもスクールのウェブサイトでダウンロードができます。無断複写・引用はご遠慮ください。
 ※2. このプリントを活用したオンライン授業のスケジュールは、しながわ・目黒こどもスクールのウェブサイトでご確認ください。



おうちで、やろう。

Study at home. 小学校受験の家庭学習教材

図形：移動 42

それぞれ上の四角が約束です。白丸と黒丸は矢印の方向へマスを進みます。この約束で下のマスの中の白丸と黒丸が☆の数だけマスを進みます。進んだ後の場所を考えて右のマスにかきます。

(1)

○	←
---	---

●	→
---	---

☆

			○
	●		
●			
		○	

(5)

○	↗
---	---

●	↓
---	---

☆

		●	
	○		
○	●		

(2)

○	→
---	---

●	←
---	---

☆

○			
○			
			●
		●	

(6)

○	↖
---	---

●	→
---	---

☆

●		○	
	●		
		○	

(3)

○	←
---	---

●	↓
---	---

☆

			○
		●	
●		○	

(7)

○	←
---	---

●	↖
---	---

☆

		○	●
	○		
		●	

(3)

○	↑
---	---

●	→
---	---

☆

		●	
○			
	●	○	

(8)

○	↖
---	---

●	↗
---	---

☆

	●		
●	○		
			○

※1. このプリントは、しながわ・目黒こどもスクールのウェブサイトでダウンロードができます。無断複写・引用はご遠慮ください。
 ※2. このプリントを活用したオンライン授業のスケジュールは、しながわ・目黒こどもスクールのウェブサイトでご確認ください。



おうちで、やろう。

Study at home. 小学校受験の家庭学習教材

図形：移動 43

それぞれ上の四角が約束です。白丸と黒丸は矢印の方向へマスを進みます。この約束で下のマスの中の白丸と黒丸が☆の数だけマスを進みます。進んだ後の場所を考えて右のマスにかきます。

(1)

○	←	●	↑
---	---	---	---

☆	☆
---	---

		○	
		●	●
	●	○	○

(5)

○	↖	●	→
---	---	---	---

☆	☆	☆
---	---	---

●			
●			
●			○

(2)

○	→	●	↓
---	---	---	---

☆	☆
---	---

○	●		●
			●
○			
○			

(6)

○	↑	●	↘
---	---	---	---

☆	☆
---	---

	●		
●	●		
○			○
			○

(3)

○	←	●	↑
---	---	---	---

☆	☆
---	---

			○
●		●	○
●			○

(7)

○	↙	●	↗
---	---	---	---

☆	☆
---	---

			○
		○	
●			
	●		

(3)

○	↘	●	→
---	---	---	---

☆

○			
	●	○	
○			
	●	●	

(8)

○	↙	●	↘
---	---	---	---

☆

	●	○	
		●	○
○	●		

※1. このプリントは、しながわ・目黒こどもスクールのウェブサイトでダウンロードができます。無断複写・引用はご遠慮ください。
 ※2. このプリントを活用したオンライン授業のスケジュールは、しながわ・目黒こどもスクールのウェブサイトでご確認ください。


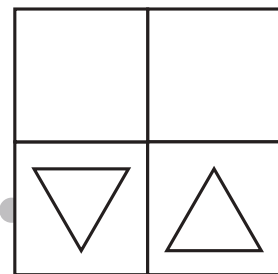
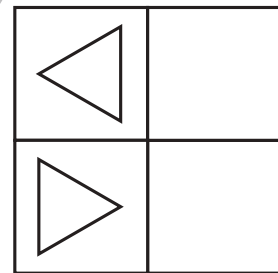
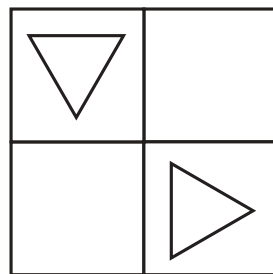
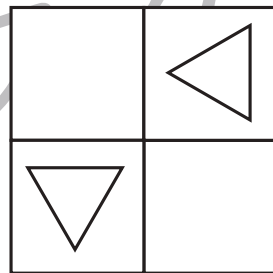

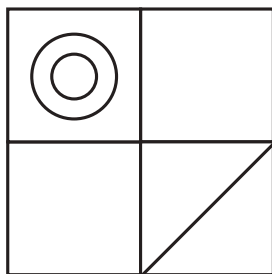
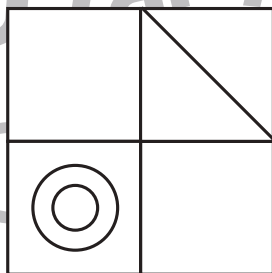
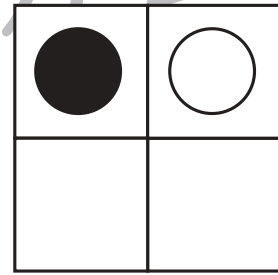
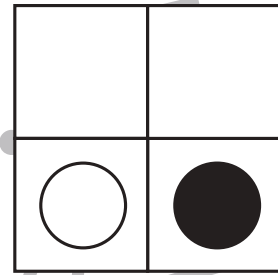
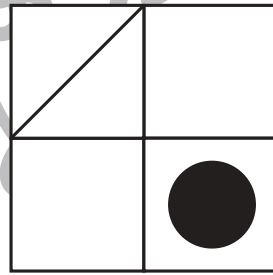
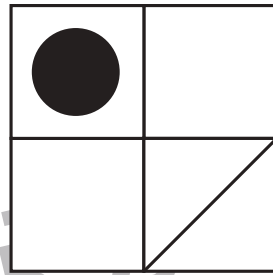

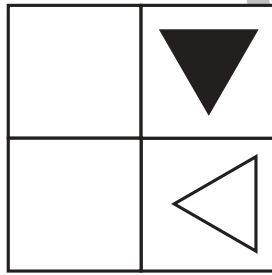
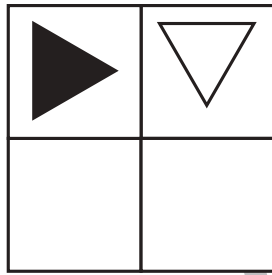


おうちで、やろう。

Study at home. 小学校受験の家庭学習教材

図形：回転 50

上のお手本を右へ何回か倒したときの様子が下の四角です。何回倒したのかを考えて、その数だけ下の四角に○をかきます。倒した回数は1回～4回の中で考えましょう。



※1. このプリントは、しながわ・目黒こどもスクールのウェブサイトでダウンロードができます。無断複写・引用はご遠慮ください。
※2. このプリントを活用したオンライン授業のスケジュールは、しながわ・目黒こどもスクールのウェブサイトでご確認ください。



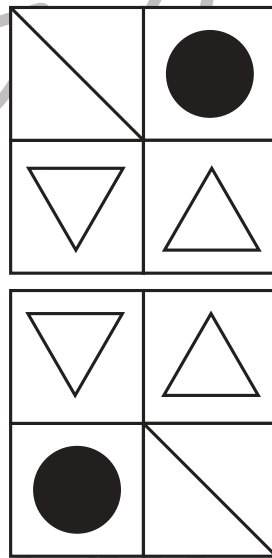

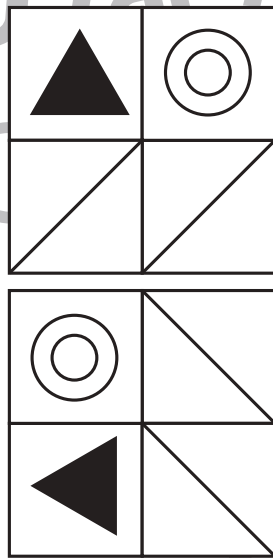






おうちで、やろう。

Study at home. 小学校受験の家庭学習教材

図形：回転 51

上のお手本を右へ何回か倒したときの様子が下の四角です。何回倒したのかを考えて、その数だけ下の四角に○をかきます。倒した回数は1回～4回の中で考えましょう。



※1. このプリントは、しながわ・目黒こどもスクールのウェブサイトでダウンロードができます。無断複写・引用はご遠慮ください。
※2. このプリントを活用したオンライン授業のスケジュールは、しながわ・目黒こどもスクールのウェブサイトでご確認ください。

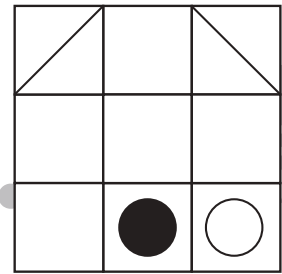
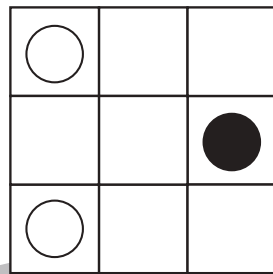
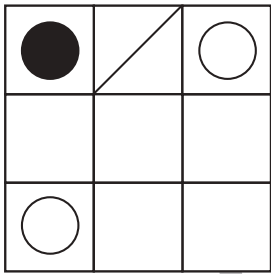
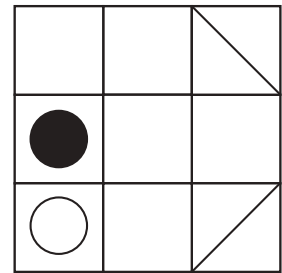
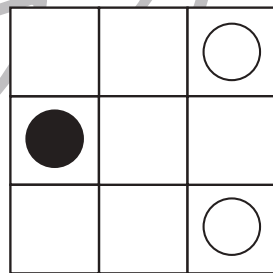


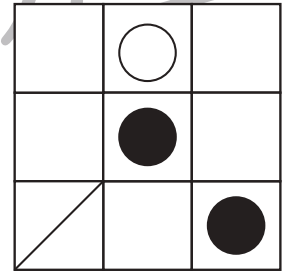
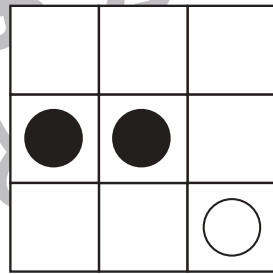
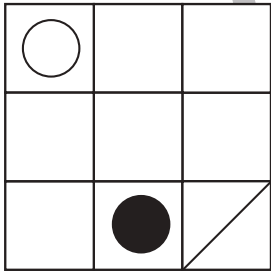
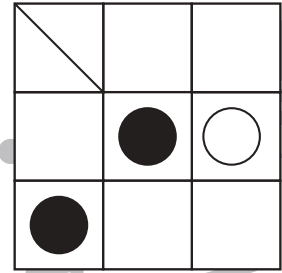
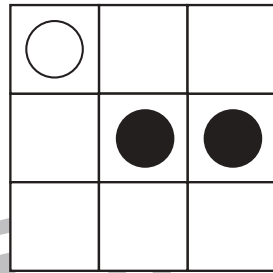
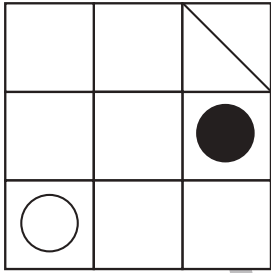


おうちで、やろう。

Study at home. 小学校受験の家庭学習教材

図形：回転 52

上のお手本を右へ何回か倒したときの様子が下の四角です。何回倒したのかを考えて、その数だけ下の四角に○をかきます。
倒した回数は1回～4回の中で考えましょう。



※1. このプリントは、しながわ・目黒こどもスクールのウェブサイトでダウンロードができます。無断複写・引用はご遠慮ください。
※2. このプリントを活用したオンライン授業のスケジュールは、しながわ・目黒こどもスクールのウェブサイトでご確認ください。



おうちで、やろう。

Study at home. 小学校受験の家庭学習教材

数量：条件推理 16

左の四角の中の数だけおはじきを持っています。持っているおはじきのうちいくつかのおはじきを手で隠した様子が真ん中の四角です。このとき、手で隠している白いおはじきの数を考えてその数だけ右の四角に○をかきます。

--	--	--

--	--	--

--	--	--

--	--	--

--	--	--

※1. このプリントは、しながわ・目黒こどもスクールのウェブサイトからダウンロードができます。無断複写・引用はご遠慮ください。

※2. このプリントを活用したオンライン授業のスケジュールは、しながわ・目黒こどもスクールのウェブサイトでご確認ください。



おうちで、やろう。

Study at home. 小学校受験の家庭学習教材

数量：条件推理 17

左の四角の中の数だけおはじきを持っています。持っているおはじきのうちいくつかのおはじきを手で隠した様子が真ん中の四角です。このとき、手で隠している白いおはじきの数を考えてその数だけ右の四角に○をかきます。

--	--	--

--	--	--

--	--	--

--	--	--

--	--	--

※1. このプリントは、しながわ・目黒こどもスクールのウェブサイトからダウンロードできます。無断複写・引用はご遠慮ください。

※2. このプリントを活用したオンライン授業のスケジュールは、しながわ・目黒こどもスクールのウェブサイトでご確認ください。

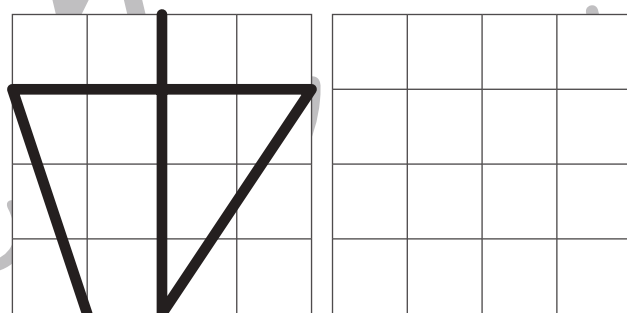
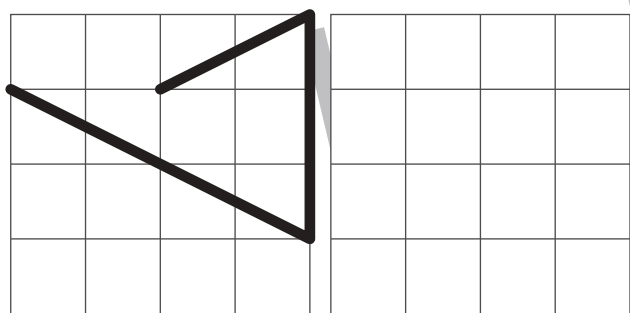
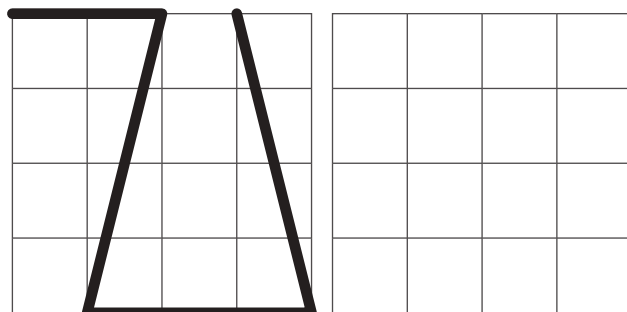
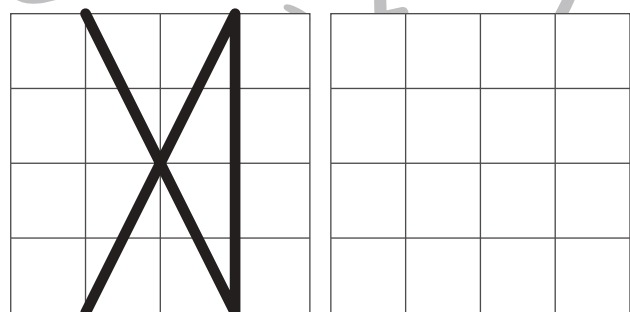
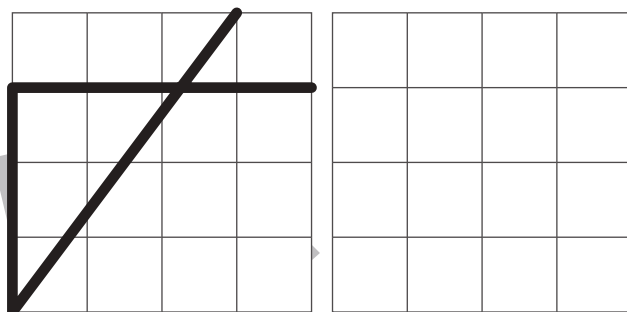

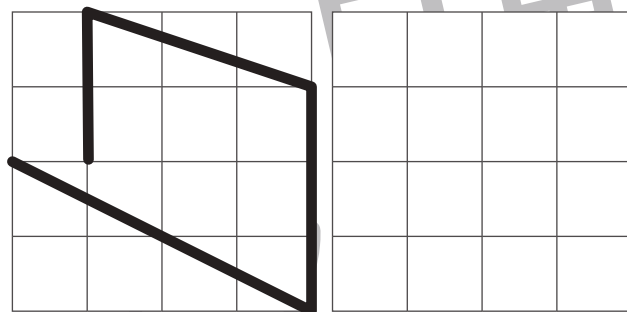



おうちで、やろう。

Study at home. 小学校受験の家庭学習教材

運筆：模写 17

左のお手本と同じになるように右のマスに線をかきます。
※この問題に解答はありません。



※1. このプリントは、しながわ・目黒こどもスクールのウェブサイトでダウンロードができます。無断複写・引用はご遠慮ください。
※2. このプリントを活用したオンライン授業のスケジュールは、しながわ・目黒こどもスクールのウェブサイトでご確認ください。

