



# おうちで、やろう。

Study at home. 小学校受験の家庭学習教材

## 言語：音の理解 39

- ①はじめてから2番目の音が「い」の動物に○をつけます。    ②はじめてから2番目の音が「め」の動物に○をつけます。  
 ③はじめてから2番目の音が「わ」の動物に○をつけます。    ④はじめてから2番目の音が「さ」の動物に○をつけます。  
 ⑤はじめてから2番目の音が「く」の動物に○をつけます。

①

②

③

④

⑤

※1. このプリントは、しながわ・目黒こどもスクールのウェブサイトでダウンロードができます。無断複写・引用はご遠慮ください。  
 ※2. このプリントを活用したオンライン授業のスケジュールは、しながわ・目黒こどもスクールのウェブサイトでご確認ください。



# おうちで、やろう。

Study at home. 小学校受験の家庭学習教材

## 言語：音の理解 40

- ① 終りから2番目の音が「ろ」の動物に○をつけます。      ② 終りから2番目の音が「ぎ」の動物に○をつけます。  
 ③ 終りから2番目の音が「あ」の動物に○をつけます。      ④ 終りから2番目の音が「つ」の動物に○をつけます。  
 ⑤ 終りから2番目の音が「り」の動物に○をつけます。

①

This row contains four animal illustrations: an elephant, a panda, a gorilla, and an owl. The owl is enclosed in a black circle, indicating it is the correct answer for this question.

②

This row contains four animal illustrations: a kangaroo, a camel, a penguin, and a peacock. The penguin is enclosed in a black circle, indicating it is the correct answer for this question.

③

This row contains four animal illustrations: a monkey, a cat, a lizard, and a koala. The koala is enclosed in a black circle, indicating it is the correct answer for this question.

④

This row contains four animal illustrations: a rabbit, a sheep, a fox, and a flamingo. The sheep is enclosed in a black circle, indicating it is the correct answer for this question.

⑤

This row contains four animal illustrations: a zebra, a hippo, a lion, and a giraffe. The giraffe is enclosed in a black circle, indicating it is the correct answer for this question.

※1. このプリントは、しながわ・目黒こどもスクールのウェブサイトでダウンロードができます。無断複写・引用はご遠慮ください。  
 ※2. このプリントを活用したオンライン授業のスケジュールは、しながわ・目黒こどもスクールのウェブサイトでご確認ください。



# おうちで、やろう。

Study at home. 小学校受験の家庭学習教材

## 図形：移動 42

それぞれ上の四角が約束です。白丸と黒丸は矢印の方向へマスで 1 マス進みます。この約束で下のマスの中の白丸と黒丸が☆の数だけマスを進みます。進んだ後の場所を考えて右のマスにかきます。

(1) 

○	←	●	→
---	---	---	---

☆
---

			○
	●		
●			
		○	

		○	
		●	
●			
	○		

(5) 

○	↗	●	↓
---	---	---	---

☆
---

		●	
	○		
○	●		

		○	
	○	●	
	●		

(2) 

○	→	●	←
---	---	---	---

☆
---

○			
○			
			●
		●	

○			
○			
		●	
	●		

(6) 

○	↖	●	→
---	---	---	---

☆
---

●		○	
	●		
		○	

○			
●			
	○	●	

(3) 

○	←	●	↓
---	---	---	---

☆
---

			○
		●	
●	○		

		○	
	○	●	
●			

(7) 

○	←	●	↖
---	---	---	---

☆
---

		○	●
○			
		●	

○			
○		●	
	●		

(3) 

○	↑	●	→
---	---	---	---

☆
---

		●	
○			
	●	○	

○			●
		○	
		●	

(8) 

○	↖	●	↗
---	---	---	---

☆
---

	●		
●	○		
			○

		●	
○	●		
		○	

※1. このプリントは、しながわ・目黒こどもスクールのウェブサイトでダウンロードができます。無断複写・引用はご遠慮ください。  
 ※2. このプリントを活用したオンライン授業のスケジュールは、しながわ・目黒こどもスクールのウェブサイトでご確認ください。



# おうちで、やろう。

Study at home. 小学校受験の家庭学習教材

## 図形：移動 43

それぞれ上の四角が約束です。白丸と黒丸は矢印の方向へマスを進みます。この約束で下のマスの中の白丸と黒丸が☆の数だけマスを進みます。進んだ後の場所を考えて右のマスにかきます。

(1) 

○	←	●	↑
---	---	---	---

☆	☆
---	---

		○	
		●	●
	●	○	○

○		●	●
	●		
○	○		

(5) 

○	↖	●	→
---	---	---	---

☆	☆	☆
---	---	---

●			
●			
●			○

○			
			●
			●
			●

(2) 

○	→	●	↓
---	---	---	---

☆	☆
---	---

○	●		●
			●
○			
○			

		○	
	●	○	●
		○	●

(6) 

○	↑	●	↘
---	---	---	---

☆	☆
---	---

	●		
●	●		
○			○
			○

○			○
			○
			●
		●	●

(3) 

○	←	●	↑
---	---	---	---

☆	☆
---	---

			○
●		●	○
●			○

●	○	●	
●			
	○		
	○		

(7) 

○	↖	●	↗
---	---	---	---

☆	☆
---	---

			○
			○
●			
	●		

		●	
			●
	○		
○			

(3) 

○	↘	●	→
---	---	---	---

☆
---

○			
	●	○	
○			
	●	●	

	○	●	
			○
	○	●	●

(8) 

○	↘	●	↘
---	---	---	---

☆
---

	●	○	
		●	○
	○	●	

	○	●	
		○	●
○			●

※1. このプリントは、しながわ・目黒こどもスクールのウェブサイトでダウンロードができます。無断複写・引用はご遠慮ください。  
 ※2. このプリントを活用したオンライン授業のスケジュールは、しながわ・目黒こどもスクールのウェブサイトでご確認ください。

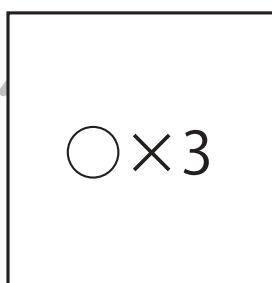
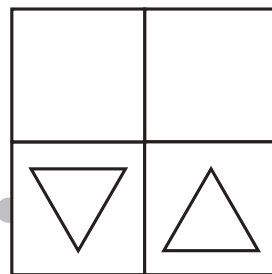
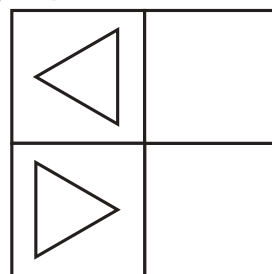
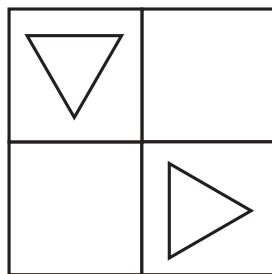
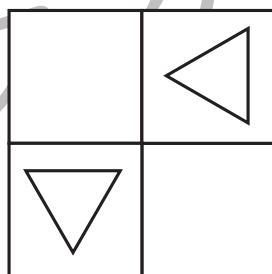

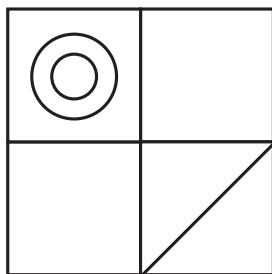
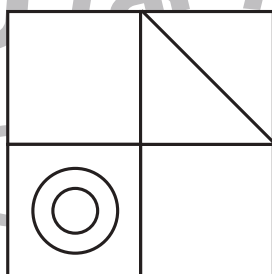
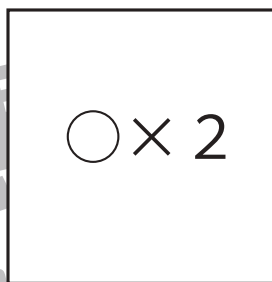
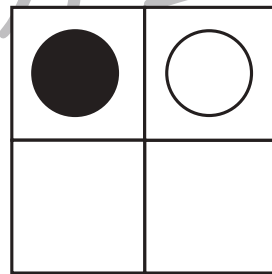
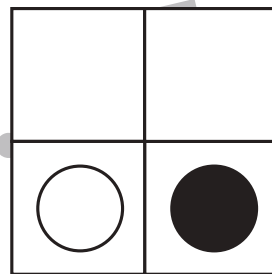

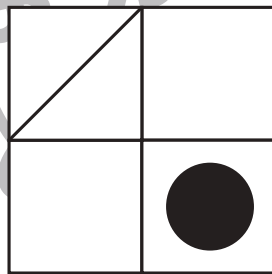
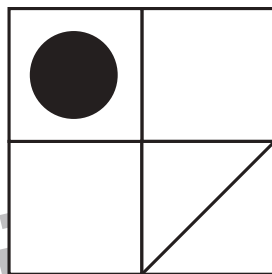

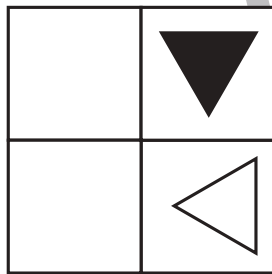
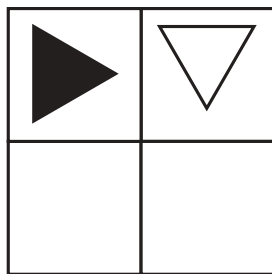


# おうちで、やろう。

Study at home. 小学校受験の家庭学習教材

図形：回転 50

上のお手本を右へ何回か倒したときの様子が下の四角です。何回倒したのかを考えて、その数だけ下の四角に○をかきます。倒した回数は1回～4回の中で考えましょう。



※1. このプリントは、しながわ・目黒こどもスクールのウェブサイトでダウンロードができます。無断複写・引用はご遠慮ください。  
※2. このプリントを活用したオンライン授業のスケジュールは、しながわ・目黒こどもスクールのウェブサイトでご確認ください。

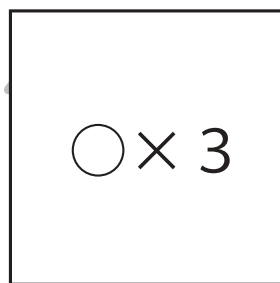

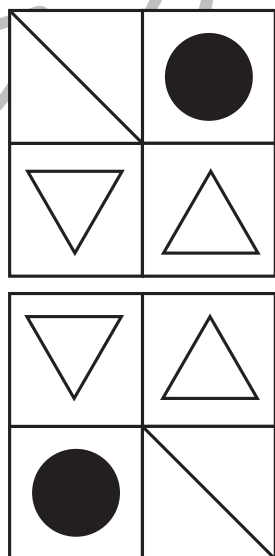

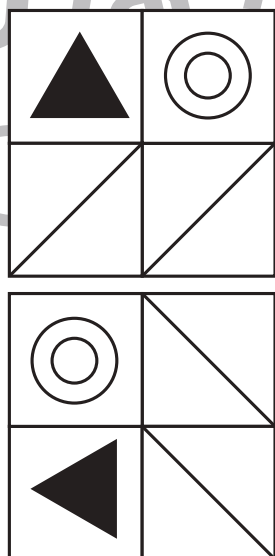
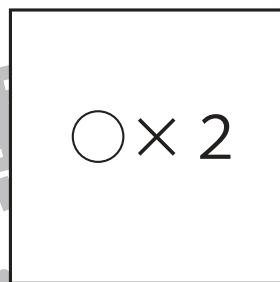
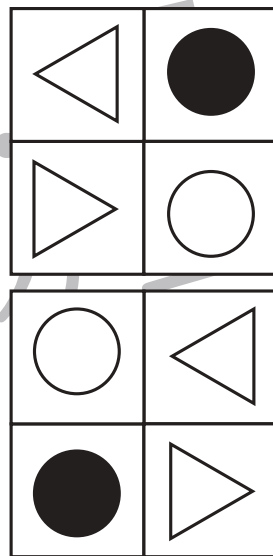

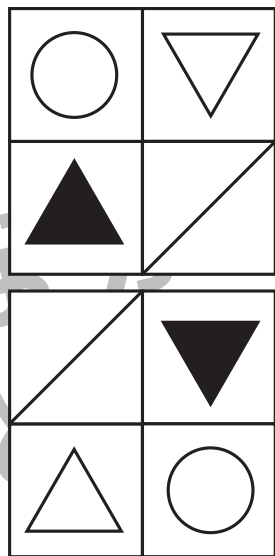

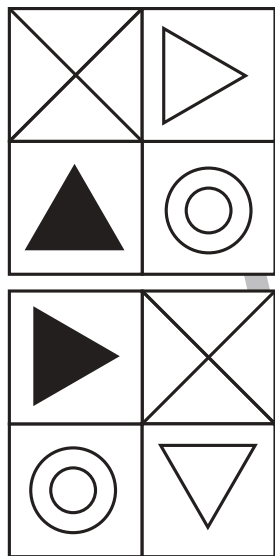


# おうちで、やろう。

Study at home. 小学校受験の家庭学習教材

図形：回転 51

上のお手本を右へ何回か倒したときの様子が下の四角です。何回倒したのかを考えて、その数だけ下の四角に○をかきます。倒した回数は1回～4回の中で考えましょう。



※1. このプリントは、しながわ・目黒こどもスクールのウェブサイトでダウンロードができます。無断複写・引用はご遠慮ください。  
 ※2. このプリントを活用したオンライン授業のスケジュールは、しながわ・目黒こどもスクールのウェブサイトでご確認ください。

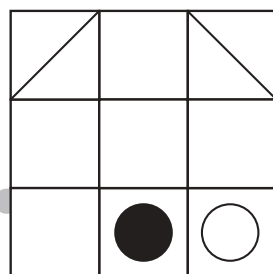
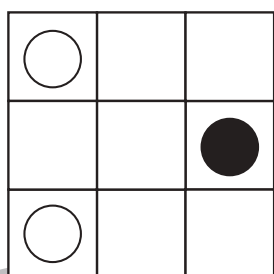
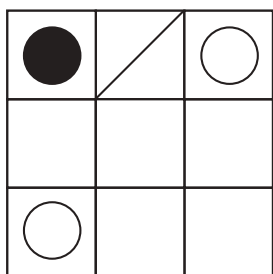
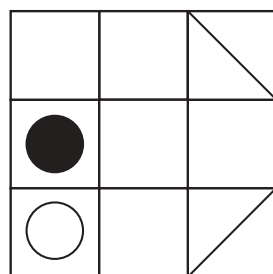




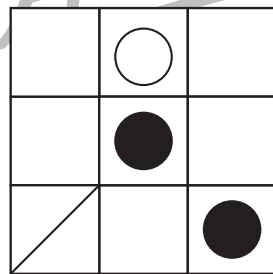

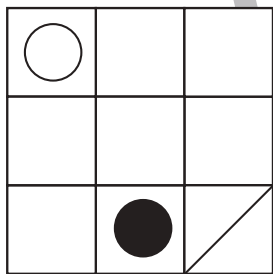
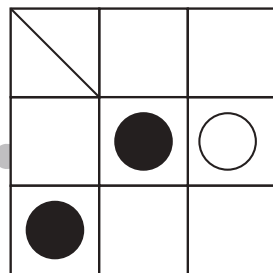
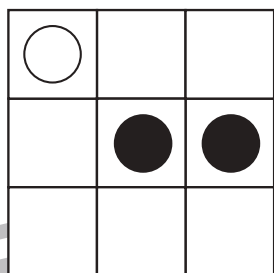
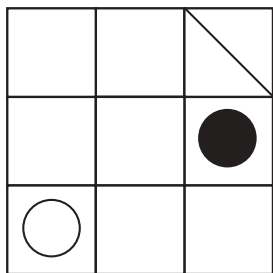


# おうちで、やろう。

Study at home. 小学校受験の家庭学習教材

図形：回転 52

上のお手本を右へ何回か倒したときの様子が下の四角です。何回倒したのかを考えて、その数だけ下の四角に○をかきます。  
倒した回数は1回～4回の中で考えましょう。



※1. このプリントは、しながわ・目黒こどもスクールのウェブサイトでダウンロードができます。無断複写・引用はご遠慮ください。

※2. このプリントを活用したオンライン授業のスケジュールは、しながわ・目黒こどもスクールのウェブサイトでご確認ください。





# おうちで、やろう。

Study at home. 小学校受験の家庭学習教材

数量：条件推理 16

左の四角の中の数だけおはじきを持っています。持っているおはじきのうちいくつかのおはじきを手で隠した様子が真ん中の四角です。このとき、手で隠している白いおはじきの数を考えてその数だけ右の四角に○をかきます。

		 $\bigcirc \times 3$
		 $\bigcirc \times 2$
		 $\bigcirc \times 3$
		 $\bigcirc \times 2$
		 $\bigcirc \times 3$

※1. このプリントは、しながわ・目黒こどもスクールのウェブサイトからダウンロードができます。無断複写・引用はご遠慮ください。

※2. このプリントを活用したオンライン授業のスケジュールは、しながわ・目黒こどもスクールのウェブサイトでご確認ください。





# おうちで、やろう。

Study at home. 小学校受験の家庭学習教材

数量：条件推理 17

左の四角の中の数だけおはじきを持っています。持っているおはじきのうちいくつかのおはじきを手で隠した様子が真ん中の四角です。このとき、手で隠している白いおはじきの数を考えてその数だけ右の四角に○をかきます。

		 $\bigcirc \times 2$
		 $\bigcirc \times 2$
		 $\bigcirc \times 1$
		 $\bigcirc \times 2$
		 $\bigcirc \times 4$

※1. このプリントは、しながわ・目黒こどもスクールのウェブサイトからダウンロードができます。無断複写・引用はご遠慮ください。

※2. このプリントを活用したオンライン授業のスケジュールは、しながわ・目黒こどもスクールのウェブサイトでご確認ください。