



おうちで、やろう。

Study at home. 小学校受験の家庭学習教材

言語：音の理解 41

左側には四角の中に絵と四角があります。その四角はそれぞれの絵の音の数を描かれており、○や△はその絵の音の位置を表しています。左の四角の中にある音を使って新しい物の名前を表すとき、どれが正しいのかを右の四角の中から選びなさい。

Dragonfly and Octopus

□ □ ○

△ □

○ △ □

Clock, Button, Hat

Squirrel and Crab

□ □ ○

△ □

○ □ △

Owl, Watermelon, Ant

Monkey and Tiger

○ □ □

□ △

□ △ □ □ ○

Flamingo, Snake, Frog

Boots and Pig

□ □ ○ □ □

□ □ △ △

□ □ ○ □ △

Chili pepper, Tomato, Corn

※1. このプリントは、しながわ・目黒こどもスクールのウェブサイトでダウンロードができます。無断複写・引用はご遠慮ください。

※2. このプリントを活用したオンライン授業のスケジュールは、しながわ・目黒こどもスクールのウェブサイトでご確認ください。



おうちで、やろう。

Study at home. 小学校受験の家庭学習教材

処理：模写 18

左の四角がお手本です。黒いマスの場所を考えて右の四角の同じ場所に○をかきます。
この問題はスピードを意識して取り組む練習をしてみましょう。(1分30秒～2分)

		■	
■	■	□	■
■	■	■	■
■	■	□	■

■	■	□	■
■	■	■	■
□	■	■	□
■	■	■	□

□	■	■	■
■	□	■	□
□	■	■	■
■	□	■	■

■	□	■	■
■	■	■	■
□	■	■	□
■	■	■	□

□	■	□	■
■	□	■	■
■	■	■	■
□	■	■	■

■	■	□	■
□	■	■	□
■	□	■	■
■	■	□	■

■	□	■	■
□	■	■	■
■	■	■	□
□	■	■	□

□	■	□	■
■	□	■	□
■	■	■	■
□	■	■	■

■	■	■	□
■	□	■	■
■	□	■	■
□	□	■	□

■	■	□	■
■	□	■	□
■	■	□	■
■	■	■	■

※1. このプリントは、しながわ・目黒こどもスクールのウェブサイトからダウンロードできます。無断複写・引用はご遠慮ください。
※2. このプリントを活用したオンライン授業のスケジュールは、しながわ・目黒こどもスクールのウェブサイトでご確認ください。



おうちで、やろう。

Study at home. 小学校受験の家庭学習教材

処理：模写 19

左の四角がお手本です。灰色のマス場所を考えて右の四角の同じ場所に○をかきます。
この問題はスピードを意識して取り組む練習をしてみましょう。(1分30秒～2分)

		■	■	
■				■
	■		■	
■	■	■		

■			■	
	■			■
		■		
■			■	■

	■		■	
■	■			■
		■	■	
■		■		■

■	■			
	■	■	■	
		■	■	■
	■	■		

■	■	■		
	■		■	
			■	
■			■	

■	■	■		
■	■	■		
	■		■	
	■		■	

			■	
■	■	■	■	
	■		■	
■	■		■	

■	■			
■	■	■	■	
■		■	■	
■	■		■	

	■	■	■	
■	■	■		
■	■		■	

		■	■	
■		■	■	
	■	■	■	
■	■			

※1. このプリントは、しながわ・目黒こどもスクールのウェブサイトからダウンロードできます。無断複写・引用はご遠慮ください。
※2. このプリントを活用したオンライン授業のスケジュールは、しながわ・目黒こどもスクールのウェブサイトでご確認ください。



おうちで、やろう。

Study at home. 小学校受験の家庭学習教材

処理：模写 20

左の四角がお手本です。白いマス場所を考えて右の四角の同じ場所に○をかきます。
この問題はスピードを意識して取り組む練習をしてみましょう。(1分30秒～2分)

	■		■
■	■	■	
	■	■	■
■			

■	■		■
■		■	
			■
	■	■	■

		■	■
■	■		■
	■	■	
		■	■

	■		■
■	■	■	
	■	■	■

		■	
■		■	■
	■		■
■		■	

		■	
■	■	■	
■	■		■
	■		■

■			■
		■	
■	■		■
	■	■	

		■	
■	■		■
		■	■
	■		■

	■	■	
		■	
		■	
■	■		■

	■		■
			■
■		■	■
	■	■	

※1. このプリントは、しながわ・目黒こどもスクールのウェブサイトでダウンロードができます。無断複写・引用はご遠慮ください。
※2. このプリントを活用したオンライン授業のスケジュールは、しながわ・目黒こどもスクールのウェブサイトでご確認ください。



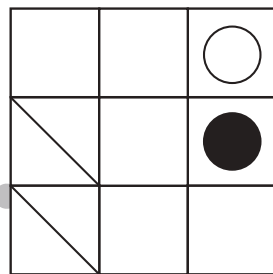
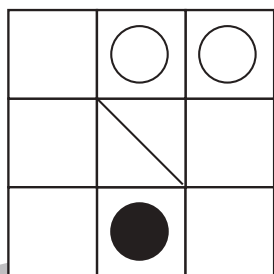
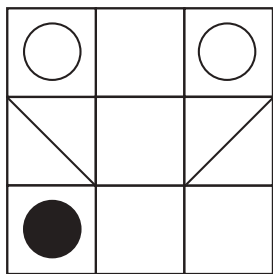
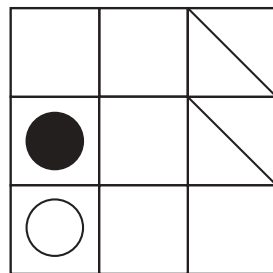




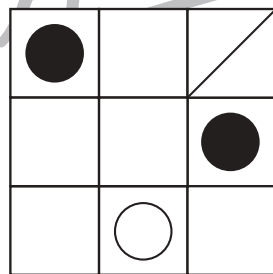


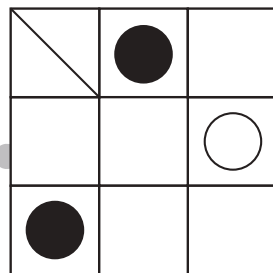
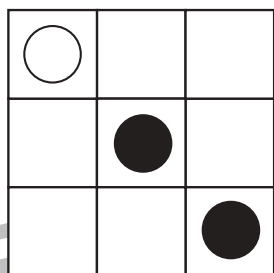
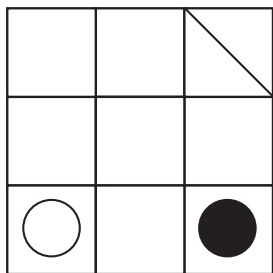


おうちで、やろう。

Study at home. 小学校受験の家庭学習教材

図形：回転 53

上のお手本を左へ何回か倒したときの様子が下の四角です。何回倒したのかを考えて、その数だけ下の四角に○をかきます。
倒した回数は1回～4回の中で考えましょう。



※1. このプリントは、しながわ・目黒こどもスクールのウェブサイトでダウンロードができます。無断複写・引用はご遠慮ください。
※2. このプリントを活用したオンライン授業のスケジュールは、しながわ・目黒こどもスクールのウェブサイトでご確認ください。








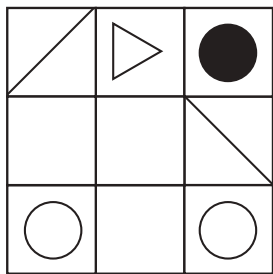







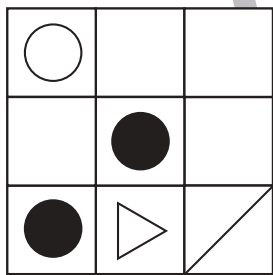
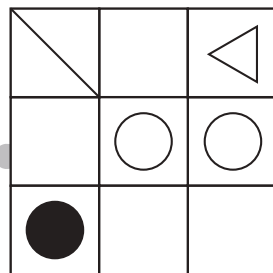
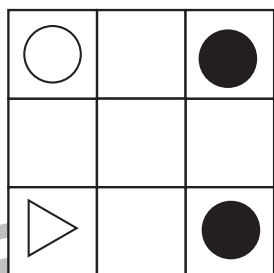
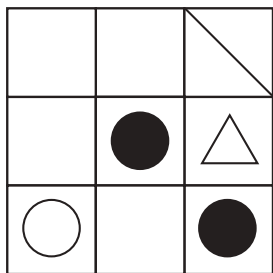


おうちで、よろう。

Study at home. 小学校受験の家庭学習教材

図形：回転 54

上のお手本を左へ何回か倒したときの様子が下の四角です。何回倒したのかを考えて、その数だけ下の四角に○をかきます。
倒した回数は1回～4回の中で考えましょう。



※1. このプリントは、しながわ・目黒こどもスクールのウェブサイトでダウンロードができます。無断複写・引用はご遠慮ください。
※2. このプリントを活用したオンライン授業のスケジュールは、しながわ・目黒こどもスクールのウェブサイトでご確認ください。











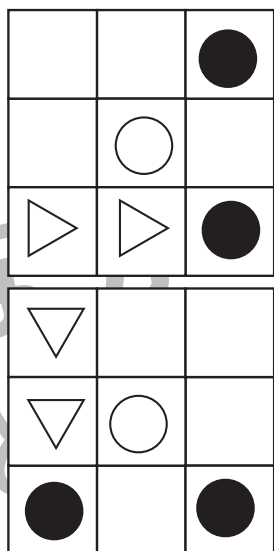



おうちで、やろう。

Study at home. 小学校受験の家庭学習教材

図形：回転 55

上のお手本を左へ何回か倒したときの様子が下の四角です。何回倒したのかを考えて、その数だけ下の四角に○をかきます。倒した回数は1回～4回の中で考えましょう。



※1. このプリントは、しながわ・目黒こどもスクールのウェブサイトでダウンロードができます。無断複写・引用はご遠慮ください。
 ※2. このプリントを活用したオンライン授業のスケジュールは、しながわ・目黒こどもスクールのウェブサイトでご確認ください。





おうちで、やろう。

Study at home. 小学校受験の家庭学習教材

図形：複合1

左の3つの透明なマスには○(白丸)と矢印が描かれています。3枚を重ねた時に見える矢印の順番に○(白丸)が進んだ時、最後に到着するマスを見つけて○を付けましょう。

※1. このプリントは、しながわ・目黒こどもスクールのウェブサイトでダウンロードができます。無断複写・引用はご遠慮ください。

※2. このプリントを活用したオンライン授業のスケジュールは、しながわ・目黒こどもスクールのウェブサイトでご確認ください。











おうちで、やろう。













Study at home. 小学校受験の家庭学習教材

数量：同数 25

上の虫の数をかぞえます。

それぞれの虫の数とおはなの数が同じ四角をみつけて、それぞれの虫の四角の左上にある記号をつけます。

※1. このプリントは、しながわ・目黒こどもスクールのウェブサイトでダウンロードができます。無断複写・引用はご遠慮ください。

※2. このプリントを活用したオンライン授業のスケジュールは、しながわ・目黒こどもスクールのウェブサイトでご確認ください。



おうちで、やろう。


Study at home. 小学校受験の家庭学習教材

処理：運筆 24

白い丸から黒い丸まで一本の線をかきます。壁にぶつからないようにきれいに素早く線をかきましょう。

この問題はスピードを意識して取り組む練習をしてみましょう。(30秒～1分)

※えんぴつ、クーピー、水性ペンなどを使用しましょう。 ※この問題に解答はありません。



※1. このプリントは、しながわ・目黒こどもスクールのウェブサイトでダウンロードができます。無断複写・引用はご遠慮ください。

※2. このプリントを活用したオンライン授業のスケジュールは、しながわ・目黒こどもスクールのウェブサイトでご確認ください。

