



おうちで、やろう。

Study at home. 小学校受験の家庭学習教材

言語：音の理解 41

左側には四角の中に絵と四角があります。その四角はそれぞれの絵の音の数を描かれており、○や△はその絵の音の位置を表しています。左の四角の中にある音を使って新しい物の名前を表すとき、どれが正しいのかを右の四角の中から選びなさい。

Dragonfly: [] [] [] [] (Circle in the 4th box)

Octopus: [] [] [] [] (Triangle in the 1st box)

Shape boxes: [] [] [] [] (Circle in the 1st box, Triangle in the 2nd box)

Options: Clock, Button, Hat

Squirrel: [] [] [] [] (Circle in the 4th box)

Crab: [] [] [] [] (Triangle in the 1st box)

Shape boxes: [] [] [] [] (Circle in the 1st box, Triangle in the 4th box)

Options: Owl, Watermelon, Ant

Monkey: [] [] [] [] (Circle in the 1st box)

Tiger: [] [] [] [] (Triangle in the 4th box)

Shape boxes: [] [] [] [] [] (Triangle in the 2nd box, Circle in the 5th box)

Options: Flamingo, Snake, Frog

Boots: [] [] [] [] (Circle in the 2nd box)

Pig: [] [] [] [] (Triangle in the 3rd box, Triangle in the 4th box)

Shape boxes: [] [] [] [] [] (Circle in the 3rd box, Triangle in the 5th box)

Options: Chili pepper, Tomato, Corn

※1. このプリントは、しながわ・目黒こどもスクールのウェブサイトでダウンロードができます。無断複写・引用はご遠慮ください。
※2. このプリントを活用したオンライン授業のスケジュールは、しながわ・目黒こどもスクールのウェブサイトでご確認ください。



おうちで、やろう。

Study at home. 小学校受験の家庭学習教材

処理：模写 18

左の四角がお手本です。黒いマスの場所を考えて右の四角の同じ場所に○をかきます。
この問題はスピードを意識して取り組む練習をしてみましょう。(1分30秒～2分)

		■	
■	■		■
■	■	■	■
■	■		■

			○
	○		
			○
○			○

■	■		■
■	■	■	■
	■	■	
■	■	■	

○			
	○		○
	○	○	
○		○	

	■	■	■
■		■	
	■	■	■
■			■

	○		
○		○	
	○	○	
○			

■		■	■
■	■	■	■
	■	■	
■	■	■	

			○
○	○		○
		○	
○	○		

	■		■
■		■	■
■	■	■	■
	■	■	■

			○
○			○
	○		○
	○		○

■	■		■
	■	■	
■		■	■
■	■		■

○			○
	○	○	
		○	
○			

■		■	■
	■	■	■
■	■	■	
	■	■	

			○
		○	
○	○		
		○	

	■		■
■		■	
■	■	■	■
	■	■	■

○		○	
	○	○	
		○	○

■	■	■	
■	■	■	■
■		■	■
		■	

		○	
	○		○
○			○
		○	

■	■		■
■		■	
■	■	■	■
■	■	■	■

○	○		
		○	
○	○		○
			○

※1. このプリントは、しながわ・目黒こどもスクールのウェブサイトでダウンロードができます。無断複写・引用はご遠慮ください。
※2. このプリントを活用したオンライン授業のスケジュールは、しながわ・目黒こどもスクールのウェブサイトでご確認ください。



おうちで、やろう。

Study at home. 小学校受験の家庭学習教材

処理：模写 19

左の四角がお手本です。灰色のマス場所を考えて右の四角の同じ場所に○をかきます。
この問題はスピードを意識して取り組む練習をしてみましょう。(1分30秒～2分)

		■	■
■			■
	■	■	
■	■	■	

			○
			○
		○	
○	○		

■			■
	■		■
	■	■	
■		■	■

			○
	○		
○			

	■		■
■	■		■
	■	■	
■		■	■

	○		
	○		○
○			○

■	■		
	■	■	
	■	■	■
	■	■	

	○		
	○	○	○

■	■	■	
	■		■
	■	■	
■		■	

○	○		
			○
			○

■	■	■	
■	■	■	
	■	■	■
	■		■

○		○	
	○		
	○		○

			■
■	■	■	■
	■		■
■	■		■

○			
	○		○
			○

■	■		
■	■	■	■
■		■	■
■	■		■

	○		
○		○	
			○
○			

	■	■	■
	■		
■	■	■	
■	■		■

		○	○
○	○		
○			

		■	■
■		■	■
	■	■	■
■	■		

		○	○
	○		
○			

※1. このプリントは、しながわ・目黒こどもスクールのウェブサイトでダウンロードができます。無断複写・引用はご遠慮ください。
※2. このプリントを活用したオンライン授業のスケジュールは、しながわ・目黒こどもスクールのウェブサイトでご確認ください。



おうちで、やろう。

Study at home. 小学校受験の家庭学習教材

処理：模写 20

左の四角がお手本です。白いマス場所を考えて右の四角の同じ場所に○をかきます。
この問題はスピードを意識して取り組む練習をしてみましょう。(1分30秒～2分)

	■		■
■	■	■	
	■	■	■
■			

○		○	
			○
○			
	○	○	○

■	■		■
■		■	
			■
	■	■	■

		○	
	○		○
○	○	○	
○			

		■	■
■	■		■
	■	■	
		■	■

○	○		
		○	
○			○
○	○		

	■		■
■	■	■	
			■
	■	■	■

○		○	
			○
○	○		○
○			

		■	
■		■	■
	■		■
■		■	

○	○		○
	○		
○		○	
	○		○

		■	
■	■	■	
■	■		■
	■		■

○	○		○
			○
		○	
○		○	

■			■
		■	
■	■		■
	■	■	

	○	○	
○	○		○
		○	
○			○

		■	
■	■		■
		■	■
	■		■

○	○		○
		○	
○	○		
○		○	

	■	■	
		■	
		■	
■	■		■

○			○
○			○
○	○		○
		○	

	■		■
	■	■	
■		■	■
	■	■	

○		○	
○		○	
	○		
○			○

※1. このプリントは、しながわ・目黒こどもスクールのウェブサイトでダウンロードができます。無断複写・引用はご遠慮ください。
※2. このプリントを活用したオンライン授業のスケジュールは、しながわ・目黒こどもスクールのウェブサイトでご確認ください。


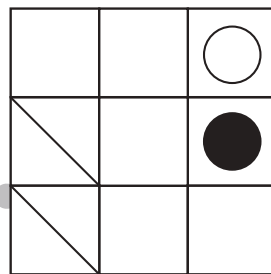
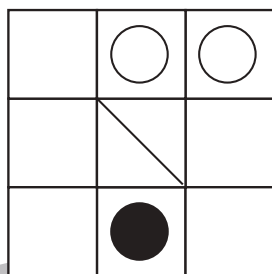
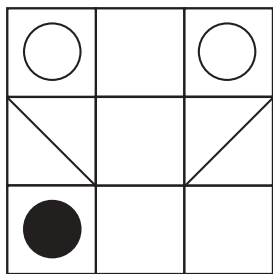
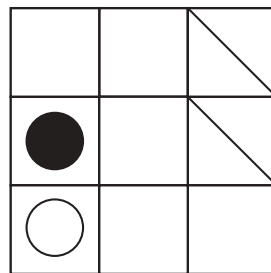




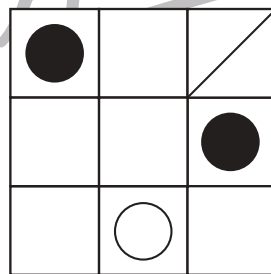


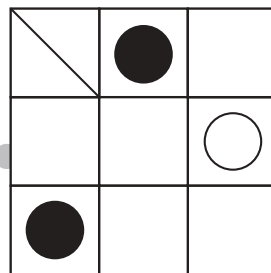
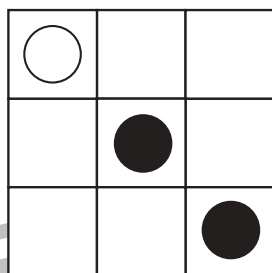
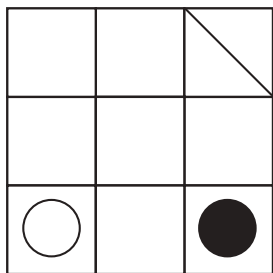


おうちで、やろう。

Study at home. 小学校受験の家庭学習教材

図形：回転 53

上のお手本を左へ何回か倒したときの様子が下の四角です。何回倒したのかを考えて、その数だけ下の四角に○をかきます。
倒した回数は1回～4回の中で考えましょう。



※1. このプリントは、しながわ・目黒こどもスクールのウェブサイトでダウンロードができます。無断複写・引用はご遠慮ください。
※2. このプリントを活用したオンライン授業のスケジュールは、しながわ・目黒こどもスクールのウェブサイトでご確認ください。





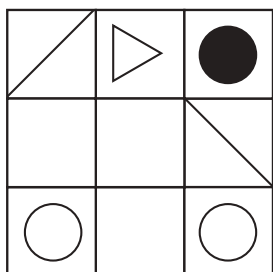
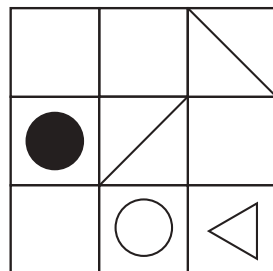






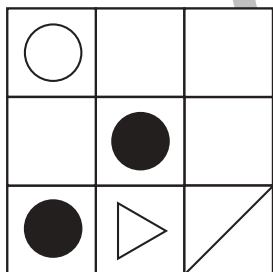
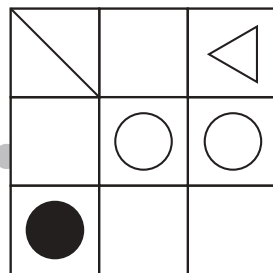
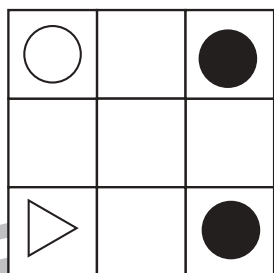
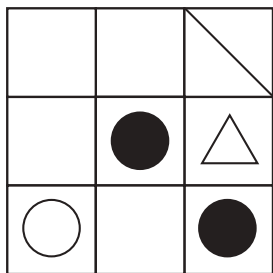


おうちで、やろう。

Study at home. 小学校受験の家庭学習教材

図形：回転 54

上のお手本を左へ何回か倒したときの様子が下の四角です。何回倒したのかを考えて、その数だけ下の四角に○をかきます。
倒した回数は1回～4回の中で考えましょう。



※1. このプリントは、しながわ・目黒こどもスクールのウェブサイトでダウンロードができます。無断複写・引用はご遠慮ください。
※2. このプリントを活用したオンライン授業のスケジュールは、しながわ・目黒こどもスクールのウェブサイトでご確認ください。








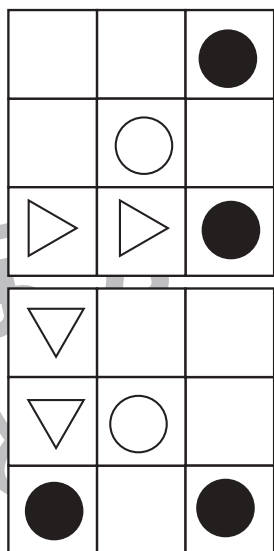




おうちで、やろう。

Study at home. 小学校受験の家庭学習教材

図形：回転 55

上のお手本を左へ何回か倒したときの様子が下の四角です。何回倒したのかを考えて、その数だけ下の四角に○をかきます。倒した回数は1回～4回の中で考えましょう。



※1. このプリントは、しながわ・目黒こどもスクールのウェブサイトでダウンロードができます。無断複写・引用はご遠慮ください。
 ※2. このプリントを活用したオンライン授業のスケジュールは、しながわ・目黒こどもスクールのウェブサイトでご確認ください。



おうちで、やろう。

Study at home. 小学校受験の家庭学習教材

図形：複合1

左の3つの透明なマスには○(白丸)と矢印が描かれています。3枚を重ねた時に見える矢印の順番に○(白丸)が進んだ時、最後に到着するマスを見つけて○を付けましょう。

※1. このプリントは、しながわ・目黒こどもスクールのウェブサイトでダウンロードができます。無断複写・引用はご遠慮ください。

※2. このプリントを活用したオンライン授業のスケジュールは、しながわ・目黒こどもスクールのウェブサイトでご確認ください。











おうちで、やろう。













Study at home. 小学校受験の家庭学習教材

数量：同数 25

上の虫の数をかぞえます。

それぞれの虫の数とおはなの数が同じ四角をみつけて、それぞれの虫の四角の左上にある記号をつけます。

※1. このプリントは、しながわ・目黒こどもスクールのウェブサイトでダウンロードができます。無断複写・引用はご遠慮ください。

※2. このプリントを活用したオンライン授業のスケジュールは、しながわ・目黒こどもスクールのウェブサイトでご確認ください。