



おうちで、やろう。

Study at home. 小学校受験の家庭学習教材

指示の聞き取り 11

お話を聞いた後で動物たちがそれぞれじゃんけんで何を出したか考えて線をひきましょう。

- ①ウサギさんはチョキを出して、ブタさんとクマさんとあいこでした。
- ②ブタさんはウサギさんに勝って、ウサギさんはグーを出してクマさんに勝ちました。
- ③クマさんはグーを出してブタさんとあいこでした。ウサギさんはクマさんともあいこでした。
- ④ウサギさんはパーを出してブタさんに負けました。クマさんはウサギさんに勝ちました。

①

②

③

④

※1. このプリントは、しながわ・目黒こどもスクールのウェブサイトでダウンロードができます。無断複写・引用はご遠慮ください。

※2. このプリントを活用したオンライン授業のスケジュールは、しながわ・目黒こどもスクールのウェブサイトでご確認ください。



おうちで、やろう。

Study at home. 小学校受験の家庭学習教材

指示の聞き取り 12

お話を聞いた後で動物たちがそれぞれじゃんけんを何を出したか考えて線をひきましょう。

- ①クマさんはパーをだしてブタさんに勝ちました。ネコさんはブタさんとあいこでした。
- ②ネコさんはチョキをだしてブタさんとクマさんに負けました。
- ③ブタさんはパーをだしてクマさんに負けました。ネコさんとはあいこでした。
- ④ネコさんはチョキをだしてクマさんとあいこでした。ブタさんともあいこでした。

①

②

③

④

※1. このプリントは、しながわ・目黒こどもスクールのウェブサイトでダウンロードができます。無断複写・引用はご遠慮ください。
 ※2. このプリントを活用したオンライン授業のスケジュールは、しながわ・目黒こどもスクールのウェブサイトでご確認ください。



おうちで、やろう。

Study at home. 小学校受験の家庭学習教材

言語：音の理解 42

左と右の四角の中の絵で終わりの音が同じもの同士を線で結びます。

しながわ
こどもスクール
目黒
こどもスクール

※1. このプリントは、しながわ・目黒こどもスクールのウェブサイトからダウンロードできます。無断複写・引用はご遠慮ください。

※2. このプリントを活用したオンライン授業のスケジュールは、しながわ・目黒こどもスクールのウェブサイトでご確認ください。



おうちで、やろう。

Study at home. 小学校受験の家庭学習教材

言語：音の理解 43

左側の四角の中のはじめの音と同じ音ではじまる絵を右側の四角の中からみつけて線で結びます。

The matching exercise consists of two columns of five boxes each. The left column contains illustrations of: 1. Tempura, 2. Rice cooker, 3. Violin, 4. Airplane, 5. Peacock. The right column contains illustrations of: 1. Air pump, 2. Horse-drawn carriage, 3. Slide, 4. Umbrella, 5. Potted plant. Lines connect the boxes as follows: Tempura to Airplane, Rice cooker to Peacock, Violin to Airplane, Airplane to Peacock, Peacock to Airplane, Airplane to Peacock, Airplane to Peacock, Airplane to Peacock, Airplane to Peacock, Airplane to Peacock.

※1. このプリントは、しながわ・目黒こどもスクールのウェブサイトでダウンロードができます。無断複写・引用はご遠慮ください。
※2. このプリントを活用したオンライン授業のスケジュールは、しながわ・目黒こどもスクールのウェブサイトでご確認ください。

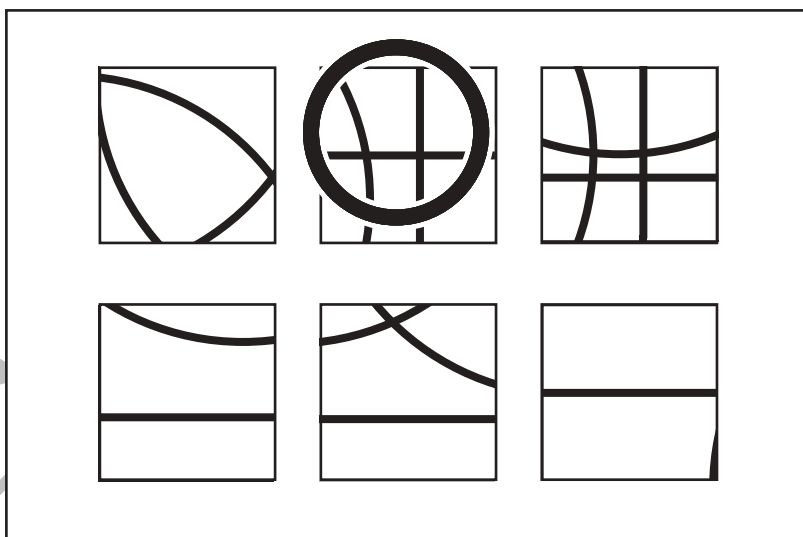
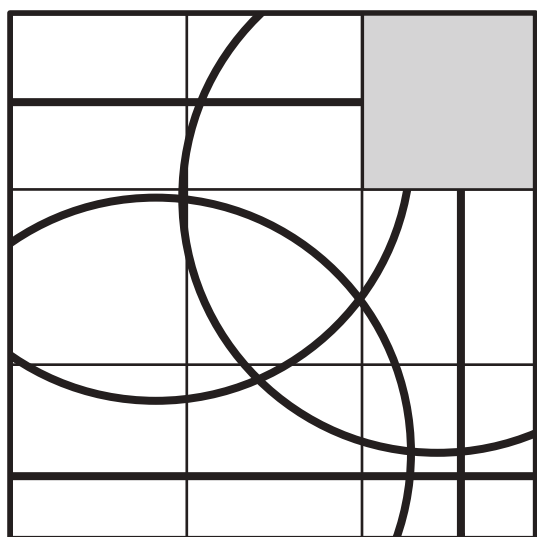

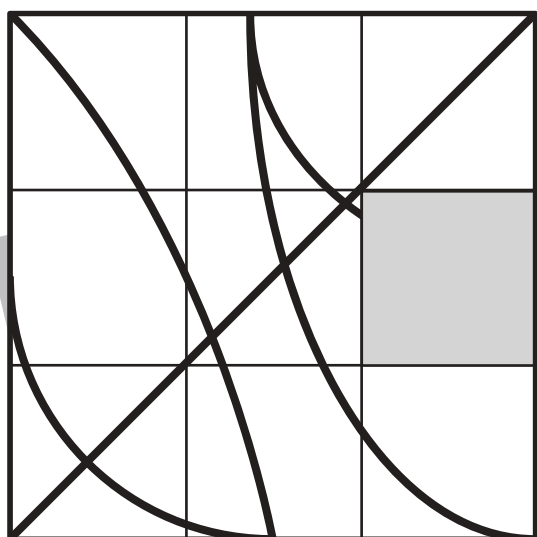
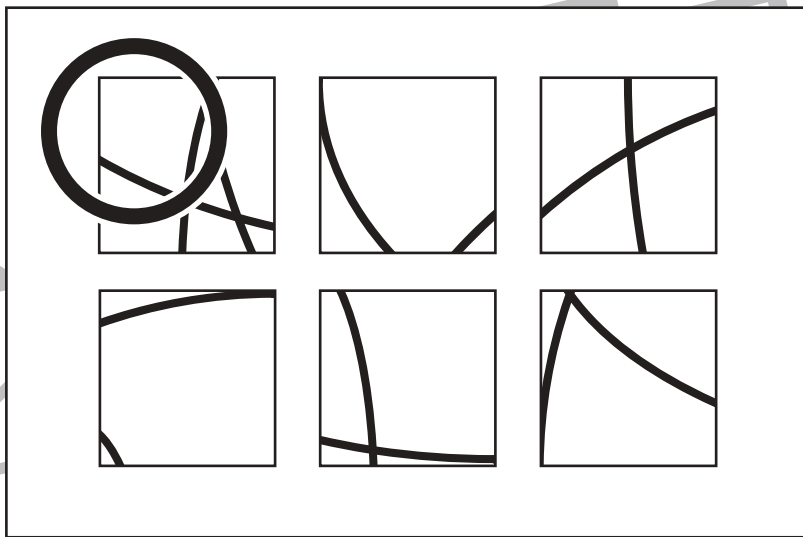
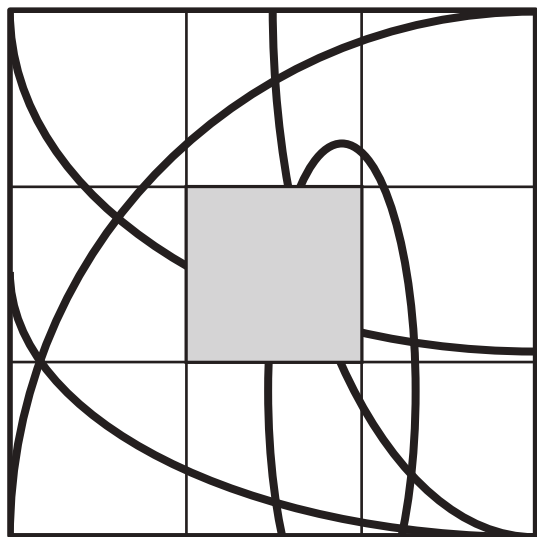


おうちで、やろう。

Study at home. 小学校受験の家庭学習教材

図形：構成 42

左の形は9枚のパズルでできていて、何本か線があります。この線はそれぞれ1本の線でつながっています。このとき、空いている場所に入るパズルを右の中から見つけて○をつけます。



※1. このプリントは、しながわ・目黒こどもスクールのウェブサイトでダウンロードができます。無断複写・引用はご遠慮ください。
※2. このプリントを活用したオンライン授業のスケジュールは、しながわ・目黒こどもスクールのウェブサイトでご確認ください。



おうちで、やろう。

Study at home. 小学校受験の家庭学習教材

推理：積み木 20

左の四角の中の2種類の積み木の数をかぞえます。

この2種類の積み木の数の違いを考えてその数だけ一番右の四角に○をかきます。

	$\bigcirc \times 1$
--	---------------------

	$\bigcirc \times 2$
--	---------------------

	$\bigcirc \times 1$
--	---------------------

	$\bigcirc \times 1$
--	---------------------

	$\bigcirc \times 2$
--	---------------------

※1. このプリントは、しながわ・目黒こどもスクールのウェブサイトからダウンロードできます。無断複写・引用はご遠慮ください。

※2. このプリントを活用したオンライン授業のスケジュールは、しながわ・目黒こどもスクールのウェブサイトでご確認ください。



おうちで、やろう。

Study at home. 小学校受験の家庭学習教材

推理：積み木 21

左の四角の中の2種類の積み木の数をかぞえます。

この2種類の積み木の数の違いを考えてその数だけ一番右の四角に○をかきます。

	$\bigcirc \times 2$
--	---------------------

	$\bigcirc \times 2$
--	---------------------

	$\bigcirc \times 2$
--	---------------------

	$\bigcirc \times 2$
--	---------------------

	$\bigcirc \times 1$
--	---------------------

※1. このプリントは、しながわ・目黒こどもスクールのウェブサイトでダウンロードができます。無断複写・引用はご遠慮ください。

※2. このプリントを活用したオンライン授業のスケジュールは、しながわ・目黒こどもスクールのウェブサイトでご確認ください。

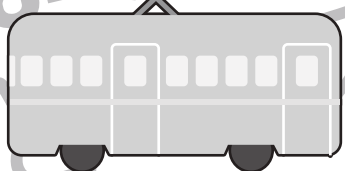

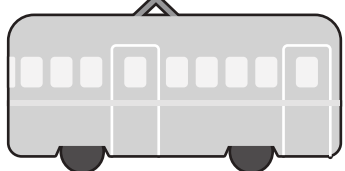

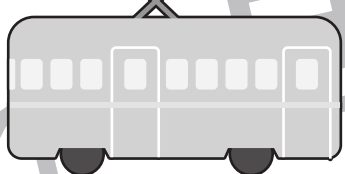
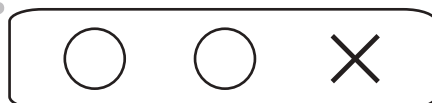

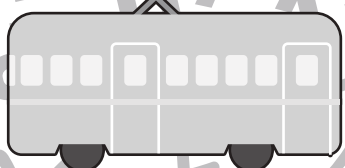



おうちで、やろう。

Study at home. 小学校受験の家庭学習教材

数量：条件推理 18

それぞれの電車には左の四角の中の人に乗っています。電車の上書いてある印は○は1人乗ってきた印で×は1人降りた印です。最後に電車に乗っている人が何人だったか考えて右の四角にその数だけ○をかきます。



※1. このプリントは、しながわ・目黒こどもスクールのウェブサイトでダウンロードができます。無断複写・引用はご遠慮ください。
※2. このプリントを活用したオンライン授業のスケジュールは、しながわ・目黒こどもスクールのウェブサイトでご確認ください。

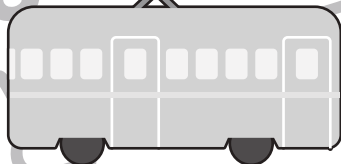
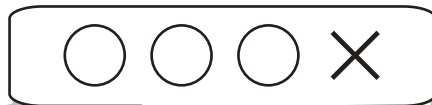

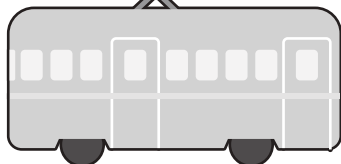

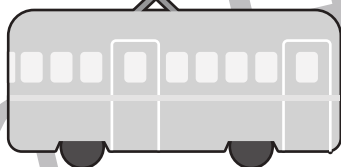


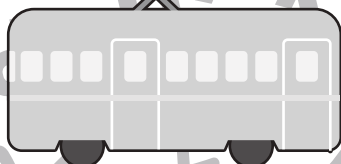
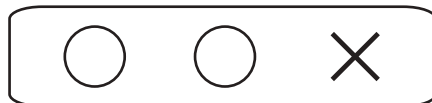



おうちで、よろう。

Study at home. 小学校受験の家庭学習教材

数量：条件推理 19

それぞれの電車には左の四角の中の人に乗っています。電車の上書いてある印は○は2人乗ってきた印で×は1人降りた印です。最後に電車に乗っている人が何人だったか考えて右の四角にその数だけ○をかきます。



※1. このプリントは、しながわ・目黒こどもスクールのウェブサイトでダウンロードができます。無断複写・引用はご遠慮ください。
※2. このプリントを活用したオンライン授業のスケジュールは、しながわ・目黒こどもスクールのウェブサイトでご確認ください。