



おうちで、やろう。

Study at home. 小学校受験の家庭学習教材

図形：重ね 39

左の四角の中のマスは透明な板です。左の3枚の絵をそのまま横にずらしてぴったり重ねたとき、○どうしが重ならないマス目はどこになるかを考えて、右のマス目の同じ場所に○を書きましょう。

※1. このプリントは、しながわ・目黒こどもスクールのウェブサイトでダウンロードができます。無断複写・引用はご遠慮ください。

※2. このプリントを活用したオンライン授業のスケジュールは、しながわ・目黒こどもスクールのウェブサイトでご確認ください。



おうちで、やろう。

Study at home. 小学校受験の家庭学習教材

図形：重ね 40

左の四角の中のマスは透明な板です。左の3枚の絵をそのまま横にずらしてぴったり重ねたとき、○どうしが重ならないマス目はどこになるかを考えて、右のマス目の同じ場所に○を書きましょう。

※1. このプリントは、しながわ・目黒こどもスクールのウェブサイトでダウンロードができます。無断複写・引用はご遠慮ください。

※2. このプリントを活用したオンライン授業のスケジュールは、しながわ・目黒こどもスクールのウェブサイトでご確認ください。



おうちで、やろう。

Study at home. 小学校受験の家庭学習教材

図形：重ね 41

左の四角の中のマスは透明な板です。左の3枚の絵をそのまま横にずらしてぴったり重ねたとき、Oどうしが重ならないマス目はどこになるかを考えて、右のマス目の同じ場所にOを書きましょう。

※1. このプリントは、しながわ・目黒こどもスクールのウェブサイトでダウンロードができます。無断複写・引用はご遠慮ください。
※2. このプリントを活用したオンライン授業のスケジュールは、しながわ・目黒こどもスクールのウェブサイトでご確認ください。



おうちで、やろう。

Study at home. 小学校受験の家庭学習教材

図形：重ね 42

左の四角の中のマスは透明な板です。左の3枚の絵をそのまま横にずらしてぴったり重ねたとき、○どうしが重ならないマス目はどこになるかを考えて、右のマス目の同じ場所に○を書きましょう。

※1. このプリントは、しながわ・目黒こどもスクールのウェブサイトでダウンロードができます。無断複写・引用はご遠慮ください。
※2. このプリントを活用したオンライン授業のスケジュールは、しながわ・目黒こどもスクールのウェブサイトでご確認ください。



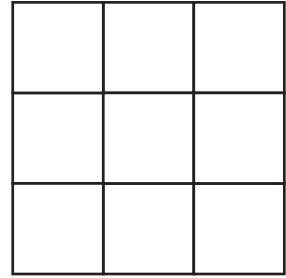
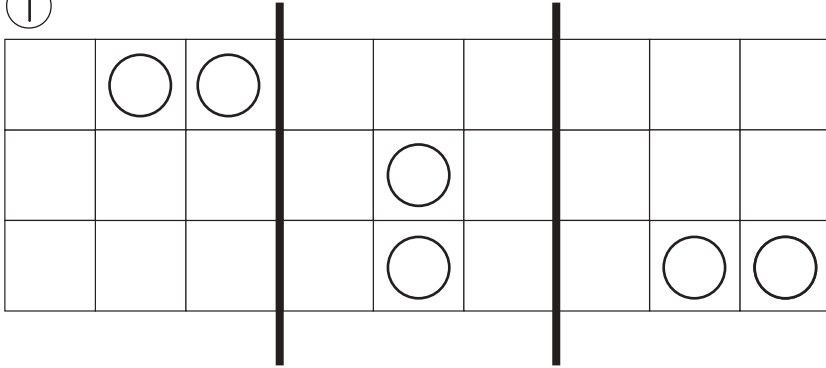
おうちで、やろう。

Study at home. 小学校受験の家庭学習教材

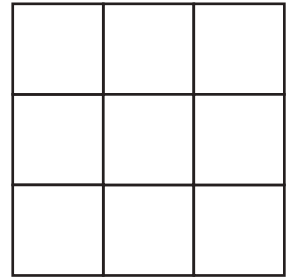
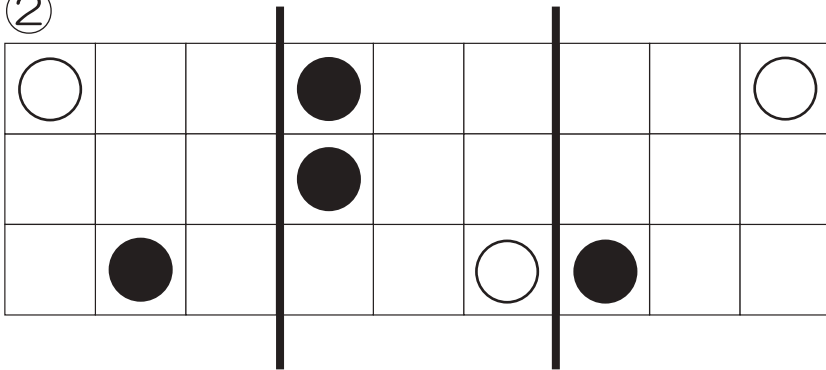
図形：折り重ね 40

透明な四角の中に白丸と黒丸がかかれています。太い線のところで真ん中に向かって折り重ねた時の見え方を考えて、右の四角に描きます。

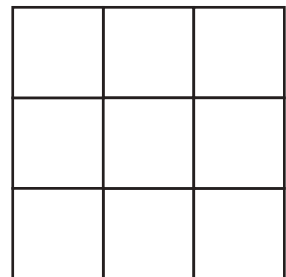
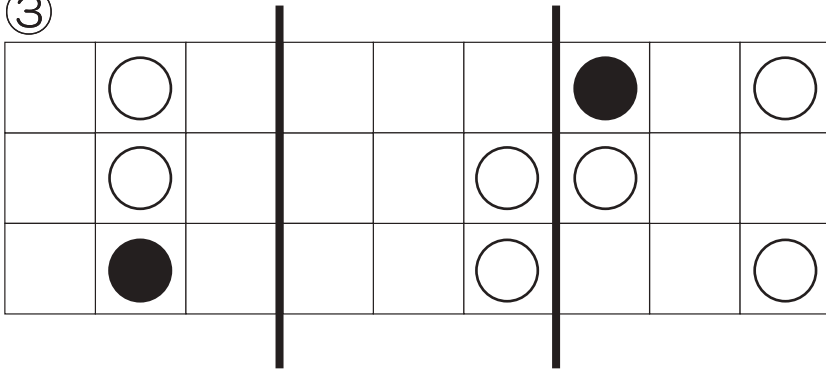
①



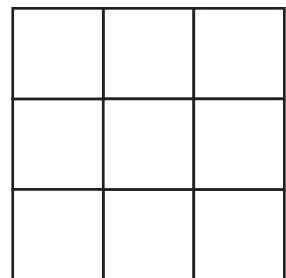
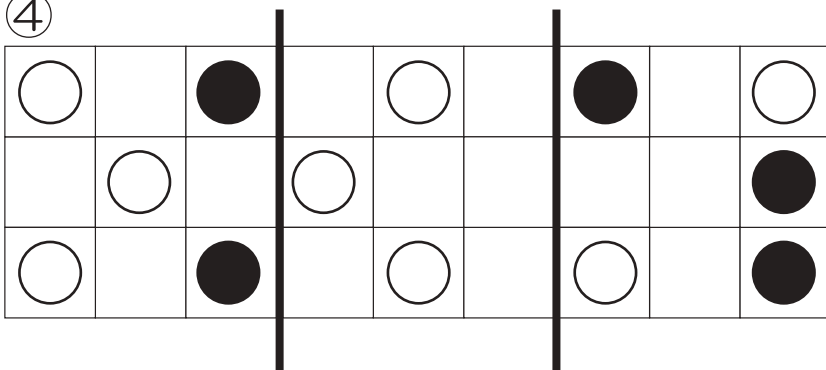
②



③



④



※1. このプリントは、しながわ・目黒こどもスクールのウェブサイトでダウンロードができます。無断複写・引用はご遠慮ください。

※2. このプリントを活用したオンライン授業のスケジュールは、しながわ・目黒こどもスクールのウェブサイトでご確認ください。



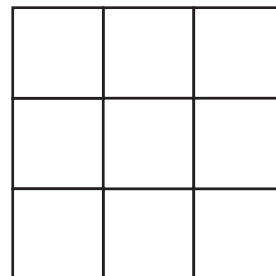
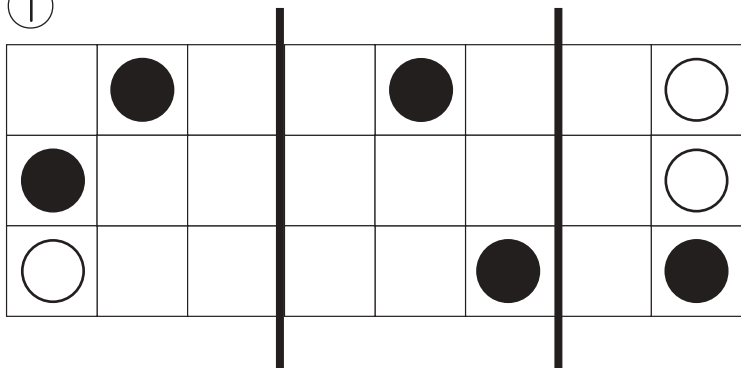
おうちで、やろう。

Study at home. 小学校受験の家庭学習教材

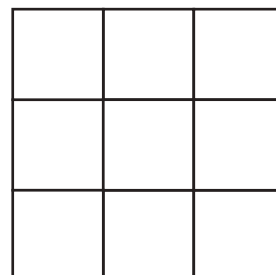
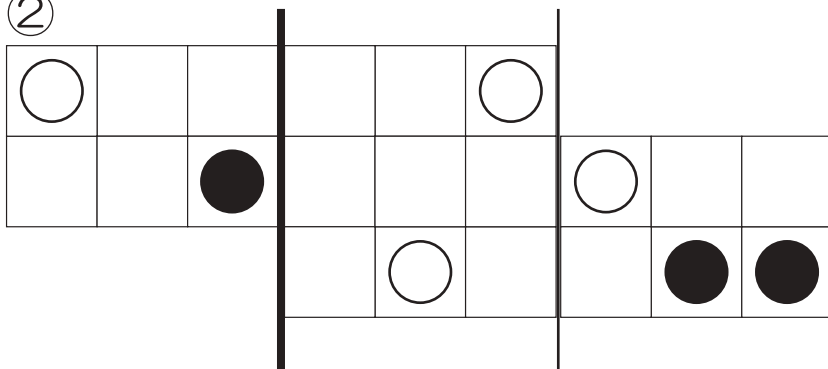
図形：折り重ね 41

透明な四角の中に白丸と黒丸がかかれています。太い線のところで真ん中に向かって折り重ねた時の見え方を考えて、右の四角に描きます。

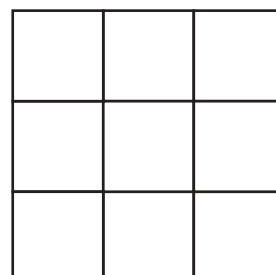
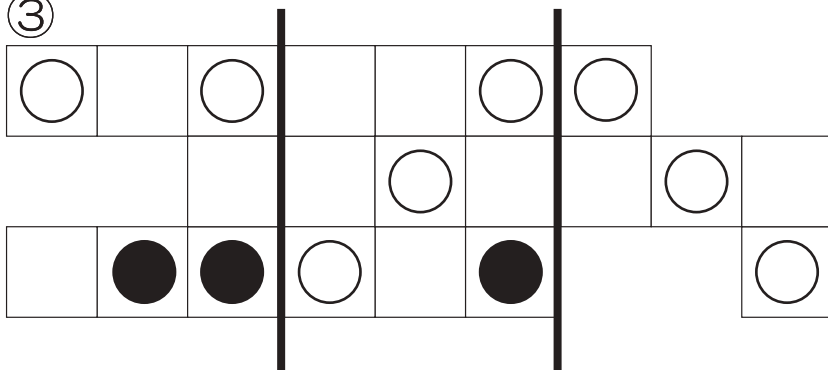
①



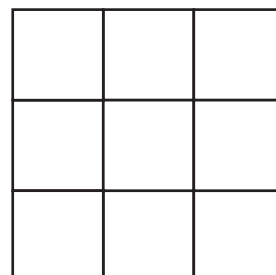
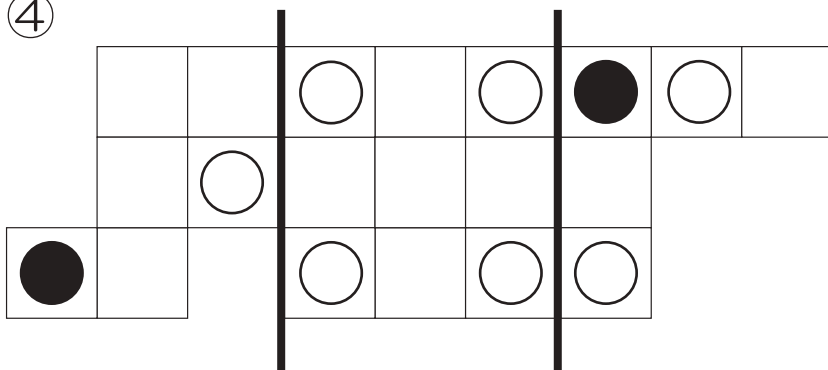
②



③



④



※1. このプリントは、しながわ・目黒こどもスクールのウェブサイトでダウンロードができます。無断複写・引用はご遠慮ください。

※2. このプリントを活用したオンライン授業のスケジュールは、しながわ・目黒こどもスクールのウェブサイトでご確認ください。



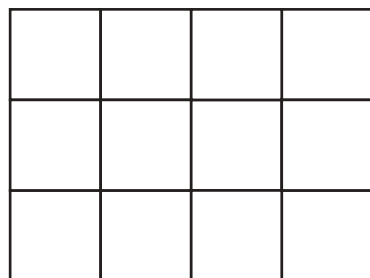

おうちで、やろう。

Study at home. 小学校受験の家庭学習教材

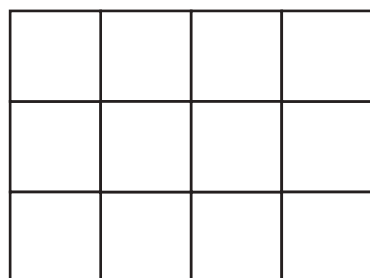
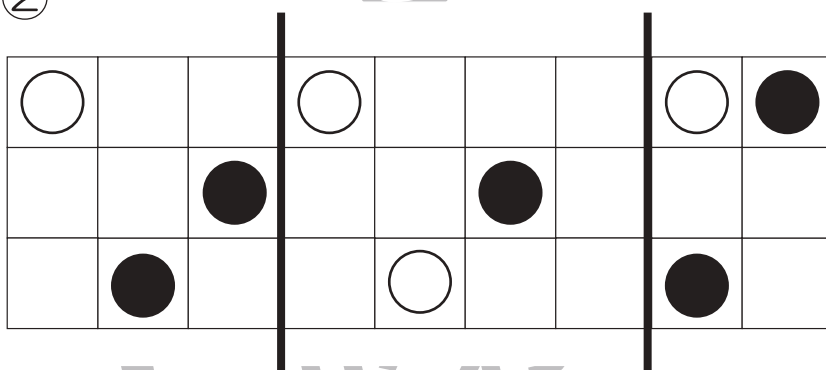
図形：折り重ね 42

透明な四角の中に白丸と黒丸がかかれています。太い線のところで真ん中に向かって折り重ねた時の見え方を考えて、右の四角に描きます。

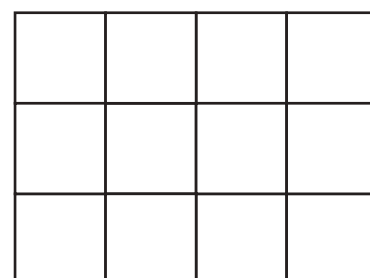
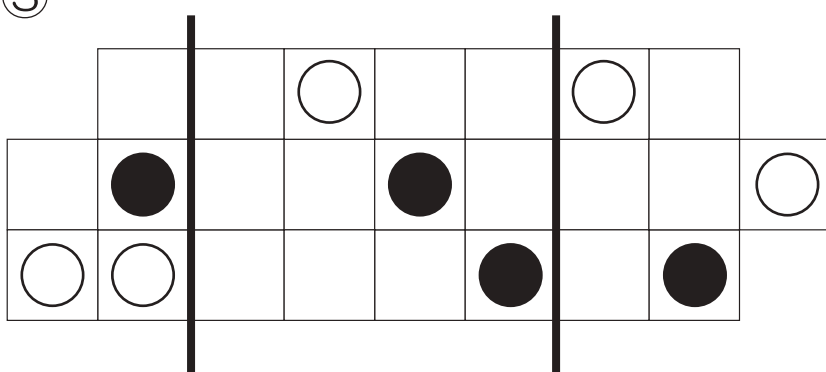
①



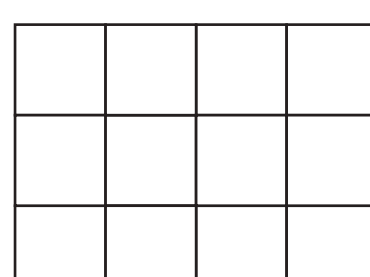
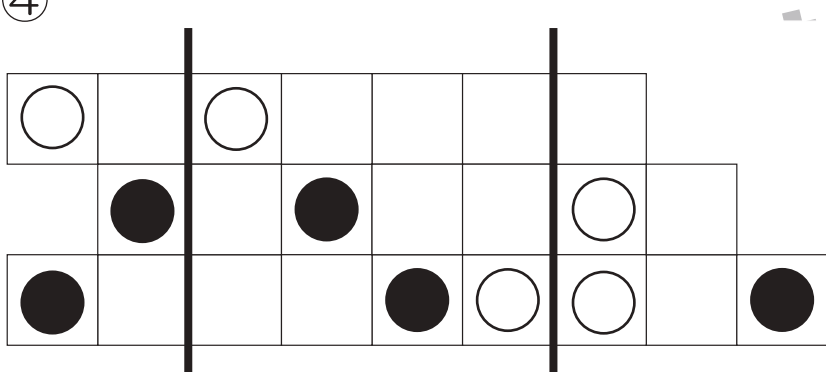
②



③



④



※1. このプリントは、しながわ・目黒こどもスクールのウェブサイトでダウンロードができます。無断複写・引用はご遠慮ください。

※2. このプリントを活用したオンライン授業のスケジュールは、しながわ・目黒こどもスクールのウェブサイトでご確認ください。

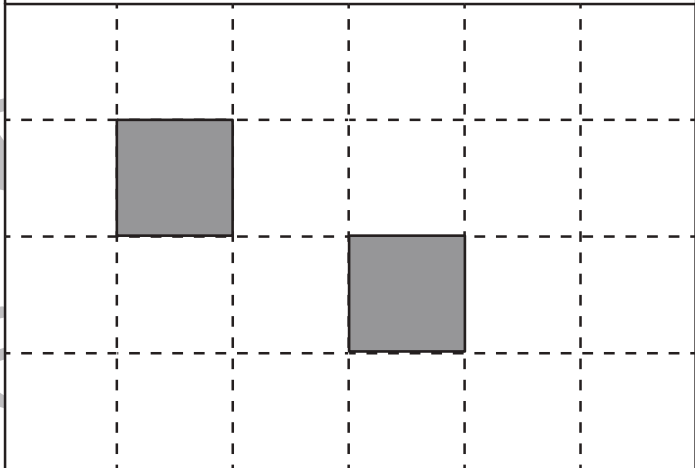
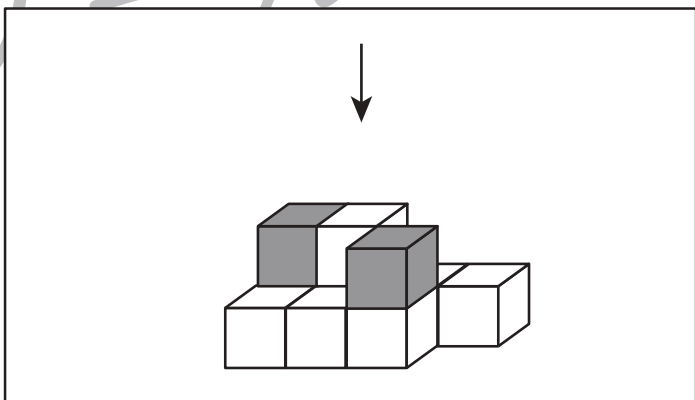
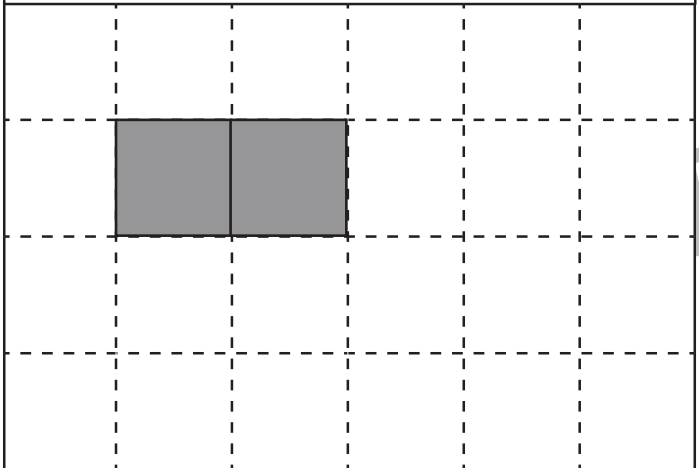
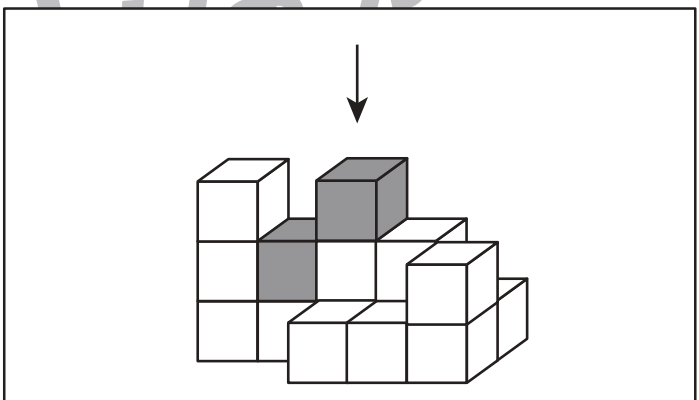
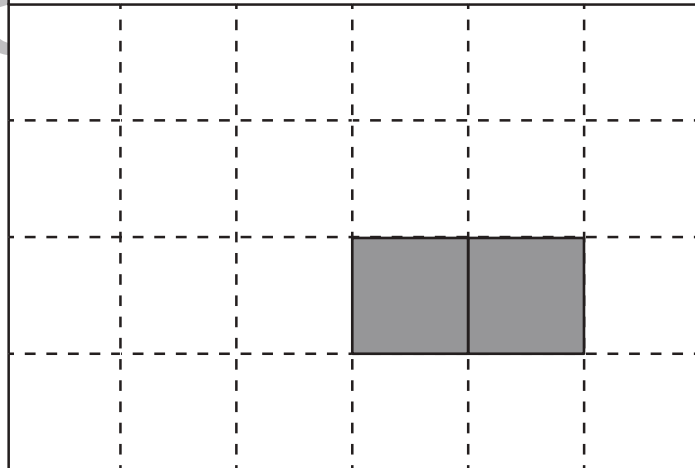
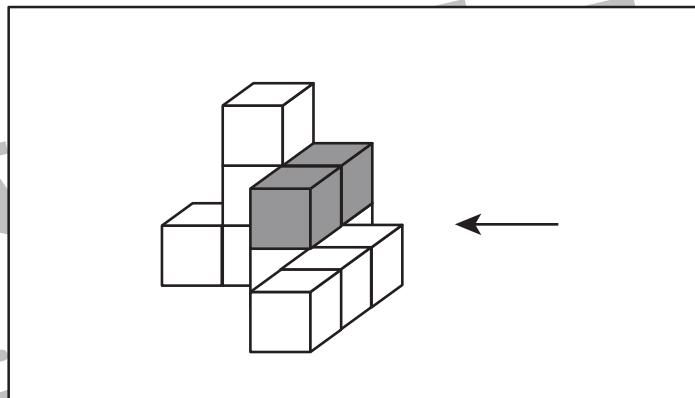
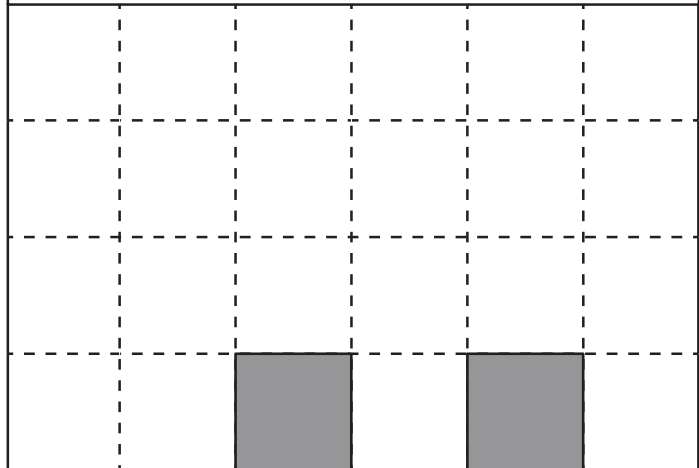
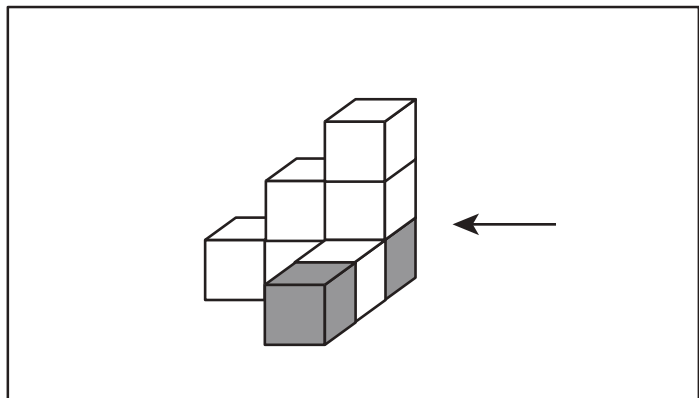


おうちで、やろう。

Study at home. 小学校受験の家庭学習教材

推理：積み木 22

積み木を矢印の方向から見ると、どのような形に見えますか。灰色の積み木の位置を考えて、白い積み木のあるマスに○をかきましょう。



※1. このプリントは、しながわ・目黒こどもスクールのウェブサイトで見ることができます。無断複写・引用はご遠慮ください。
※2. このプリントを活用したオンライン授業のスケジュールは、しながわ・目黒こどもスクールのウェブサイトでご確認ください。



おうちで、やろう。

Study at home. 小学校受験の家庭学習教材

推理：積み木 23

積み木を矢印の方向から見ると、どのような形に見えますか。灰色の積み木の位置を考えて、白い積み木のあるマスに○をかきましょう。

↓

→

←

↓

※1. このプリントは、しながわ・目黒こどもスクールのウェブサイトでダウンロードができます。無断複写・引用はご遠慮ください。
 ※2. このプリントを活用したオンライン授業のスケジュールは、しながわ・目黒こどもスクールのウェブサイトでご確認ください。



おうちで、やろう。

Study at home. 小学校受験の家庭学習教材

推理：積み木 24

積み木を矢印の方向から見ると、どのような形に見えますか。灰色の積み木の位置を考えて、白い積み木のあるマスに○をかきましょう。

→

→

←

↓

※1. このプリントは、しながわ・目黒こどもスクールのウェブサイトでダウンロードができます。無断複写・引用はご遠慮ください。

※2. このプリントを活用したオンライン授業のスケジュールは、しながわ・目黒こどもスクールのウェブサイトでご確認ください。