



おうちで、やろう。


Study at home. 小学校受験の家庭学習教材

指示の聞き取り 23


それぞれお話をよく聞いて問題に取り組みます。お話は一度しか読みませんのでしっかり聞きましょう。

- ① 皆さんから見て、パンダくんはウサギさんの左隣に隠れています。パンダくんのいる場所を考えて口の中を鉛筆で塗りましょう。
- ② 皆さんから見て、パンダくんはネコさんとイヌくんの間に隠れています。パンダくんのいる場所を考えて口の中を鉛筆で塗りましょう。
- ③ 皆さんから見て、パンダくんはイヌさんとライオンくんの間に隠れていて、ネコさんの隣にいるそうです。パンダくんのいそうな場所をすべて考えて口の中を鉛筆で塗りましょう。
- ④ 皆さんから見て、パンダくんはイヌさんとリスさんの間に隠れていて、ライオンくんとネコさんからは見えない場所にいるそうです。パンダくんのいそうな場所を考えて口の中を鉛筆で塗りましょう。


①




②



③



④



※1. このプリントは、しながわ・目黒こどもスクールのウェブサイトでダウンロードができます。無断複写・引用はご遠慮ください。

※2. このプリントを活用したオンライン授業のスケジュールは、しながわ・目黒こどもスクールのウェブサイトでご確認ください。



おうちで、やろう。

Study at home. 小学校受験の家庭学習教材

言語：しりとり8

白い星がある太い四角から黒い星のある太い四角までしりとりをしてつなげていき線をかきます。
縦と横には進めますが、斜めには進めません。

※1. このプリントは、しながわ・目黒こどもスクールのウェブサイトでダウンロードができます。無断複写・引用はご遠慮ください。
 ※2. このプリントを活用したオンライン授業のスケジュールは、しながわ・目黒こどもスクールのウェブサイトでご確認ください。



おうちで、やろう。

Study at home. 小学校受験の家庭学習教材

言語：しりとり9

白い星がある太い四角から黒い星のある太い四角まではじめから2番目の音でしりとりをしてつなげていき線をかきます。縦と横には進めますが、斜めには進めません。

※1. このプリントは、しながわ・目黒こどもスクールのウェブサイトでダウンロードができます。無断複写・引用はご遠慮ください。
 ※2. このプリントを活用したオンライン授業のスケジュールは、しながわ・目黒こどもスクールのウェブサイトでご確認ください。



おうちで、やろう。

Study at home. 小学校受験の家庭学習教材

言語：言葉4

それぞれの言葉にぴったり合う絵をみつけてそれぞれの記号をつけます。

- ①「すいすい」に合う絵を見つけて○をつけます。
- ②「ドンドン」に合う絵を見つけて△をつけます。
- ③「くるくる」に合う絵を見つけて◎をつけます。
- ④「ゆらゆら」に合う絵を見つけて×をつけます。
- ⑤「すやすや」に合う絵を見つけて□をつけます。
- ⑥「ふわふわ」に合う絵を見つけて∕をつけます。



※1. このプリントは、しながわ・目黒こどもスクールのウェブサイトでダウンロードができます。無断複写・引用はご遠慮ください。
 ※2. このプリントを活用したオンライン授業のスケジュールは、しながわ・目黒こどもスクールのウェブサイトでご確認ください。



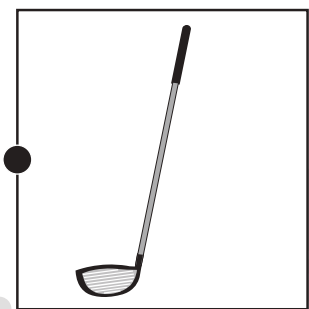

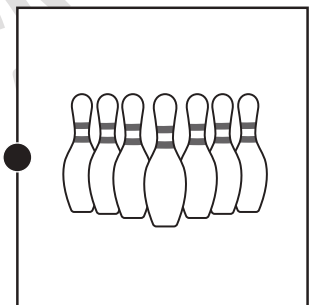
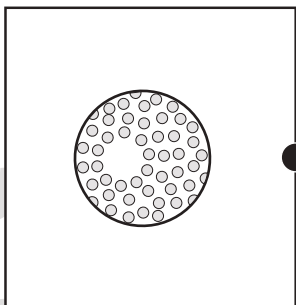

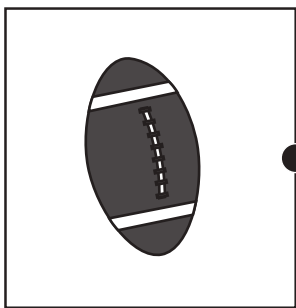

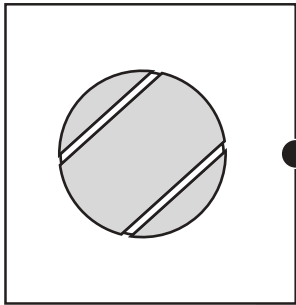


おうちで、やろう。

Study at home. 小学校受験の家庭学習教材

常識：スポーツ3

左側の絵のスポーツで使う道具を右側の絵の中から選んで線で結びましょう。



※1. このプリントは、しながわ・目黒こどもスクールのウェブサイトでダウンロードができます。無断複写・引用はご遠慮ください。
※2. このプリントを活用したオンライン授業のスケジュールは、しながわ・目黒こどもスクールのウェブサイトでご確認ください。





おうちで、やろう。

Study at home. 小学校受験の家庭学習教材

推理：重さ 18

天秤とバネを使って重さ比べをしました。3つのボールの中で一番重いボールはどれですか。右の四角の中のボールに○をつけます。

※1. このプリントは、しながわ・目黒こどもスクールのウェブサイトでダウンロードができます。無断複写・引用はご遠慮ください。

※2. このプリントを活用したオンライン授業のスケジュールは、しながわ・目黒こどもスクールのウェブサイトでご確認ください。



おうちで、やろう。

Study at home. 小学校受験の家庭学習教材

推理：重さ 19

天秤とバネを使って重さ比べをしました。3つのボールの中で一番軽いボールはどれですか。右の四角の中のボールに○をつけます。

※1. このプリントは、しながわ・目黒こどもスクールのウェブサイトでダウンロードができます。無断複写・引用はご遠慮ください。

※2. このプリントを活用したオンライン授業のスケジュールは、しながわ・目黒こどもスクールのウェブサイトでご確認ください。



おうちで、やろう。

Study at home. 小学校受験の家庭学習教材

数量：サイコロ 13

左の四角の中にあるウサギがサイコロを何回か振って出た目の数だけ進みます。サイコロの出た目は右の四角の中に3つあります。宝箱にちょうど止まるサイコロの順番はどれですか。右の3つの中から1つ見つけて太い四角の中に○をつけます。

	<table border="1"> <tbody> <tr> <td></td> <td></td> <td>→</td> <td></td> <td>→</td> <td></td> </tr> <tr> <td></td> <td></td> <td>→</td> <td></td> <td>→</td> <td></td> </tr> <tr> <td></td> <td></td> <td>→</td> <td></td> <td>→</td> <td></td> </tr> </tbody> </table>			→		→				→		→				→		→													
		→		→																											
		→		→																											
		→		→																											
	<table border="1"> <tbody> <tr> <td></td> <td></td> <td>→</td> <td></td> <td>→</td> <td></td> <td>→</td> <td></td> </tr> <tr> <td></td> <td></td> <td>→</td> <td></td> <td>→</td> <td></td> <td>→</td> <td></td> </tr> <tr> <td></td> <td></td> <td>→</td> <td></td> <td>→</td> <td></td> <td>→</td> <td></td> </tr> </tbody> </table>			→		→		→				→		→		→				→		→		→							
		→		→		→																									
		→		→		→																									
		→		→		→																									
	<table border="1"> <tbody> <tr> <td></td> <td></td> <td>→</td> <td></td> <td>→</td> <td></td> <td>→</td> <td></td> <td>→</td> <td></td> </tr> <tr> <td></td> <td></td> <td>→</td> <td></td> <td>→</td> <td></td> <td>→</td> <td></td> <td>→</td> <td></td> </tr> <tr> <td></td> <td></td> <td>→</td> <td></td> <td>→</td> <td></td> <td>→</td> <td></td> <td>→</td> <td></td> </tr> </tbody> </table>			→		→		→		→				→		→		→		→				→		→		→		→	
		→		→		→		→																							
		→		→		→		→																							
		→		→		→		→																							
	<table border="1"> <tbody> <tr> <td></td> <td></td> <td>→</td> <td></td> <td>→</td> <td></td> <td>→</td> <td></td> <td>→</td> <td></td> </tr> <tr> <td></td> <td></td> <td>→</td> <td></td> <td>→</td> <td></td> <td>→</td> <td></td> <td>→</td> <td></td> </tr> <tr> <td></td> <td></td> <td>→</td> <td></td> <td>→</td> <td></td> <td>→</td> <td></td> <td>→</td> <td></td> </tr> </tbody> </table>			→		→		→		→				→		→		→		→				→		→		→		→	
		→		→		→		→																							
		→		→		→		→																							
		→		→		→		→																							

※1. このプリントは、しながわ・目黒こどもスクールのウェブサイトでダウンロードができます。無断複写・引用はご遠慮ください。

※2. このプリントを活用したオンライン授業のスケジュールは、しながわ・目黒こどもスクールのウェブサイトでご確認ください。




















































































































































































おうちで、やろう。

Study at home. 小学校受験の家庭学習教材

数量：サイコロ 14

左の四角の中にあるウサギがサイコロを何回か振って出た目の数だけ進みます。サイコロの出た目は右の四角の中に3つあります。宝箱にちょうど止まるサイコロの順番はどれですか。右の3つの中から1つ見つけて太い四角の中に○をつけます。

<table border="1"> <tr><td></td><td></td><td></td><td></td><td></td></tr> <tr><td></td><td></td><td></td><td></td><td></td></tr> <tr><td></td><td></td><td></td><td></td><td></td></tr> </table>																<table border="1"> <tr><td></td><td>→</td><td></td><td>→</td><td></td></tr> <tr><td></td><td>→</td><td></td><td>→</td><td></td></tr> <tr><td></td><td>→</td><td></td><td>→</td><td></td></tr> </table>		→		→			→		→			→		→																										
																																																								
																																																								
	→		→																																																					
	→		→																																																					
	→		→																																																					
<table border="1"> <tr><td></td><td></td><td></td><td></td><td></td></tr> <tr><td></td><td></td><td></td><td></td><td></td></tr> <tr><td></td><td></td><td></td><td></td><td></td></tr> </table>																<table border="1"> <tr><td></td><td>→</td><td></td><td>→</td><td></td><td>→</td><td></td></tr> <tr><td></td><td>→</td><td></td><td>→</td><td></td><td>→</td><td></td></tr> <tr><td></td><td>→</td><td></td><td>→</td><td></td><td>→</td><td></td></tr> </table>		→		→		→			→		→		→			→		→		→																				
																																																								
																																																								
	→		→		→																																																			
	→		→		→																																																			
	→		→		→																																																			
<table border="1"> <tr><td></td><td></td><td></td><td></td><td></td><td></td><td></td></tr> <tr><td></td><td></td><td></td><td></td><td></td><td></td><td></td></tr> <tr><td></td><td></td><td></td><td></td><td></td><td></td><td></td></tr> <tr><td></td><td></td><td></td><td></td><td></td><td></td><td></td></tr> </table>																													<table border="1"> <tr><td></td><td>→</td><td></td><td>→</td><td></td><td>→</td><td></td><td>→</td><td></td></tr> <tr><td></td><td>→</td><td></td><td>→</td><td></td><td>→</td><td></td><td>→</td><td></td></tr> <tr><td></td><td>→</td><td></td><td>→</td><td></td><td>→</td><td></td><td>→</td><td></td></tr> </table>		→		→		→		→			→		→		→		→			→		→		→		→	
																																																								
																																																								
	→		→		→		→																																																	
	→		→		→		→																																																	
	→		→		→		→																																																	
<table border="1"> <tr><td></td><td></td><td></td><td></td><td></td></tr> <tr><td></td><td></td><td></td><td></td><td></td></tr> <tr><td></td><td></td><td></td><td></td><td></td></tr> <tr><td></td><td></td><td></td><td></td><td></td></tr> </table>																					<table border="1"> <tr><td></td><td>→</td><td></td><td>→</td><td></td><td>→</td><td></td><td>→</td><td></td></tr> <tr><td></td><td>→</td><td></td><td>→</td><td></td><td>→</td><td></td><td>→</td><td></td></tr> <tr><td></td><td>→</td><td></td><td>→</td><td></td><td>→</td><td></td><td>→</td><td></td></tr> </table>		→		→		→		→			→		→		→		→			→		→		→		→									
																																																								
																																																								
	→		→		→		→																																																	
	→		→		→		→																																																	
	→		→		→		→																																																	

※1. このプリントは、しながわ・目黒こどもスクールのウェブサイトでダウンロードができます。無断複写・引用はご遠慮ください。

※2. このプリントを活用したオンライン授業のスケジュールは、しながわ・目黒こどもスクールのウェブサイトでご確認ください。

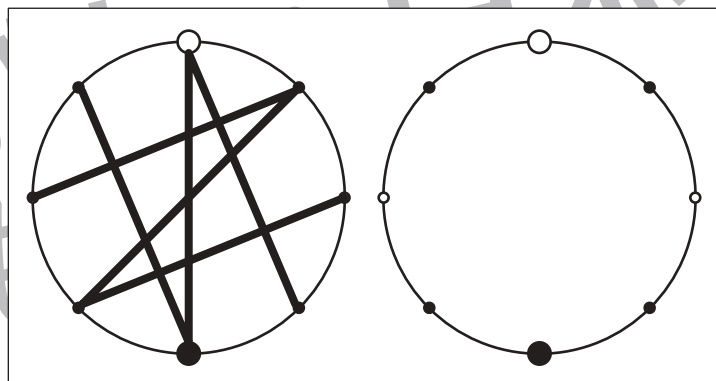
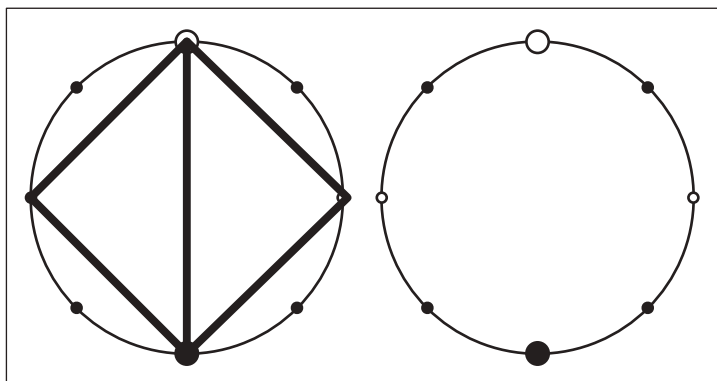
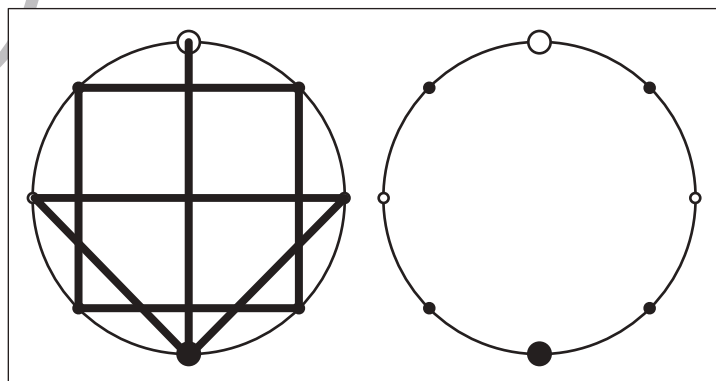
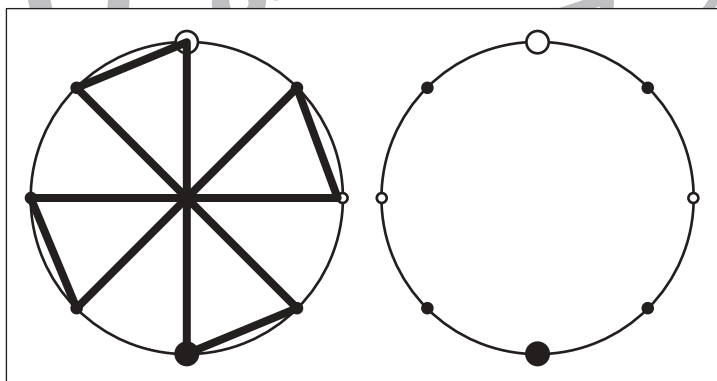
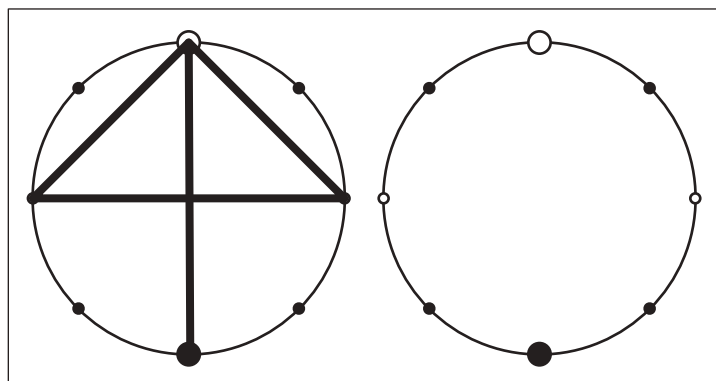
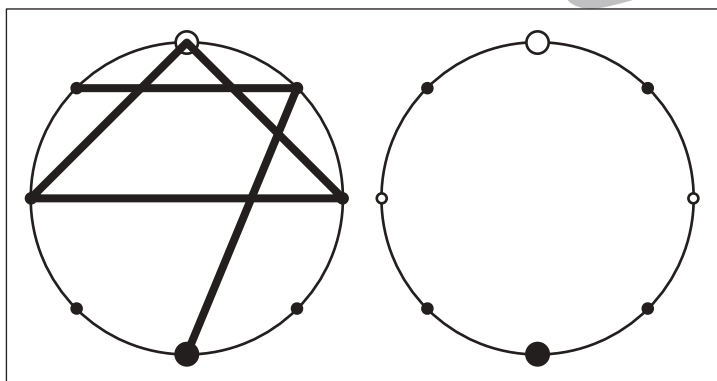
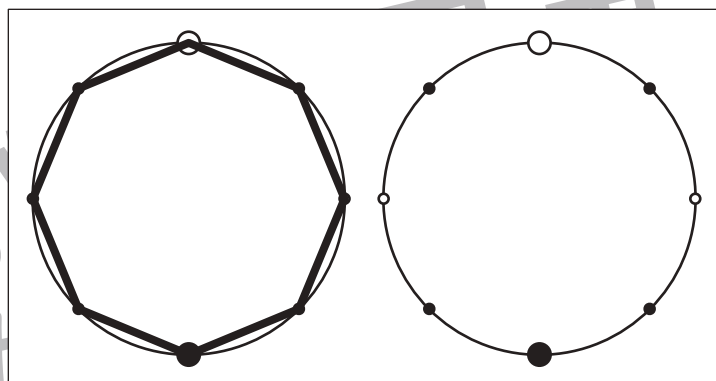
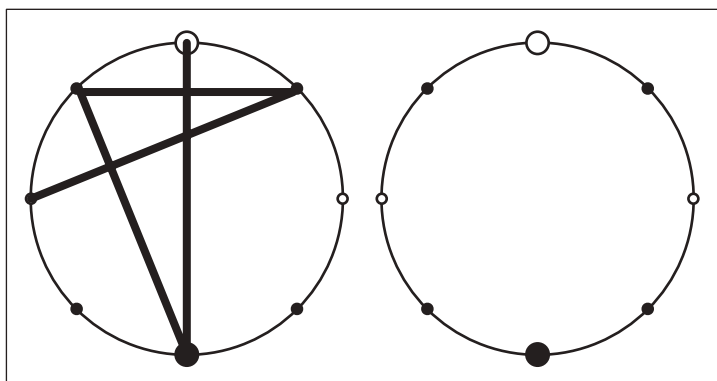


おうちで、やろう。

Study at home. 小学校受験の家庭学習教材

図形：点図形 62

左のお手本を見て、右にそっくり描き写しましょう。※このプリントに解答はありません。



※1. このプリントは、しながわ・目黒こどもスクールのウェブサイトでダウンロードができます。無断複写・引用はご遠慮ください。
※2. このプリントを活用したオンライン授業のスケジュールは、しながわ・目黒こどもスクールのウェブサイトでご確認ください。

