



おうちで、やろう。

Study at home. 小学校受験の家庭学習教材

常識：気持ち4

①～④のお話を聞き、正しいと思う顔に○をつけます。

※この問題に解答はありません。つけた表情についてご家庭でお話してみましょう。

①今日はけんじくんの母さんの誕生日です。けんじくんはお母さんへカーネーションをプレゼントしました。この時、お母さんはどんな顔だと思いますか。正しいと思う顔に○をつけます。また、どうしてその顔につけたのかお話してみましょう。




②今日は運動会、朝起きると雨が降っていました。その様子を見たともさんはどんな顔だと思いますか。正しいと思う顔に○をつけます。また、どうしてその顔につけたのかお話してみましょう。



③今日は夏祭りです。みちさんはお気に入りの浴衣を着ていきました。するとお友だちのみみさんが浴衣を褒めてくれました。この時、みちさんはどんな顔だと思いますか。正しいと思う顔に○をつけます。また、どうしてその顔につけたのかお話してみましょう。



④えみさんは大切な帽子をなくしてしまいました。探しても見つからなかったので諦めましたが、次の日、お友だちのたみこさんが持ってきてくれました。この時、えみさんはどんな顔だと思いますか。正しいと思う顔に○をつけます。また、どうしてその顔につけたのかお話してみましょう。





おうちで、やろう。

Study at home. 小学校受験の家庭学習教材

常識：気持ち5

①～④のお話を聞き、正しいと思う顔に○をつけます。

※この問題に解答はありません。つけた表情についてご家庭でお話してみましょう。


①たまきさんは幼稚園で積み木でお城を作っていました。するとたけしくんがやってきて壊してしまいました。この時、たまきさんはどんな顔だと思いますか。正しいと思う顔に○をつけます。また、どうしてその顔につけたのかお話してみましょう。



②ゆうこさんはお友だちのはなこさんとピクニックにいきました。お昼の時間になったのでお弁当を食べようとしたのですが、たくさん歩いたからか、お弁当の中身がぐちゃぐちゃになってしまいました。この時、ゆうこさんはどんな顔だと思いますか。正しいと思う顔に○をつけます。また、どうしてその顔につけたのかお話してみましょう。



③かんとくんが公園で遊んでいると急に雨が降ってきました。近くに大きな木があったので、雨宿りをしました。この時、かんとくんはどんな顔だと思いますか。正しいと思う顔に○をつけます。また、どうしてその顔につけたのかお話してみましょう。



④たけしくんは運動の時間に縄跳びで二重飛びをしました。でもたけしくんは上手にできませんでした。この時、たけしくんはどんな顔だと思いますか。正しいと思う顔に○をつけます。また、どうしてその顔につけたのかお話してみましょう。



※1. このプリントは、しながわ・目黒こどもスクールのウェブサイトダウンロードができます。無断複写・引用はご遠慮ください。

※2. このプリントを活用したオンライン授業のスケジュールは、しながわ・目黒こどもスクールのウェブサイトでご確認ください。







おうちで、やろう。

Study at home. 小学校受験の家庭学習教材

推理：歯車 10

歯車に重りをつるしました。このとき矢印のついている灰色の歯車は左右どちらに回りますか。回る方向の矢印に○をつけます。



※1. このプリントは、しながわ・目黒こどもスクールのウェブサイトでダウンロードができます。無断複写・引用はご遠慮ください。
※2. このプリントを活用したオンライン授業のスケジュールは、しながわ・目黒こどもスクールのウェブサイトでご確認ください。







おうちで、やろう。

Study at home. 小学校受験の家庭学習教材

推理：歯車 11

歯車に重りをつるしました。このとき矢印のついている灰色の歯車は左右どちらに回りますか。回る方向の矢印に○をつけます。



※1. このプリントは、しながわ・目黒こどもスクールのウェブサイトでダウンロードができます。無断複写・引用はご遠慮ください。
※2. このプリントを活用したオンライン授業のスケジュールは、しながわ・目黒こどもスクールのウェブサイトでご確認ください。





おうちで、やろう。

Study at home. 小学校受験の家庭学習教材

数量：置き換え 11

上の太い四角の中が約束です。それぞれのカバンの中には矢印の右の数だけクッキーが入っています。四角の中のカバンの中に入っているクッキーは合わせていくつになりますか。その数だけ下の四角のクッキーを○で囲みます。

※1. このプリントは、しながわ・目黒こどもスクールのウェブサイトでダウンロードができます。無断複写・引用はご遠慮ください。

※2. このプリントを活用したオンライン授業のスケジュールは、しながわ・目黒こどもスクールのウェブサイトでご確認ください。



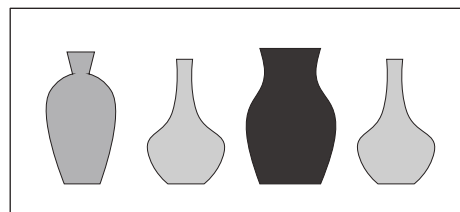
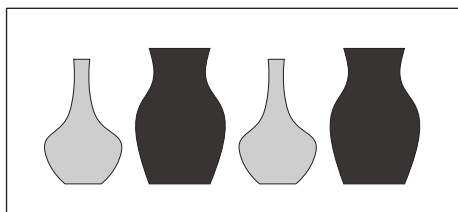
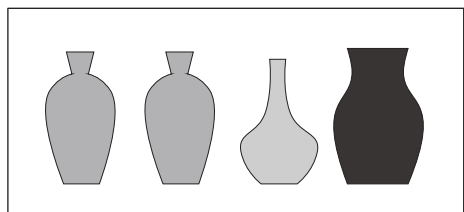

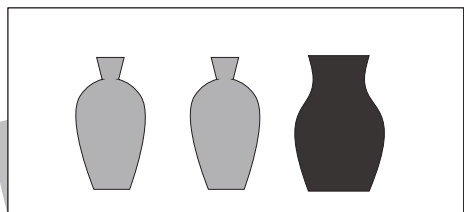
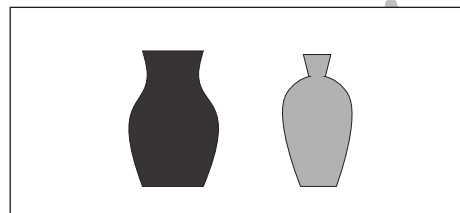
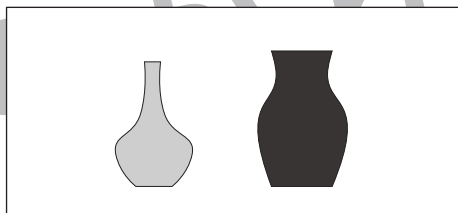
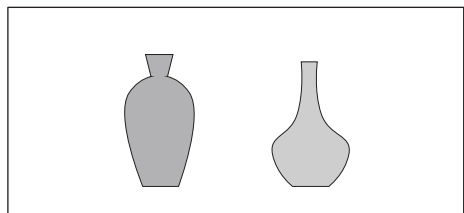
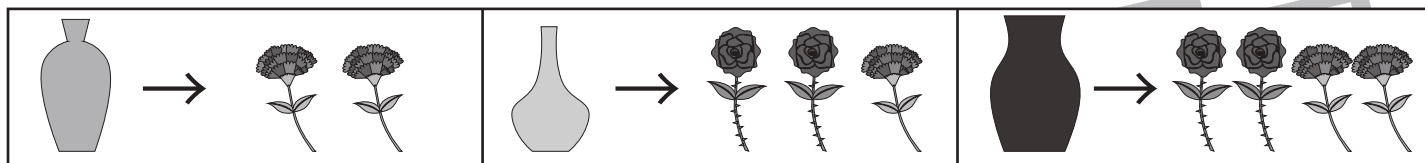


おうちで、やろう。

Study at home. 小学校受験の家庭学習教材

数量：置き換え 12

上の太い四角の中が約束です。それぞれの花瓶の中には矢印の右にある花が入っています。四角の中の花瓶に入っている花はそれぞれ合わせていくつになりますか。その数だけ下のそれぞれの花の四角に○をかきます。



※1. このプリントは、しながわ・目黒こどもスクールのウェブサイトでダウンロードができます。無断複写・引用はご遠慮ください。

※2. このプリントを活用したオンライン授業のスケジュールは、しながわ・目黒こどもスクールのウェブサイトでご確認ください。



おうちで、やろう。

Study at home. 小学校受験の家庭学習教材

数量：長さ21

上の太い四角の棒の長さがお手本です。①②の問題に答えましょう。

①お手本と同じ長さの棒をみつけて○をつけます。

②お手本より短い棒には×、お手本より長い棒には○をつけます。



①

This section contains six gray bars of different lengths: one is the same length as the sample bar (21 units), one is shorter (18 units), one is longer (24 units), one is shorter (15 units), one is longer (21 units), and one is shorter (12 units). Below the bars is a ruler with 10 equal segments, each 2.1 units long, for measurement.

This section contains eight gray bars of different lengths: one is longer (24 units), one is shorter (18 units), one is shorter (15 units), one is longer (21 units), one is shorter (12 units), one is longer (21 units), one is shorter (18 units), and one is longer (24 units). Below the bars is a ruler with 10 equal segments, each 2.1 units long, for measurement.

※1. このプリントは、しながわ・目黒こどもスクールのウェブサイトでダウンロードができます。無断複写・引用はご遠慮ください。

※2. このプリントを活用したオンライン授業のスケジュールは、しながわ・目黒こどもスクールのウェブサイトでご確認ください。



おうちで、やろう。

Study at home. 小学校受験の家庭学習教材

数量：長さ 22

一番上の太い四角の中の棒の長さがお手本です。下の四角の棒の長さを合わせてお手本と同じ長さになるものを下の四角の中から選び○をつけます。

A large rectangular box containing a thick gray bar at the top and a ruler below it. The ruler has 10 equal segments, each 2 units long, with vertical tick marks at the boundaries.

A box containing three gray bars of different lengths: 3 units, 4 units, and 5 units. Below the bars is a ruler with 5 equal segments, each 4 units long.

A box containing three gray bars of different lengths: 6 units, 7 units, and 8 units. Below the bars is a ruler with 5 equal segments, each 4 units long.

A box containing three gray bars of different lengths: 5 units, 6 units, and 7 units. Below the bars is a ruler with 5 equal segments, each 4 units long.

A box containing three gray bars of different lengths: 7 units, 8 units, and 9 units. Below the bars is a ruler with 5 equal segments, each 4 units long.

A box containing three gray bars of different lengths: 8 units, 9 units, and 10 units. Below the bars is a ruler with 5 equal segments, each 4 units long.

A box containing three gray bars of different lengths: 9 units, 10 units, and 11 units. Below the bars is a ruler with 5 equal segments, each 4 units long.

※1. このプリントは、しながわ・目黒こどもスクールのウェブサイトでダウンロードができます。無断複写・引用はご遠慮ください。
 ※2. このプリントを活用したオンライン授業のスケジュールは、しながわ・目黒こどもスクールのウェブサイトでご確認ください。



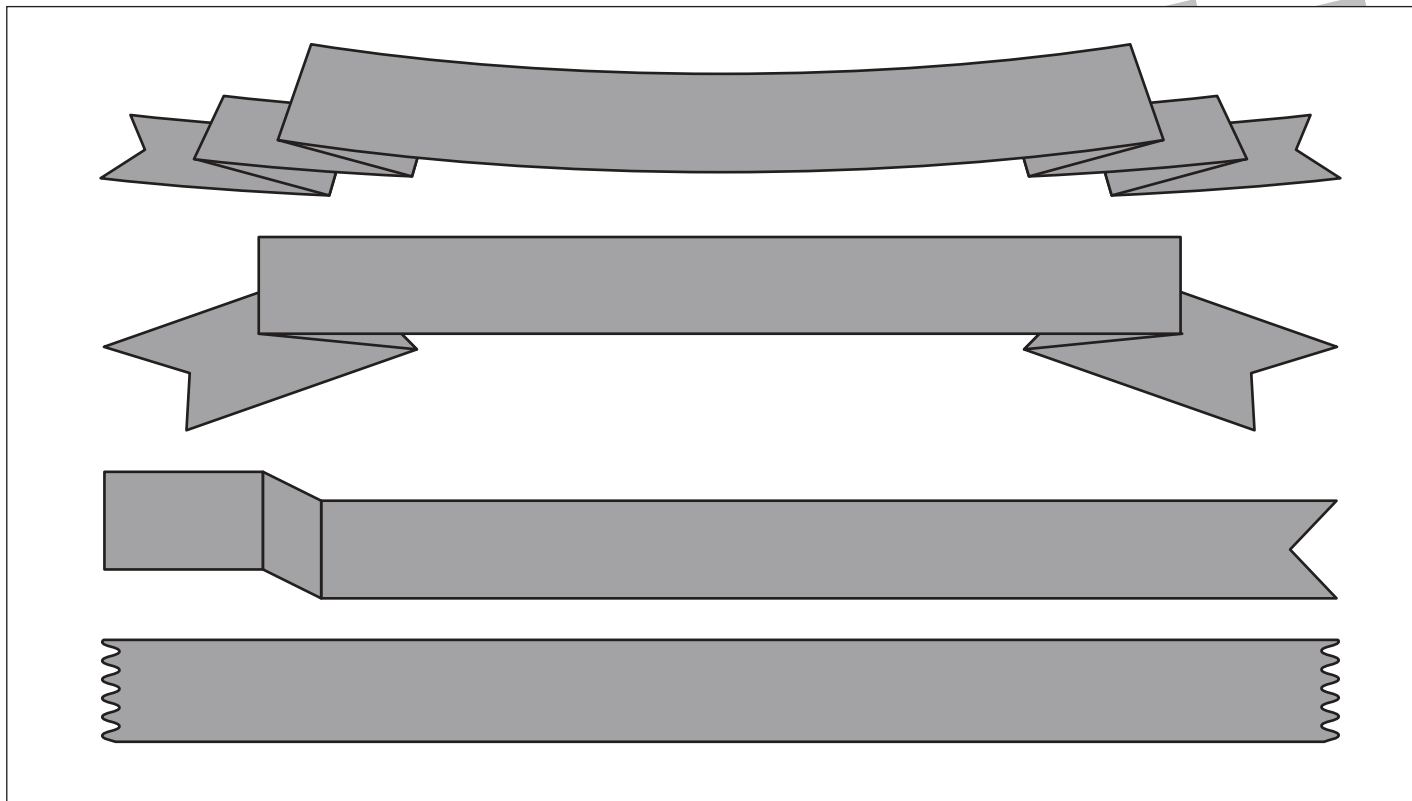
おうちで、やろう。

Study at home. 小学校受験の家庭学習教材

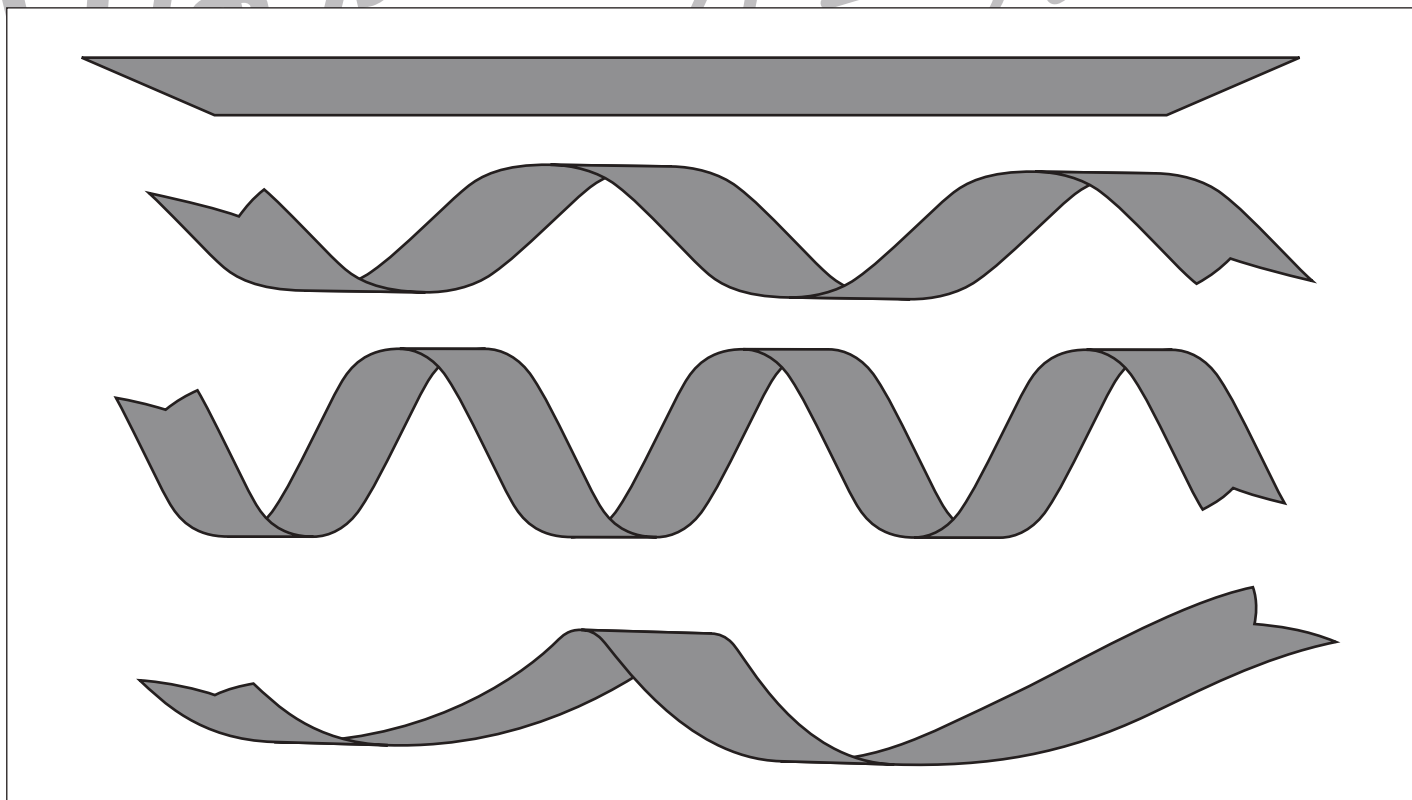
数量：長さ 23

- ① 一番長いリボンに○、一番短いリボンに△をつけます。
- ② 二番目に長いリボンに○、二番目に短いリボンに△をつけます。

①



②



※1. このプリントは、しながわ・目黒こどもスクールのウェブサイトからダウンロードできます。無断複写・引用はご遠慮ください。
※2. このプリントを活用したオンライン授業のスケジュールは、しながわ・目黒こどもスクールのウェブサイトでご確認ください。





おうちで、やろう。

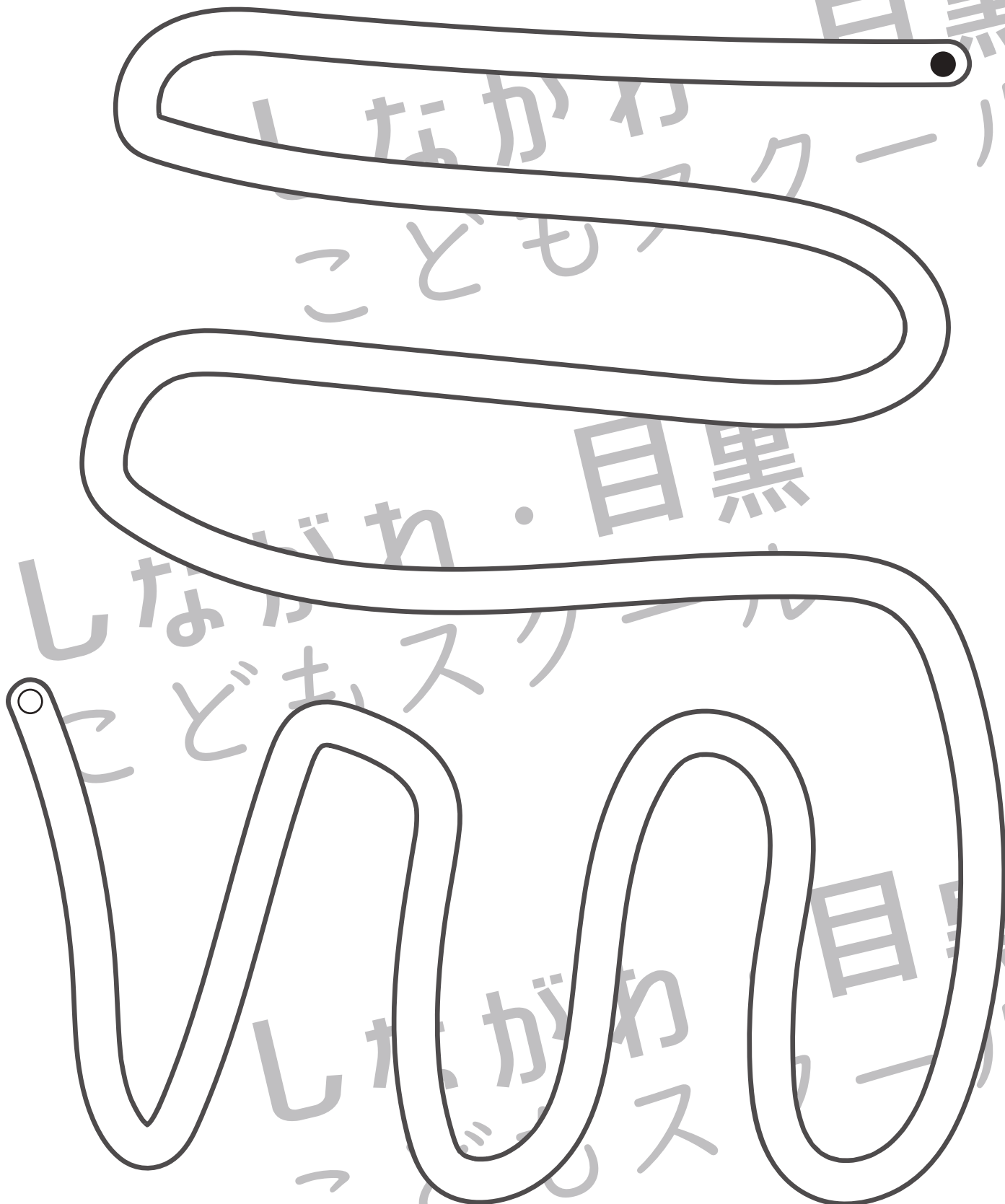
Study at home. 小学校受験の家庭学習教材

処理：運筆 25

白い丸から黒い丸まで一本の線をかきます。壁にぶつからないようにきれいに素早く線をかきましょう。

この問題はスピードを意識して取り組む練習をしてみましょう。(30秒～1分)

※えんぴつ、クーピー、水性ペンなどを使用しましょう。 ※この問題に解答はありません。



※1. このプリントは、しながわ・目黒こどもスクールのウェブサイトでダウンロードができます。無断複写・引用はご遠慮ください。

※2. このプリントを活用したオンライン授業のスケジュールは、しながわ・目黒こどもスクールのウェブサイトでご確認ください。