







おうちで、やろう。

Study at home. 小学校受験の家庭学習教材

推理：歯車 10

歯車に重りをつるしました。このとき矢印のついている灰色の歯車は左右どちらに回りますか。回る方向の矢印に○をつけます。



※1. このプリントは、しながわ・目黒こどもスクールのウェブサイトでダウンロードができます。無断複写・引用はご遠慮ください。
※2. このプリントを活用したオンライン授業のスケジュールは、しながわ・目黒こどもスクールのウェブサイトでご確認ください。









おうちで、やろう。

Study at home. 小学校受験の家庭学習教材

推理：歯車 11

歯車に重りをつるしました。このとき矢印のついている灰色の歯車は左右どちらに回りますか。回る方向の矢印に○をつけます。



※1. このプリントは、しながわ・目黒こどもスクールのウェブサイトでダウンロードができます。無断複写・引用はご遠慮ください。
※2. このプリントを活用したオンライン授業のスケジュールは、しながわ・目黒こどもスクールのウェブサイトでご確認ください。

































おうちで、やろう。


















Study at home. 小学校受験の家庭学習教材


















数量：置き換え 11



















上の太い四角の中が約束です。それぞれのカバンの中には矢印の右の数だけクッキーが入っています。四角の中のカバンの中に入っているクッキーは合わせていくつになりますか。その数だけ下の四角のクッキーを○で囲みます。



















 →  	 →   	 →    
---------------------------------------------------------------------------------------------------------------------------------------------------------------------------------------------------------------------------------------------------------	--------------------------------------------------------------------------------------------------------------------------------------------------------------------------------------------------------------------------------------------------------------------------------------------------------------------------------------------	---------------------------------------------------------------------------------------------------------------------------------------------------------------------------------------------------------------------------------------------------------------------------------------------------------------------------------------------------------------------------------------------------------------------------------------



















  
    
6 個囲む
    
    




















 
    
6 個囲む
    
    



















 
    
7 個囲む
    
    




















  
    
7 個囲む
    
    

  
    
10 個囲む
    
    

  
    
8 個囲む
    
    

   
    
10 個囲む
    
    

  
    
12 個囲む
    
    

   
    
12 個囲む
    
    

※1. このプリントは、しながわ・目黒こどもスクールのウェブサイトからダウンロードできます。無断複写・引用はご遠慮ください。

※2. このプリントを活用したオンライン授業のスケジュールは、しながわ・目黒こどもスクールのウェブサイトでご確認ください。












































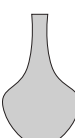















おうちで、やろう。

Study at home. 小学校受験の家庭学習教材

数量：置き換え 12

上の太い四角の中が約束です。それぞれの花瓶の中には矢印の右にある花が入っています。四角の中の花瓶に入っている花はそれぞれ合わせていくつになりますか。その数だけ下のそれぞれの花の四角に○をかきます。

 →  	 →   	 →    
 	 	 
 ○ × 3	 ○ × 3	 ○ × 4
 ○ × 2	 ○ × 4	 ○ × 2
  	  	  
 ○ × 6	 ○ × 4	 ○ × 5
 ○ × 2	 ○ × 6	 ○ × 6
   	   	   
 ○ × 7	 ○ × 6	 ○ × 6
 ○ × 4	 ○ × 8	 ○ × 6

※1. このプリントは、しながわ・目黒こどもスクールのウェブサイトでダウンロードができます。無断複写・引用はご遠慮ください。

※2. このプリントを活用したオンライン授業のスケジュールは、しながわ・目黒こどもスクールのウェブサイトでご確認ください。



おうちで、やろう。

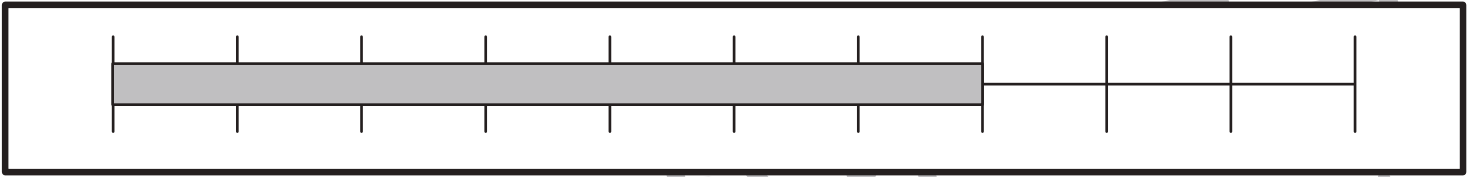
Study at home. 小学校受験の家庭学習教材

数量：長さ21

上の太い四角の棒の長さがお手本です。①②の問題に答えましょう。

①お手本と同じ長さの棒をみつけて○をつけます。

②お手本より短い棒には×、お手本より長い棒には○をつけます。



①

②

※1. このプリントは、しながわ・目黒こどもスクールのウェブサイトでダウンロードができます。無断複写・引用はご遠慮ください。

※2. このプリントを活用したオンライン授業のスケジュールは、しながわ・目黒こどもスクールのウェブサイトでご確認ください。



おうちで、やろう。

Study at home. 小学校受験の家庭学習教材

数量：長さ 22

一番上の太い四角の中の棒の長さがお手本です。下の四角の棒の長さを合わせてお手本と同じ長さになるものを下の四角の中から選び○をつけます。

A large gray bar is shown above a ruler with 10 equal segments. The bar spans from the 1st to the 9th segment mark.

Three gray bars are shown above a ruler with 5 equal segments. The top bar is 2 segments long, the middle bar is 3 segments long, and the bottom bar is 4 segments long. A large black circle is drawn around the middle bar.

Three gray bars are shown above a ruler with 5 equal segments. The top bar is 3 segments long, the middle bar is 4 segments long, and the bottom bar is 5 segments long.

Three gray bars are shown above a ruler with 5 equal segments. The top bar is 4 segments long, the middle bar is 5 segments long, and the bottom bar is 2 segments long.

Three gray bars are shown above a ruler with 5 equal segments. The top bar is 5 segments long, the middle bar is 4 segments long, and the bottom bar is 2 segments long. A large black circle is drawn around the middle bar.

Three gray bars are shown above a ruler with 5 equal segments. The top bar is 2 segments long, the middle bar is 4 segments long, and the bottom bar is 3 segments long.

Three gray bars are shown above a ruler with 5 equal segments. The top bar is 1 segment long, the middle bar is 3 segments long, and the bottom bar is 4 segments long. A large black circle is drawn around the middle bar.

※1. このプリントは、しながわ・目黒こどもスクールのウェブサイトでダウンロードができます。無断複写・引用はご遠慮ください。
 ※2. このプリントを活用したオンライン授業のスケジュールは、しながわ・目黒こどもスクールのウェブサイトでご確認ください。



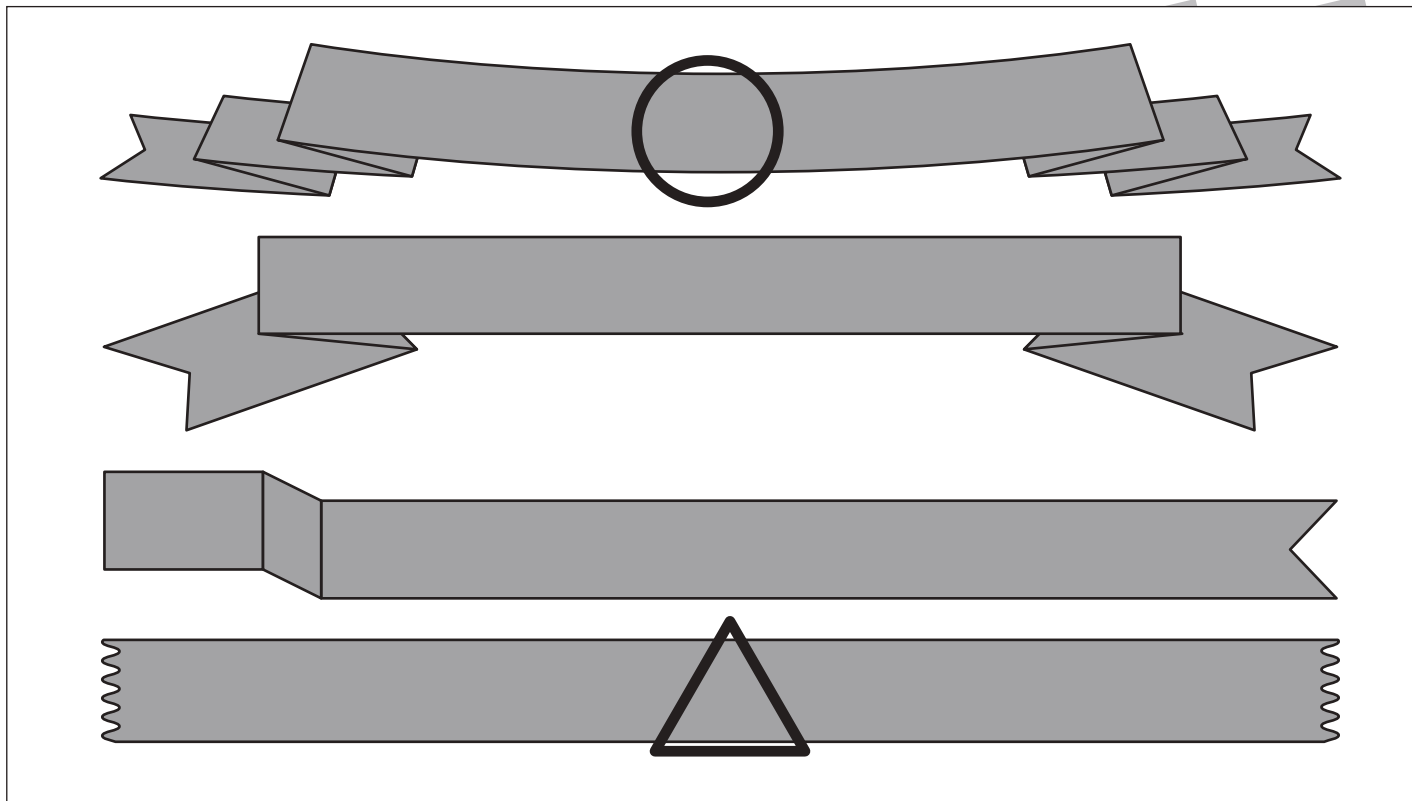
おうちで、やろう。

Study at home. 小学校受験の家庭学習教材

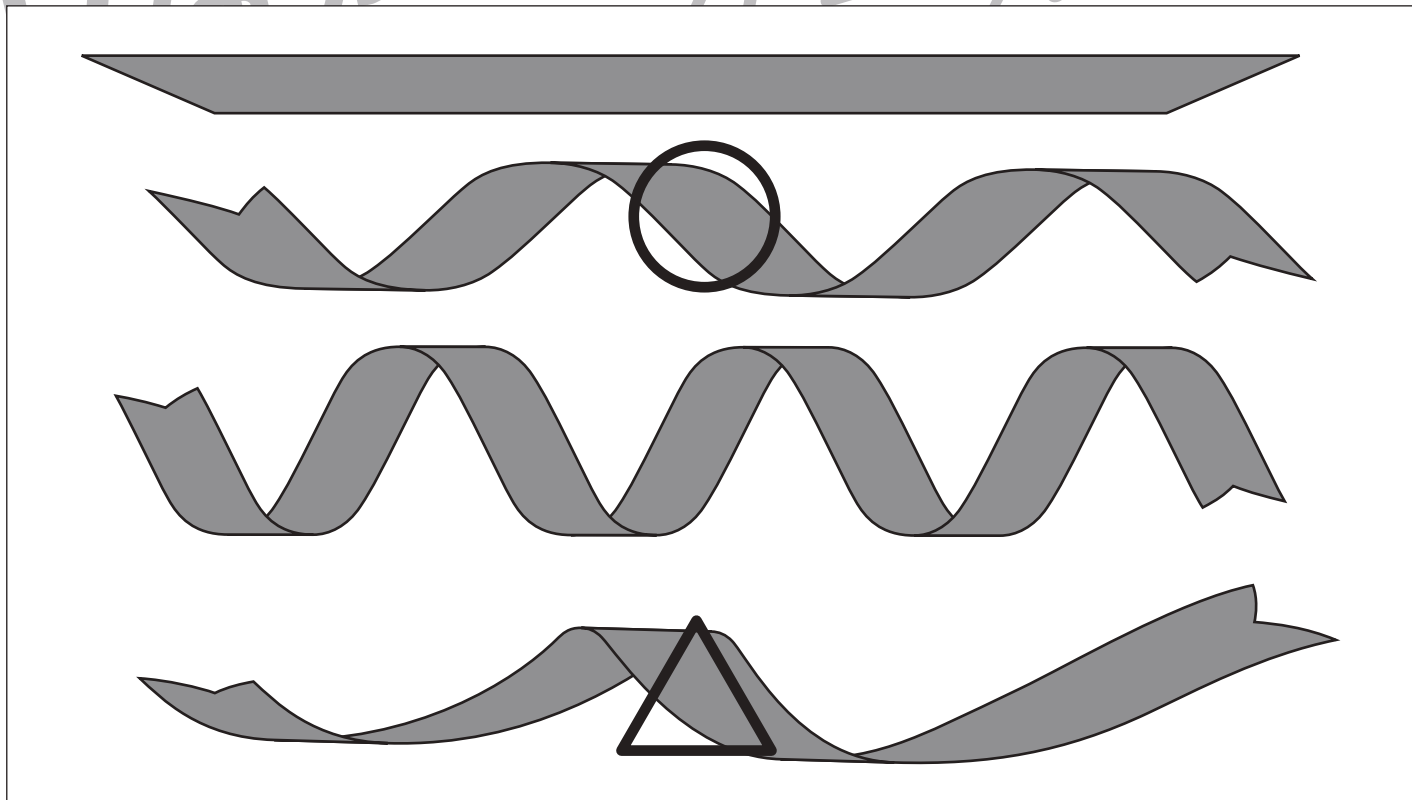
数量：長さ 23

- ①一番長いリボンに○、一番短いリボンに△をつけます。
- ②二番目に長いリボンに○、二番目に短いリボンに△をつけます。

①



②



※1. このプリントは、しながわ・目黒こどもスクールのウェブサイトからダウンロードできます。無断複写・引用はご遠慮ください。
※2. このプリントを活用したオンライン授業のスケジュールは、しながわ・目黒こどもスクールのウェブサイトでご確認ください。