







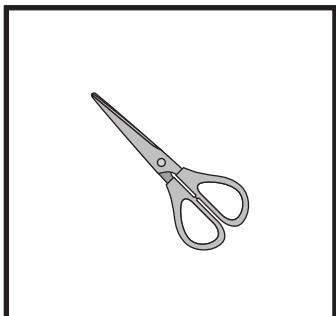




# おうちで、やろう。

Study at home. 小学校受験の家庭学習教材

## 言語：音の理解 44

左の太い四角の中の名前を右の四角の中のはじめの音を使って作ります。この時、使わない絵を右の中から選んで×をつけます。



※1. このプリントは、しながわ・目黒こどもスクールのウェブサイトからダウンロードができます。無断複写・引用はご遠慮ください。  
※2. このプリントを活用したオンライン授業のスケジュールは、しながわ・目黒こどもスクールのウェブサイトでご確認ください。





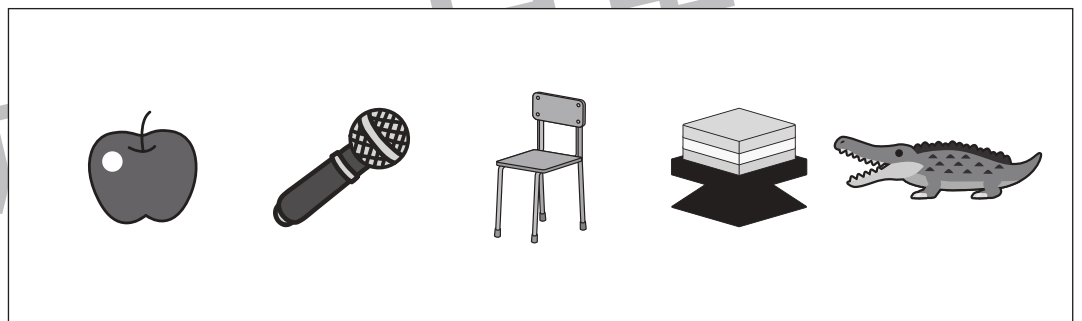


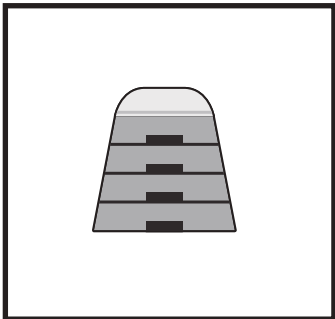



# おうちで、やろう。

Study at home. 小学校受験の家庭学習教材

## 言語：音の理解 45

左の太い四角の中の名前を右の四角の中のはじめの音を使って作ります。この時、使わない絵を右の中から選んで×をつけます。



※1. このプリントは、しながわ・目黒こどもスクールのウェブサイトからダウンロードできます。無断複写・引用はご遠慮ください。  
※2. このプリントを活用したオンライン授業のスケジュールは、しながわ・目黒こどもスクールのウェブサイトでご確認ください。





# おうちで、よろう。

Study at home. 小学校受験の家庭学習教材

## 図形：折り重ね 43

真ん中の線で折った形を一番右のように☆と○の順番で繋げた時、どのように見えるかを考えて○をかきます。

	+		=	
	+		=	
	+		=	

※1. このプリントは、しながわ・目黒こどもスクールのウェブサイトでダウンロードができます。無断複写・引用はご遠慮ください。  
 ※2. このプリントを活用したオンライン授業のスケジュールは、しながわ・目黒こどもスクールのウェブサイトでご確認ください。



# おうちで、よろう。

Study at home. 小学校受験の家庭学習教材

## 図形：折り重ね 44

真ん中の線で折った形を一番右のように☆と○の順番で繋げた時、どのように見えるかを考えて○をかきます。

	+		=	
	+		=	
	+		=	

※1. このプリントは、しながわ・目黒こどもスクールのウェブサイトでダウンロードができます。無断複写・引用はご遠慮ください。  
 ※2. このプリントを活用したオンライン授業のスケジュールは、しながわ・目黒こどもスクールのウェブサイトでご確認ください。



# おうちで、やろう。

Study at home. 小学校受験の家庭学習教材

## 推理：ルーレット2

矢印の方向に、動物ルーレットが回ります。モモにカバが来たとき、ブドウにくる動物に○、パイナップルにくる動物に△を右の四角の中の動物につけます。

①

The roulette wheel has 12 segments with the following items (clockwise from top): Strawberry, Peach, Banana, Pear, Pineapple, Kiwi, Tiger, Giraffe, Apple, Monkey, Zebra, and Grapes. The animal box contains: Monkey, Zebra, Tiger, Giraffe, Hippo, Elephant, and Lion (repeated).

矢印の方向に、動物ルーレットが回ります。トマトにカエルが来たとき、ナスにくる動物に○、ブロッコリーにくる動物に△を右の四角の中の動物につけます。

②

The roulette wheel has 12 segments with the following items (clockwise from top): Eggplant, Corn, Tomato, Pumpkin, Carrot, Mouse, Cabbage, Broccoli, Bell Pepper, Frog, Cat, and Bear. The animal box contains: Frog, Cat, Mouse, Rabbit, Panda, Dog, and Bear (repeated).

※1. このプリントは、しながわ・目黒こどもスクールのウェブサイトからダウンロードできます。無断複写・引用はご遠慮ください。

※2. このプリントを活用したオンライン授業のスケジュールは、しながわ・目黒こどもスクールのウェブサイトでご確認ください。



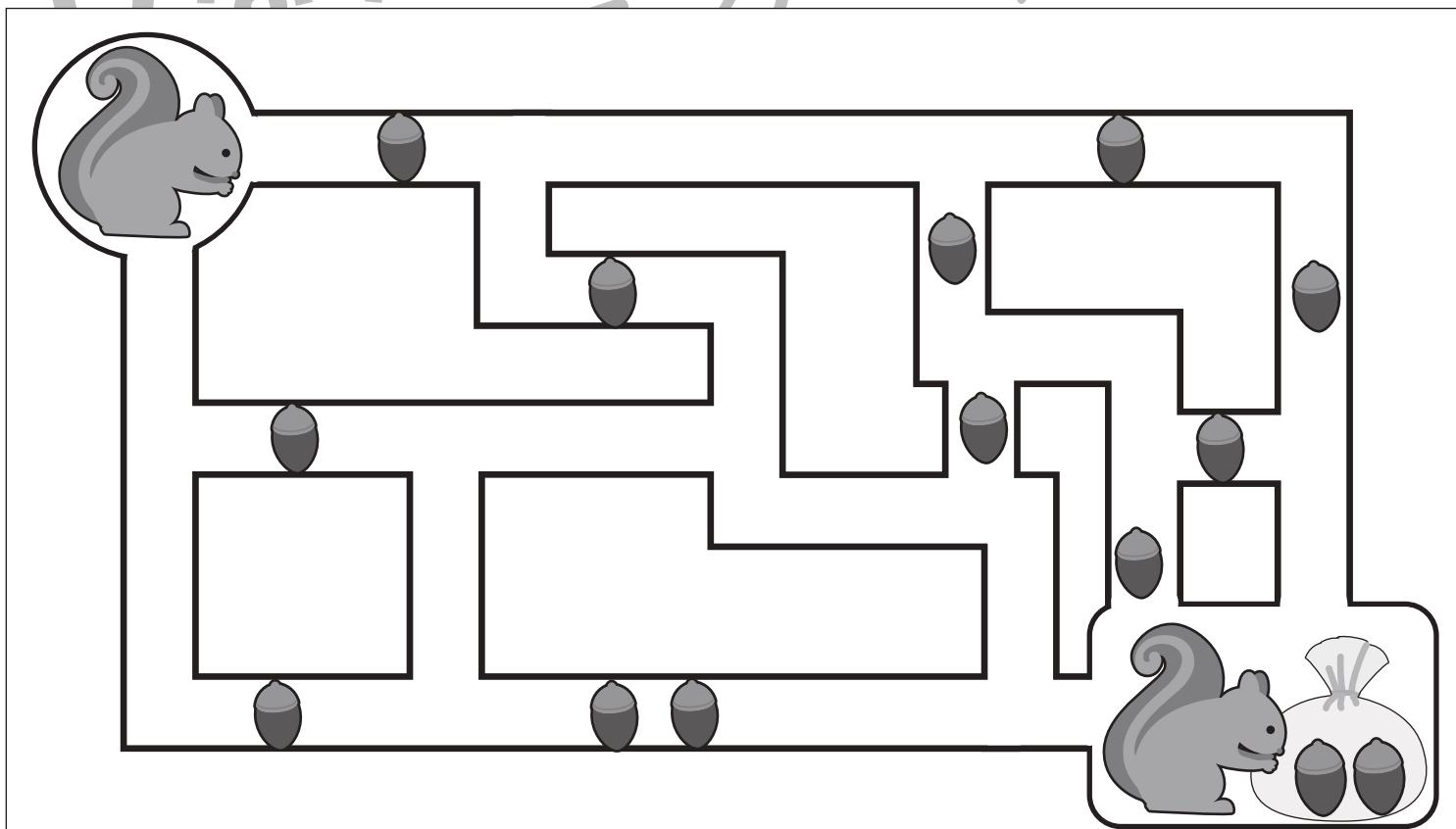
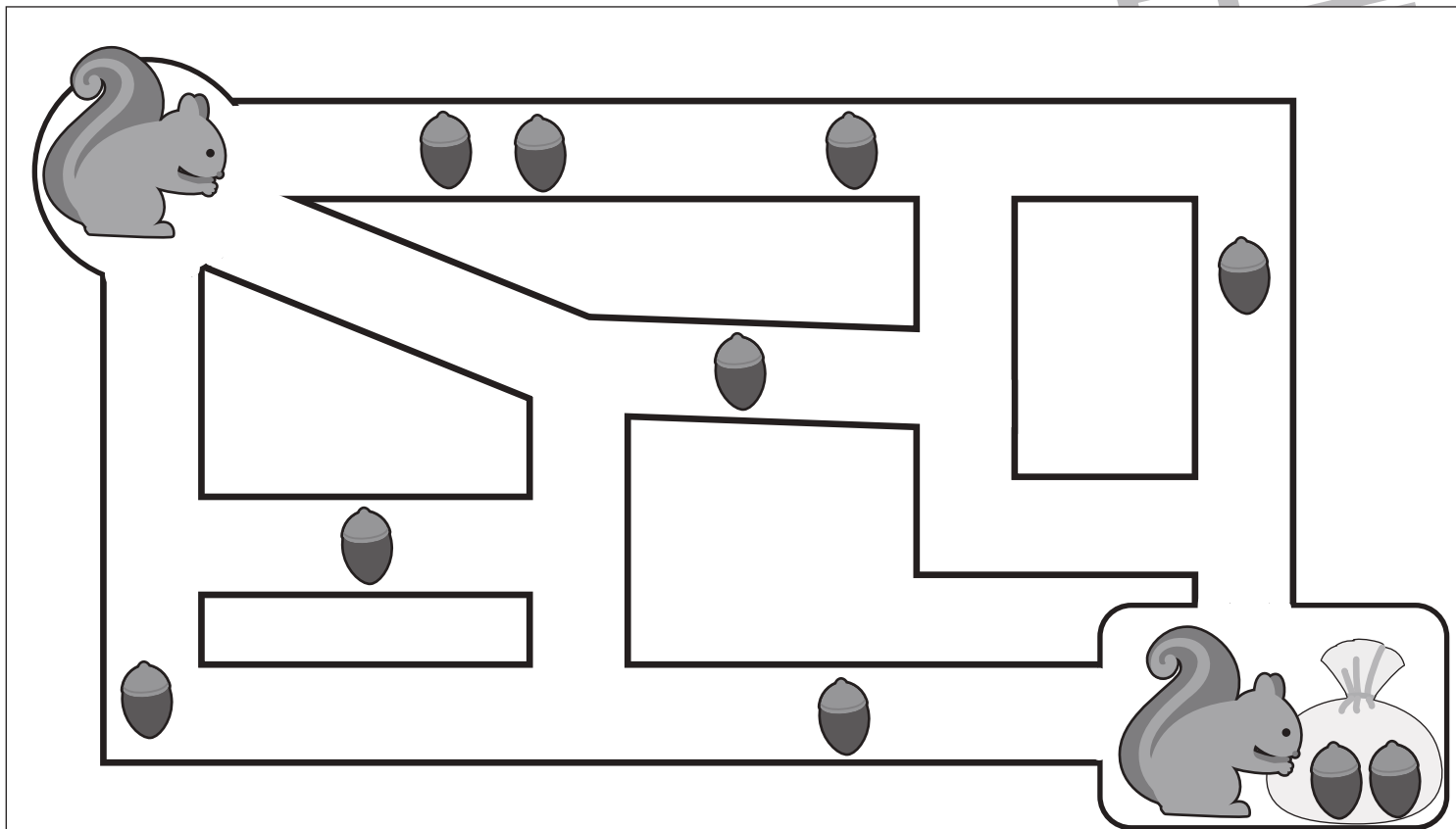
# おうちで、やろう。

Study at home. 小学校受験の家庭学習教材

## 推理：条件推理 24

左上がスタートです。道の途中でどんぐりが落ちています。リスはどんぐりを拾いながら右下のゴールまでの道を進んでいきます。どんぐりを全て拾う進み方を考えてその道に線で引きましょう。来た道は戻ることができません。

目黒



※1. このプリントは、しながわ・目黒こどもスクールのウェブサイトでダウンロードができます。無断複写・引用はご遠慮ください。  
※2. このプリントを活用したオンライン授業のスケジュールは、しながわ・目黒こどもスクールのウェブサイトでご確認ください。



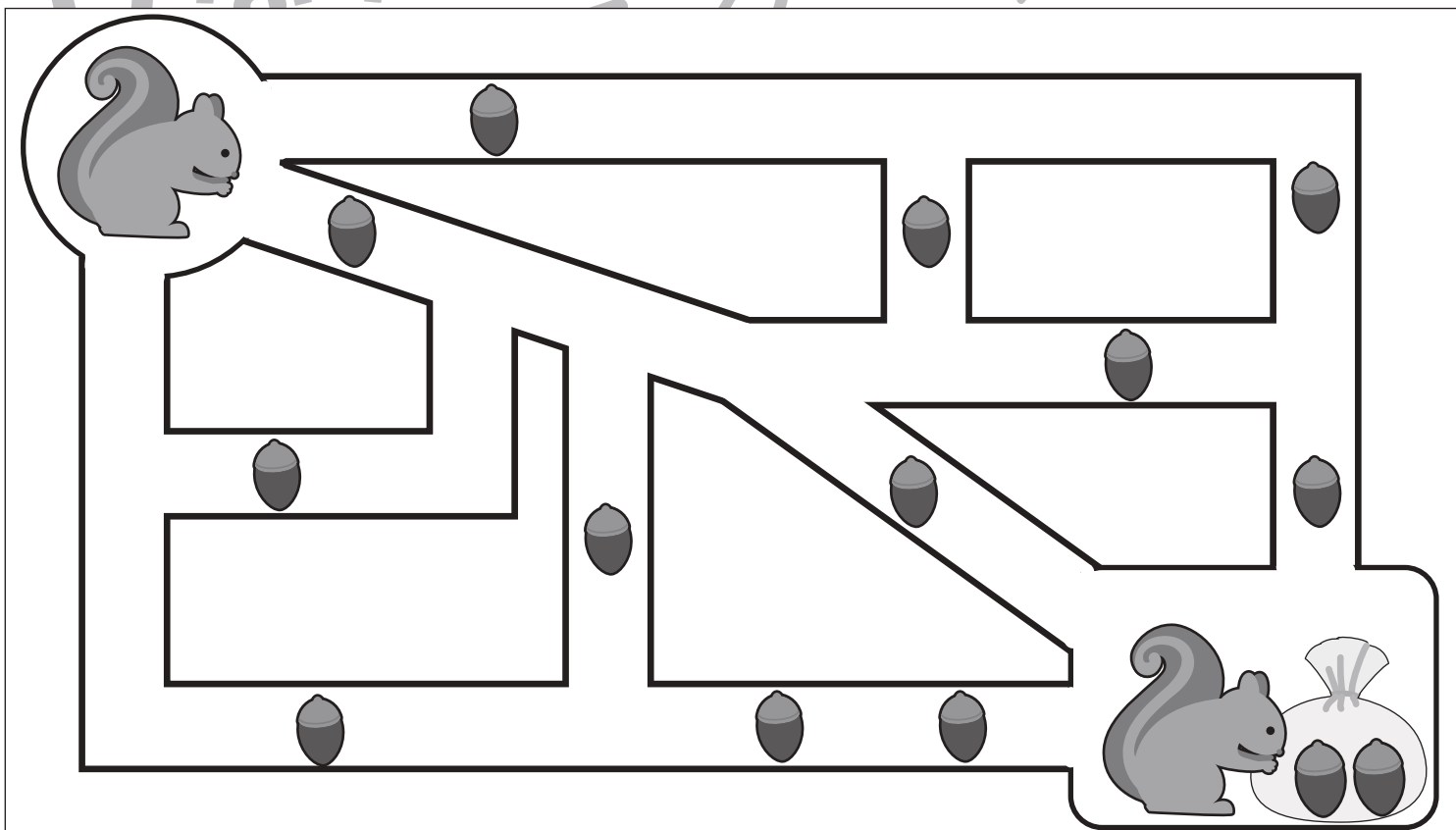
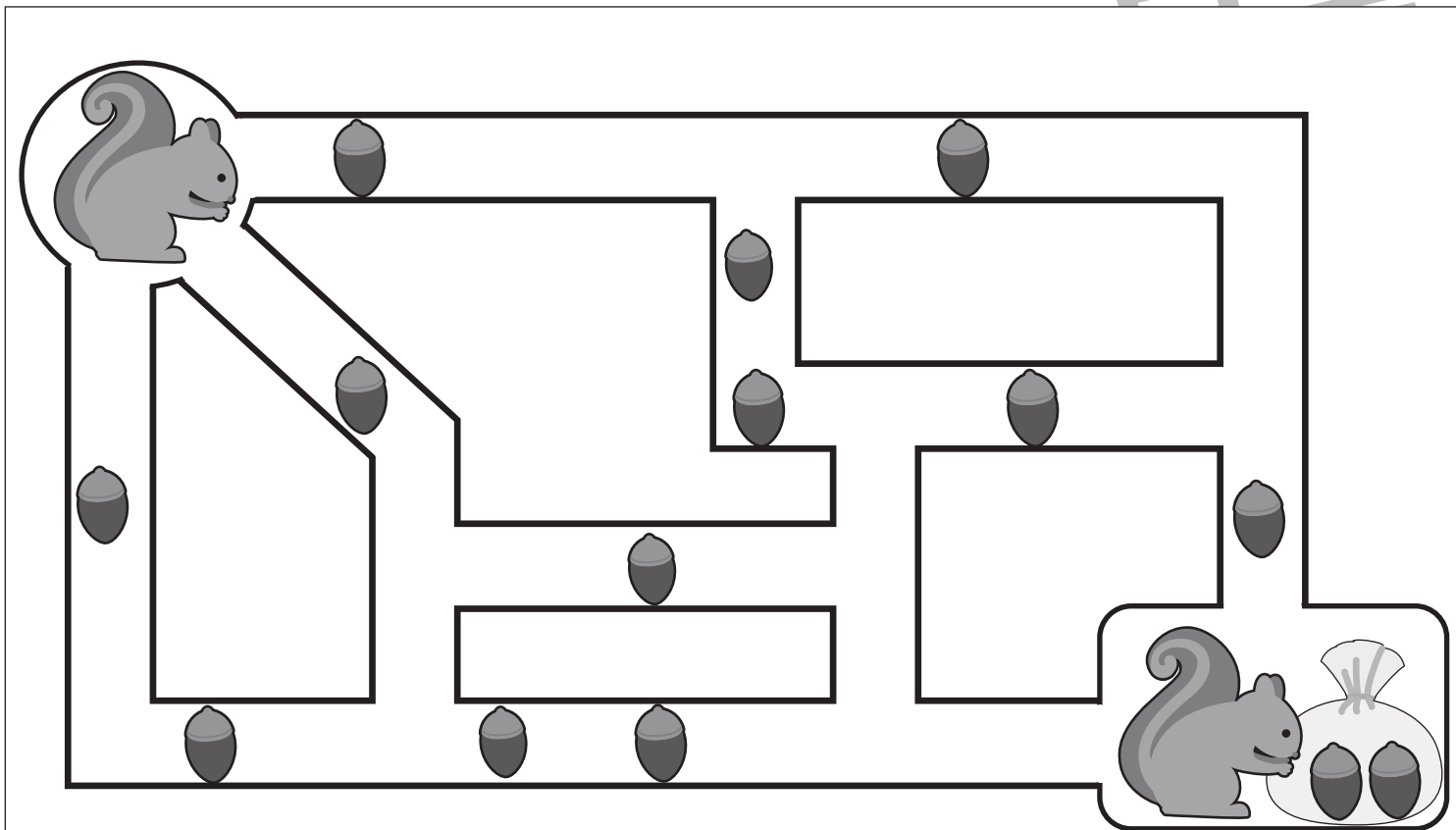
# おうちで、やろう。

Study at home. 小学校受験の家庭学習教材

推理：条件推理 25

左上がスタートです。道の途中でどんぐりが落ちています。リスはどんぐりを拾いながら右下のゴールまでの道を進んでいきます。一番どんぐりが拾えなかった道はどれですか。その道を線で引きましょう。来た道は戻ることができません。

目黒



※1. このプリントは、しながわ・目黒こどもスクールのウェブサイトでダウンロードができます。無断複写・引用はご遠慮ください。  
※2. このプリントを活用したオンライン授業のスケジュールは、しながわ・目黒こどもスクールのウェブサイトでご確認ください。



# おうちで、やろう。

Study at home. 小学校受験の家庭学習教材

## 数量：対応1

真ん中の四角の中のものがあるとき、左のお手本がいくつできるのかを考えます。このとき、右の四角のものはいくつあればよいかを考えて必要な数だけ○をかきます。

① 		<table border="1"> <tbody> <tr> <td data-bbox="958 332 1063 551"></td> <td data-bbox="1063 332 1523 551"></td> </tr> <tr> <td data-bbox="958 551 1063 769"></td> <td data-bbox="1063 551 1523 769"></td> </tr> </tbody> </table>				
② 		<table border="1"> <tbody> <tr> <td data-bbox="958 780 1063 1010"></td> <td data-bbox="1063 780 1523 1010"></td> </tr> <tr> <td data-bbox="958 1010 1063 1216"></td> <td data-bbox="1063 1010 1523 1216"></td> </tr> </tbody> </table>				
③ 		<table border="1"> <tbody> <tr> <td data-bbox="958 1228 1063 1457"></td> <td data-bbox="1063 1228 1523 1457"></td> </tr> <tr> <td data-bbox="958 1457 1063 1664"></td> <td data-bbox="1063 1457 1523 1664"></td> </tr> </tbody> </table>				
④ 		<table border="1"> <tbody> <tr> <td data-bbox="958 1676 1063 1905"></td> <td data-bbox="1063 1676 1523 1905"></td> </tr> <tr> <td data-bbox="958 1905 1063 2128"></td> <td data-bbox="1063 1905 1523 2128"></td> </tr> </tbody> </table>				

※1. このプリントは、しながわ・目黒こどもスクールのウェブサイトからダウンロードできます。無断複写・引用はご遠慮ください。

※2. このプリントを活用したオンライン授業のスケジュールは、しながわ・目黒こどもスクールのウェブサイトでご確認ください。





# おうちで、やろう。

Study at home. 小学校受験の家庭学習教材

## 数量：対応2

真ん中の四角の中のものがあるとき、左のお手本がいくつできるのかを考えます。このとき、右の四角のものはいくつあればよいかを考えて必要な数だけ○をかきます。

① 		<table border="1"> <tr> <td data-bbox="961 335 1062 555"></td> <td data-bbox="1062 335 1536 555"></td> </tr> <tr> <td data-bbox="961 555 1062 771"></td> <td data-bbox="1062 555 1536 771"></td> </tr> </table>				
② 		<table border="1"> <tr> <td data-bbox="961 789 1062 1010"></td> <td data-bbox="1062 789 1536 1010"></td> </tr> <tr> <td data-bbox="961 1010 1062 1226"></td> <td data-bbox="1062 1010 1536 1226"></td> </tr> </table>				
③ 		<table border="1"> <tr> <td data-bbox="961 1244 1062 1464"></td> <td data-bbox="1062 1244 1536 1464"></td> </tr> <tr> <td data-bbox="961 1464 1062 1680"></td> <td data-bbox="1062 1464 1536 1680"></td> </tr> </table>				
④ 		<table border="1"> <tr> <td data-bbox="961 1699 1062 1919"></td> <td data-bbox="1062 1699 1536 1919"></td> </tr> <tr> <td data-bbox="961 1919 1062 2126"></td> <td data-bbox="1062 1919 1536 2126"></td> </tr> </table>				

※1. このプリントは、しながわ・目黒こどもスクールのウェブサイトからダウンロードできます。無断複写・引用はご遠慮ください。

※2. このプリントを活用したオンライン授業のスケジュールは、しながわ・目黒こどもスクールのウェブサイトでご確認ください。

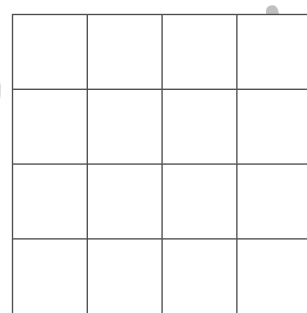
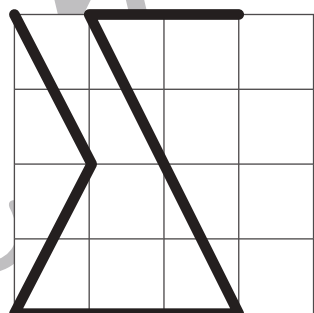
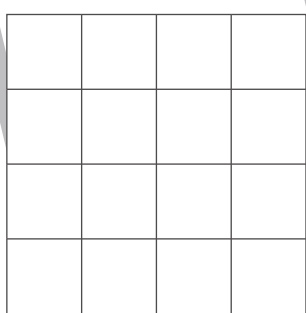
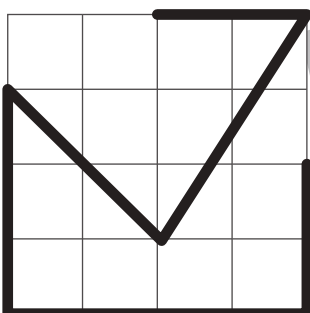
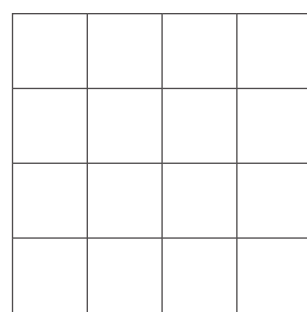
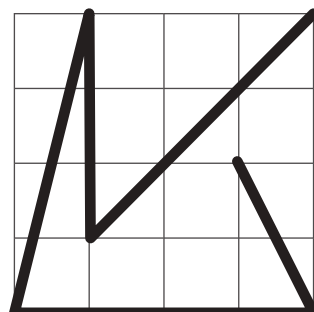

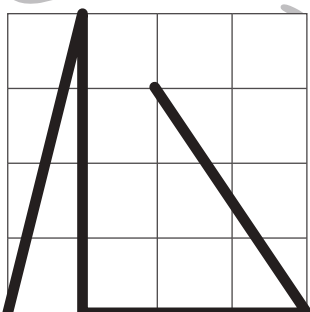
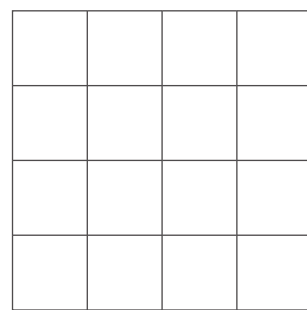
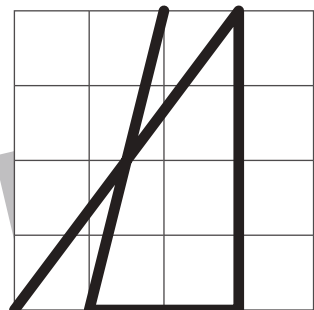

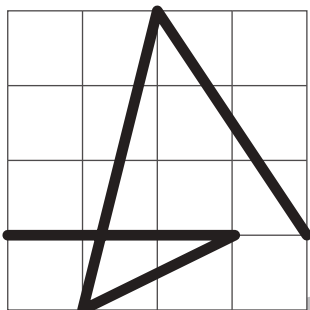

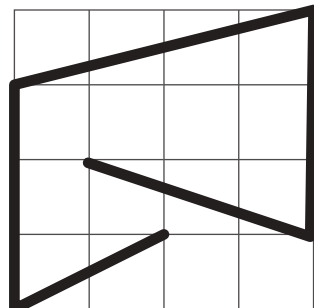

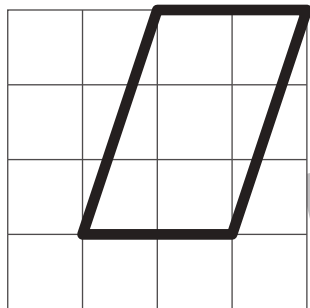


# おうちで、やろう。

Study at home. 小学校受験の家庭学習教材

運筆：模写 20

左のお手本と同じになるように右のマスに線をかきます。  
※この問題に解答はありません。



※1. このプリントは、しながわ・目黒こどもスクールのウェブサイトでダウンロードができます。無断複写・引用はご遠慮ください。  
※2. このプリントを活用したオンライン授業のスケジュールは、しながわ・目黒こどもスクールのウェブサイトでご確認ください。

