



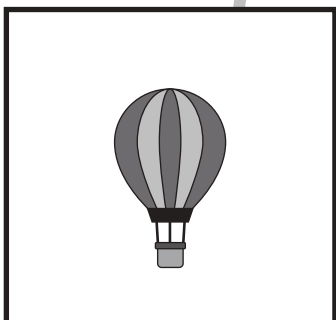



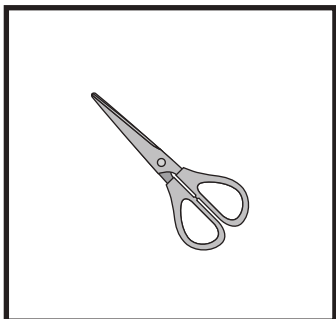




おうちで、やろう。

Study at home. 小学校受験の家庭学習教材

言語：音の理解 44

左の太い四角の中の名前を右の四角の中のはじめの音を使って作ります。この時、使わない絵を右の中から選んで×をつけます。



※1. このプリントは、しながわ・目黒こどもスクールのウェブサイトでダウンロードができます。無断複写・引用はご遠慮ください。
※2. このプリントを活用したオンライン授業のスケジュールは、しながわ・目黒こどもスクールのウェブサイトでご確認ください。





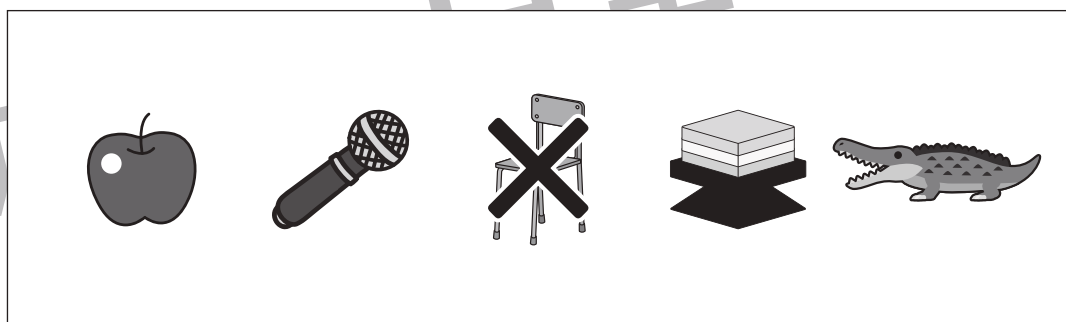


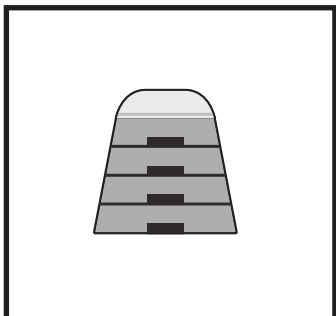



おうちで、やろう。

Study at home. 小学校受験の家庭学習教材

言語：音の理解 45

左の太い四角の中の名前を右の四角の中のはじめの音を使って作ります。この時、使わない絵を右の中から選んで×をつけます。



※1. このプリントは、しながわ・目黒こどもスクールのウェブサイトからダウンロードできます。無断複写・引用はご遠慮ください。

※2. このプリントを活用したオンライン授業のスケジュールは、しながわ・目黒こどもスクールのウェブサイトでご確認ください。





おうちで、よろう。

Study at home. 小学校受験の家庭学習教材

図形：折り重ね 43

真ん中の線で折った形を一番右のように☆と○の順番で繋げた時、どのように見えるかを考えて○をかきます。

	+		=	
	+		=	
	+		=	

※1. このプリントは、しながわ・目黒こどもスクールのウェブサイトでダウンロードができます。無断複写・引用はご遠慮ください。
 ※2. このプリントを活用したオンライン授業のスケジュールは、しながわ・目黒こどもスクールのウェブサイトでご確認ください。



おうちで、よろう。

Study at home. 小学校受験の家庭学習教材

図形：折り重ね 44

真ん中の線で折った形を一番右のように☆と○の順番で繋げた時、どのように見えるかを考えて○をかきます。

	+		=	
	+		=	
	+		=	

※1. このプリントは、しながわ・目黒こどもスクールのウェブサイトでダウンロードができます。無断複写・引用はご遠慮ください。
 ※2. このプリントを活用したオンライン授業のスケジュールは、しながわ・目黒こどもスクールのウェブサイトでご確認ください。



おうちで、やろう。

Study at home. 小学校受験の家庭学習教材

推理：ルーレット2

矢印の方向に、動物ルーレットが回ります。モモにカバが来たとき、ブドウにくる動物に○、パイナップルにくる動物に△を右の四角の中の動物につけます。

①

The roulette wheel has 12 segments with the following items (clockwise from top): Strawberry, Peach, Banana, Pear, Pineapple, Kiwi, Hippo, Elephant, Lion, Monkey, Zebra, Apple, Grape. The grid contains: Row 1: Monkey, Zebra; Row 2: Monkey (with triangle), Lion (with circle); Row 3: Tiger, Hippo, Giraffe, Elephant.

矢印の方向に、動物ルーレットが回ります。トマトにカエルが来たとき、ナスにくる動物に○、ブロッコリーにくる動物に△を右の四角の中の動物につけます。

②

The roulette wheel has 12 segments with the following items (clockwise from top): Eggplant, Corn, Tomato, Pumpkin, Carrot, Mouse, Rabbit, Panda, Frog, Bear, Cat, Broccoli, Cabbage, Pepper. The grid contains: Row 1: Bear, Dog; Row 2: Frog, Cat, Panda; Row 3: Cat, Mouse (with circle), Rabbit (with triangle).

※1. このプリントは、しながわ・目黒こどもスクールのウェブサイトでダウンロードができます。無断複写・引用はご遠慮ください。

※2. このプリントを活用したオンライン授業のスケジュールは、しながわ・目黒こどもスクールのウェブサイトでご確認ください。



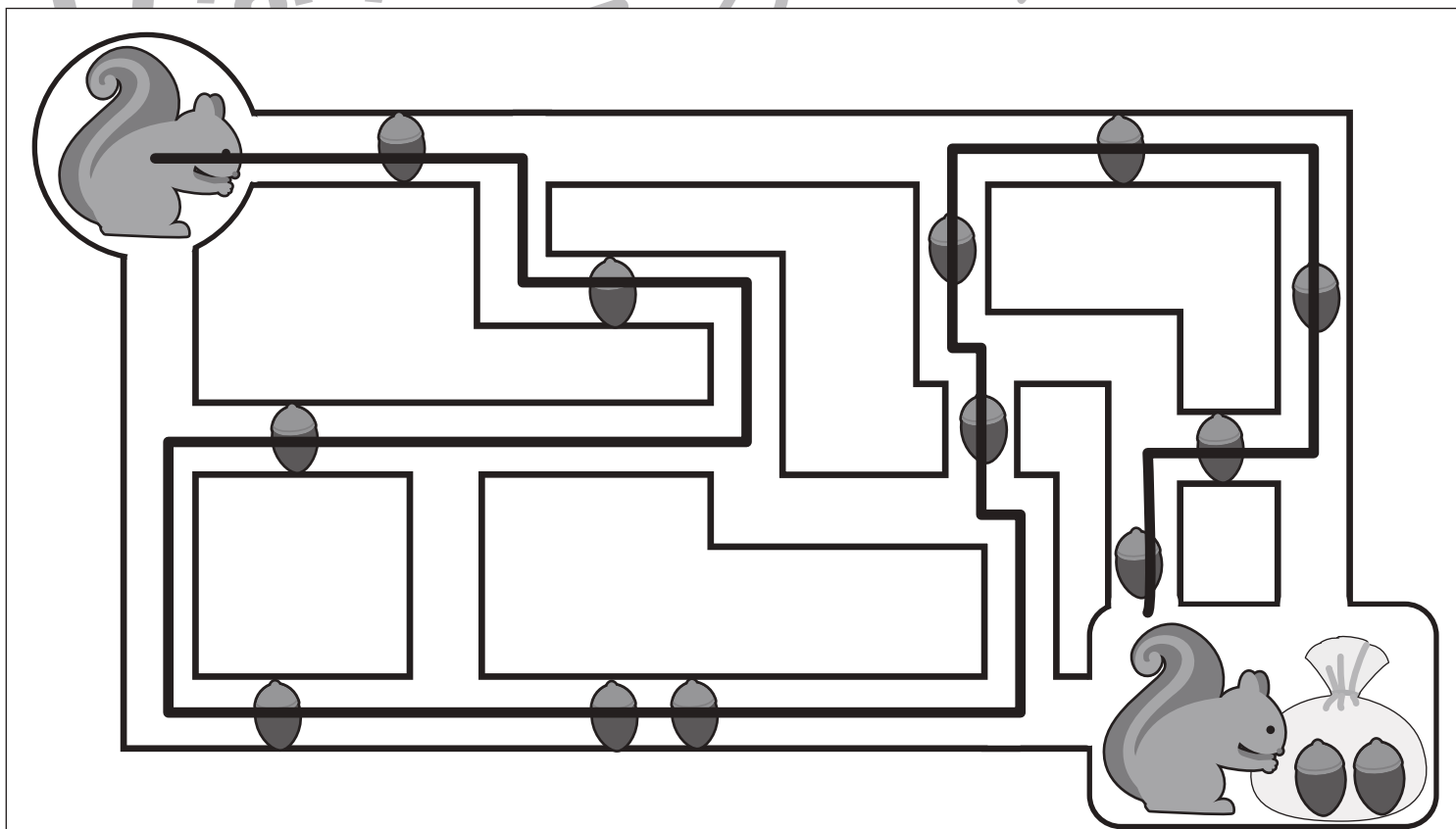
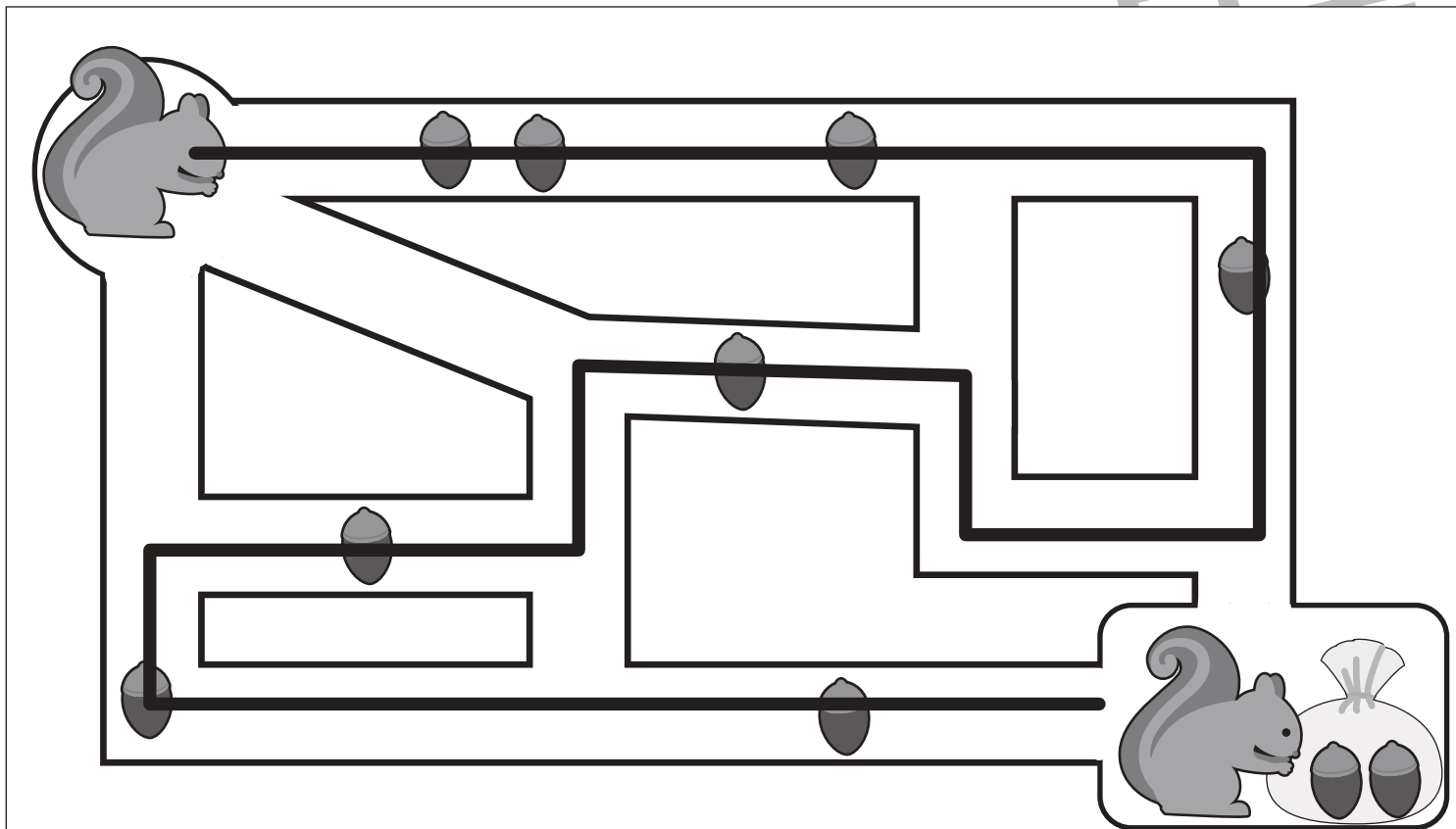
おうちで、やろう。

Study at home. 小学校受験の家庭学習教材

推理：条件推理 24

左上がスタートです。道の途中でどんぐりが落ちています。リスはどんぐりを拾いながら右下のゴールまでの道を進んでいきます。どんぐりを全て拾う進み方を考えてその道に線で引きましょう。来た道は戻ることができません。

目黒



※1. このプリントは、しながわ・目黒こどもスクールのウェブサイトでダウンロードができます。無断複写・引用はご遠慮ください。
※2. このプリントを活用したオンライン授業のスケジュールは、しながわ・目黒こどもスクールのウェブサイトでご確認ください。



おうちで、やろう。

Study at home. 小学校受験の家庭学習教材

数量：対応1

真ん中の四角の中のものがあるとき、左のお手本がいくつできるのかを考えます。このとき、右の四角のものはいくつあればよいかを考えて必要な数だけ○をかきます。

①			$\bigcirc \times 4$
			$\bigcirc \times 4$
②			$\bigcirc \times 8$
			$\bigcirc \times 4$
③			$\bigcirc \times 6$
			$\bigcirc \times 3$
④			$\bigcirc \times 5$
			$\bigcirc \times 5$

※1. このプリントは、しながわ・目黒こどもスクールのウェブサイトでダウンロードができます。無断複写・引用はご遠慮ください。

※2. このプリントを活用したオンライン授業のスケジュールは、しながわ・目黒こどもスクールのウェブサイトでご確認ください。



おうちで、やろう。

Study at home. 小学校受験の家庭学習教材

数量：対応2

真ん中の四角の中のものがあるとき、左のお手本がいくつできるのかを考えます。このとき、右の四角のものはいくつあればよいかを考えて必要な数だけ○をかきます。

①		$\bigcirc \times 6$
		$\bigcirc \times 3$
②		$\bigcirc \times 4$
		$\bigcirc \times 4$
③		$\bigcirc \times 8$
		$\bigcirc \times 8$
④		$\bigcirc \times 12$
		$\bigcirc \times 4$

※1. このプリントは、しながわ・目黒こどもスクールのウェブサイトでダウンロードができます。無断複写・引用はご遠慮ください。

※2. このプリントを活用したオンライン授業のスケジュールは、しながわ・目黒こどもスクールのウェブサイトでご確認ください。