




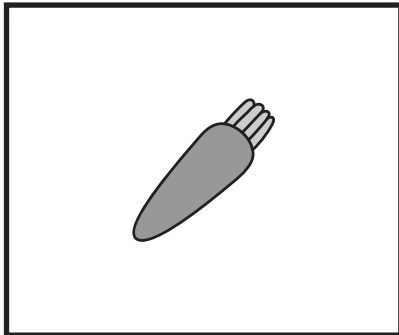

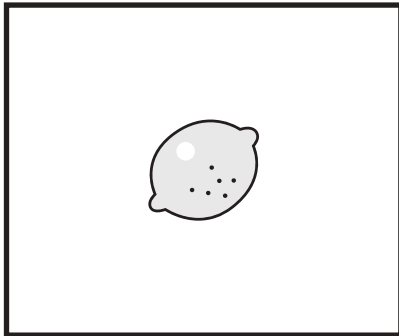






左の太い四角の中の絵のおわりの音と、同じおわりの音の絵を右の四角の中から見つけて○をつけます。



※1. このプリントは、しながわ・目黒こどもスクールのウェブサイトでダウンロードができます。無断複写・引用はご遠慮ください。
※2. このプリントを活用したオンライン授業のスケジュールは、しながわ・目黒こどもスクールのウェブサイトでご確認ください。






おうちで、やろう。年中児版

Study at home. 小学校受験の家庭学習教材

処理能力：運筆 1

☆から★まで、白い線の真ん中を通る線をひきます。壁にぶつかったりしないようきれいな線をひきましょう。（この問題に解答はありません。）



※1. このプリントは、しながわ・目黒こどもスクールのウェブサイトでダウンロードができます。無断複写・引用はご遠慮ください。
※2. このプリントを活用したオンライン授業のスケジュールは、しながわ・目黒こどもスクールのウェブサイトでご確認ください。









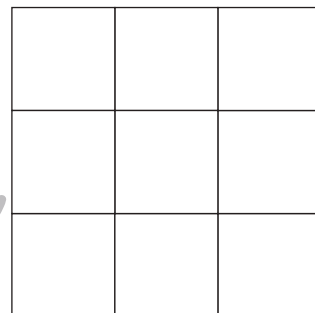



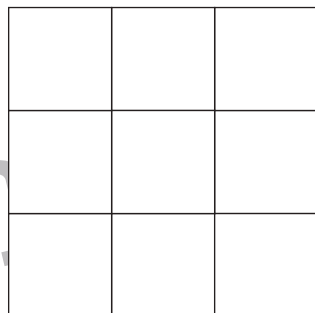

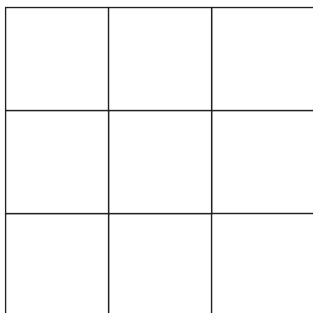

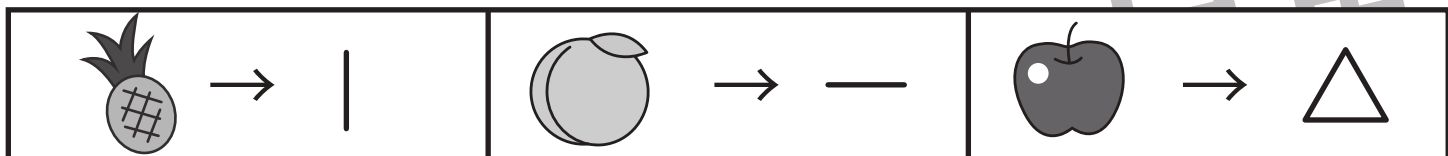


おうちで、やろう。 年中児版

Study at home. 小学校受験の家庭学習教材

推理：置き換え2

上の太い四角がお約束です。パイナップルは縦線、モモは横線、リンゴは三角に変わります。上の四角の中の果物がどの形に変わるかを考えて、下の四角の同じ場所にかきます。



※1. このプリントは、しながわ・目黒こどもスクールのウェブサイトでダウンロードができます。無断複写・引用はご遠慮ください。
 ※2. このプリントを活用したオンライン授業のスケジュールは、しながわ・目黒こどもスクールのウェブサイトでご確認ください。


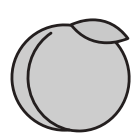











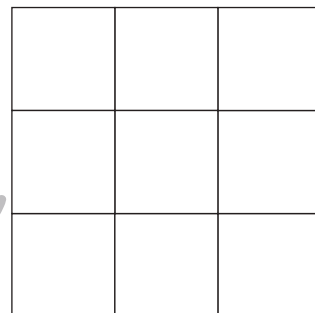



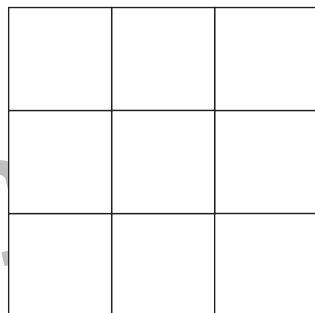

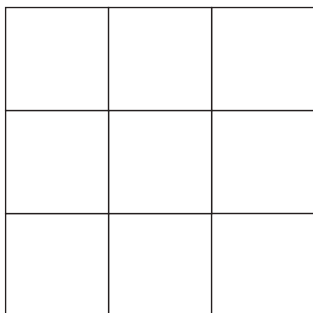

おうちで、やろう。 年中児版

Study at home. 小学校受験の家庭学習教材

推理：置き換え3

上の太い四角がお約束です。パイナップルは縦線、モモは横線、リンゴは三角に変わります。上の四角の中の果物がどの形に変わるかを考えて、下の四角の同じ場所にかきます。

 →	 → —	 → △
---	---	---



※1. このプリントは、しながわ・目黒こどもスクールのウェブサイトでダウンロードができます。無断複写・引用はご遠慮ください。
 ※2. このプリントを活用したオンライン授業のスケジュールは、しながわ・目黒こどもスクールのウェブサイトでご確認ください。

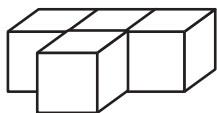


おうちで、やろう。 年中児版

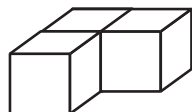
Study at home. 小学校受験の家庭学習教材

数量：積み木 4

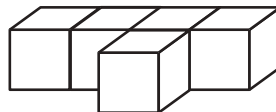
上の積み木はいくつでできていますか。その数と同じ数の積み木の部屋を下から探して線で結びます。



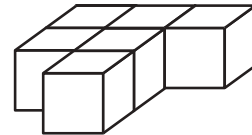
•



•



•



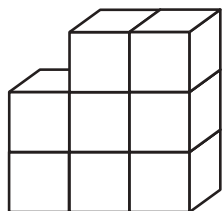
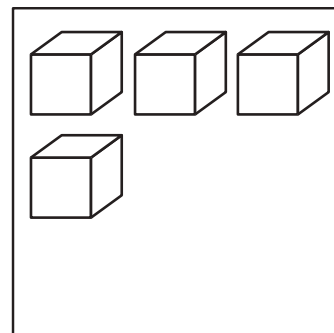
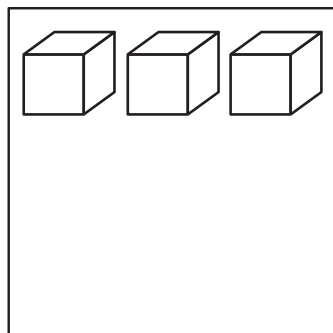
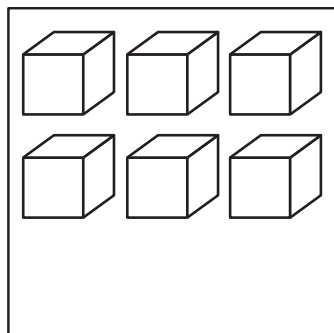
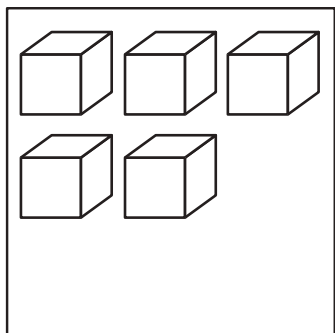
•

•

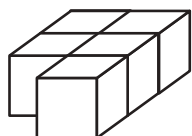
•

•

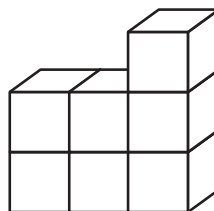
•



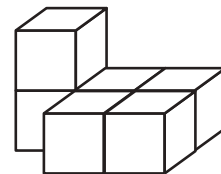
•



•



•



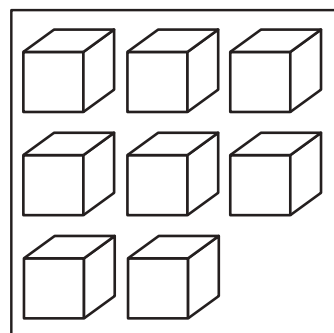
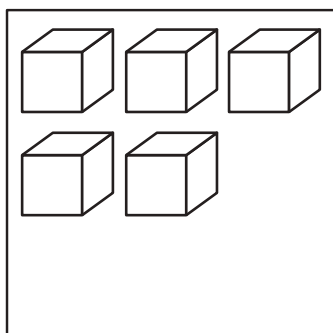
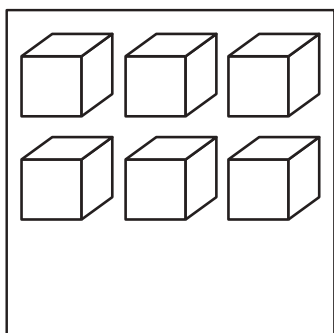
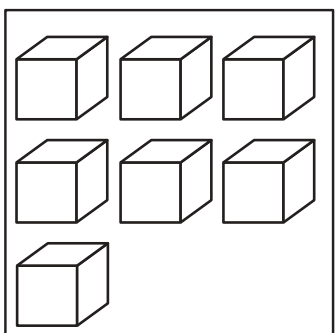
•

•

•

•

•



※1. このプリントは、しながわ・目黒こどもスクールのウェブサイトでダウンロードができます。無断複写・引用はご遠慮ください。
※2. このプリントを活用したオンライン授業のスケジュールは、しながわ・目黒こどもスクールのウェブサイトでご確認ください。

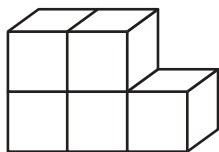


おうちで、やろう。 年中児版

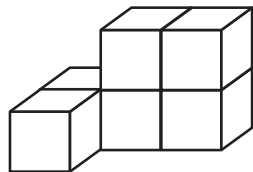
Study at home. 小学校受験の家庭学習教材

数量：積み木 5

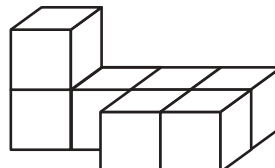
上の積み木はいくつでできていますか。その数と同じ数の積み木の部屋を下から探して線で結びます。



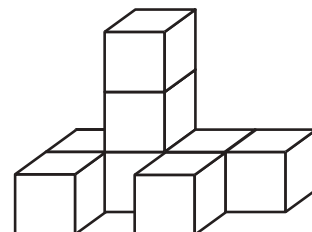
•



•



•



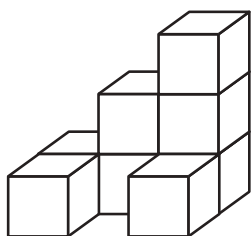
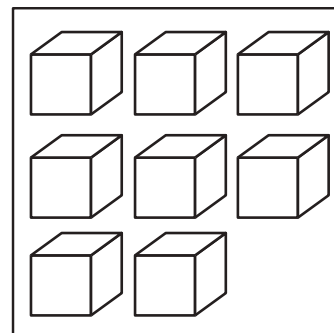
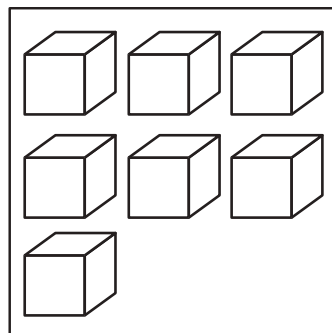
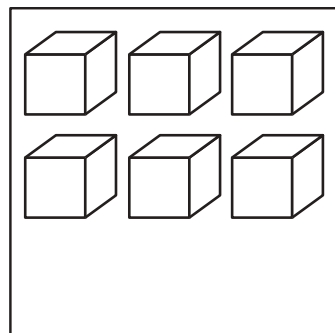
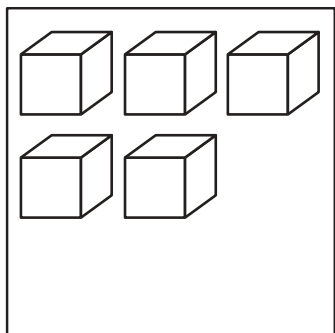
•

•

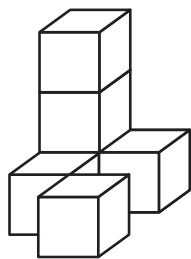
•

•

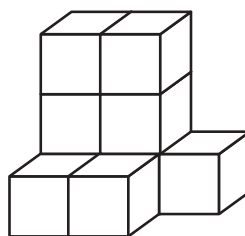
•



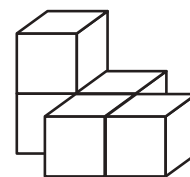
•



•



•



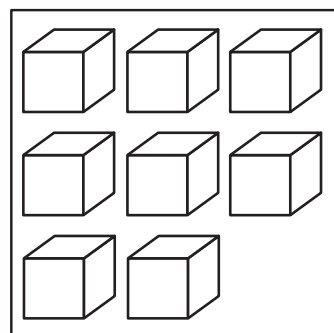
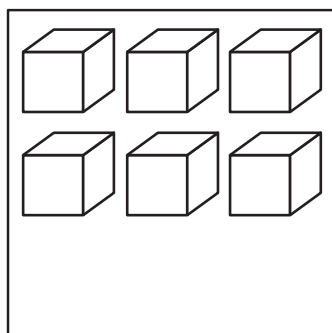
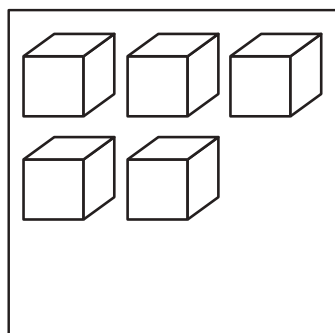
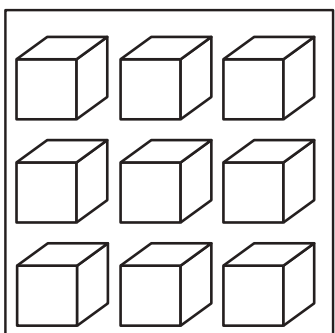
•

•

•

•

•



※1. このプリントは、しながわ・目黒こどもスクールのウェブサイトでダウンロードができます。無断複写・引用はご遠慮ください。
※2. このプリントを活用したオンライン授業のスケジュールは、しながわ・目黒こどもスクールのウェブサイトでご確認ください。



おうちで、やろう。 年中児版

Study at home. 小学校受験の家庭学習教材

数量：同数 7

左の四角の中の動物たちが四角の中のお菓子を仲良く同じ数に分けられるものはどれですか。正しい四角を選んで○をかきます。

--	--	--	--	--

--	--	--	--	--

--	--	--	--	--

--	--	--	--	--

※1. このプリントは、しながわ・目黒こどもスクールのウェブサイトでダウンロードができます。無断複写・引用はご遠慮ください。
 ※2. このプリントを活用したオンライン授業のスケジュールは、しながわ・目黒こどもスクールのウェブサイトでご確認ください。



おうちで、やろう。 年中児版

Study at home. 小学校受験の家庭学習教材

数量：同数 8

左の四角の中の動物たちが四角の中のお菓子を仲良く同じ数に分けられるものはどれですか。正しい四角を選んで○をかきます。

--	--	--	--	--

--	--	--	--	--

--	--	--	--	--

--	--	--	--	--

※1. このプリントは、しながわ・目黒こどもスクールのウェブサイトでダウンロードができます。無断複写・引用はご遠慮ください。
 ※2. このプリントを活用したオンライン授業のスケジュールは、しながわ・目黒こどもスクールのウェブサイトでご確認ください。