



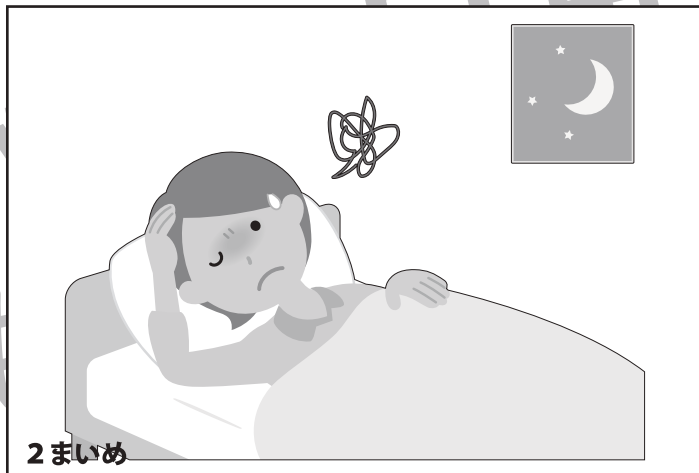

おうちで、やろう。年中児版

Study at home. 小学校受験の家庭学習教材



言語：お話づくり 1

2枚の絵でお話づくりをします。順番を考えてお話ししましょう。保護者の方がお子さまのお話した内容を下に記入してください。

<学習のアドバイス>絵の説明だけに終わらないようにすることが大切です。まずは、何をしている様子なのかを考えましょう。人物の名前や、どんな会話をしているか想像してみると、お話の内容が充実していきます。※この問題に正解はありません。



あなたの考えたお話



あなたの考えたお話

※1. このプリントは、しながわ・目黒こどもスクールのウェブサイトでダウンロードができます。無断複写・引用はご遠慮ください。
 ※2. このプリントを活用したオンライン授業のスケジュールは、しながわ・目黒こどもスクールのウェブサイトでご確認ください。






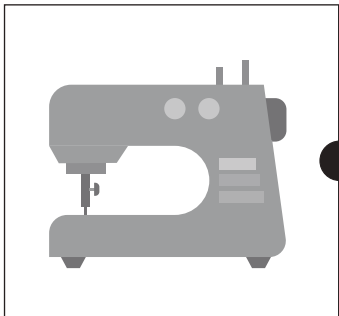


おうちで、やろう。 年中児版

Study at home. 小学校受験の家庭学習教材

言語：音の理解 3

同じ音で終わるもの同士を線で結びましょう。




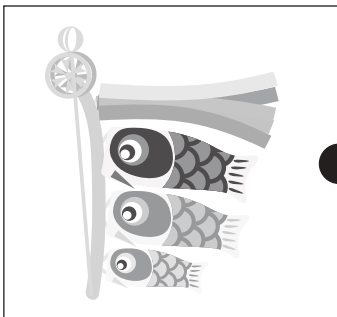





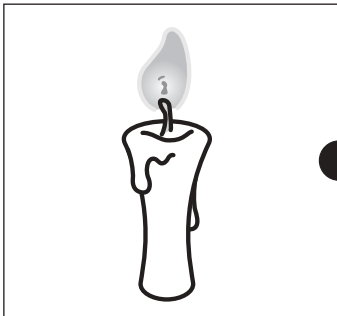


※1. このプリントは、しながわ・目黒こどもスクールのウェブサイトでダウンロードができます。無断複写・引用はご遠慮ください。

※2. このプリントを活用したオンライン授業のスケジュールは、しながわ・目黒こどもスクールのウェブサイトでご確認ください。





同じ音で終わるもの同士を線で結びましょう。



※1. このプリントは、しながわ・目黒こどもスクールのウェブサイトからダウンロードができます。無断複写・引用はご遠慮ください。
※2. このプリントを活用したオンライン授業のスケジュールは、しながわ・目黒こどもスクールのウェブサイトでご確認ください。



おうちで、よろう。 年中児版

Study at home. 小学校受験の家庭学習教材

処理：回転 1

○が4つのマスをおある順番にしたがって移動します。左上の四角からはじめて右に進み、1段目が終わったら2段目の左という順番で進むとき、○はどのように移動しますか。全てのマスの正しい場所に○をかきます。

		○			
				○	

○					

※1. このプリントは、しながわ・目黒こどもスクールのウェブサイトでダウンロードができます。無断複写・引用はご遠慮ください。
 ※2. このプリントを活用したオンライン授業のスケジュールは、しながわ・目黒こどもスクールのウェブサイトでご確認ください。



おうちで、よろう。 年中児版

Study at home. 小学校受験の家庭学習教材

処理：回転2

○が4つのマスをおある順番にしたがって移動します。左上の四角からはじめて右に進み、1段目が終わったら2段目の左という順番で進むとき、○はどのように移動しますか。全てのマスの正しい場所に○をかきます。

※1. このプリントは、しながわ・目黒こどもスクールのウェブサイトでダウンロードができます。無断複写・引用はご遠慮ください。
 ※2. このプリントを活用したオンライン授業のスケジュールは、しながわ・目黒こどもスクールのウェブサイトでご確認ください。

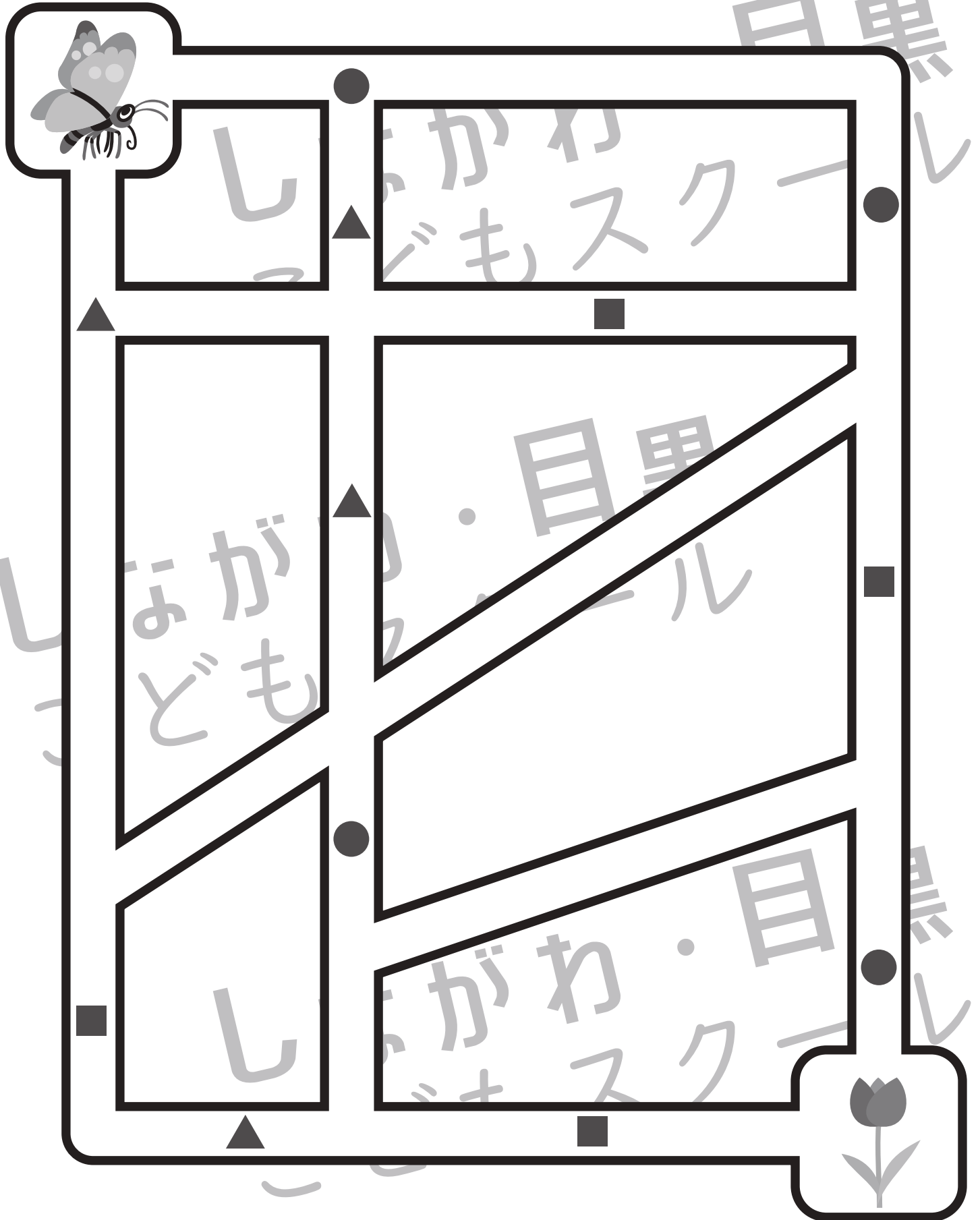


おうちで、やろう。 年中児版

Study at home. 小学校受験の家庭学習教材

推理：条件迷路 10

左上のちょうちょうが右下の花まで飛びます。ただし、●以外の印がある道は通ってはいけません。どの道を通ったら花まで飛んでいけるかを考えて、線を引きます。



※1. このプリントは、しながわ・目黒こどもスクールのウェブサイトでダウンロードができます。無断複写・引用はご遠慮ください。

※2. このプリントを活用したオンライン授業のスケジュールは、しながわ・目黒こどもスクールのウェブサイトでご確認ください。





おうちで、やろう。 年中児版

Study at home. 小学校受験の家庭学習教材

推理：比較順位 4

①一番短い線と長い線を同じ色でなぞります。②一番小さい積み木を見つけて、右側の積み木に○をつけます。③3つの四角の中で灰色の部分が違う広さのものに△をつけます。

①

②

③

--	--	--

※1. このプリントは、しながわ・目黒こどもスクールのウェブサイトでダウンロードができます。無断複写・引用はご遠慮ください。

※2. このプリントを活用したオンライン授業のスケジュールは、しながわ・目黒こどもスクールのウェブサイトでご確認ください。