

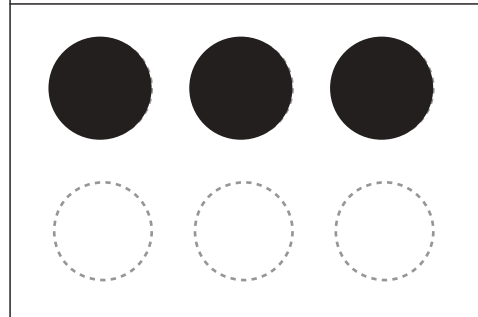



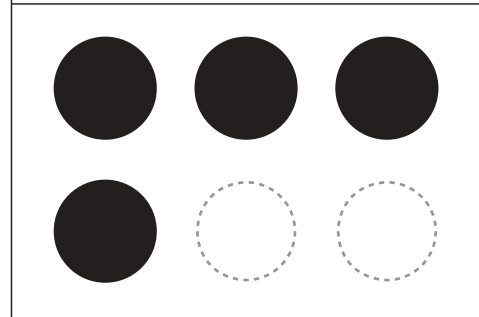

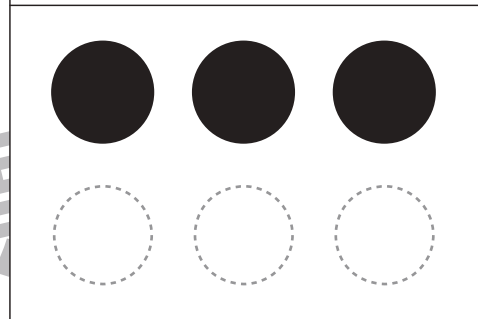
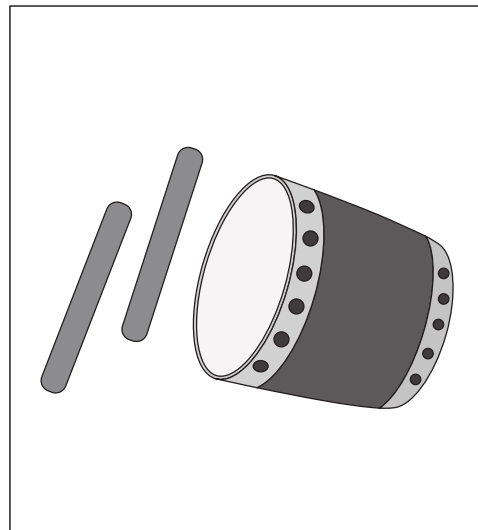
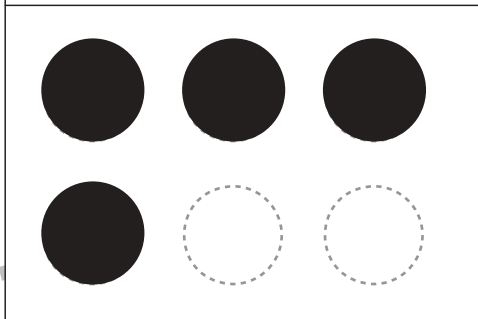




おうちで、やろう。 年中児版

Study at home. 小学校受験の家庭学習教材

言語：音の数 4

四角の中にある絵の音の数を数えて、その数だけ○を塗ります。



※1. このプリントは、しながわ・目黒こどもスクールのウェブサイトでダウンロードができます。無断複写・引用はご遠慮ください。
※2. このプリントを活用したオンライン授業のスケジュールは、しながわ・目黒こどもスクールのウェブサイトでご確認ください。





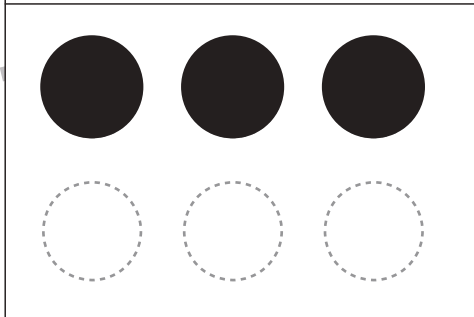

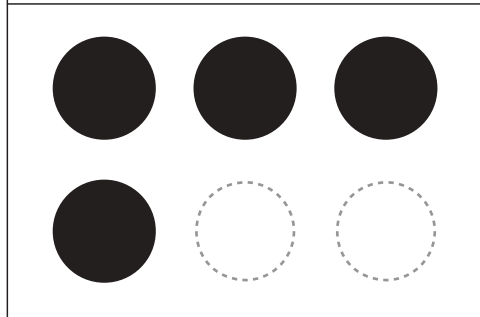
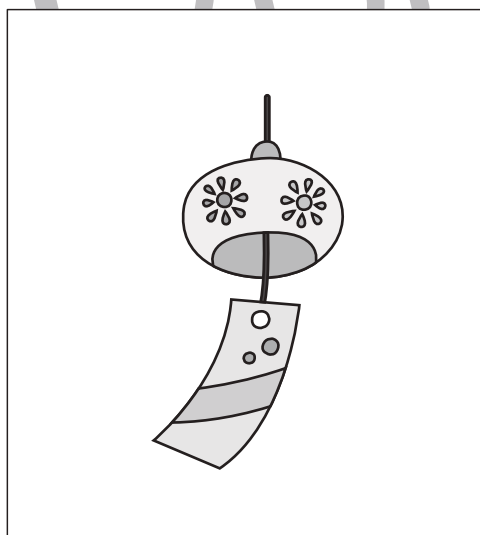


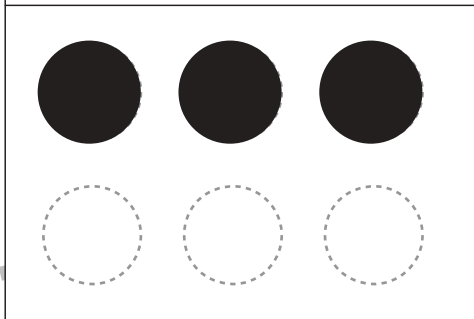
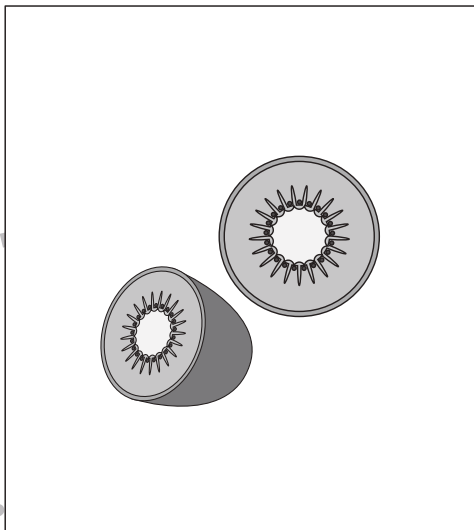
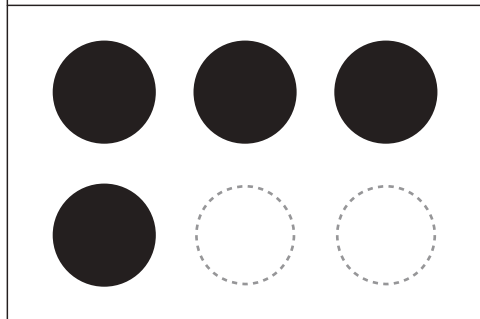
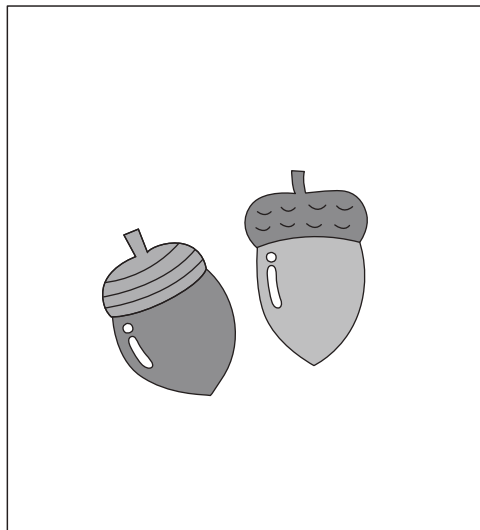


おうちで、やろう。 年中児版

Study at home. 小学校受験の家庭学習教材

言語 - 音の数5

四角の中にある絵の音の数を数えて、その数だけ○を塗ります。



※1. このプリントは、しながわ・目黒こどもスクールのウェブサイトからダウンロードできます。無断複写・引用はご遠慮ください。
※2. このプリントを活用したオンライン授業のスケジュールは、しながわ・目黒こどもスクールのウェブサイトでご確認ください。



おうちで、やろう。 年中児版

Study at home. 小学校受験の家庭学習教材

図形：回転 1

左の四角を矢印の向きに一回倒したときの見え方を右の四角の中から選んで、○をつけます。

※1. このプリントは、しながわ・目黒こどもスクールのウェブサイトからダウンロードできます。無断複写・引用はご遠慮ください。
 ※2. このプリントを活用したオンライン授業のスケジュールは、しながわ・目黒こどもスクールのウェブサイトでご確認ください。



おうちで、やろう。 年中児版

Study at home. 小学校受験の家庭学習教材

推理：なぞなぞ 18



①～④のなぞなぞをといて、答えに○をつけましょう。

①さんびきの はちが さがしている あまいものは なんでしょう。

②かわで うそをつく いきものは なんでしょう。

③はがきを たべるのがすきな あかいものは なんでしょう。

④すうじの 3と 3が むかいあったら なんのすうじに なるでしょう。



※1. このプリントは、しながわ・目黒こどもスクールのウェブサイトでダウンロードができます。無断複写・引用はご遠慮ください。

※2. このプリントを活用したオンライン授業のスケジュールは、しながわ・目黒こどもスクールのウェブサイトでご確認ください。



おうちで、やろう。年中児版 推理：まちがいさがし 19

Study at home. 小学校受験の家庭学習教材

上の絵と下の絵を見比べて、変わっているところを5つみつけます。見つけたら、下の絵の変わっている場所に○をつけます。



※1. このプリントは、しながわ・目黒こどもスクールのウェブサイトでダウンロードができます。無断複写・引用はご遠慮ください。
※2. このプリントを活用したオンライン授業のスケジュールは、しながわ・目黒こどもスクールのウェブサイトでご確認ください。

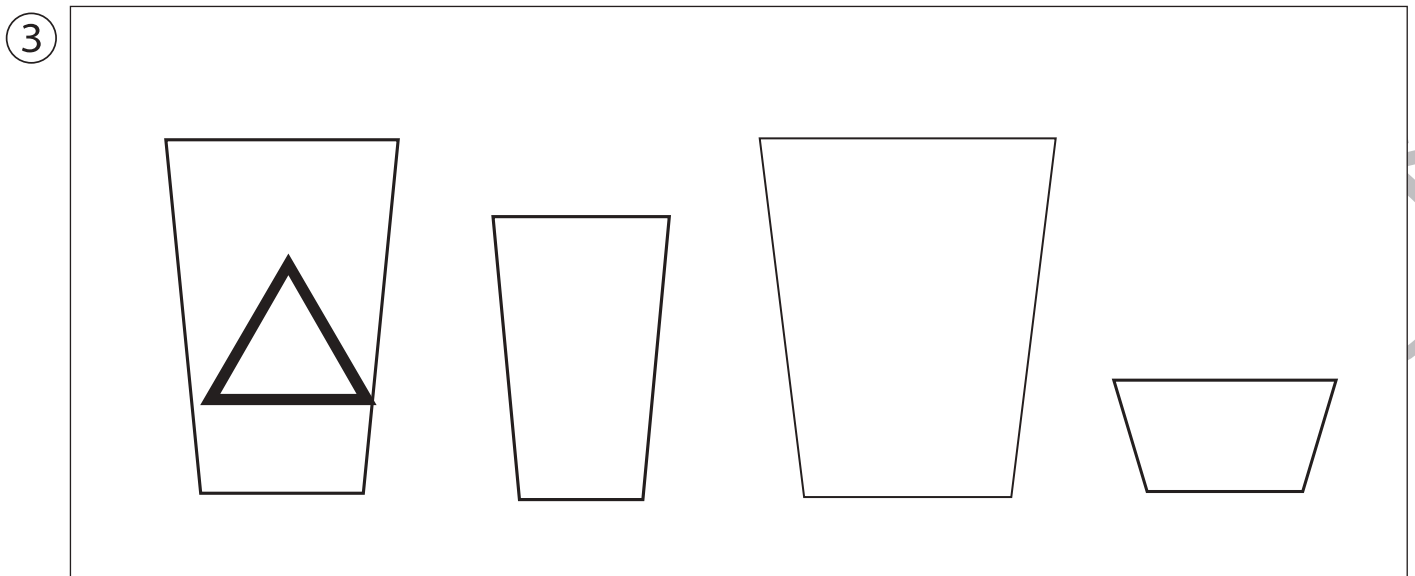
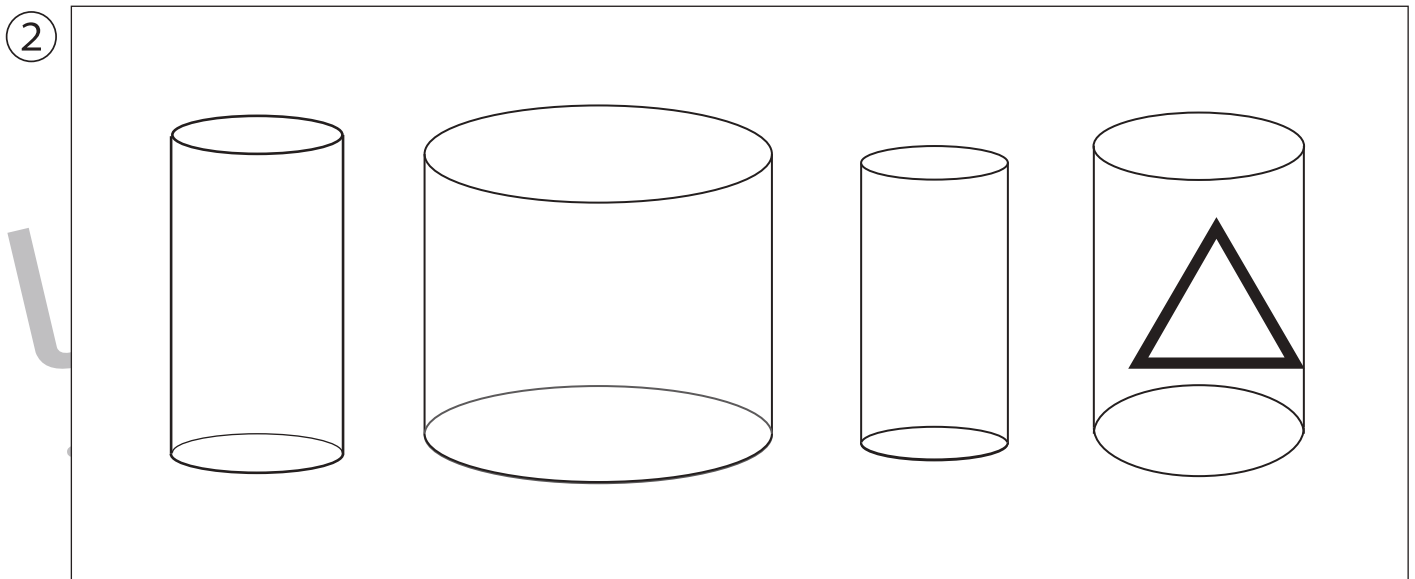
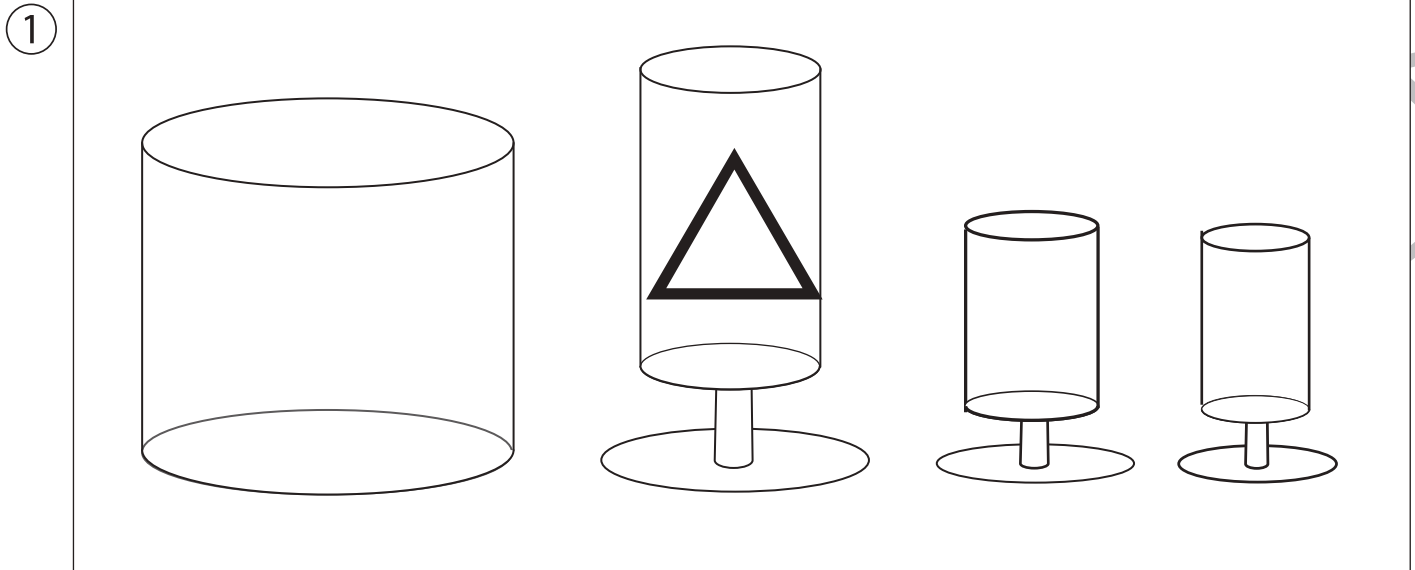


おうちで、やろう。 年中児版

Study at home. 小学校受験の家庭学習教材

推理：水量5

水をコップの上までいっぱいに入れた時、水の量が三番目に少ないコップに△をつけます。



※1. このプリントは、しながわ・目黒こどもスクールのウェブサイトからダウンロードできます。無断複写・引用はご遠慮ください。

※2. このプリントを活用したオンライン授業のスケジュールは、しながわ・目黒こどもスクールのウェブサイトでご確認ください。

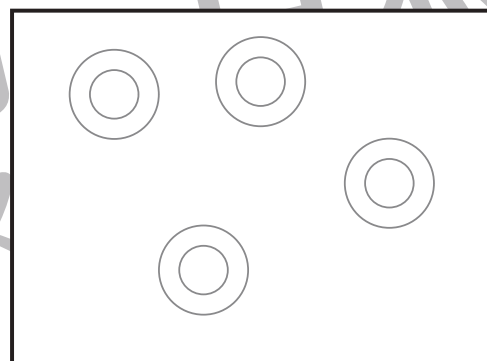
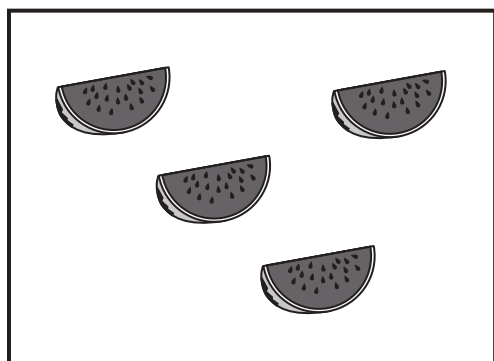
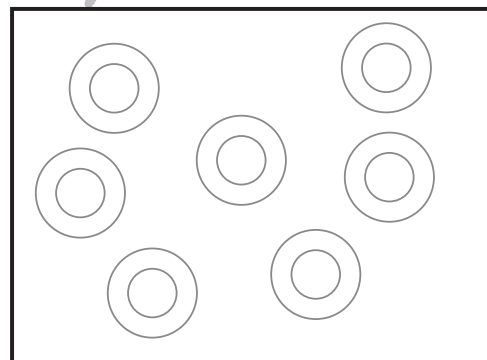

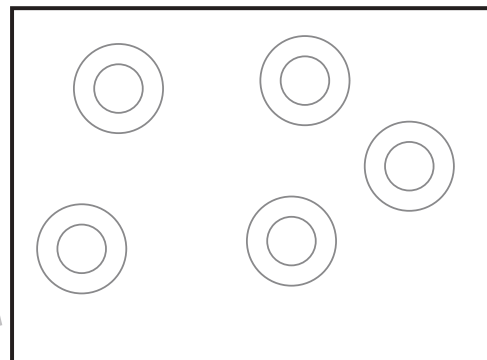

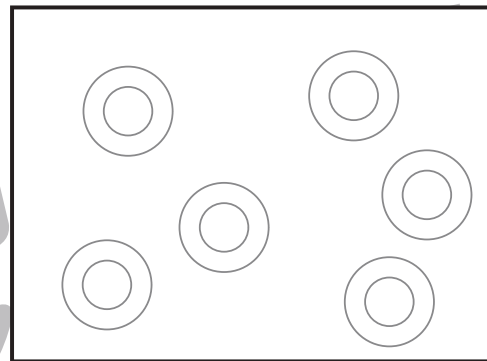
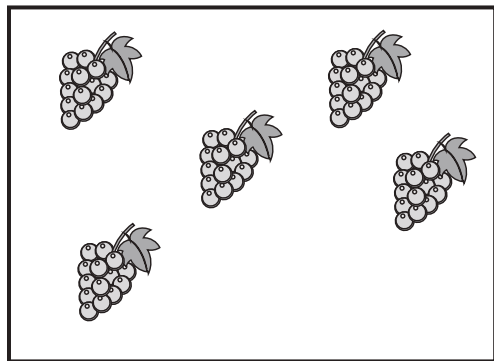


おうちで、やろう。 年中児版

Study at home. 小学校受験の家庭学習教材

数量：計数 17

左の四角の中のくだものを一個ずつお皿にのせるとき、どの箱を選べばくだものをお皿にぴったりのお皿のせられますか。正しい箱をみつけて線で結びます。



※1. このプリントは、しながわ・目黒こどもスクールのウェブサイトでダウンロードができます。無断複写・引用はご遠慮ください。
※2. このプリントを活用したオンライン授業のスケジュールは、しながわ・目黒こどもスクールのウェブサイトでご確認ください。