

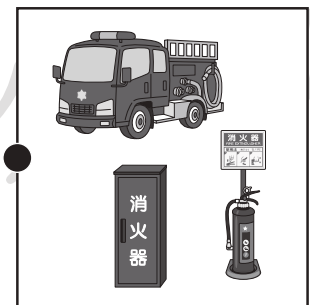



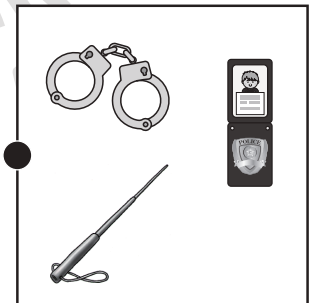



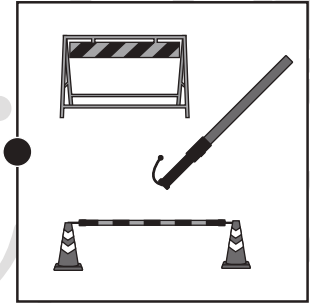



# おうちで、やろう。

Study at home. 小学校受験の家庭学習教材

常識：生活 3

左の人が働くときに使うものを右から見つけて点と点を線で結びます。



※1. このプリントは、しながわ・目黒こどもスクールのウェブサイトでダウンロードができます。無断複写・引用はご遠慮ください。  
※2. このプリントを活用したオンライン授業のスケジュールは、しながわ・目黒こどもスクールのウェブサイトでご確認ください。




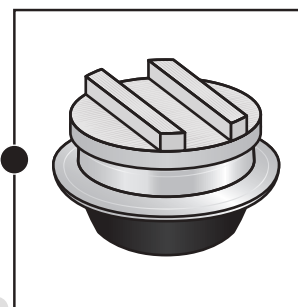
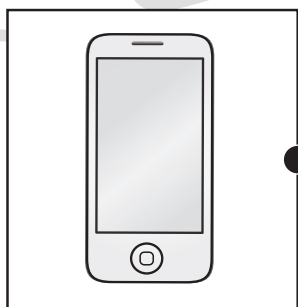
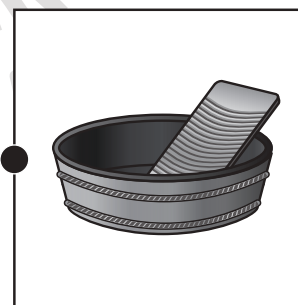

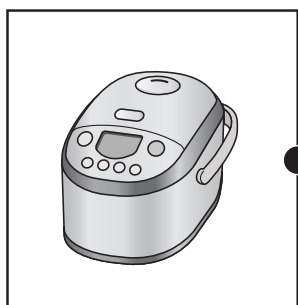

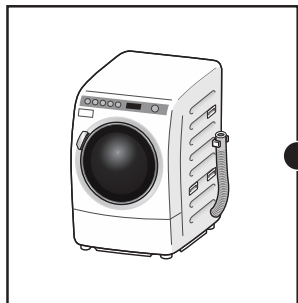


# おうちで、やろう。

Study at home. 小学校受験の家庭学習教材

常識：生活4

左は今使っているものです。右は昔使っていたものです。(今も使っているものもあります。)  
左と右で同じように使うもの同士をみつけて点と点を線で結びます。



※1. このプリントは、しながわ・目黒こどもスクールのウェブサイトでダウンロードができます。無断複写・引用はご遠慮ください。  
※2. このプリントを活用したオンライン授業のスケジュールは、しながわ・目黒こどもスクールのウェブサイトでご確認ください。





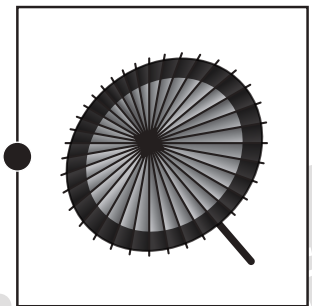



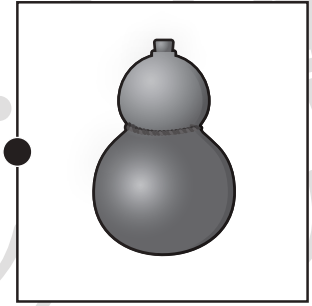
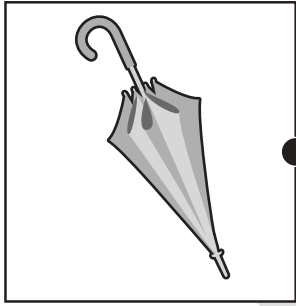


# おうちで、やろう。

Study at home. 小学校受験の家庭学習教材

常識：生活 5

左は今使っているものです。右は昔使っていたものです。(今も使っているものもあります。)  
左と右で同じように使うもの同士をみつけて点と点を線で結びます。



※1. このプリントは、しながわ・目黒こどもスクールのウェブサイトでダウンロードができます。無断複写・引用はご遠慮ください。  
※2. このプリントを活用したオンライン授業のスケジュールは、しながわ・目黒こどもスクールのウェブサイトでご確認ください。



# おうちで、やろう。

Study at home. 小学校受験の家庭学習教材

## 推理：じゃんけん 23

女の子と男の子が同じ数だけクッキーを持ってじゃんけんをしました。じゃんけんで勝つと相手からクッキーを1枚もらえます。あいこのときはなにもありません。この約束のとき、上が女の子が出す手、下が男の子が出す手で5回じゃんけんをしました。最後に持っていたクッキーの数だけ右の太い枠の中に○をかきます。答えは上が女の子が持っている数、下が男の子が持っている数をかきます。

	①	②	③	④	⑤	<input type="text"/>
	①	②	③	④	⑤	<input type="text"/>

	①	②	③	④	⑤	<input type="text"/>
	①	②	③	④	⑤	<input type="text"/>

	①	②	③	④	⑤	<input type="text"/>
	①	②	③	④	⑤	<input type="text"/>

	①	②	③	④	⑤	<input type="text"/>
	①	②	③	④	⑤	<input type="text"/>

※1. このプリントは、しながわ・目黒こどもスクールのウェブサイトでダウンロードができます。無断複写・引用はご遠慮ください。  
※2. このプリントを活用したオンライン授業のスケジュールは、しながわ・目黒こどもスクールのウェブサイトでご確認ください。



# おうちで、やろう。

Study at home. 小学校受験の家庭学習教材

## 推理：じゃんけん 24

女の子と男の子が同じ数だけクッキーを持ってじゃんけんをしました。じゃんけんで勝つと相手からクッキーを2枚もらえます。あいこのときはなにもありません。この約束のとき、上が女の子が出す手、下が男の子が出す手で5回じゃんけんをしました。最後に持っていたクッキーの数だけ右の太い枠の中に○をかきます。答えは上が女の子が持っている数、下が男の子が持っている数をかきます。

	①	②	③	④	⑤	<input type="text"/>
	①	②	③	④	⑤	<input type="text"/>

	①	②	③	④	⑤	<input type="text"/>
	①	②	③	④	⑤	<input type="text"/>

	①	②	③	④	⑤	<input type="text"/>
	①	②	③	④	⑤	<input type="text"/>

	①	②	③	④	⑤	<input type="text"/>
	①	②	③	④	⑤	<input type="text"/>

※1. このプリントは、しながわ・目黒こどもスクールのウェブサイトでダウンロードができます。無断複写・引用はご遠慮ください。

※2. このプリントを活用したオンライン授業のスケジュールは、しながわ・目黒こどもスクールのウェブサイトでご確認ください。



# おうちで、やろう。

Study at home. 小学校受験の家庭学習教材

## 推理：ブラックボックス 17

それぞれ左の四角が星の箱の中に入ると色や形が変わります。星の色によってマークの変わり方が違うので約束を考えて、右の四角にかきます。

	→		→			→		→	
	→		→			→		→	
	→		→			→		→	
	→		→			→		→	

→

→

→

→

→

→

→

→

→

→

→

→

→

→

→

→

※1. このプリントは、しながわ・目黒こどもスクールのウェブサイトでダウンロードができます。無断複写・引用はご遠慮ください。  
 ※2. このプリントを活用したオンライン授業のスケジュールは、しながわ・目黒こどもスクールのウェブサイトでご確認ください。





















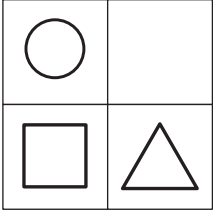




# おうちで、やろう。

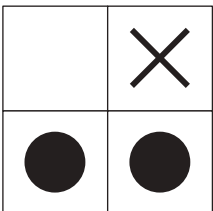

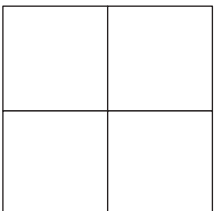

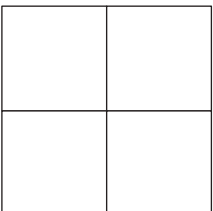
Study at home. 小学校受験の家庭学習教材

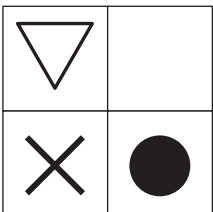




## 推理：ブラックボックス 18

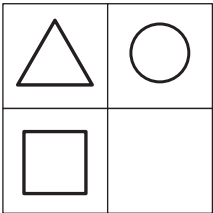

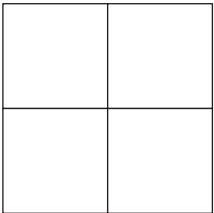


それぞれ左の四角が星の箱の中に入ると色や形が変わります。星の色によってマークの変わり方が違うので約束を考えて、右の四角にかきます。

	→		→	
	→		→	
	→		→	
	→		→	
	→		→	
	→		→	

	→		→		→		→	
---	---	---	---	---	---	---	---	---

	→		→		→		→	
---	---	---	---	---	---	---	---	---

	→		→		→		→	
---	---	---	---	---	---	---	---	---

	→		→		→		→	
---	---	---	---	---	---	---	---	---

※1. このプリントは、しながわ・目黒こどもスクールのウェブサイトからダウンロードができます。無断複写・引用はご遠慮ください。  
 ※2. このプリントを活用したオンライン授業のスケジュールは、しながわ・目黒こどもスクールのウェブサイトでご確認ください。

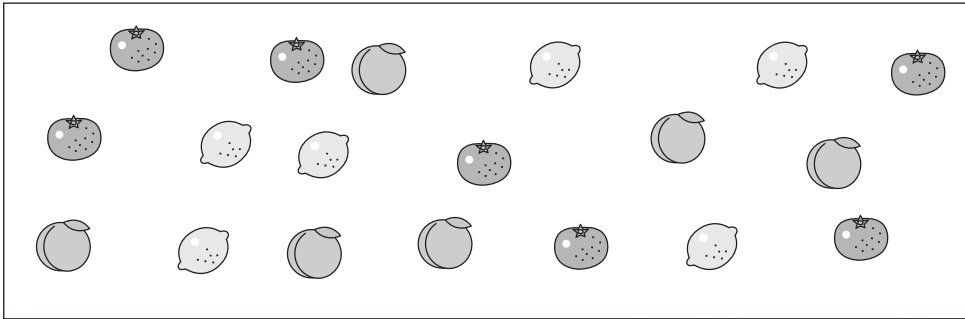


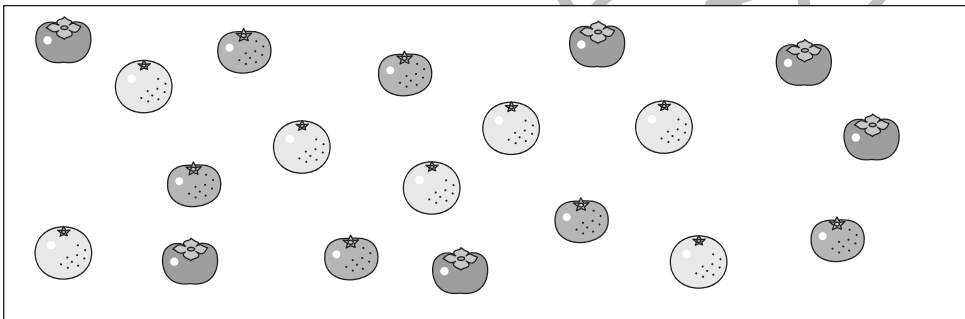
# おうちで、やろう。


Study at home. 小学校受験の家庭学習教材


数量：同数 27


左の四角の中には3種類の果物がありますが、この3つのうち同じ数の果物があります。同じ数の果物を見つけ、右の四角のその果物の場所にその数だけ〇をかきます。




※1. このプリントは、しながわ・目黒こどもスクールのウェブサイトでダウンロードができます。無断複写・引用はご遠慮ください。  
※2. このプリントを活用したオンライン授業のスケジュールは、しながわ・目黒こどもスクールのウェブサイトでご確認ください。






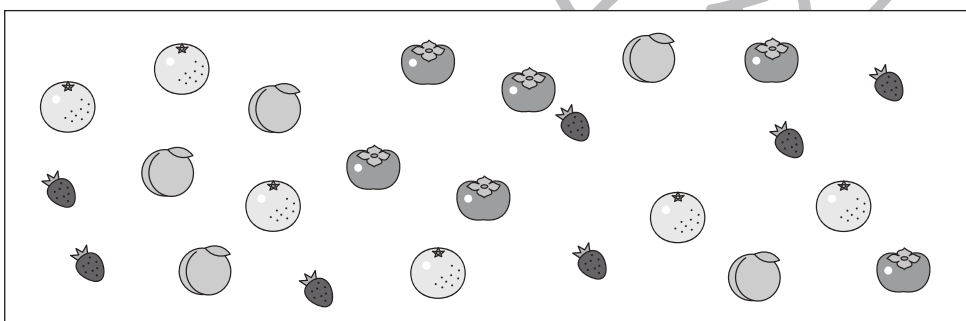
# おうちで、やろう。


Study at home. 小学校受験の家庭学習教材


数量：同数 28


左の四角の中には4種類の果物がありますが、この4つのうち同じ数の果物があります。同じ数の果物をみつけて、右の四角のその果物の場所にその数だけ〇をかきます。




※1. このプリントは、しながわ・目黒こどもスクールのウェブサイトでダウンロードができます。無断複写・引用はご遠慮ください。  
※2. このプリントを活用したオンライン授業のスケジュールは、しながわ・目黒こどもスクールのウェブサイトでご確認ください。



# おうちで、やろう。


Study at home. 小学校受験の家庭学習教材

処理：運筆 27

白い丸から黒い丸まで一本の線をかきます。壁にぶつからないようにきれいに素早く線をかきましょう。

この問題はスピードを意識して取り組む練習をしてみましょう。(30秒～1分)

※えんぴつ、クーピー、水性ペンなどを使用しましょう。 ※この問題に解答はありません。



※1. このプリントは、しながわ・目黒こどもスクールのウェブサイトでダウンロードができます。無断複写・引用はご遠慮ください。

※2. このプリントを活用したオンライン授業のスケジュールは、しながわ・目黒こどもスクールのウェブサイトでご確認ください。

