

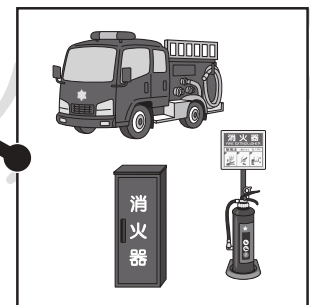





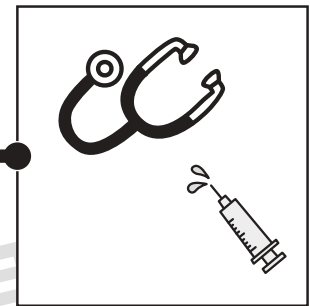

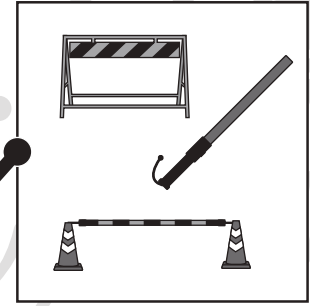



おうちで、やろう。

Study at home. 小学校受験の家庭学習教材

常識：生活 3

左の人が働くときに使うものを右から見つけて点と点を線で結びます。



※1. このプリントは、しながわ・目黒こどもスクールのウェブサイトでダウンロードができます。無断複写・引用はご遠慮ください。

※2. このプリントを活用したオンライン授業のスケジュールは、しながわ・目黒こどもスクールのウェブサイトでご確認ください。



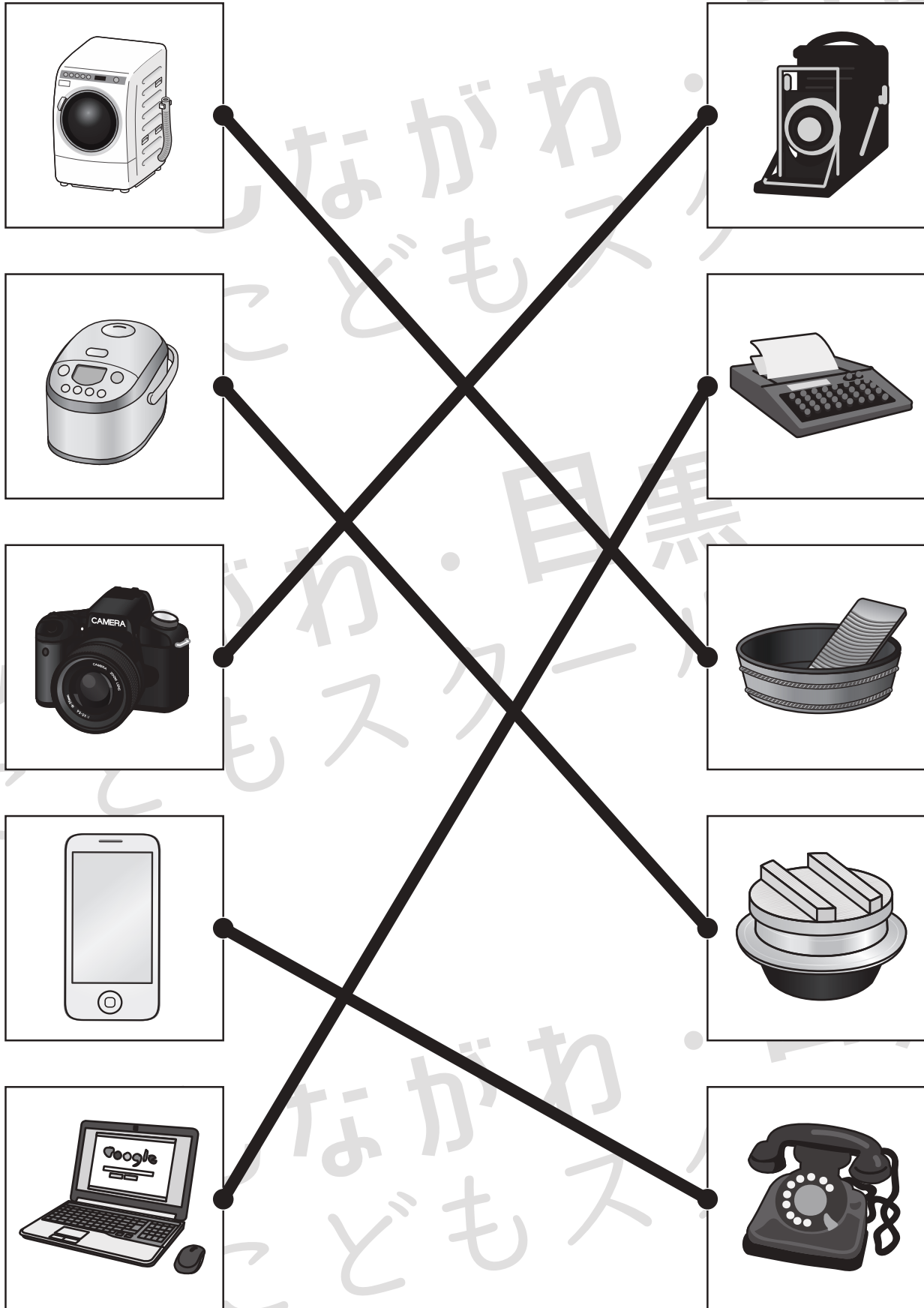


おうちで、やろう。

Study at home. 小学校受験の家庭学習教材

常識：生活4

左は今使っているものです。右は昔使っていたものです。（今も使っているものもあります。）
左と右で同じように使うもの同士をみつけて点と点を線で結びます。



※1. このプリントは、しながわ・目黒こどもスクールのウェブサイトでダウンロードができます。無断複写・引用はご遠慮ください。
※2. このプリントを活用したオンライン授業のスケジュールは、しながわ・目黒こどもスクールのウェブサイトでご確認ください。

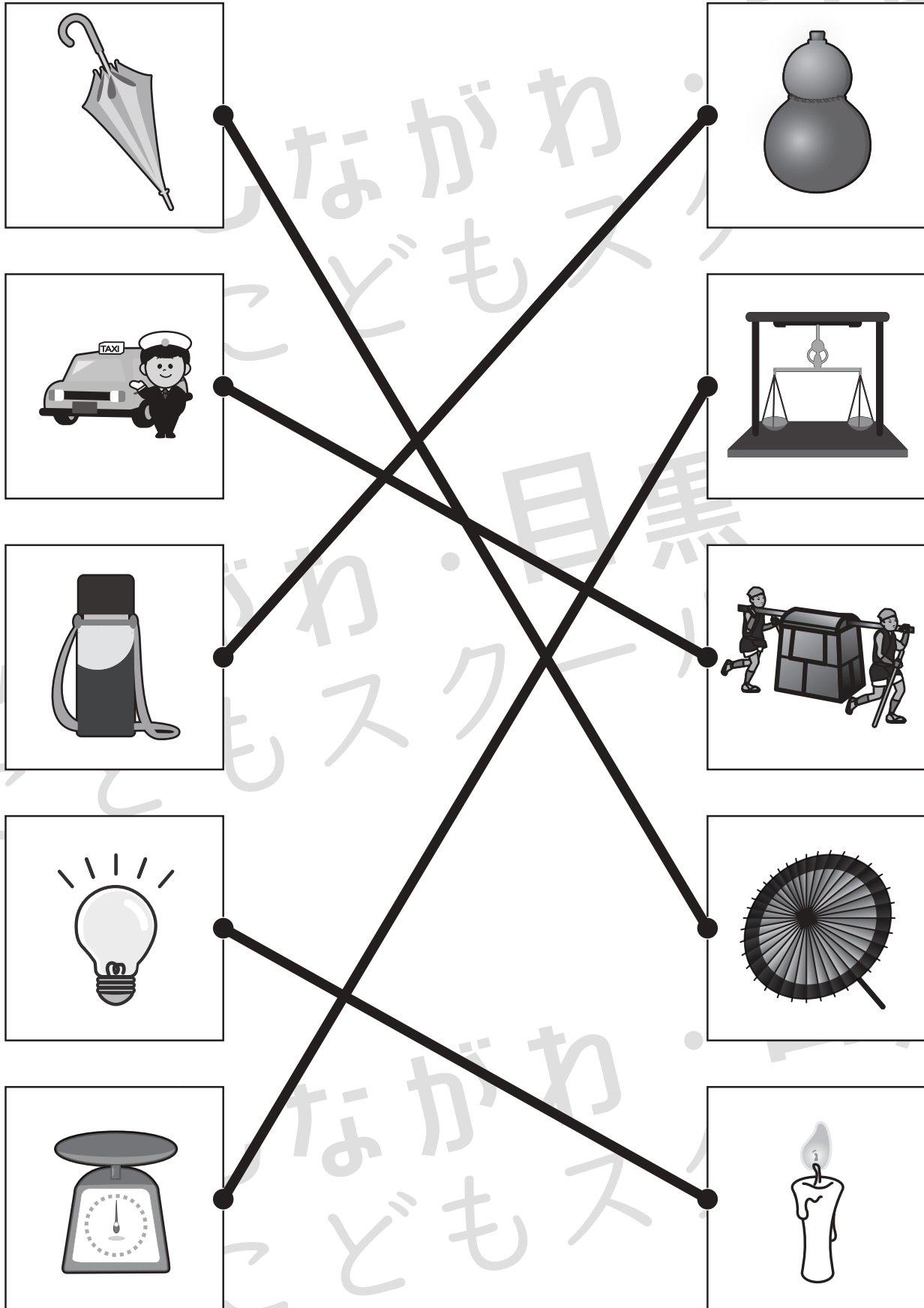


おうちで、やろう。

Study at home. 小学校受験の家庭学習教材

常識：生活 5

左は今使っているものです。右は昔使っていたものです。(今も使っているものもあります。)
左と右で同じように使うもの同士をみつけて点と点を線で結びます。



※1. このプリントは、しながわ・目黒こどもスクールのウェブサイトでダウンロードができます。無断複写・引用はご遠慮ください。
 ※2. このプリントを活用したオンライン授業のスケジュールは、しながわ・目黒こどもスクールのウェブサイトでご確認ください。



おうちで、やろう。

Study at home. 小学校受験の家庭学習教材

推理：じゃんけん 23

女の子と男の子が同じ数だけクッキーを持ってじゃんけんをしました。じゃんけんですつと相手からクッキーを1枚もらえます。あいこのときはなにもありません。この約束のとき、上が女の子が出す手、下が男の子が出す手で5回じゃんけんをしました。最後に持っていたクッキーの数だけ右の太い枠の中に○をかきます。答えは上が女の子が持っている数、下が男の子が持っている数をかきます。

	①	②	③	④	⑤	$\bigcirc \times 2$
	①	②	③	④	⑤	$\bigcirc \times 2$

	①	②	③	④	⑤	$\bigcirc \times 4$
	①	②	③	④	⑤	$\bigcirc \times 2$

	①	②	③	④	⑤	$\bigcirc \times 6$
	①	②	③	④	⑤	$\bigcirc \times 2$

	①	②	③	④	⑤	$\bigcirc \times 2$
	①	②	③	④	⑤	$\bigcirc \times 6$

※1. このプリントは、しながわ・目黒こどもスクールのウェブサイトでダウンロードができます。無断複写・引用はご遠慮ください。

※2. このプリントを活用したオンライン授業のスケジュールは、しながわ・目黒こどもスクールのウェブサイトでご確認ください。



おうちで、やろう。

Study at home. 小学校受験の家庭学習教材

推理：じゃんけん 24

女の子と男の子が同じ数だけクッキーを持ってじゃんけんをしました。じゃんけんですつと相手からクッキーを2枚もらえます。あいこのときはなにもありません。この約束のとき、上が女の子が出す手、下が男の子が出す手で5回じゃんけんをしました。最後に持っていたクッキーの数だけ右の太い枠の中に○をかきます。答えは上が女の子が持っている数、下が男の子が持っている数をかきます。

	①	②	③	④	⑤	$\bigcirc \times 4$
	①	②	③	④	⑤	$\bigcirc \times 4$

	①	②	③	④	⑤	$\bigcirc \times 6$
	①	②	③	④	⑤	$\bigcirc \times 2$

	①	②	③	④	⑤	$\bigcirc \times 3$
	①	②	③	④	⑤	$\bigcirc \times 7$

	①	②	③	④	⑤	$\bigcirc \times 10$
	①	②	③	④	⑤	$\bigcirc \times 2$

※1. このプリントは、しながわ・目黒こどもスクールのウェブサイトダウンロードできます。無断複写・引用はご遠慮ください。
※2. このプリントを活用したオンライン授業のスケジュールは、しながわ・目黒こどもスクールのウェブサイトでご確認ください。



それぞれ左の四角が星の箱の中に入ると色や形が変わります。星の色によってマークの変わり方が違うので約束を考えて、右の四角にかきます。

	→		→	
	→		→	
	→		→	
	→		→	
	→		→	
	→		→	

→

→

→

→

→

→

→

→

→

→

→

→

→

→

→

→

※1. このプリントは、しながわ・目黒こどもスクールのウェブサイトからダウンロードできます。無断複写・引用はご遠慮ください。

※2. このプリントを活用したオンライン授業のスケジュールは、しながわ・目黒こどもスクールのウェブサイトでご確認ください。



おうちで、やろう。

Study at home. 小学校受験の家庭学習教材

推理：ブラックボックス 18

それぞれ左の四角が星の箱の中に入ると色や形が変わります。星の色によってマークの変わり方が違うので約束を考えて、右の四角にかきます。

	→		→	
	→		→	
	→		→	
	→		→	
	→		→	
	→		→	

	→		→		→		→	
--	---	--	---	--	---	--	---	--

	→		→		→		→	
--	---	--	---	--	---	--	---	--

	→		→		→		→	
--	---	--	---	--	---	--	---	--

	→		→		→		→	
--	---	--	---	--	---	--	---	--

※1. このプリントは、しながわ・目黒こどもスクールのウェブサイトでダウンロードができます。無断複写・引用はご遠慮ください。
 ※2. このプリントを活用したオンライン授業のスケジュールは、しながわ・目黒こどもスクールのウェブサイトでご確認ください。

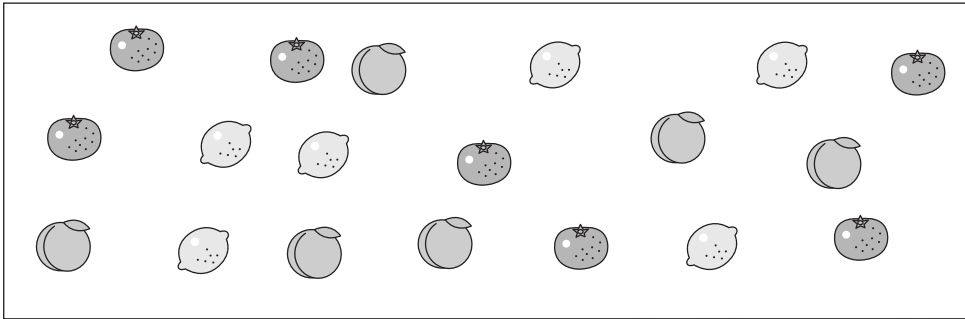


おうちで、やろう。

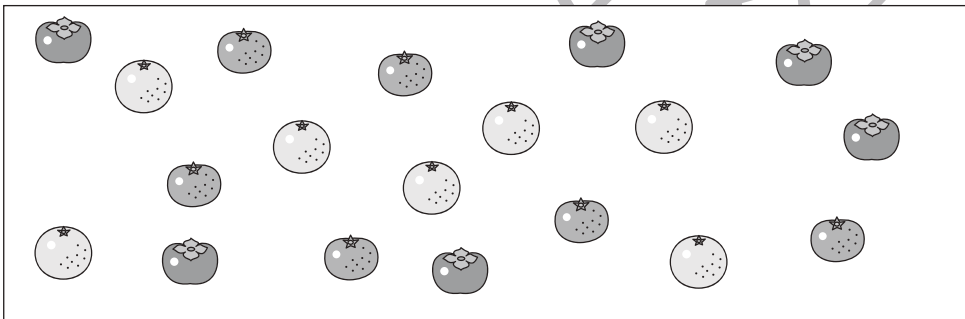
Study at home. 小学校受験の家庭学習教材

数量：同数 27


左の四角の中には3種類の果物がありますが、この3つのうち同じ数の果物があります。同じ数の果物を見つけて、右の四角のその果物の場所にその数だけ〇をかきます。




	○×6
	○×6




	○×6
	○×6



	○×7
	○×7



	○×9
	○×9



	○×10
	○×10

※1. このプリントは、しながわ・目黒こどもスクールのウェブサイトでダウンロードができます。無断複写・引用はご遠慮ください。
※2. このプリントを活用したオンライン授業のスケジュールは、しながわ・目黒こどもスクールのウェブサイトでご確認ください。




おうちで、やろう。

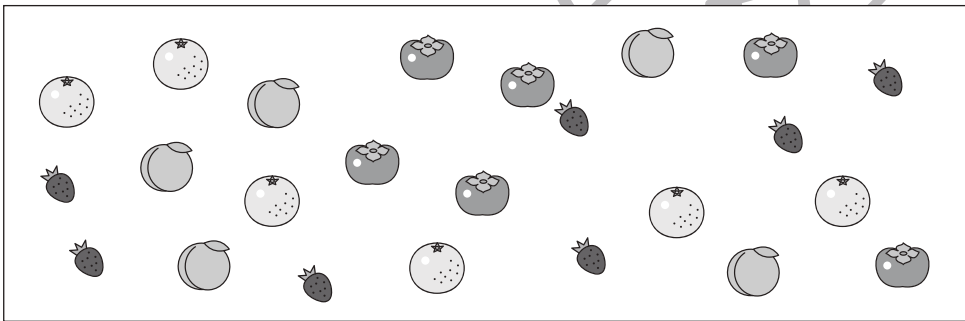
Study at home. 小学校受験の家庭学習教材

数量：同数 28


左の四角の中には4種類の果物がありますが、この4つのうち同じ数の果物があります。同じ数の果物を見つけて、右の四角のその果物の場所にその数だけ〇をかきます。




	○×5
	○×5




	○×6
	○×6



	○×8
	○×8



	○×9
	○×9



	○×10
	○×10

※1. このプリントは、しながわ・目黒こどもスクールのウェブサイトでダウンロードができます。無断複写・引用はご遠慮ください。
※2. このプリントを活用したオンライン授業のスケジュールは、しながわ・目黒こどもスクールのウェブサイトでご確認ください。