


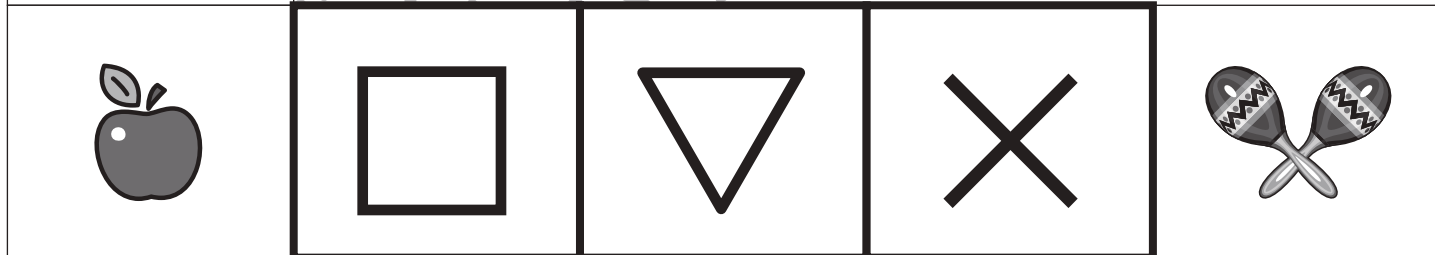





おうちで、やろう。

Study at home. 小学校受験の家庭学習教材

言語：しりとり 10

左上のロケットから右下のマラカスまで、しりとりでつなげていきます。太い四角の中に入る絵を下の四角の中から選んで、それぞれの四角の中の記号をつけます。



※1. このプリントは、しながわ・目黒こどもスクールのウェブサイトからダウンロードできます。無断複写・引用はご遠慮ください。

※2. このプリントを活用したオンライン授業のスケジュールは、しながわ・目黒こどもスクールのウェブサイトでご確認ください。



おうちで、やろう。

Study at home. 小学校受験の家庭学習教材

言語：しりとり 11

左上のロケットから右下のマラカスまで、はじめから 2 番目の音でしりとりでつなげていきます。太い四角の中に入る絵を下の四角の中から選んで、それぞれの四角の中の記号をつけます。

※1. このプリントは、しながわ・目黒こどもスクールのウェブサイトでダウンロードができます。無断複写・引用はご遠慮ください。

※2. このプリントを活用したオンライン授業のスケジュールは、しながわ・目黒こどもスクールのウェブサイトでご確認ください。



おうちで、やろう。

Study at home. 小学校受験の家庭学習教材

図形：回転重ね1

マークが描かれた透明な板が4枚あり、灰色の点を軸にして真ん中の点線の上まで移動させることができます。右の四角の中のように板が重なったとき、点線の丸の中がどのような模様になるのかを考えて塗りましょう。

※1. このプリントは、しながわ・目黒こどもスクールのウェブサイトでダウンロードができます。無断複写・引用はご遠慮ください。

※2. このプリントを活用したオンライン授業のスケジュールは、しながわ・目黒こどもスクールのウェブサイトでご確認ください。

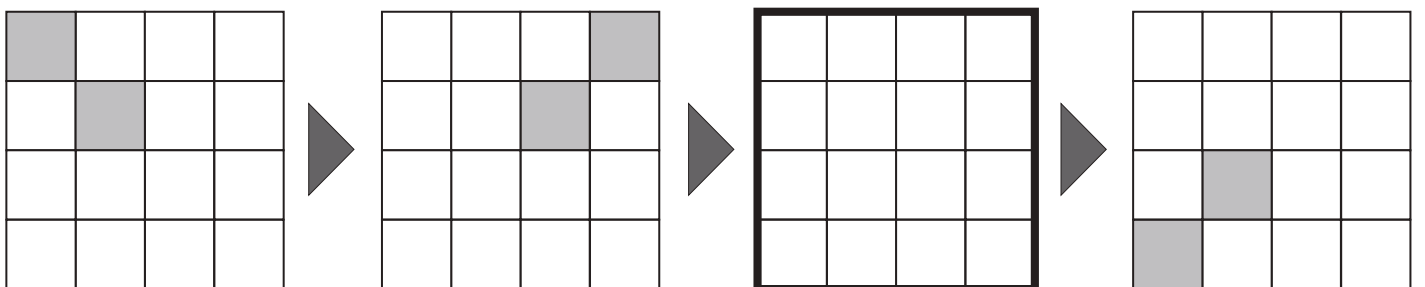
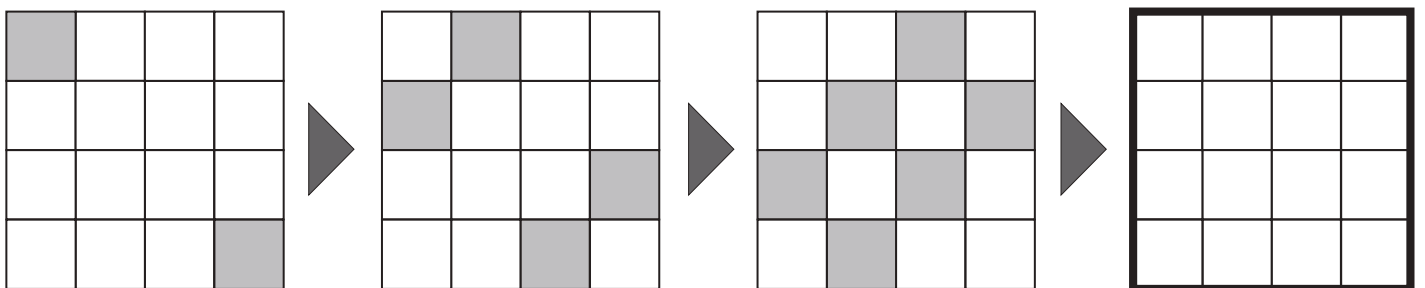
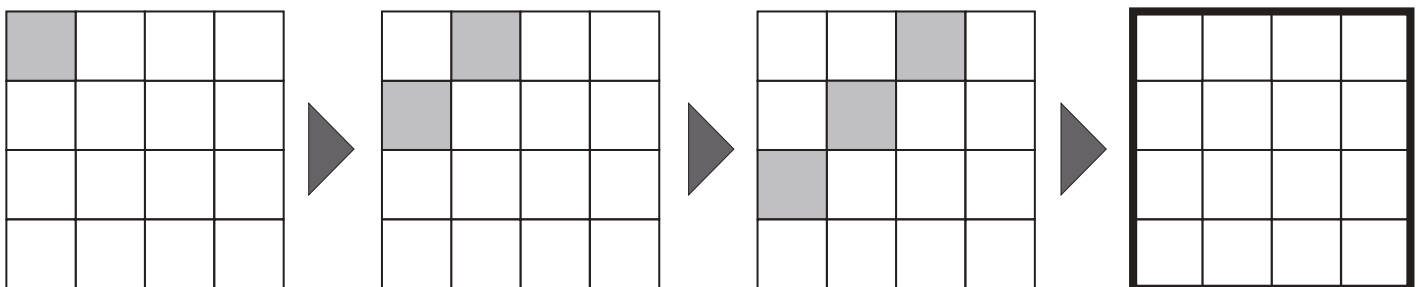
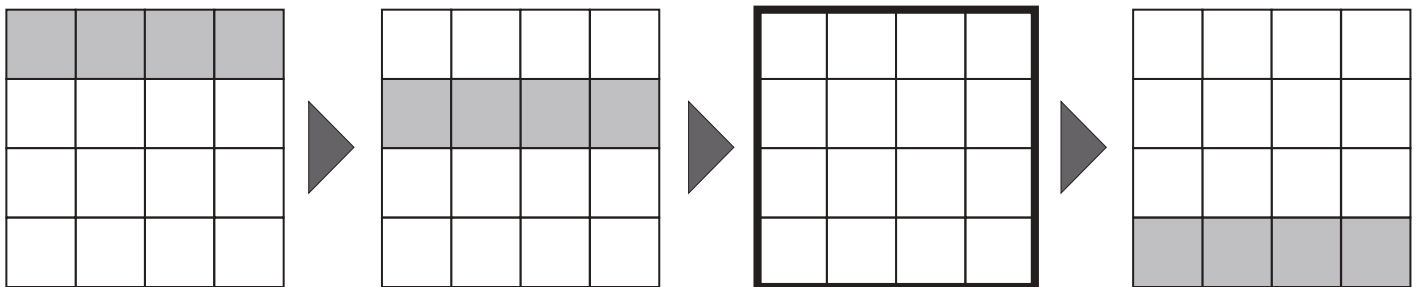
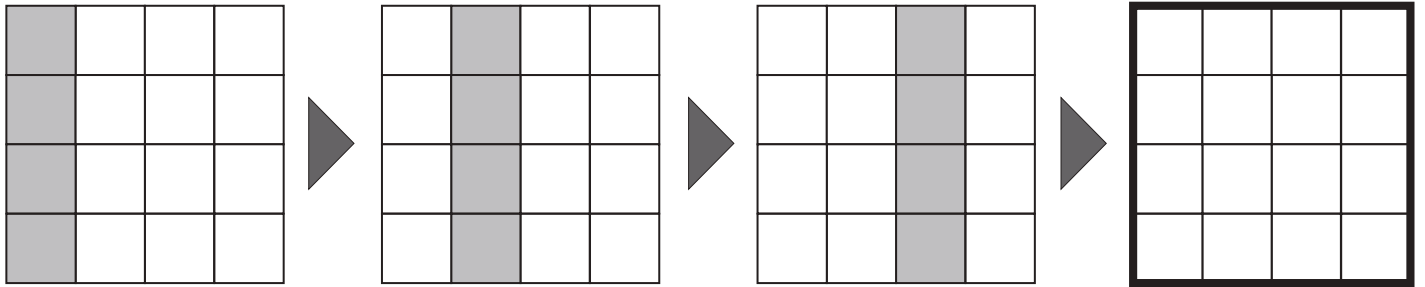


おうちで、やろう。

Study at home. 小学校受験の家庭学習教材

推理：系列完成 18

下の四角の中には白いマスと灰色のマスがあります。灰色のマスがある約束通りに動いたり、増えたりします。どんな約束なのかを考えて、太い四角の模様を塗ります。



※1. このプリントは、しながわ・目黒こどもスクールのウェブサイトでダウンロードができます。無断複写・引用はご遠慮ください。
 ※2. このプリントを活用したオンライン授業のスケジュールは、しながわ・目黒こどもスクールのウェブサイトでご確認ください。

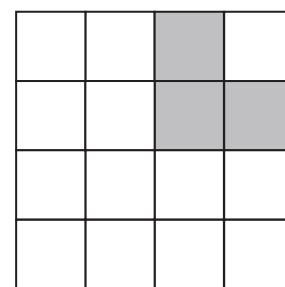

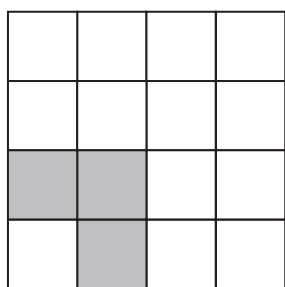
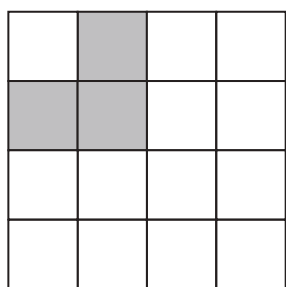
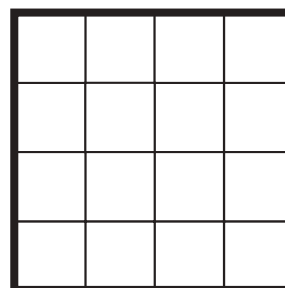

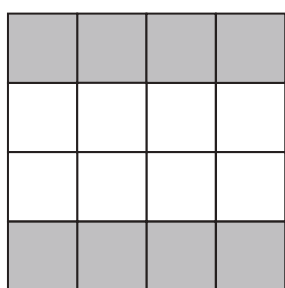
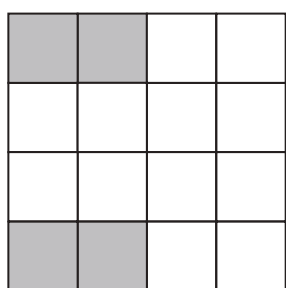
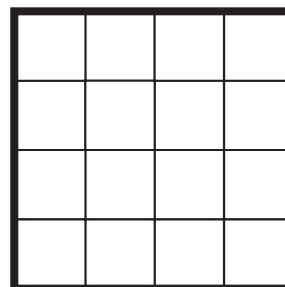

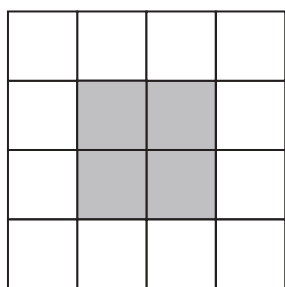
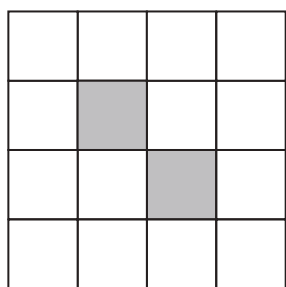


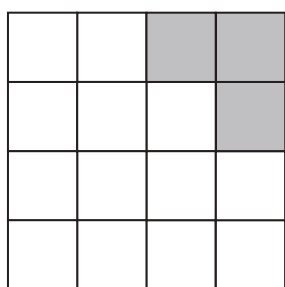
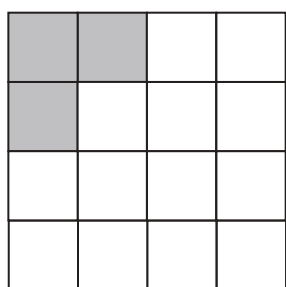



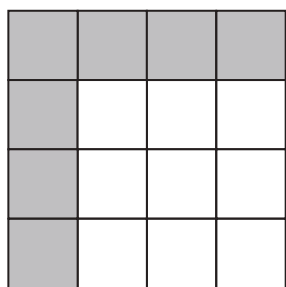


おうちで、やろう。

Study at home. 小学校受験の家庭学習教材

推理：系列完成 19

下の四角の中には白いマスと灰色のマスがあります。灰色のマスがある約束通りに動いたり、増えたりします。どんな約束なのかを考えて、太い四角の模様を塗ります。



※1. このプリントは、しながわ・目黒こどもスクールのウェブサイトからダウンロードできます。無断複写・引用はご遠慮ください。

※2. このプリントを活用したオンライン授業のスケジュールは、しながわ・目黒こどもスクールのウェブサイトでご確認ください。





おうちで、やろう。

Study at home. 小学校受験の家庭学習教材

数量：的当てゲーム1

4人のお友だちでの的当てゲームをしました。的は左上の灰色の四角で動物の顔が描いてあるものです。この的にボールを投げて当たった場所に描いてある動物によって飴がもらえます。もらえる飴は的の右の四角の中の数です。この約束で1人3回ボールを投げました。あたった的はそれぞれのお友だちの右にある太い3つの四角の中の絵です。×印の場所はボールが的から外れてどこにもあたりませんでした。この時、それぞれがもらった飴の数だけ一番右の四角の中に○をかきます。

			×	
--	--	--	---	--

	×			
--	---	--	--	--

		×		
--	--	---	--	--

--	--	--	--	--

※1. このプリントは、しながわ・目黒こどもスクールのウェブサイトでダウンロードができます。無断複写・引用はご遠慮ください。
 ※2. このプリントを活用したオンライン授業のスケジュールは、しながわ・目黒こどもスクールのウェブサイトでご確認ください。



おうちで、やろう。

Study at home. 小学校受験の家庭学習教材

数量：的当てゲーム2

4人のお友だちでの的当てゲームをしました。的は左上の灰色の四角で動物の顔が描いてあるものです。この的にボールを投げて当たった場所に描いてある動物によって飴がもらえます。もらえる飴は的の右の四角の中の数です。この約束で1人4回ボールを投げました。当たった的はそれぞれのお友だちの右にある太い4つの四角の中の絵です。×印の的は飴を2つ返さなくてはなりません。○印の場所はボールが的から外れてどこにもあたりませんでした。この時、それぞれがもらった飴の数だけ一番右の四角の中に○をかきます。

×								
		×						
	×							

		×		○	
--	--	---	--	---	--

				×	
--	--	--	--	---	--

			×	○	
--	--	--	---	---	--

	○				
--	---	--	--	--	--

※1. このプリントは、しながわ・目黒こどもスクールのウェブサイトでダウンロードができます。無断複写・引用はご遠慮ください。
※2. このプリントを活用したオンライン授業のスケジュールは、しながわ・目黒こどもスクールのウェブサイトでご確認ください。



おうちで、やろう。

Study at home. 小学校受験の家庭学習教材

図形：点図形 64

左の四角の中に描かれている形を右の四角の中に同じようにかきます。左のお手本が線のとときは鉛筆、点線のとときは青のクーピーでかきます。 ※この問題に解答はありません。

※1. このプリントは、しながわ・目黒こどもスクールのウェブサイトでダウンロードができます。無断複写・引用はご遠慮ください。
※2. このプリントを活用したオンライン授業のスケジュールは、しながわ・目黒こどもスクールのウェブサイトでご確認ください。

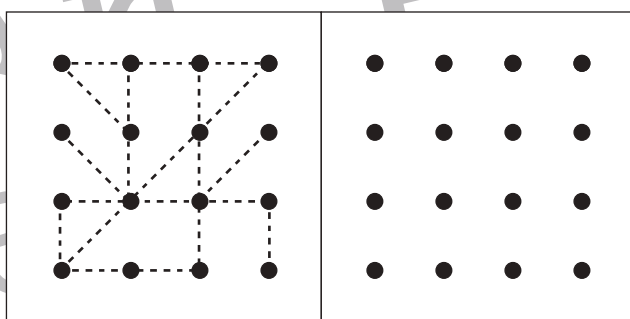
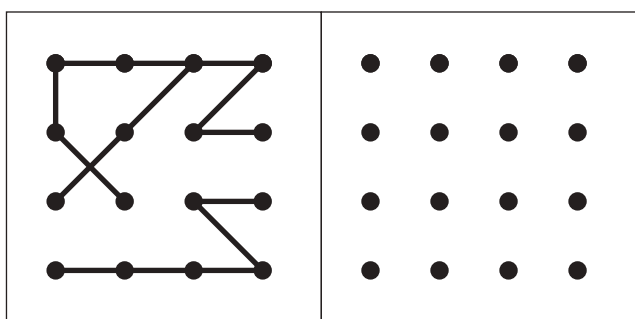
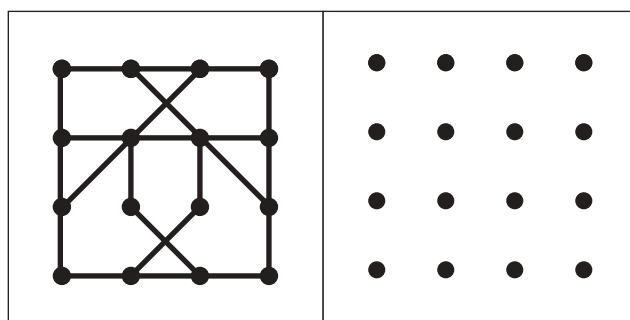
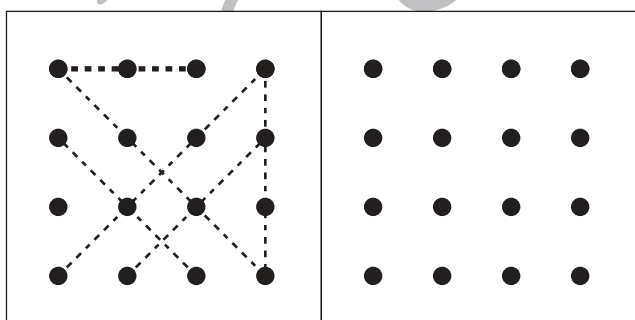
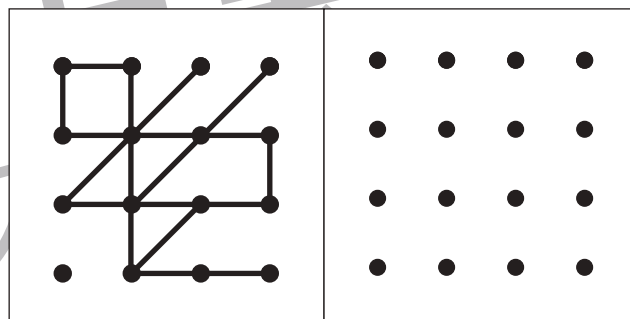
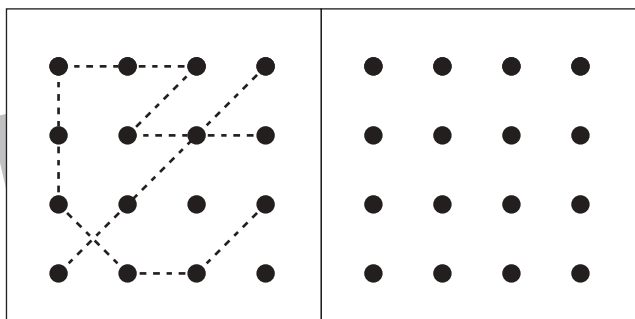
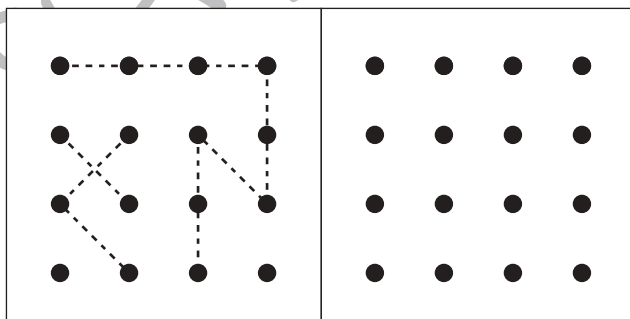
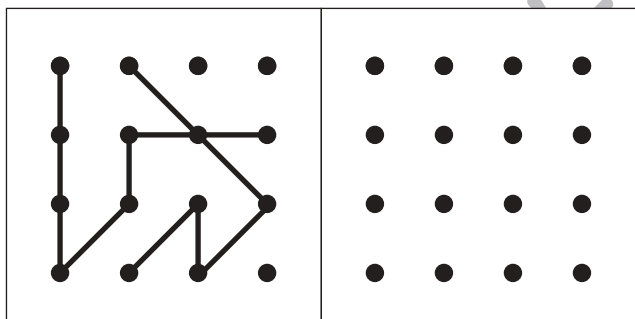
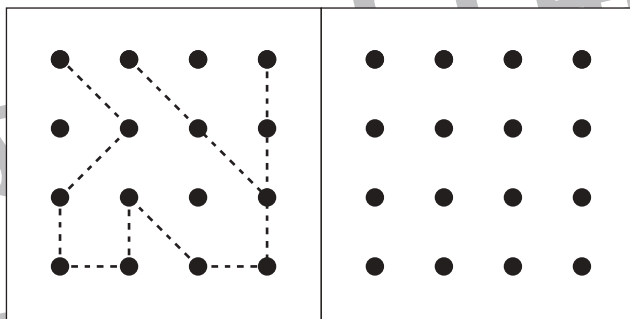
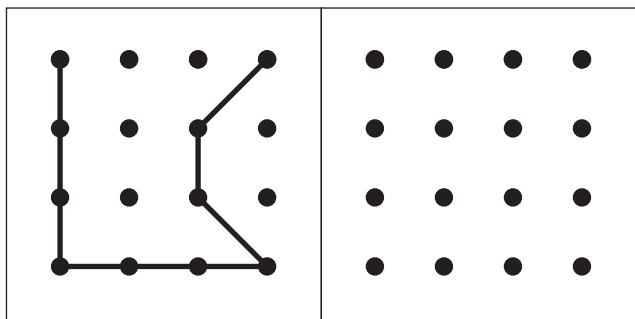


おうちで、やろう。

Study at home. 小学校受験の家庭学習教材

図形：点図形 63

左の四角の中に描かれている形を右の四角の中に同じようにかきます。左のお手本が線のとときは鉛筆、点線のとときは青のクーピーでかきます。 ※この問題に解答はありません。



※1. このプリントは、しながわ・目黒こどもスクールのウェブサイトでダウンロードができます。無断複写・引用はご遠慮ください。
※2. このプリントを活用したオンライン授業のスケジュールは、しながわ・目黒こどもスクールのウェブサイトでご確認ください。



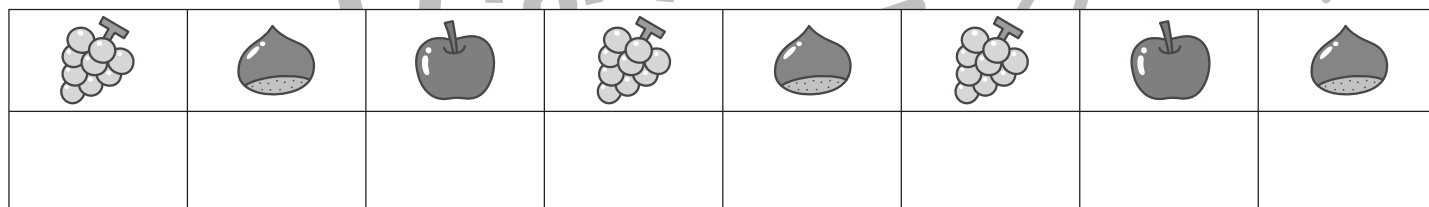







おうちで、やろう。

Study at home. 小学校受験の家庭学習教材

処理能力：置き換え2

上の太い四角の中の絵がお手本です。上の絵の時に下の四角にそれぞれの記号をかきます。問題は一番上の段の左からはじめて、右端まで見ます。1段目ができたら2段目の左から右。次に3段目の左から右と順番に記号をかきます。この問題はできるだけ早く印をつけます。それぞれ1分以内を目指し取り組みましょう。



※1. このプリントは、しながわ・目黒こどもスクールのウェブサイトでダウンロードができます。無断複写・引用はご遠慮ください。
 ※2. このプリントを活用したオンライン授業のスケジュールは、しながわ・目黒こどもスクールのウェブサイトでご確認ください。