

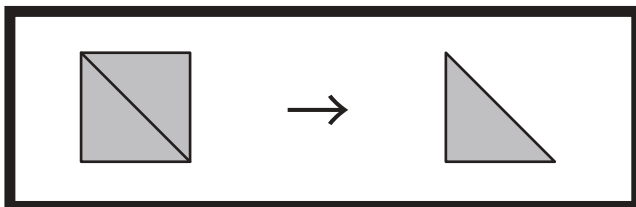


おうちで、やろう。

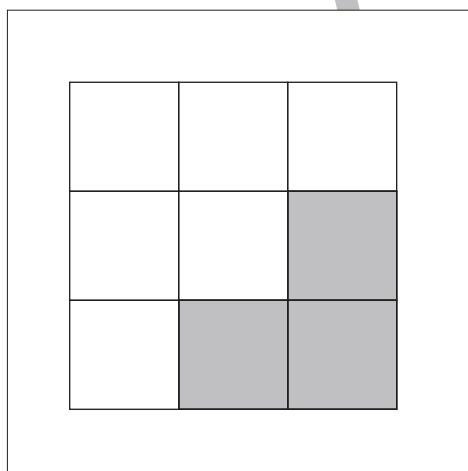
Study at home. 小学校受験の家庭学習教材

図形：三角パズル8

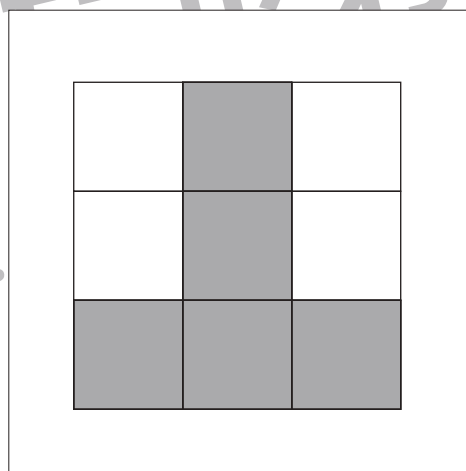
上の太い四角の中の四角を半分にして三角パズルを作りました。この三角パズルを使ってそれぞれの形を作ります。それぞれ形は三角パズルを何枚使えばできるのかを考えて、下の四角の中にその数だけ〇をかきます。



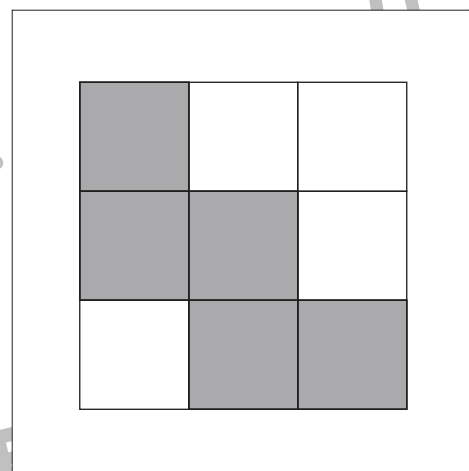
目黒



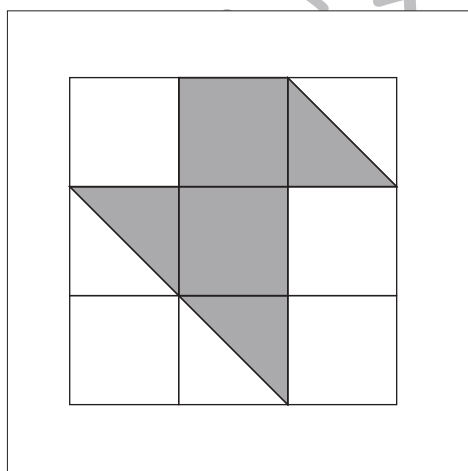
〇 × 6



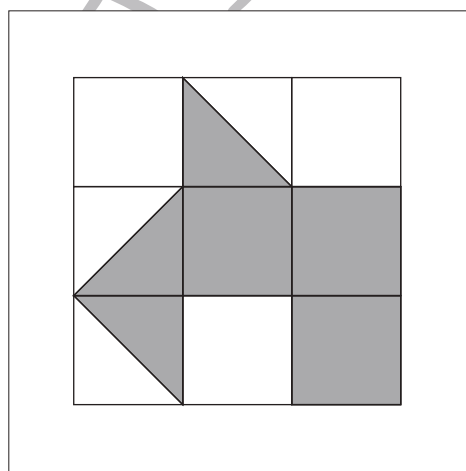
〇 × 10



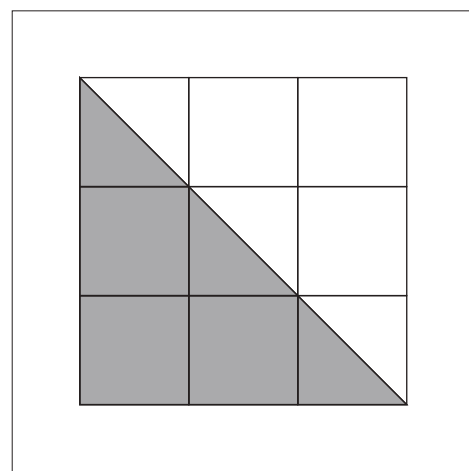
〇 × 10



〇 × 7



〇 × 9



〇 × 9

※1. このプリントは、しながわ・目黒こどもスクールのウェブサイトでダウンロードができます。無断複写・引用はご遠慮ください。
※2. このプリントを活用したオンライン授業のスケジュールは、しながわ・目黒こどもスクールのウェブサイトでご確認ください。

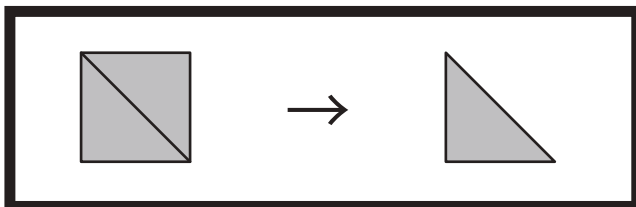


おうちで、やろう。

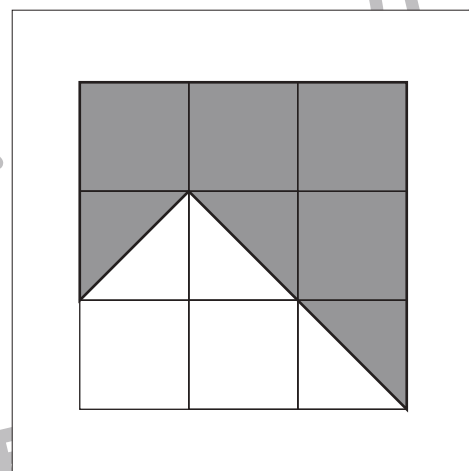
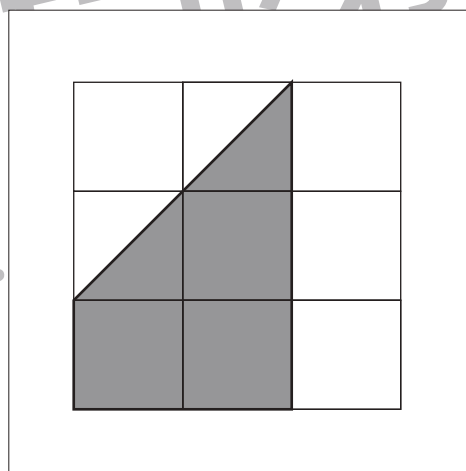
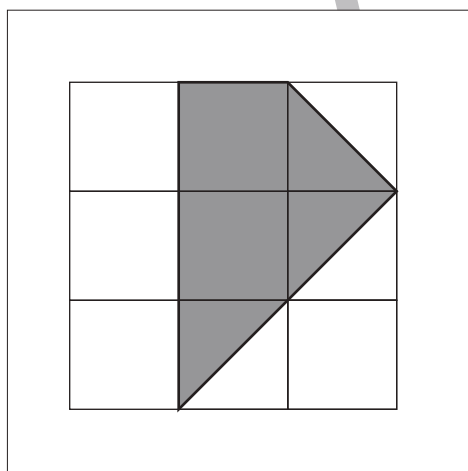
Study at home. 小学校受験の家庭学習教材

図形：三角パズル9

上の太い四角の中の四角を半分にして三角パズルを作りました。この三角パズルを使ってそれぞれの形を作ります。それぞれ形は三角パズルを何枚使えばできるのかを考えて、下の四角の中にその数だけ〇をかきます。



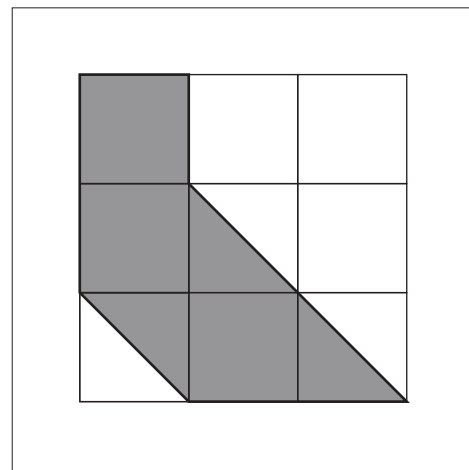
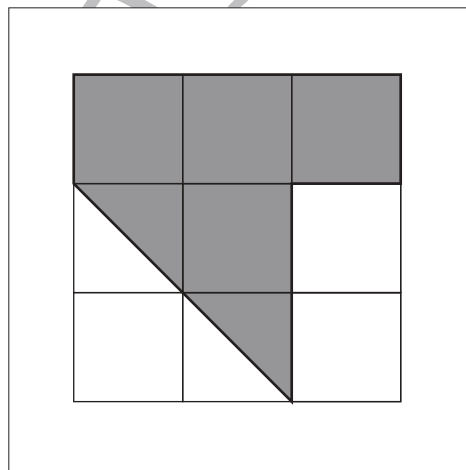
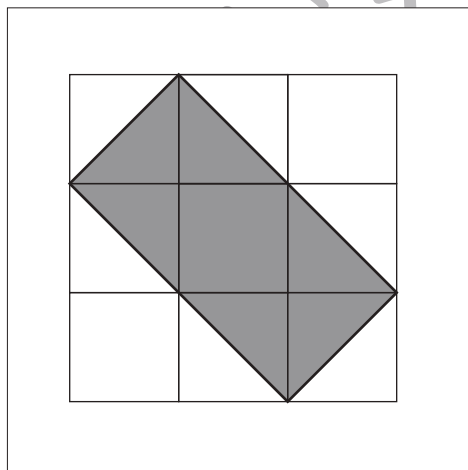
目黒



〇 × 7

〇 × 8

〇 × 11



〇 × 8

〇 × 10

〇 × 9

※1. このプリントは、しながわ・目黒こどもスクールのウェブサイトでダウンロードができます。無断複写・引用はご遠慮ください。
※2. このプリントを活用したオンライン授業のスケジュールは、しながわ・目黒こどもスクールのウェブサイトでご確認ください。

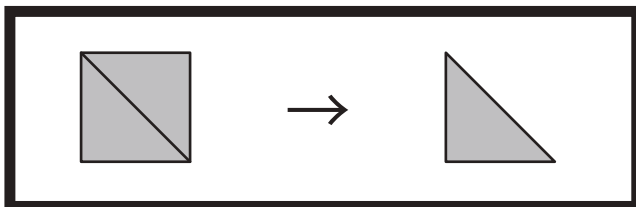


おうちで、やろう。

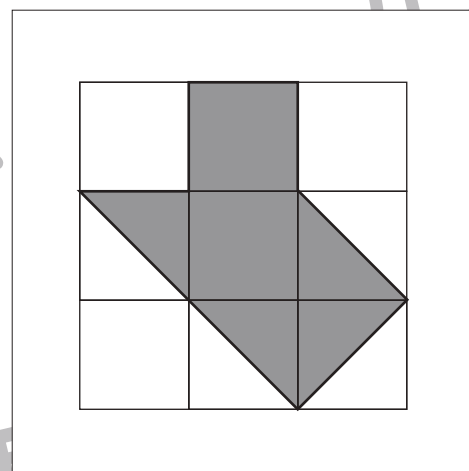
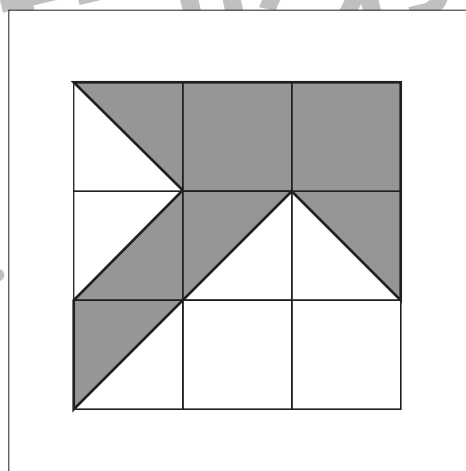
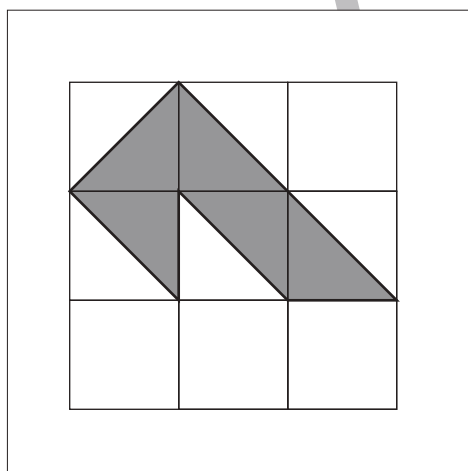
Study at home. 小学校受験の家庭学習教材

図形：三角パズル 10

上の太い四角の中の四角を半分にして三角パズルを作りました。この三角パズルを使ってそれぞれの形を作ります。それぞれ形は三角パズルを何枚使えばできるのかを考えて、下の四角の中にその数だけ〇をかきます。



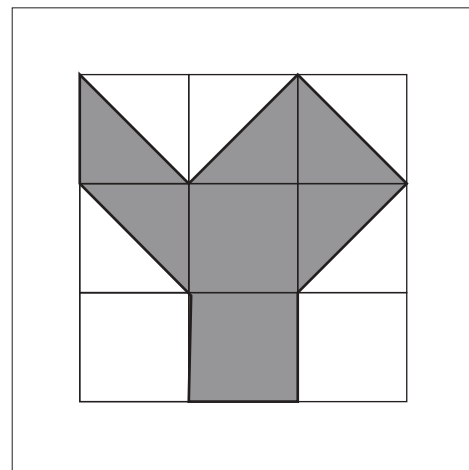
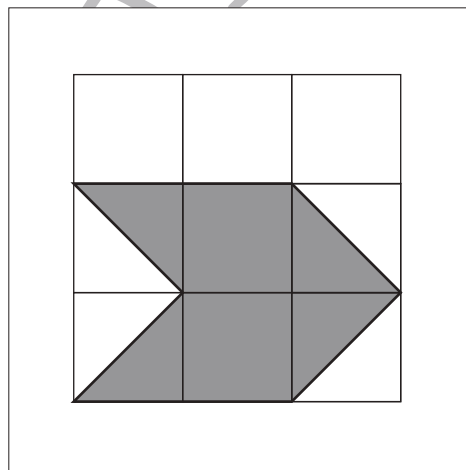
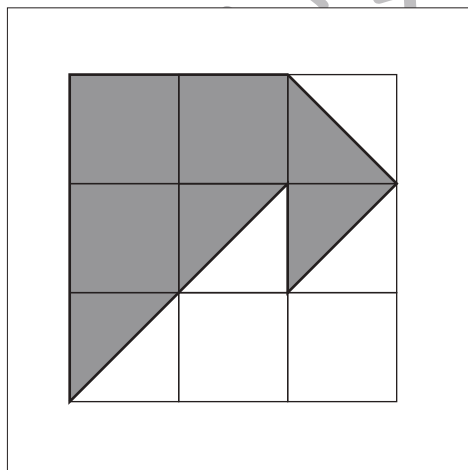
目黒



〇 × 5

〇 × 9

〇 × 8



〇 × 10

〇 × 8

〇 × 9

※1. このプリントは、しながわ・目黒こどもスクールのウェブサイトでダウンロードができます。無断複写・引用はご遠慮ください。
※2. このプリントを活用したオンライン授業のスケジュールは、しながわ・目黒こどもスクールのウェブサイトでご確認ください。

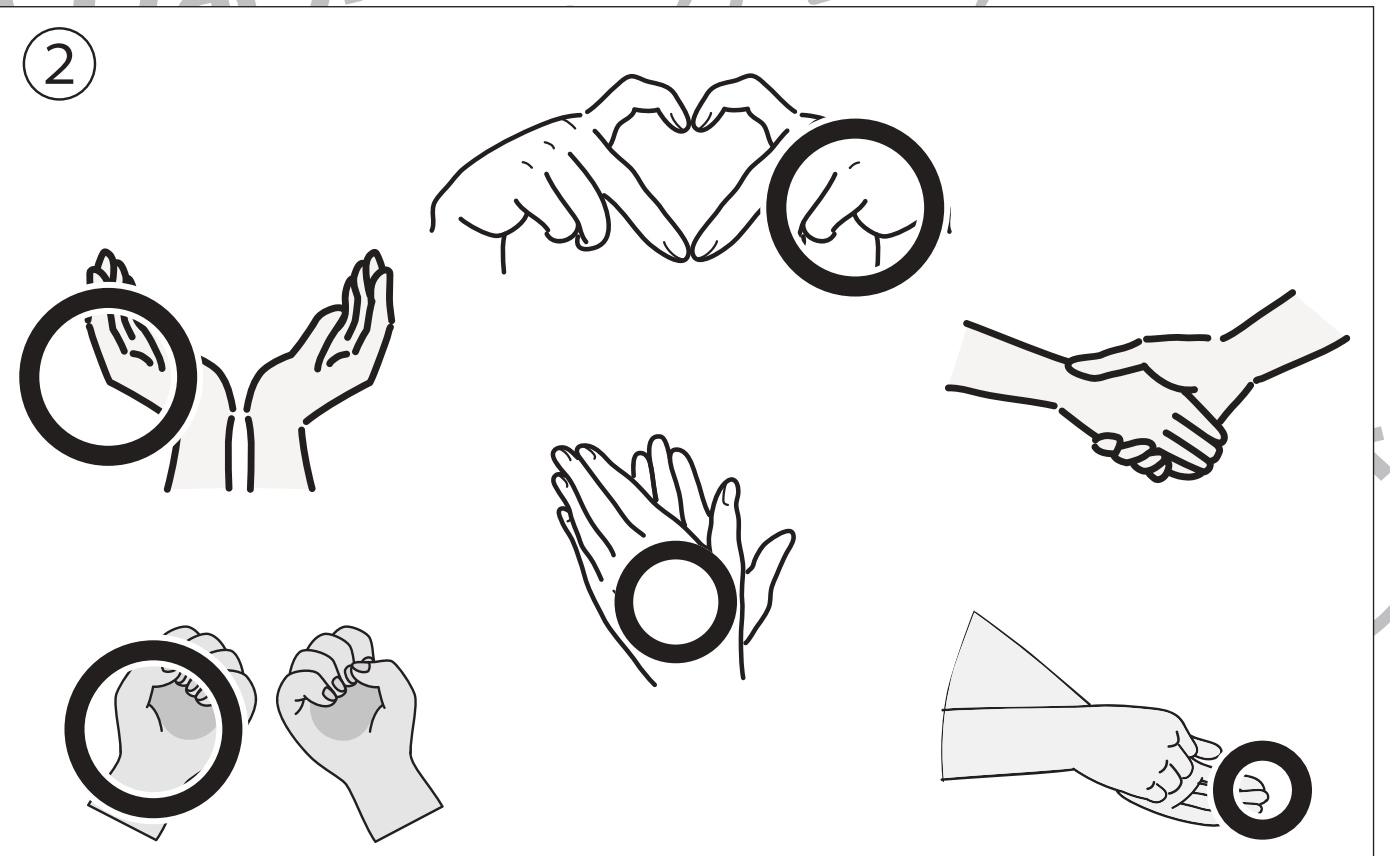



おうちで、よろう。

Study at home. 小学校受験の家庭学習教材

推理：左右9

- ①右手に○をつけます。
- ②左手に○をつけます。



※1. このプリントは、しながわ・目黒こどもスクールのウェブサイトからダウンロードができます。無断複写・引用はご遠慮ください。
※2. このプリントを活用したオンライン授業のスケジュールは、しながわ・目黒こどもスクールのウェブサイトでご確認ください。





おうちで、やろう。

Study at home. 小学校受験の家庭学習教材

推理：左右10

- ①右手をあげている人に○をつけます。
- ②ものを左手で持っている人に○をつけます。



※1. このプリントは、しながわ・目黒こどもスクールのウェブサイトダウンロードができます。無断複写・引用はご遠慮ください。
 ※2. このプリントを活用したオンライン授業のスケジュールは、しながわ・目黒こどもスクールのウェブサイトでご確認ください。

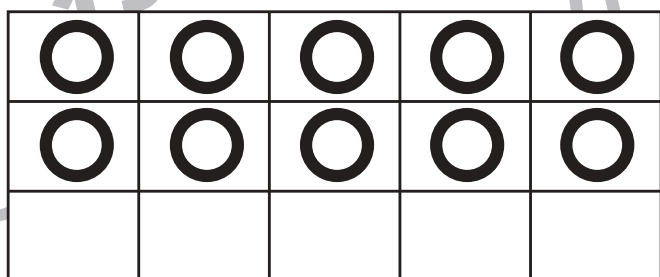


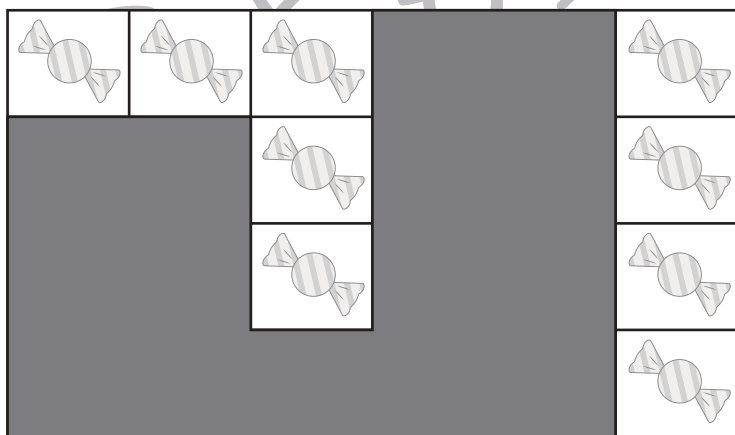
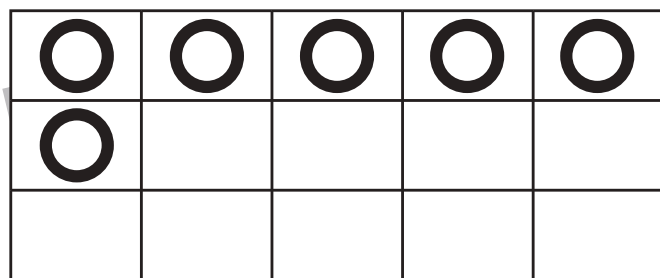
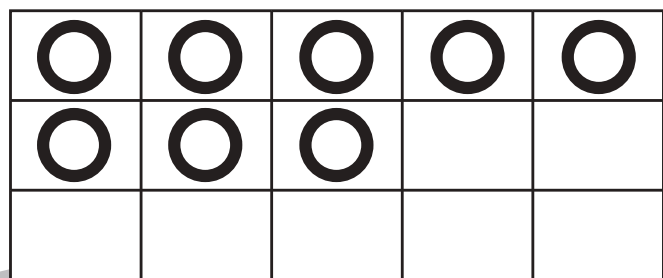
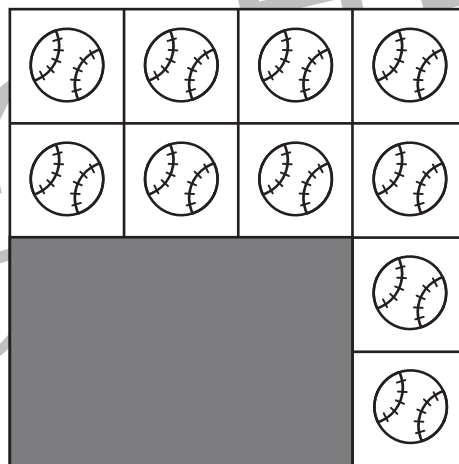
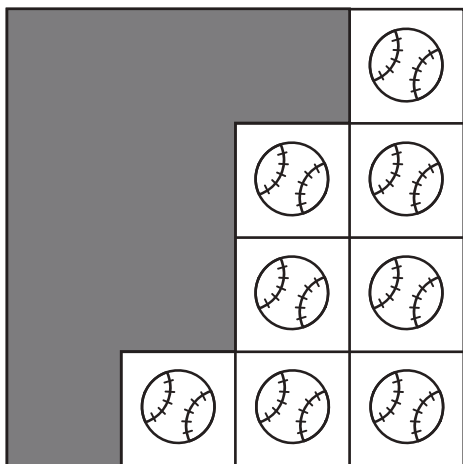


おうちで、やろう。

Study at home. 小学校受験の家庭学習教材

数量：隠れた数4

それぞれの形の中にはある決まりで絵がいくつか並んでいます。このとき、黒い場所に隠れている絵はいくつありますか。その数だけ下のマスに○をかきます。



※1. このプリントは、しながわ・目黒こどもスクールのウェブサイトでダウンロードができます。無断複写・引用はご遠慮ください。
 ※2. このプリントを活用したオンライン授業のスケジュールは、しながわ・目黒こどもスクールのウェブサイトでご確認ください。





おうちで、やろう。

Study at home. 小学校受験の家庭学習教材

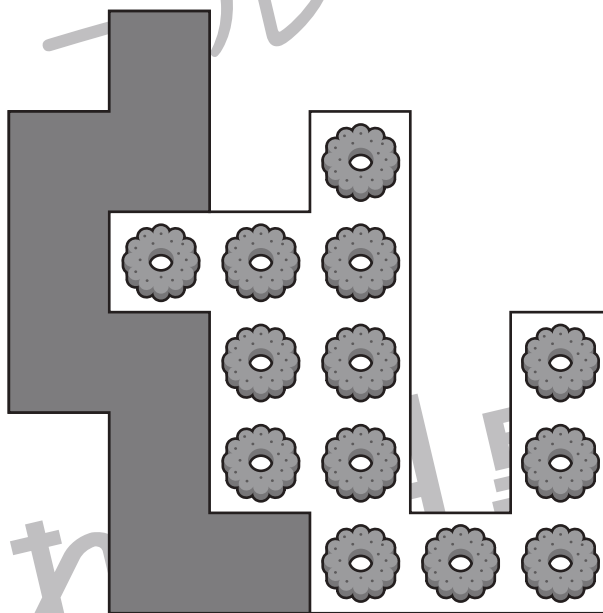
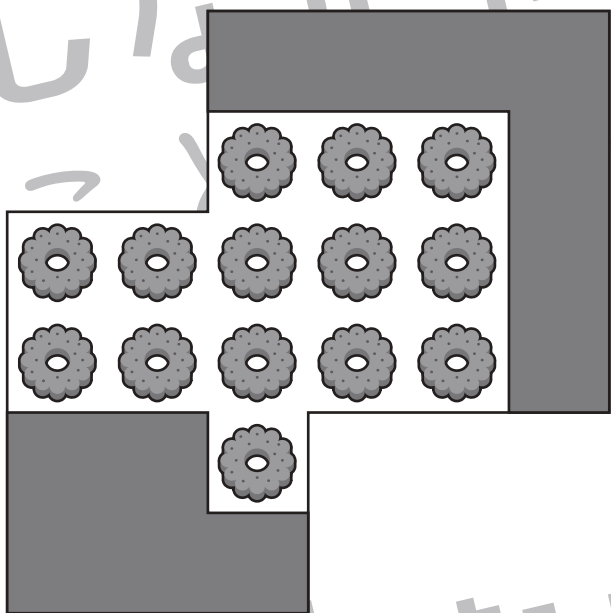
数量：隠れた数5

それぞれの形の中にはある決まりで絵がいくつか並んでいます。このとき、黒い場所に隠れている絵はいくつありますか。その数だけ下のマスに○をかきます。



○	○	○	○	○
○	○	○	○	○
○				

○	○	○	○	○
○	○	○	○	○
○	○			



○	○	○	○	○
○	○	○	○	○
○	○			

○	○	○	○	○
○	○	○	○	

※1. このプリントは、しながわ・目黒こどもスクールのウェブサイトでダウンロードができます。無断複写・引用はご遠慮ください。
※2. このプリントを活用したオンライン授業のスケジュールは、しながわ・目黒こどもスクールのウェブサイトでご確認ください。

