

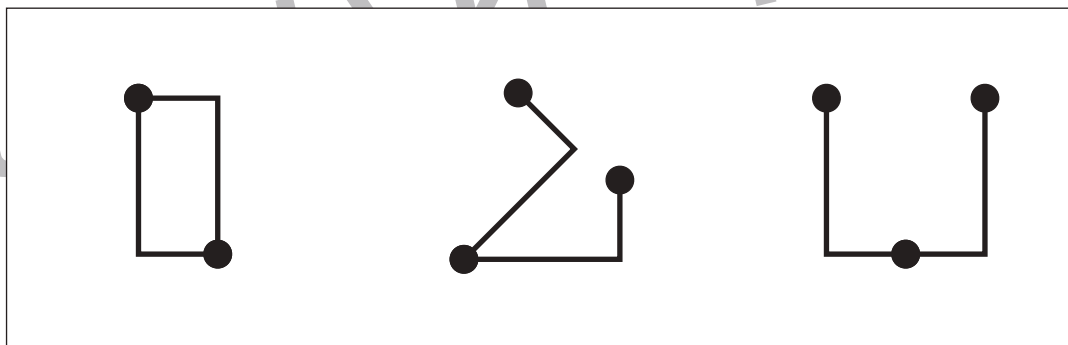
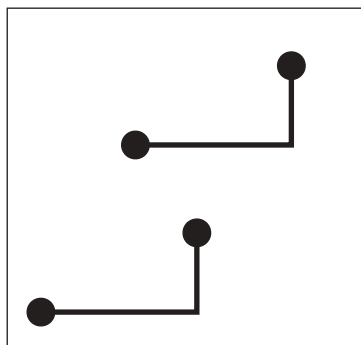
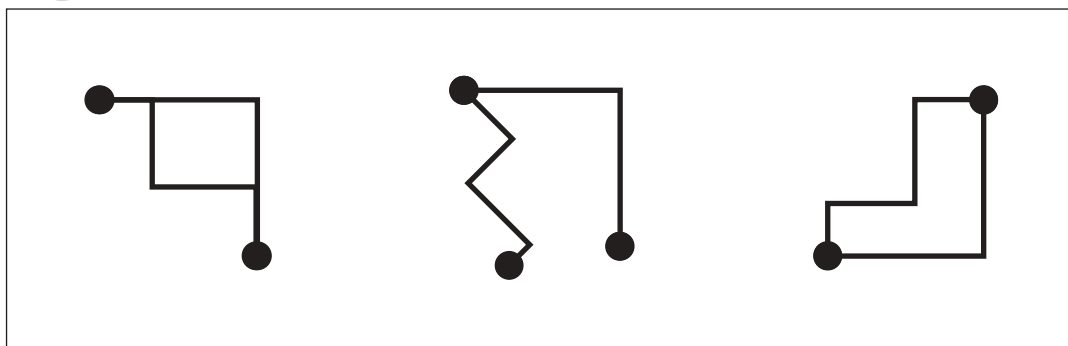
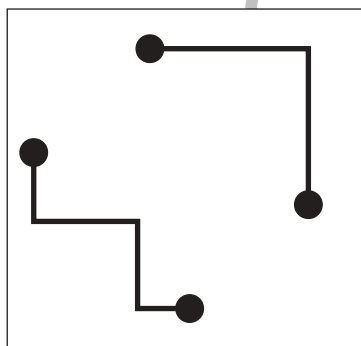
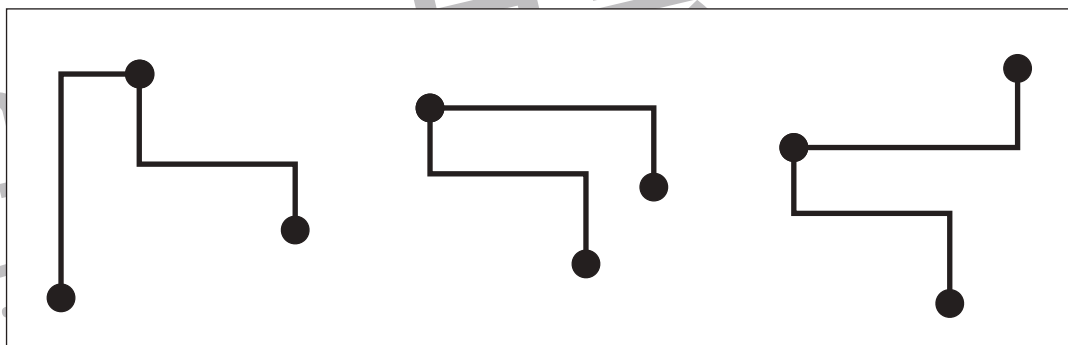
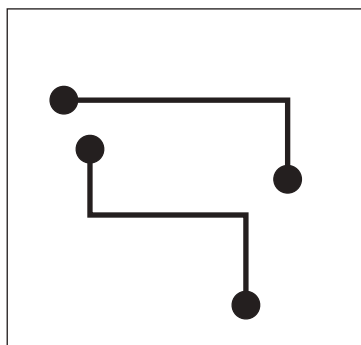
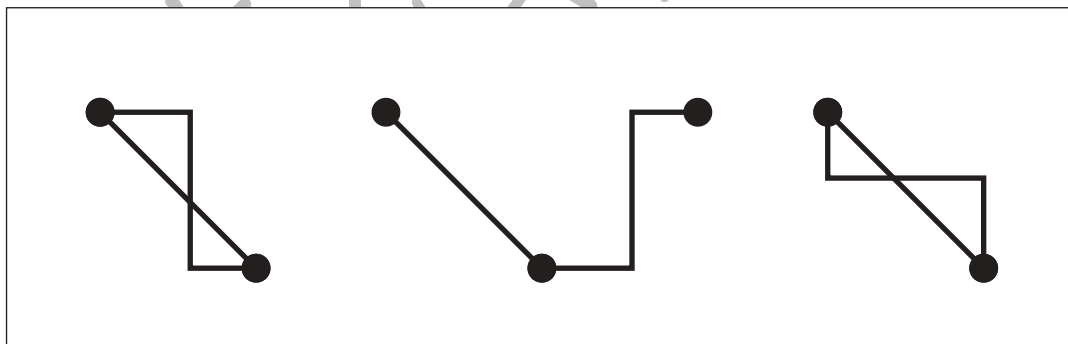
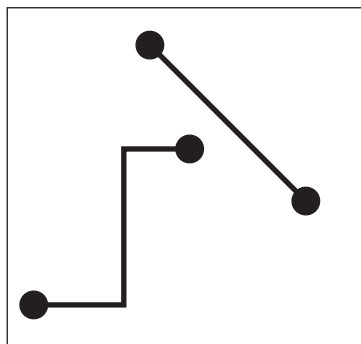
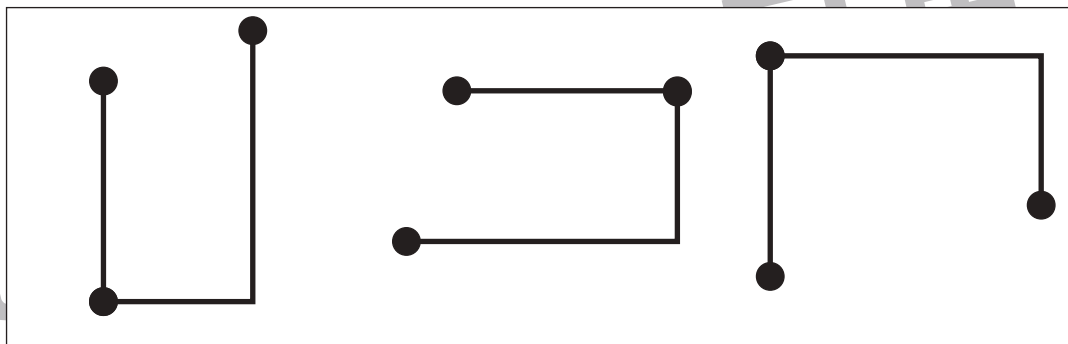
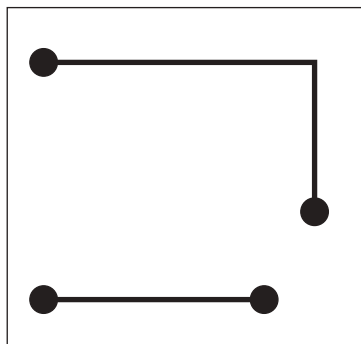


おうちで、やろう。

Study at home. 小学校受験の家庭学習教材

図形：重ね 43

左の四角の中の2つの線の黒い点を重ねたものが右の四角の中にあります。点と点を重ねるときは回してもよいですが、裏返してはいけません。この約束のとき、できないものを右の3つの中から1つ見つけて×をつけます。



※1. このプリントは、しながわ・目黒こどもスクールのウェブサイトでダウンロードができます。無断複写・引用はご遠慮ください。
※2. このプリントを活用したオンライン授業のスケジュールは、しながわ・目黒こどもスクールのウェブサイトでご確認ください。



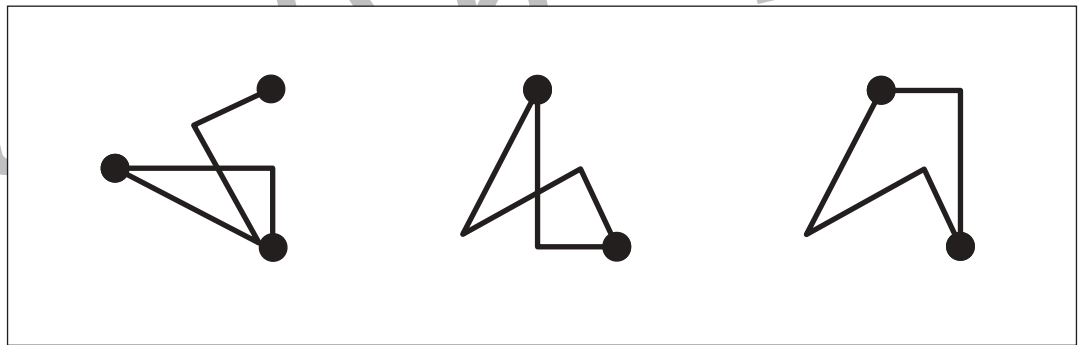
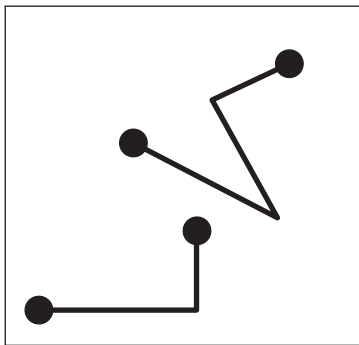
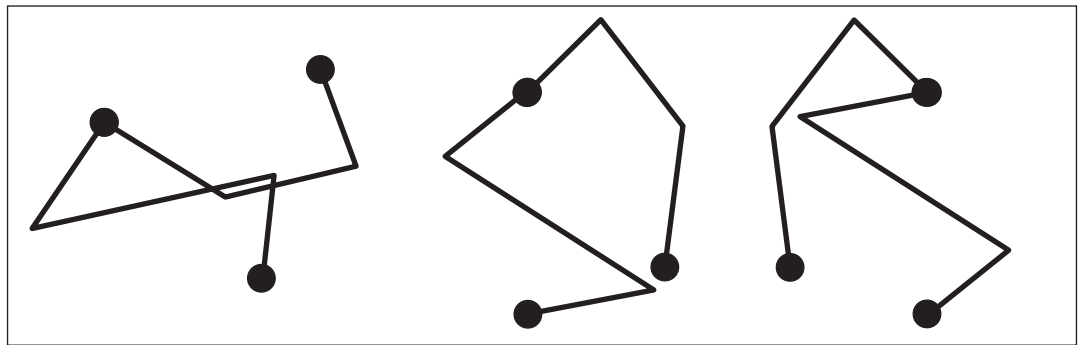
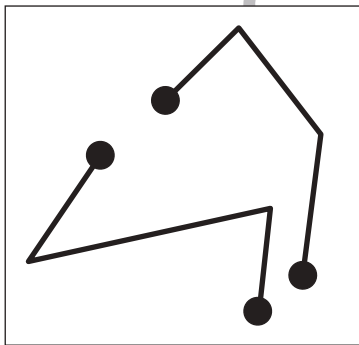
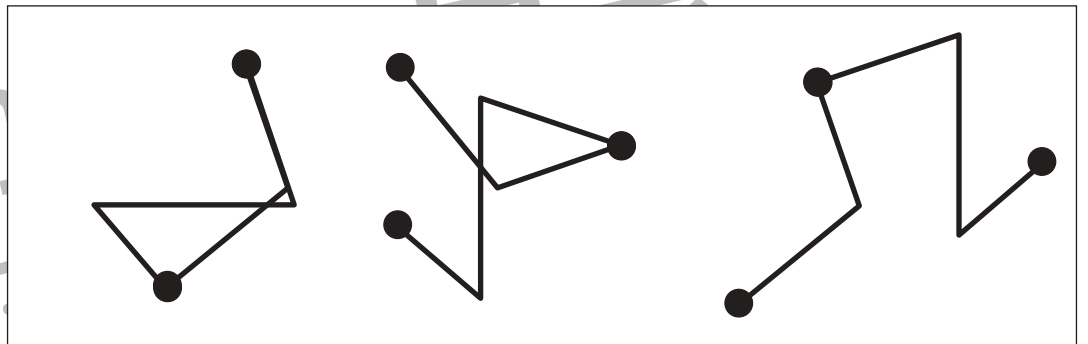
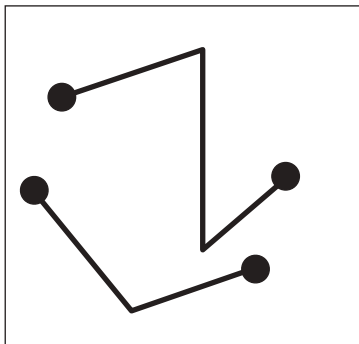
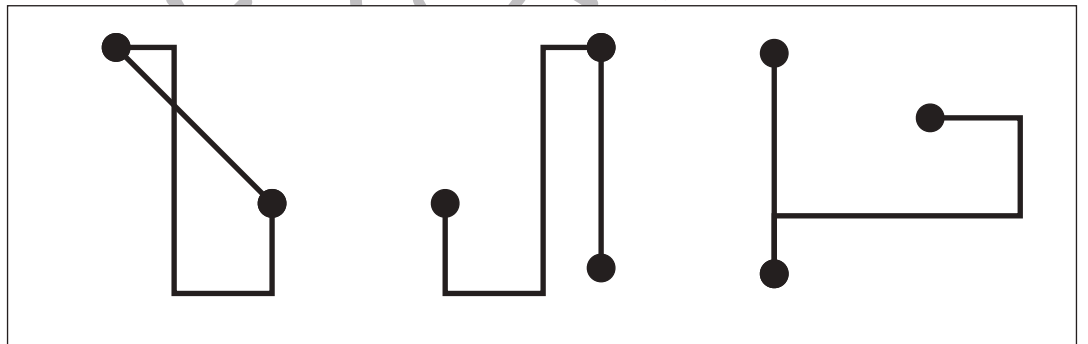
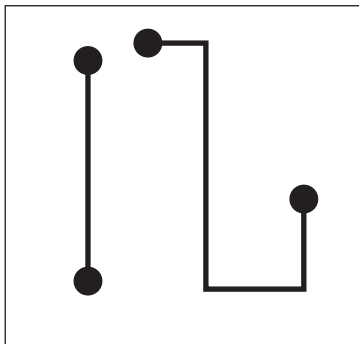
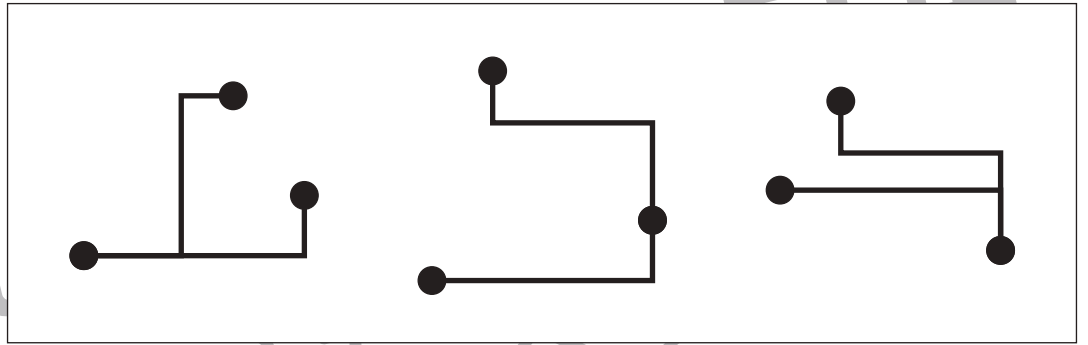
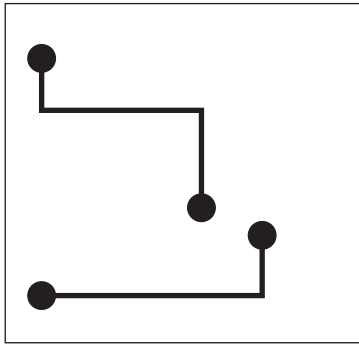


おうちで、やろう。

Study at home. 小学校受験の家庭学習教材

図形：重ね 44

左の四角の中の2つの線の黒い点を重ねたものが右の四角の中にあります。点と点を重ねるときは回してもよいですが、裏返してはいけません。この約束のとき、できないものを右の3つの中から1つ見つけて×をつけます。



※1. このプリントは、しながわ・目黒こどもスクールのウェブサイトでダウンロードができます。無断複写・引用はご遠慮ください。
※2. このプリントを活用したオンライン授業のスケジュールは、しながわ・目黒こどもスクールのウェブサイトでご確認ください。

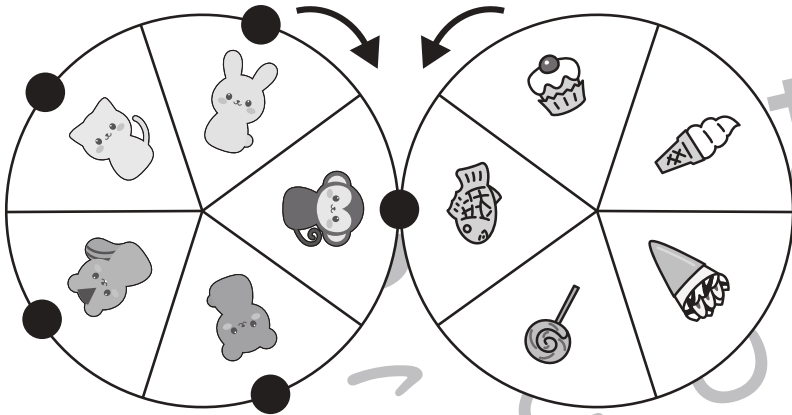


おうちで、やろう。

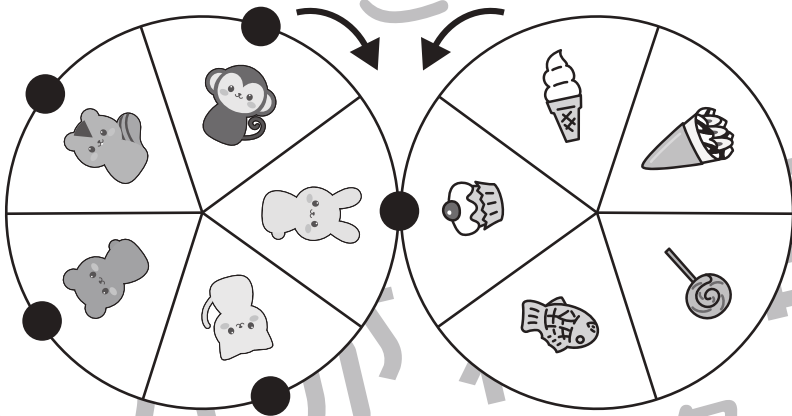
Study at home. 小学校受験の家庭学習教材

推理：ルーレット3


2つのルーレットが矢印の方向へ回ります。左の動物のルーレットの●が右の食べ物のルーレットとくっついていきます。右の四角の太い枠の動物は今の場所にくっつけている食べ物が描いてあります。このとき、それぞれのルーレットが回って残りの動物の●とくっつく食べ物を考えて右の四角に○をつけます。



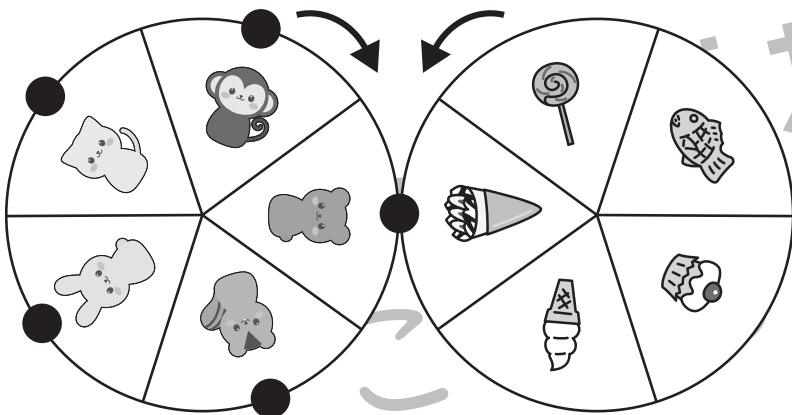
●	魚				
●	魚	アイス	ケーキ	ソフトクリーム	キャンディー
●	魚	アイス	ケーキ	ソフトクリーム	キャンディー
●	魚	アイス	ケーキ	ソフトクリーム	キャンディー
●	魚	アイス	ケーキ	ソフトクリーム	キャンディー



●	ケーキ				
●	魚	アイス	ケーキ	ソフトクリーム	キャンディー
●	魚	アイス	ケーキ	ソフトクリーム	キャンディー
●	魚	アイス	ケーキ	ソフトクリーム	キャンディー
●	魚	アイス	ケーキ	ソフトクリーム	キャンディー



●	キャンディー				
●	魚	アイス	ケーキ	ソフトクリーム	キャンディー
●	魚	アイス	ケーキ	ソフトクリーム	キャンディー
●	魚	アイス	ケーキ	ソフトクリーム	キャンディー
●	魚	アイス	ケーキ	ソフトクリーム	キャンディー



●	アイス				
●	魚	アイス	ケーキ	ソフトクリーム	キャンディー
●	魚	アイス	ケーキ	ソフトクリーム	キャンディー
●	魚	アイス	ケーキ	ソフトクリーム	キャンディー
●	魚	アイス	ケーキ	ソフトクリーム	キャンディー

※1. このプリントは、しながわ・目黒こどもスクールのウェブサイトでダウンロードができます。無断複写・引用はご遠慮ください。

※2. このプリントを活用したオンライン授業のスケジュールは、しながわ・目黒こどもスクールのウェブサイトでご確認ください。




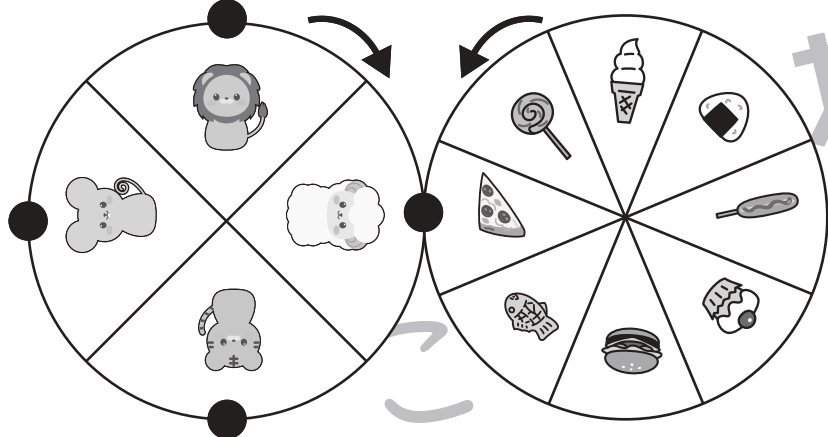

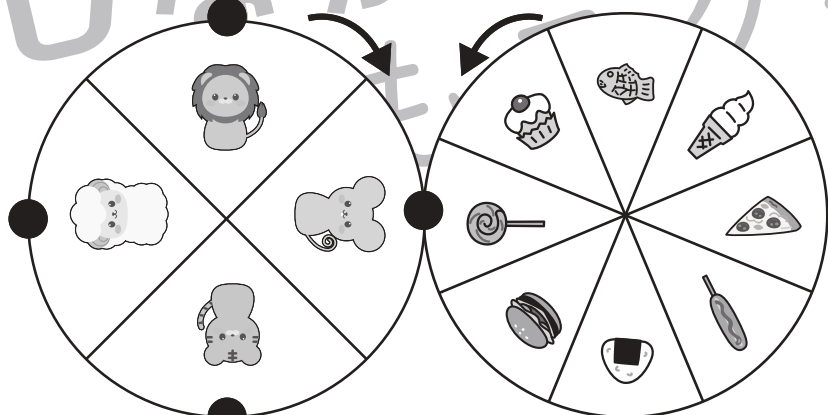

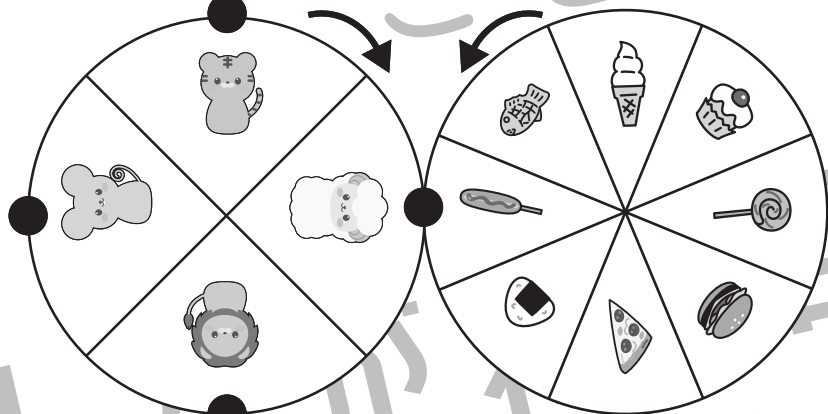

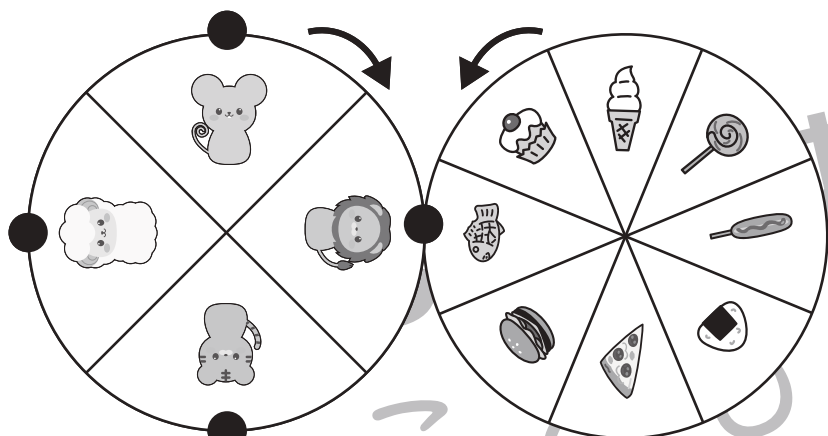


おうちで、やろう。

Study at home. 小学校受験の家庭学習教材

推理：ルーレット4

2つのルーレットが矢印の方向へ回ります。左の動物のルーレットの●が右の食べ物のルーレットとくっついていきます。それぞれのルーレットが回ったとき、右の四角の中の動物の●とくっつく食べ物を考えてそれぞれの記号をつけます。



※1. このプリントは、しながわ・目黒こどもスクールのウェブサイトからダウンロードできます。無断複写・引用はご遠慮ください。

※2. このプリントを活用したオンライン授業のスケジュールは、しながわ・目黒こどもスクールのウェブサイトでご確認ください。





おうちで、やろう。

Study at home. 小学校受験の家庭学習教材

推理：系列完成 20

上の太い四角がお手本です。黒い矢印からお手本の形を左から順番に繰り返して進みます。進む道は縦と横には進めますが、斜めには進めません。この約束で進むと、どの動物の場所に着きますか。その動物に○をつけます。

	○ □ △									
△	△	○	□	△	○	□	○	○	△	
○	△	○	○	△	△	△	□	○	△	
△	○	□	△	□	○	○	□	△	○	
○	↑	□	□	○	□	△	○	△	□	

	○ △ ● □									
○	△	●	□	●	△	○	□	●	○	
□	●	△	○	○	△	△	□	△	□	
○	●	○	●	●	△	●	□	○	●	
○	○	△	△	△	□	△	△	○	○	
○	●	□	□	●	□	○	●	□	△	
●	□	△	△	●	○	↑	○	□	△	

※1. このプリントは、しながわ・目黒こどもスクールのウェブサイトでダウンロードができます。無断複写・引用はご遠慮ください。
※2. このプリントを活用したオンライン授業のスケジュールは、しながわ・目黒こどもスクールのウェブサイトでご確認ください。



おうちで、やろう。

Study at home. 小学校受験の家庭学習教材

推理：系列完成 21

上の太い四角がお手本です。黒い矢印からお手本の形を左から順番に繰り返して進みます。進む道は縦と横には進めますが、斜めには進めません。この約束で進むと、どの動物の場所に着きますか。その動物に○をつけます。

目黒

	○ ▼ □ ●									
	□	●	▼	○	○	○	●	▼	○	←
	○	●	▼	□	▼	○	●	▼	▼	○
	○	□	▼	●	●	□	□	○	□	□
	●	□	▼	○	□	□	▼	○	●	□

しながわ 目黒

	○ ▲ ◀ ●									
→	○	▲	●	▲	◀	●	◀	◀	▲	◀
	○	▲	○	▲	●	▲	▲	○	○	●
	○	●	◀	◀	●	○	◀	●	○	▲
	●	◀	●	▲	◀	◀	▲	▲	▲	○
	◀	○	○	▲	◀	●	○	○	◀	▲
	●	▲	◀	●	○	●	○	●	●	○

こども

※1. このプリントは、しながわ・目黒こどもスクールのウェブサイトでダウンロードができます。無断複写・引用はご遠慮ください。
※2. このプリントを活用したオンライン授業のスケジュールは、しながわ・目黒こどもスクールのウェブサイトでご確認ください。



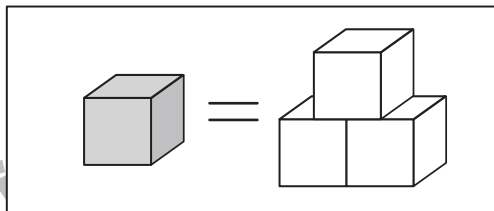
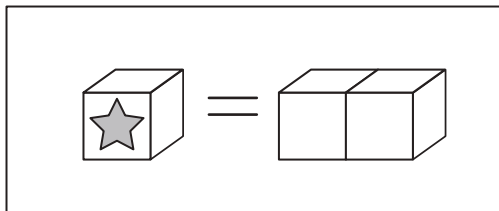


おうちで、やろう。

Study at home. 小学校受験の家庭学習教材

数量：置き換え 16

上の太い四角が約束です。星のマークがある積み木や灰色の積み木は右の数に置き換えることができます。このとき、左の四角の中の積み木と同じ数の積み木でできている形を右の四角の中から見つけて○をつけます。



※1. このプリントは、しながわ・目黒こどもスクールのウェブサイトでダウンロードができます。無断複写・引用はご遠慮ください。

※2. このプリントを活用したオンライン授業のスケジュールは、しながわ・目黒こどもスクールのウェブサイトでご確認ください。

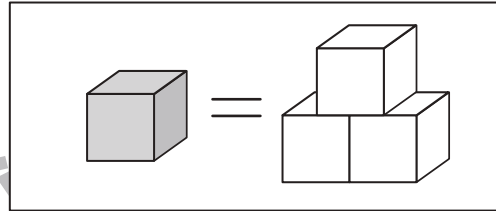
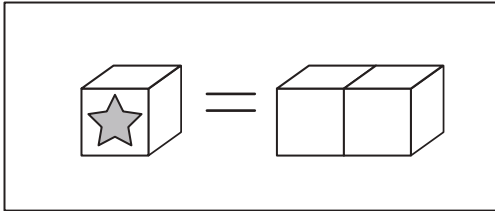


おうちで、やろう。

Study at home. 小学校受験の家庭学習教材

数量：置き換え 17

上の太い四角が約束です。星のマークがある積み木や灰色の積み木は右の数に置き換えることができます。このとき、左の四角の中の積み木と同じ数の積み木でできている形を右の四角の中から見つけて○をつけます。また、隠れて見えない積み木はすべて白い積み木です。



※1. このプリントは、しながわ・目黒こどもスクールのウェブサイトでダウンロードができます。無断複写・引用はご遠慮ください。
※2. このプリントを活用したオンライン授業のスケジュールは、しながわ・目黒こどもスクールのウェブサイトでご確認ください。












おうちで、やろう。

Study at home. 小学校受験の家庭学習教材

処理能力：置き換え 4

上の太い四角の中の絵がお手本です。上の絵の時に下の四角にそれぞれの記号をかきます。問題は一番上の段の左からはじめて、右端まで見ます。1段目ができたら2段目の左から右。次に3段目の左から右と順番に記号をかきます。この問題はできるだけ早く印をつけます。それぞれ1分以内を目指し取り組みましょう。



※1. このプリントは、しながわ・目黒こどもスクールのウェブサイトでダウンロードができます。無断複写・引用はご遠慮ください。
 ※2. このプリントを活用したオンライン授業のスケジュールは、しながわ・目黒こどもスクールのウェブサイトでご確認ください。

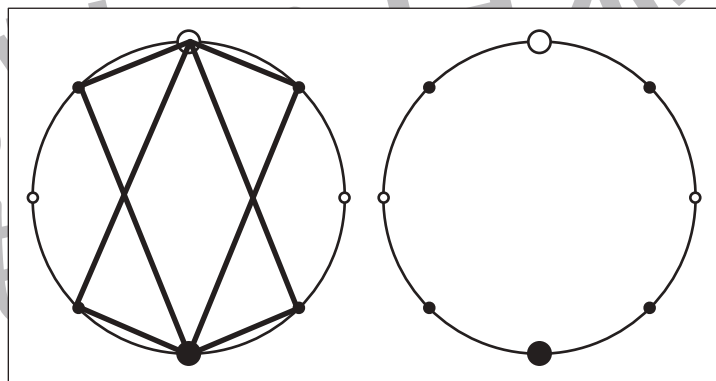
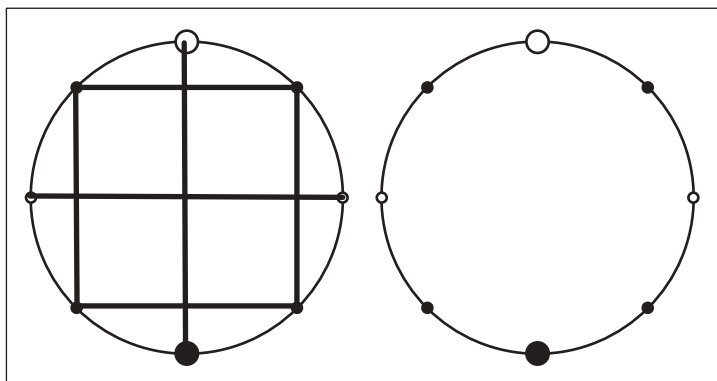
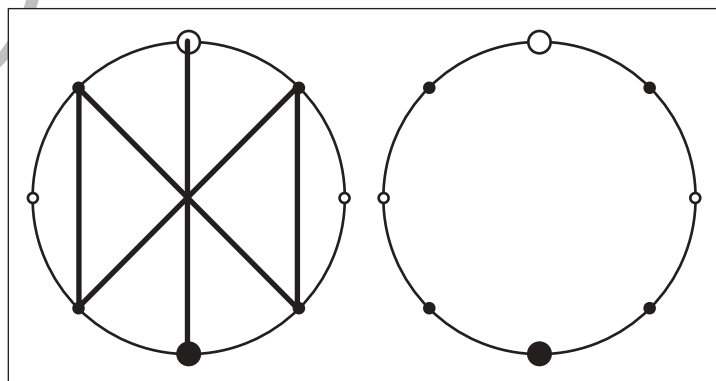
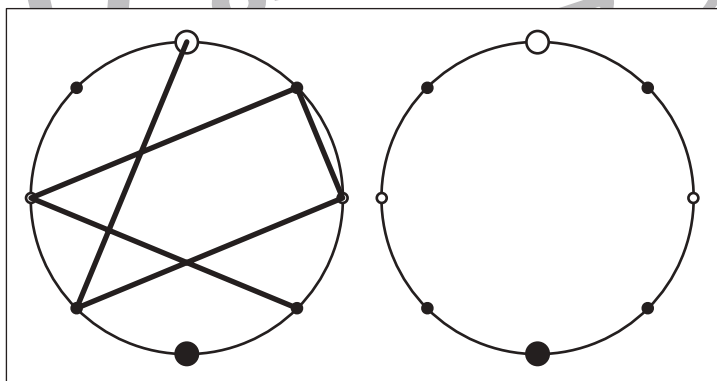
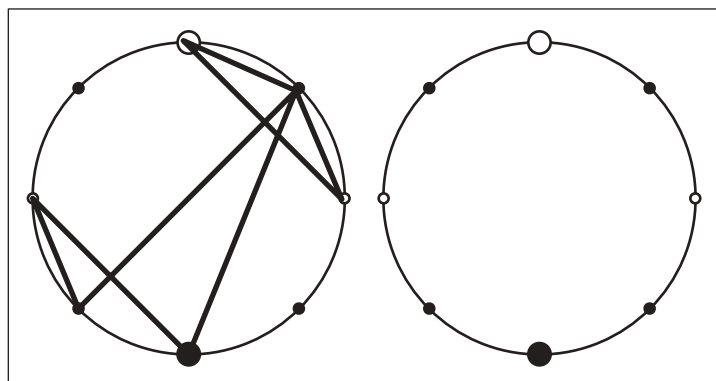
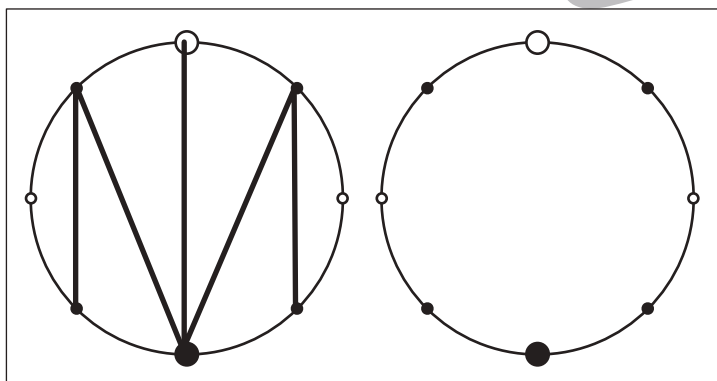
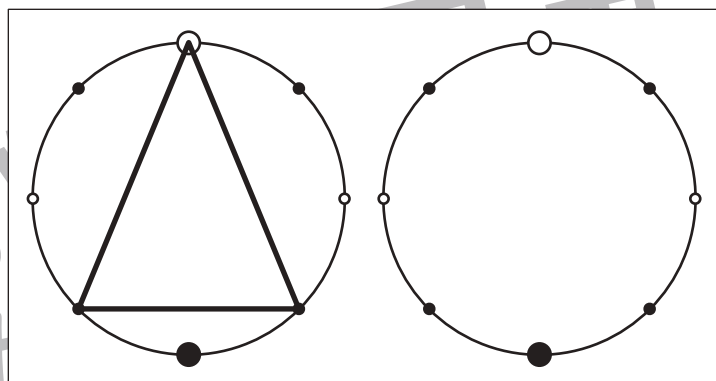
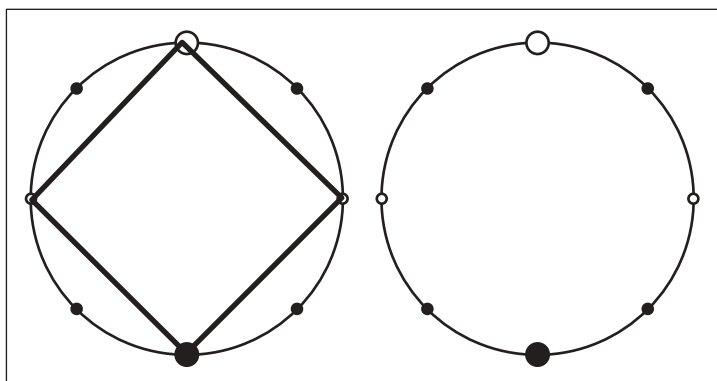


おうちで、やろう。

Study at home. 小学校受験の家庭学習教材

図形：点図形 65

左のお手本を見て、右にそっくり描き写しましょう。※このプリントに解答はありません。



※1. このプリントは、しながわ・目黒こどもスクールのウェブサイトからダウンロードできます。無断複写・引用はご遠慮ください。
※2. このプリントを活用したオンライン授業のスケジュールは、しながわ・目黒こどもスクールのウェブサイトでご確認ください。