

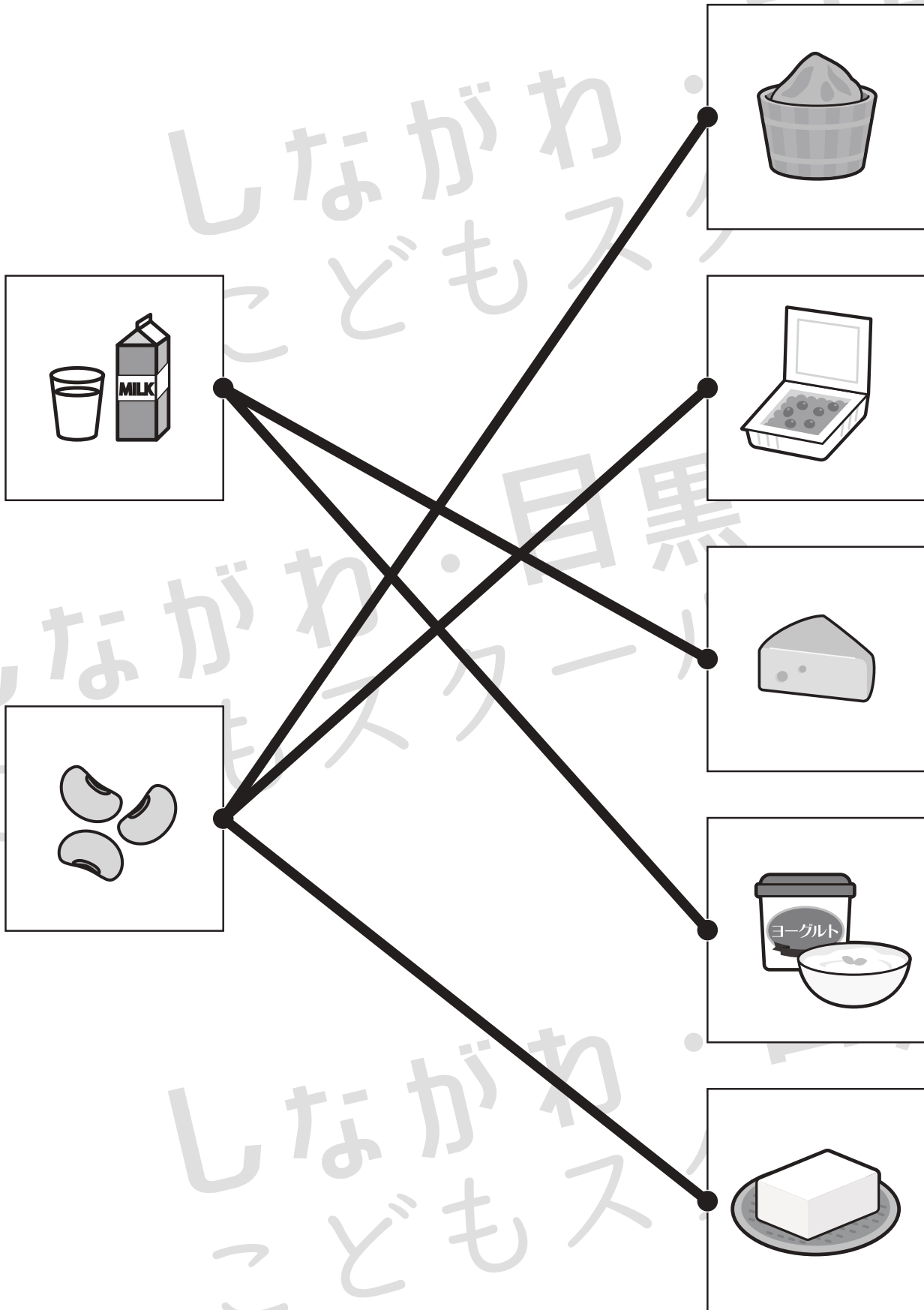


おうちで、やろう。

Study at home. 小学校受験の家庭学習教材

常識：生活 6

左の大豆と牛乳からできるものを右の中から選んで点と点を線で結びます。



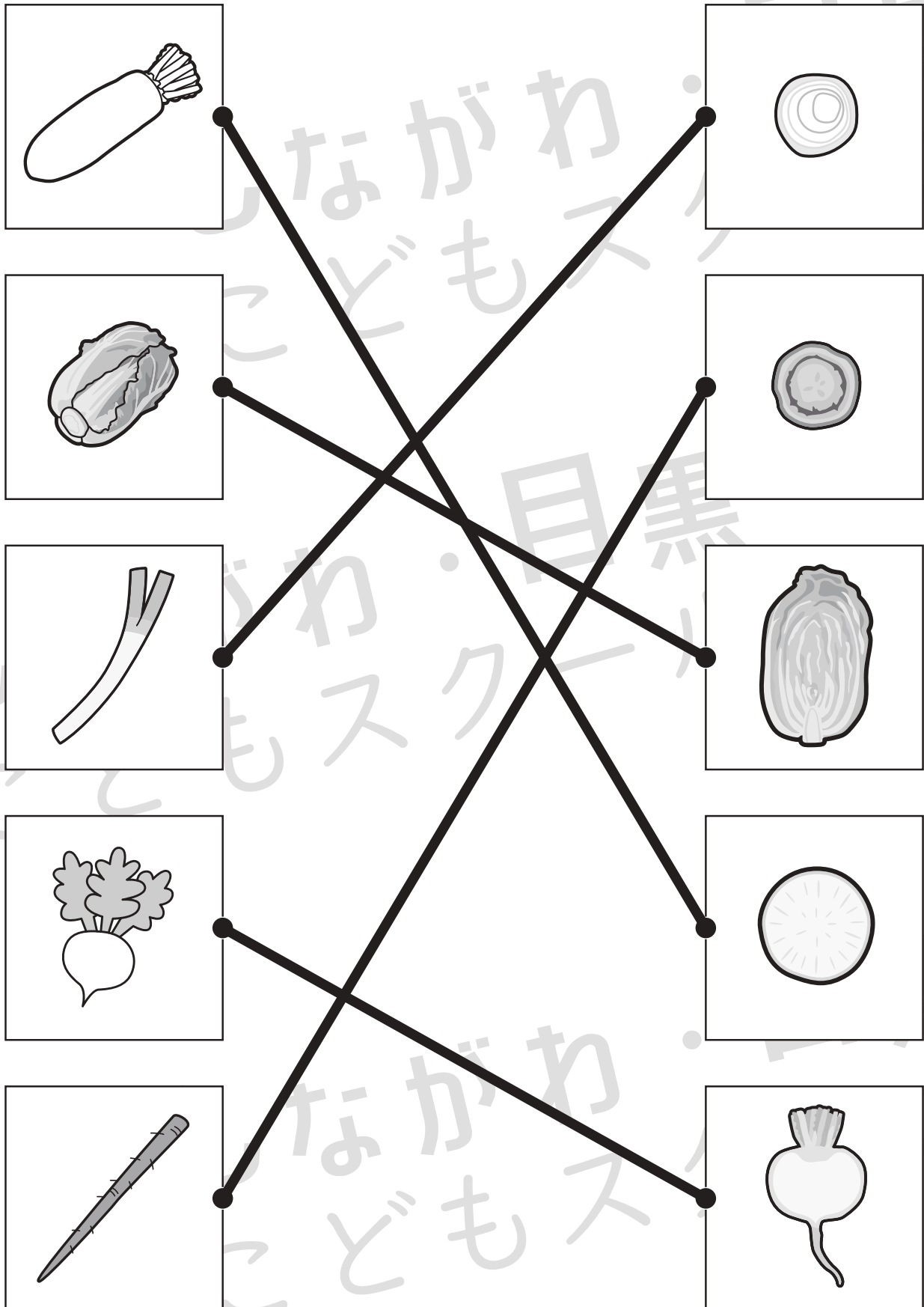
※1. このプリントは、しながわ・目黒こどもスクールのウェブサイトでダウンロードができます。無断複写・引用はご遠慮ください。

※2. このプリントを活用したオンライン授業のスケジュールは、しながわ・目黒こどもスクールのウェブサイトでご確認ください。





左は野菜、右は野菜を半分に切ったときの絵のです。同じもの同士の点と点を線で結びます。



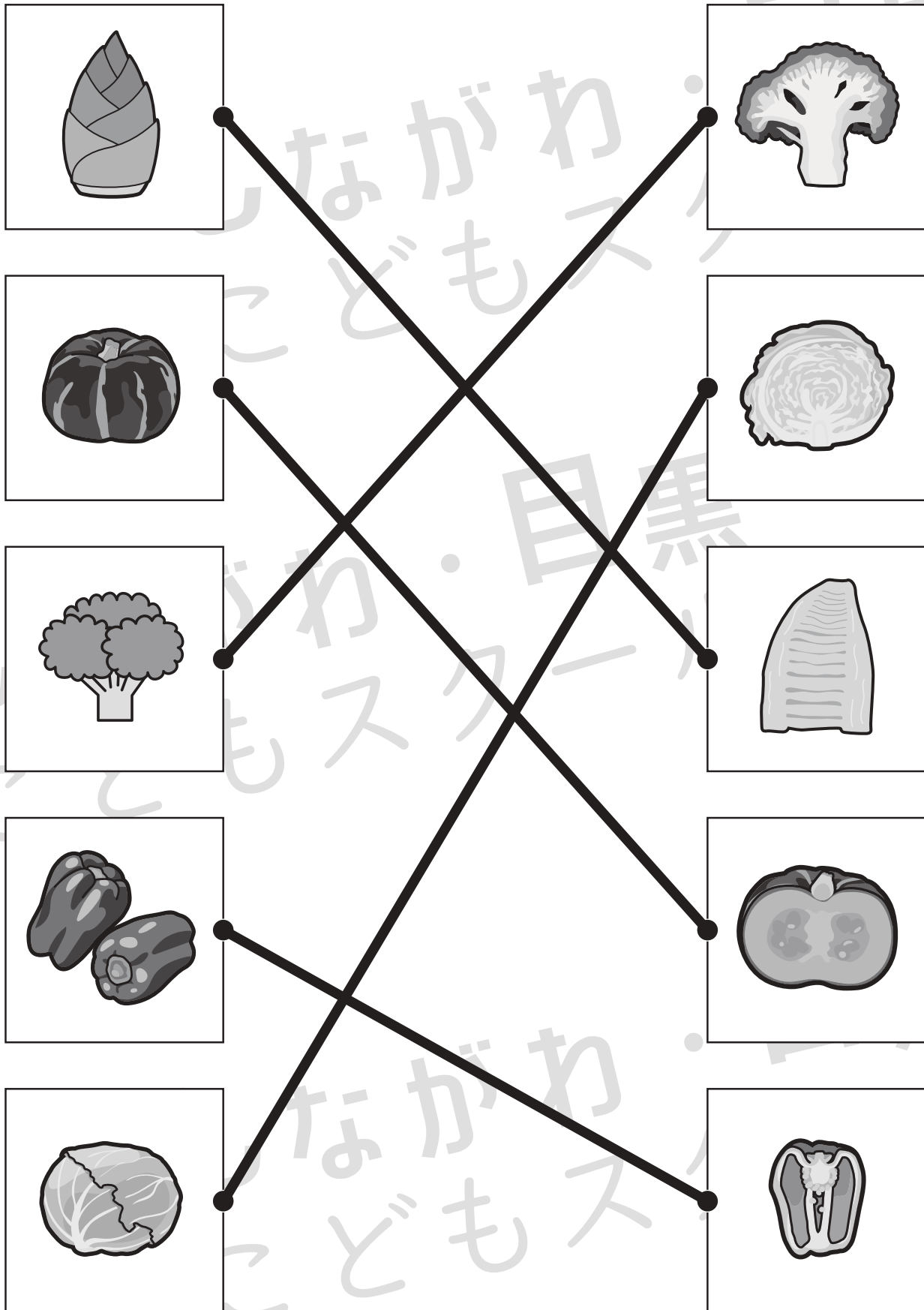
※1. このプリントは、しながわ・目黒こどもスクールのウェブサイトでダウンロードができます。無断複写・引用はご遠慮ください。

※2. このプリントを活用したオンライン授業のスケジュールは、しながわ・目黒こどもスクールのウェブサイトでご確認ください。





左は野菜、右は野菜を半分に切ったときの絵のです。同じもの同士の点と点を線で結びます。



※1. このプリントは、しながわ・目黒こどもスクールのウェブサイトでダウンロードができます。無断複写・引用はご遠慮ください。

※2. このプリントを活用したオンライン授業のスケジュールは、しながわ・目黒こどもスクールのウェブサイトでご確認ください。

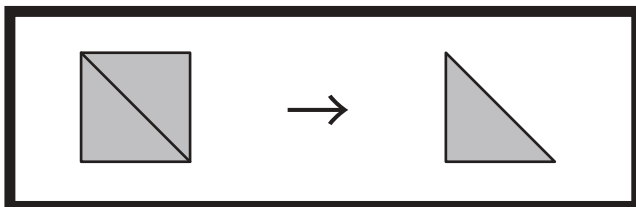


おうちで、やろう。

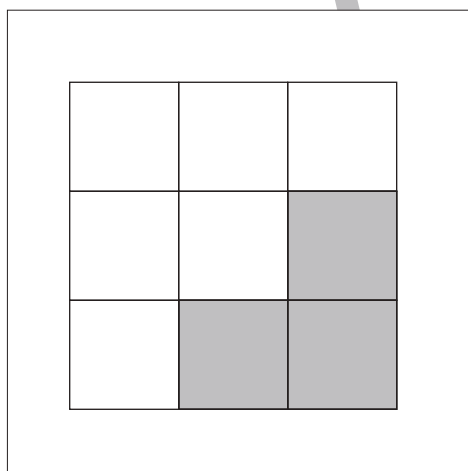
Study at home. 小学校受験の家庭学習教材

図形：三角パズル8


上の太い四角の中の四角を半分にして三角パズルを作りました。この三角パズルを使ってそれぞれの形を作ります。それぞれ形は三角パズルを何枚使えばできるのかを考えて、下の四角の中にその数だけ〇をかきます。



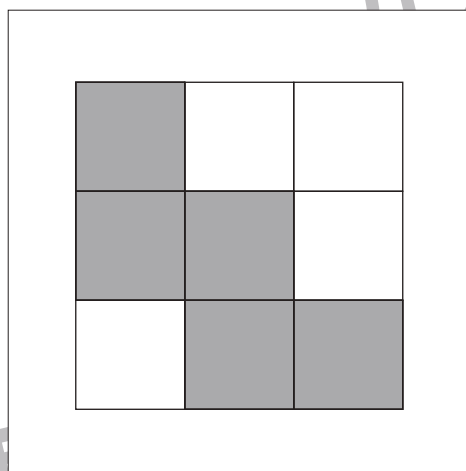
目黒



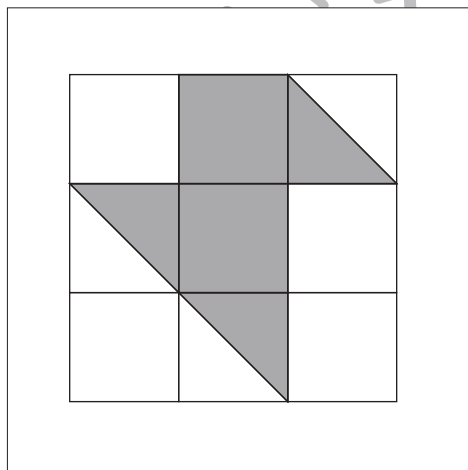
〇 × 6



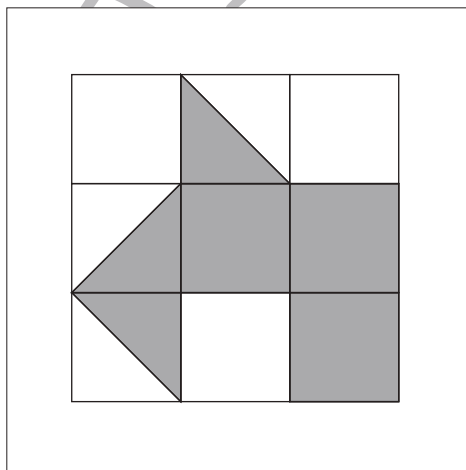
〇 × 10



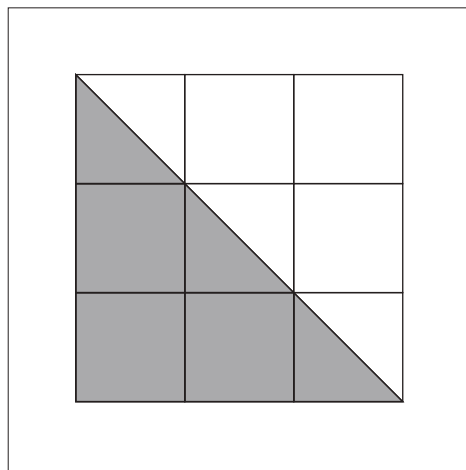
〇 × 10



〇 × 7



〇 × 9



〇 × 9

※1. このプリントは、しながわ・目黒こどもスクールのウェブサイトでダウンロードができます。無断複写・引用はご遠慮ください。
※2. このプリントを活用したオンライン授業のスケジュールは、しながわ・目黒こどもスクールのウェブサイトでご確認ください。

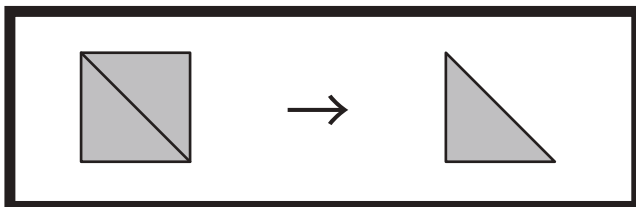


おうちで、やろう。

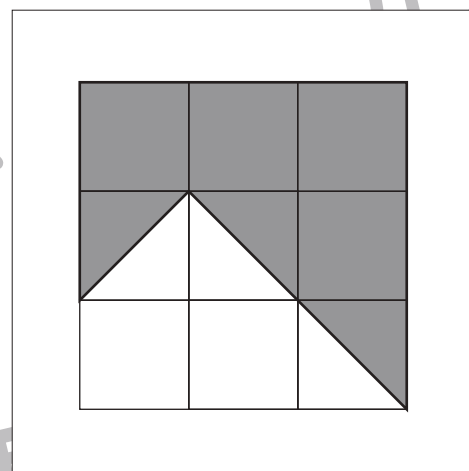
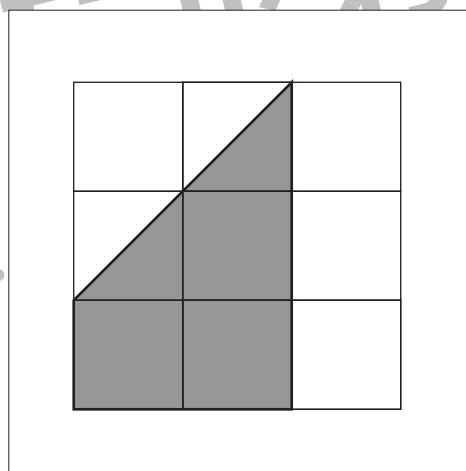
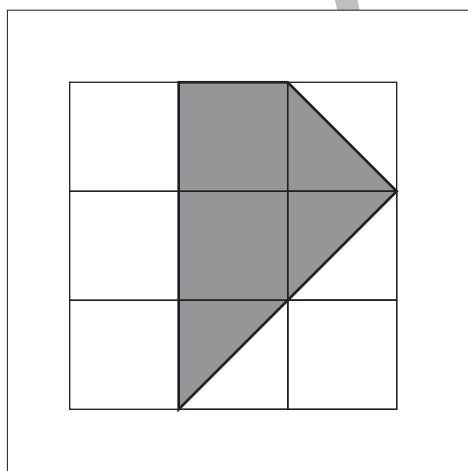
Study at home. 小学校受験の家庭学習教材

図形：三角パズル9

上の太い四角の中の四角を半分にして三角パズルを作りました。この三角パズルを使ってそれぞれの形を作ります。それぞれ形は三角パズルを何枚使えばできるのかを考えて、下の四角の中にその数だけ〇をかきます。



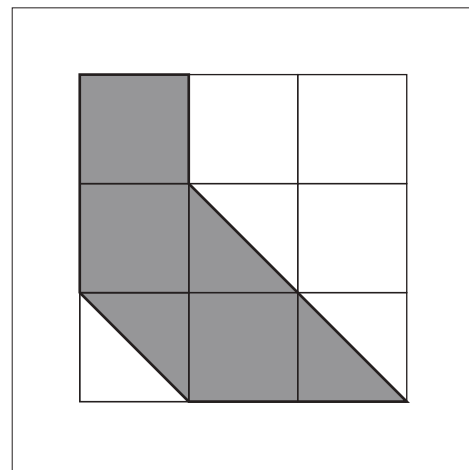
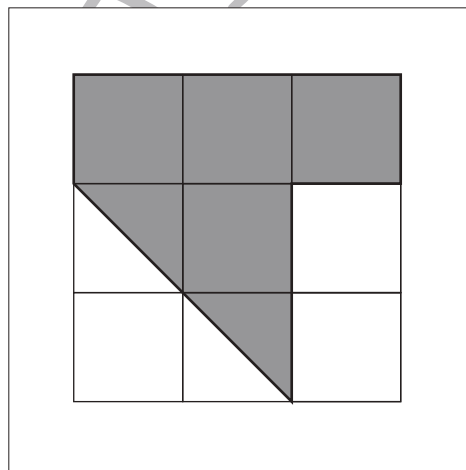
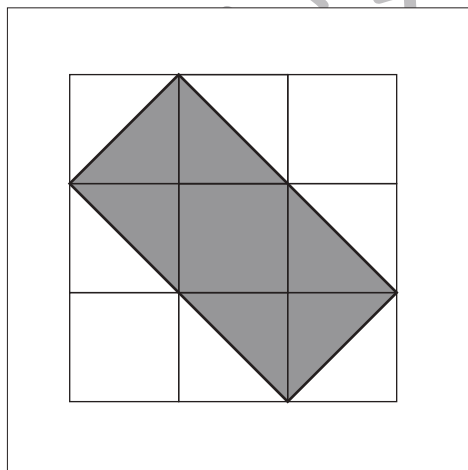
目黒



〇 × 7

〇 × 8

〇 × 11



〇 × 8

〇 × 10

〇 × 9

※1. このプリントは、しながわ・目黒こどもスクールのウェブサイトでダウンロードができます。無断複写・引用はご遠慮ください。
※2. このプリントを活用したオンライン授業のスケジュールは、しながわ・目黒こどもスクールのウェブサイトでご確認ください。



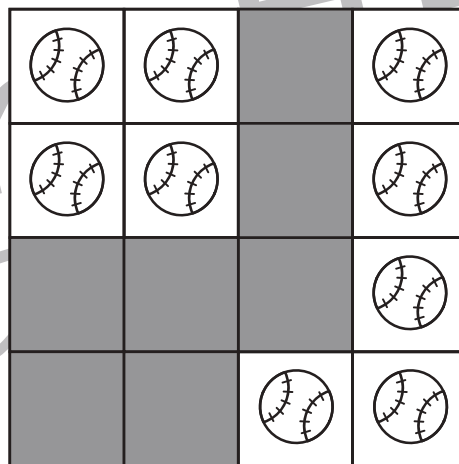
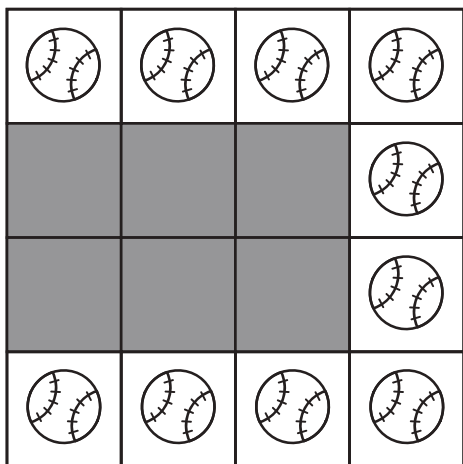
おうちで、やろう。

Study at home. 小学校受験の家庭学習教材

数量：隠れた数6



それぞれの形の中にはある決まりで絵がいくつか並んでいます。

このとき、黒い場所に隠れている絵と見えている絵の数の違いはいくつですか。その数だけ、下のマスに○をかきます。



○	○	○	○	

○	○			



○	○	○	○	

○	○			

※1. このプリントは、しながわ・目黒こどもスクールのウェブサイトでダウンロードができます。無断複写・引用はご遠慮ください。

※2. このプリントを活用したオンライン授業のスケジュールは、しながわ・目黒こどもスクールのウェブサイトでご確認ください。



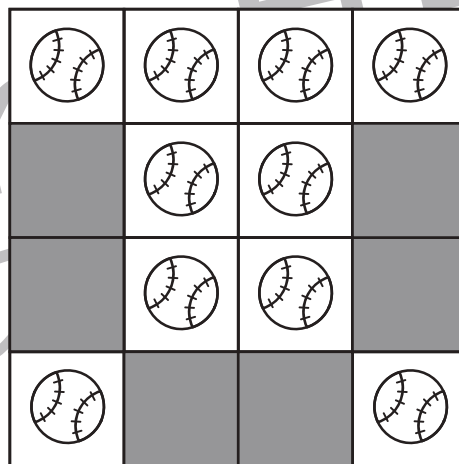
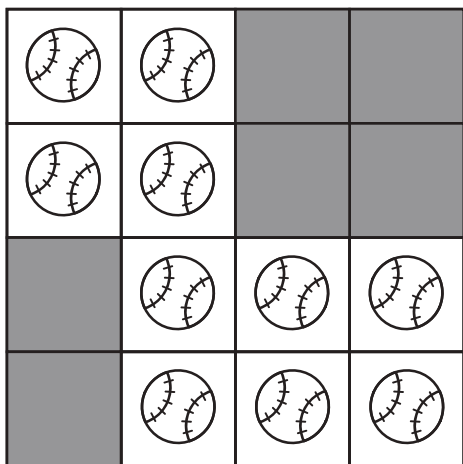
おうちで、やろう。

Study at home. 小学校受験の家庭学習教材

数量：隠れた数7



それぞれの形の中にはある決まりで絵がいくつか並んでいます。

このとき、黒い場所に隠れている絵と見えている絵の数の違いはいくつですか。その数だけ、下のマスに○をかきます。



○	○	○	○	

○	○	○	○	



○	○	○	○	○
○	○	○		

○	○	○	○	

※1. このプリントは、しながわ・目黒こどもスクールのウェブサイトでダウンロードができます。無断複写・引用はご遠慮ください。

※2. このプリントを活用したオンライン授業のスケジュールは、しながわ・目黒こどもスクールのウェブサイトでご確認ください。



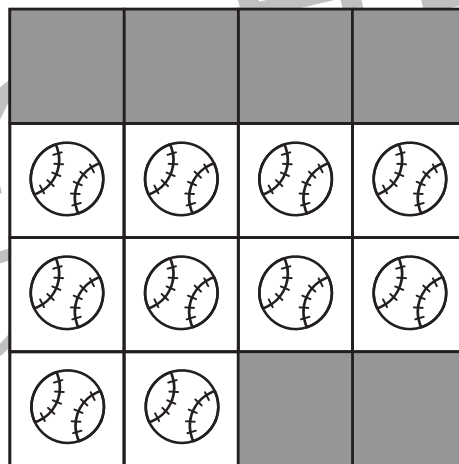
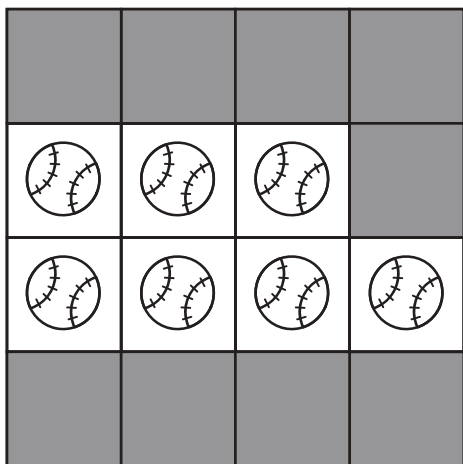
おうちで、やろう。

Study at home. 小学校受験の家庭学習教材

数量：隠れた数8


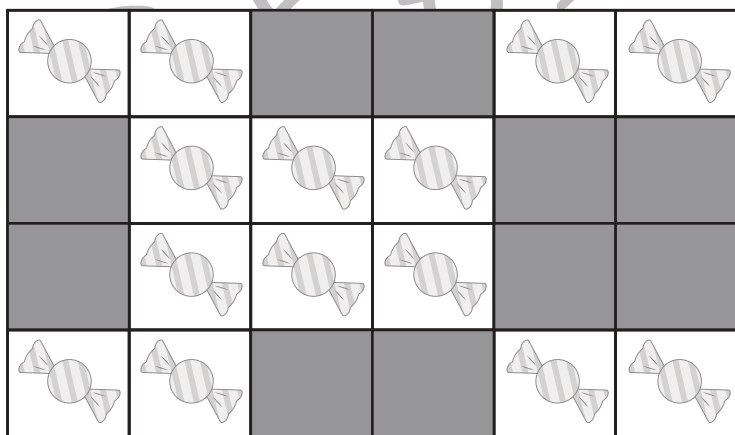
それぞれの形の中にはある決まりで絵がいくつか並んでいます。

このとき、黒い場所に隠れている絵と見えている絵の数の違いはいくつですか。その数だけ、下のマスに○をかきます。



○	○			

○	○	○	○	



○	○	○	○	

○	○			

※1. このプリントは、しながわ・目黒こどもスクールのウェブサイトでダウンロードができます。無断複写・引用はご遠慮ください。

※2. このプリントを活用したオンライン授業のスケジュールは、しながわ・目黒こどもスクールのウェブサイトでご確認ください。



おうちで、やろう。

Study at home. 小学校受験の家庭学習教材

処理：置き換え5

上の太い四角の中が約束です。この約束通りに下のマスに記号をかきます。
この問題はスピードを意識して取り組む練習をしてみましょう。(それぞれ1分30秒～2分)

→ 1	→ 2	→ 3	→ 4	→ 5
-----	-----	-----	-----	-----



1					3		5		3		4			4
		4	5		1	4		2		5				
1		1		2		3		1			4	3		2

→	→	→	→	→
---	---	---	---	---



※1. このプリントは、しながわ・目黒こどもスクールのウェブサイトでダウンロードができます。無断複写・引用はご遠慮ください。
※2. このプリントを活用したオンライン授業のスケジュールは、しながわ・目黒こどもスクールのウェブサイトでご確認ください。