



おうちで、やろう。

Study at home. 小学校受験の家庭学習教材

指示の聞き取り 24

それぞれの設問に答えましょう。指示は1度ですべて読み上げます。しっかり聞いて取り組みましょう。

①1番目に大きい○を緑で、1番に小さい○を黄色で塗ります。その他の○の中には黒で×をかきます。

②角の数が同じ形を青で塗り、角の数が一番少ない形は赤で塗ります。

③左から2番目、4番目、6番目の四角を黄色で、右から3番目を茶色で塗ります。

①

②

③

※1. このプリントは、しながわ・目黒こどもスクールのウェブサイトでダウンロードができます。無断複写・引用はご遠慮ください。

※2. このプリントを活用したオンライン授業のスケジュールは、しながわ・目黒こどもスクールのウェブサイトでご確認ください。




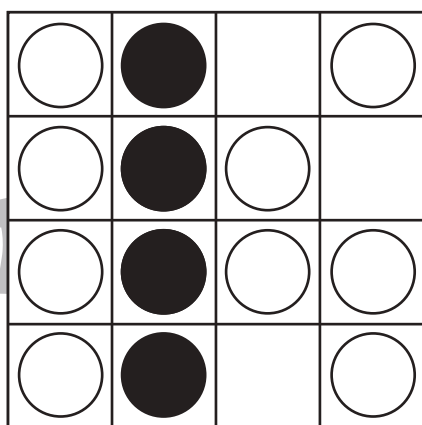







おうちで、やろう。

Study at home. 小学校受験の家庭学習教材

図形：オセロ1

オセロゲームです。○を出来るだけ多く●にかえるには、空いているマスのどこに●をかけばよいですか。空いているマスに●を1つだけかき、●にかわる○を黒く塗りましょう。

※オセロゲームのルール：縦・横・斜めで●と●に挟まれた○は●にかわります。



※1. このプリントは、しながわ・目黒こどもスクールのウェブサイトでダウンロードができます。無断複写・引用はご遠慮ください。
※2. このプリントを活用したオンライン授業のスケジュールは、しながわ・目黒こどもスクールのウェブサイトでご確認ください。



おうちで、やろう。





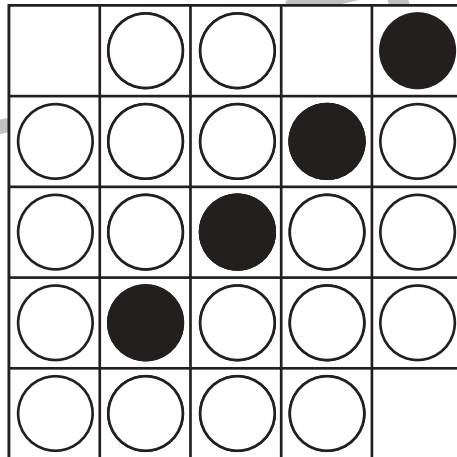


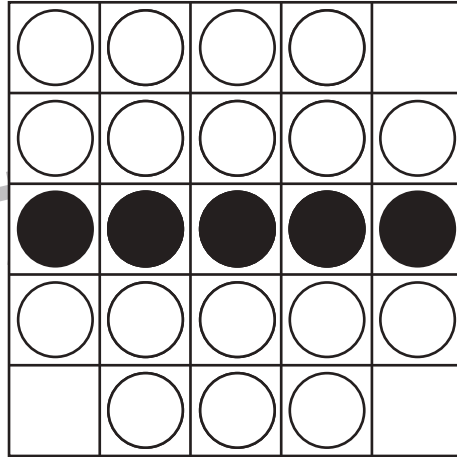

Study at home. 小学校受験の家庭学習教材

図形：オセロ 2

オセロゲームです。○をできるだけたくさん●にかえるには、空いているマスのどこに●をかけばよいですか。

空いているマスに●を1つだけかき、●にかわる○を黒く塗りましょう。

※オセロゲームのルール：縦・横・斜めで●と●に挟まれた○は●にかわります。



※1. このプリントは、しながわ・目黒こどもスクールのウェブサイトでダウンロードができます。無断複写・引用はご遠慮ください。

※2. このプリントを活用したオンライン授業のスケジュールは、しながわ・目黒こどもスクールのウェブサイトでご確認ください。



おうちで、やろう。

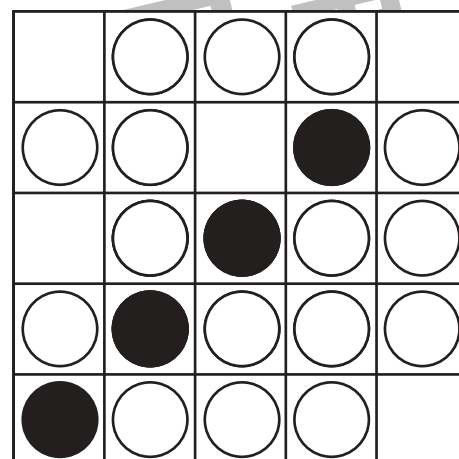



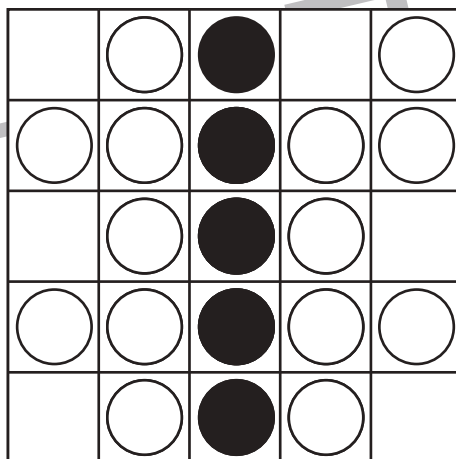

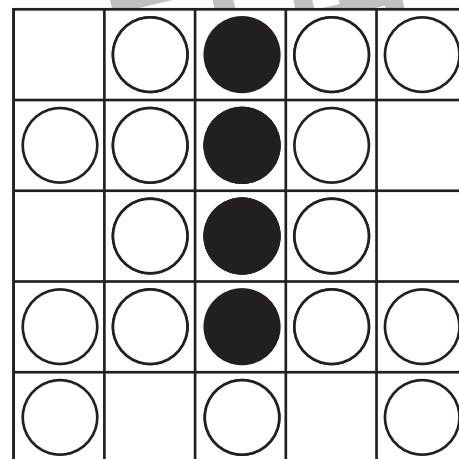
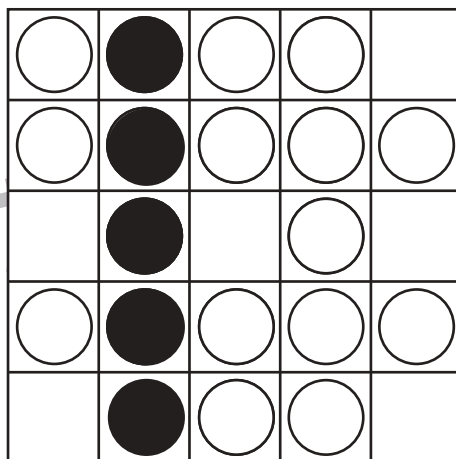

Study at home. 小学校受験の家庭学習教材

図形：オセロ3

オセロゲームです。○をできるだけたくさん●にかえるには、空いているマスのどこに●をかけばよいですか。

空いているマスに●を1つだけかき、●にかわる○を黒く塗りましょう。

※オセロゲームのルール：縦・横・斜めで●と●に挟まれた○は●にかわります。



※1. このプリントは、しながわ・目黒こどもスクールのウェブサイトでダウンロードができます。無断複写・引用はご遠慮ください。

※2. このプリントを活用したオンライン授業のスケジュールは、しながわ・目黒こどもスクールのウェブサイトでご確認ください。
























おうちで、やろう。

Study at home. 小学校受験の家庭学習教材

図形：構成 17

上の四角はお手本です。左側にある3種類のカードをいくつか使って模様をつくります。その右側は3種類のカードをどのように並べたか、並べた順にその下にマークが書いてあります。下の四角の中の形はどのカードを並べてできているのかを考え、その場所にお手本と同じマークをかきましょう。

※1. このプリントは、しながわ・目黒こどもスクールのウェブサイトでダウンロードができます。無断複写・引用はご遠慮ください。

※2. このプリントを活用したオンライン授業のスケジュールは、しながわ・目黒こどもスクールのウェブサイトでご確認ください。



おうちで、やろう。

Study at home. 小学校受験の家庭学習教材

図形：構成 18

上の四角はお手本です。左側にある3種類のカードをいくつか使って模様をつくります。その右側は3種類のカードをどのように並べたか、並べた順にその下にマークが書いてあります。下の四角の中の形はどのカードを並べてできているのかを考え、その場所にお手本と同じマークをかきましょう。

※1. このプリントは、しながわ・目黒こどもスクールのウェブサイトでダウンロードができます。無断複写・引用はご遠慮ください。
※2. このプリントを活用したオンライン授業のスケジュールは、しながわ・目黒こどもスクールのウェブサイトでご確認ください。



















おうちで、やろう。

Study at home. 小学校受験の家庭学習教材

図形：構成 19

上の四角はお手本です。左側にある3種類のカードをいくつか使って模様をつくります。その右側は3種類のカードをどのように並べたか、並べた順にその下にマークが書いてあります。下の四角の中の形はどのカードを並べてできているのかを考え、その場所にお手本と同じマークをかきましょう。

				
			➔	

※1. このプリントは、しながわ・目黒こどもスクールのウェブサイトでダウンロードができます。無断複写・引用はご遠慮ください。

※2. このプリントを活用したオンライン授業のスケジュールは、しながわ・目黒こどもスクールのウェブサイトでご確認ください。



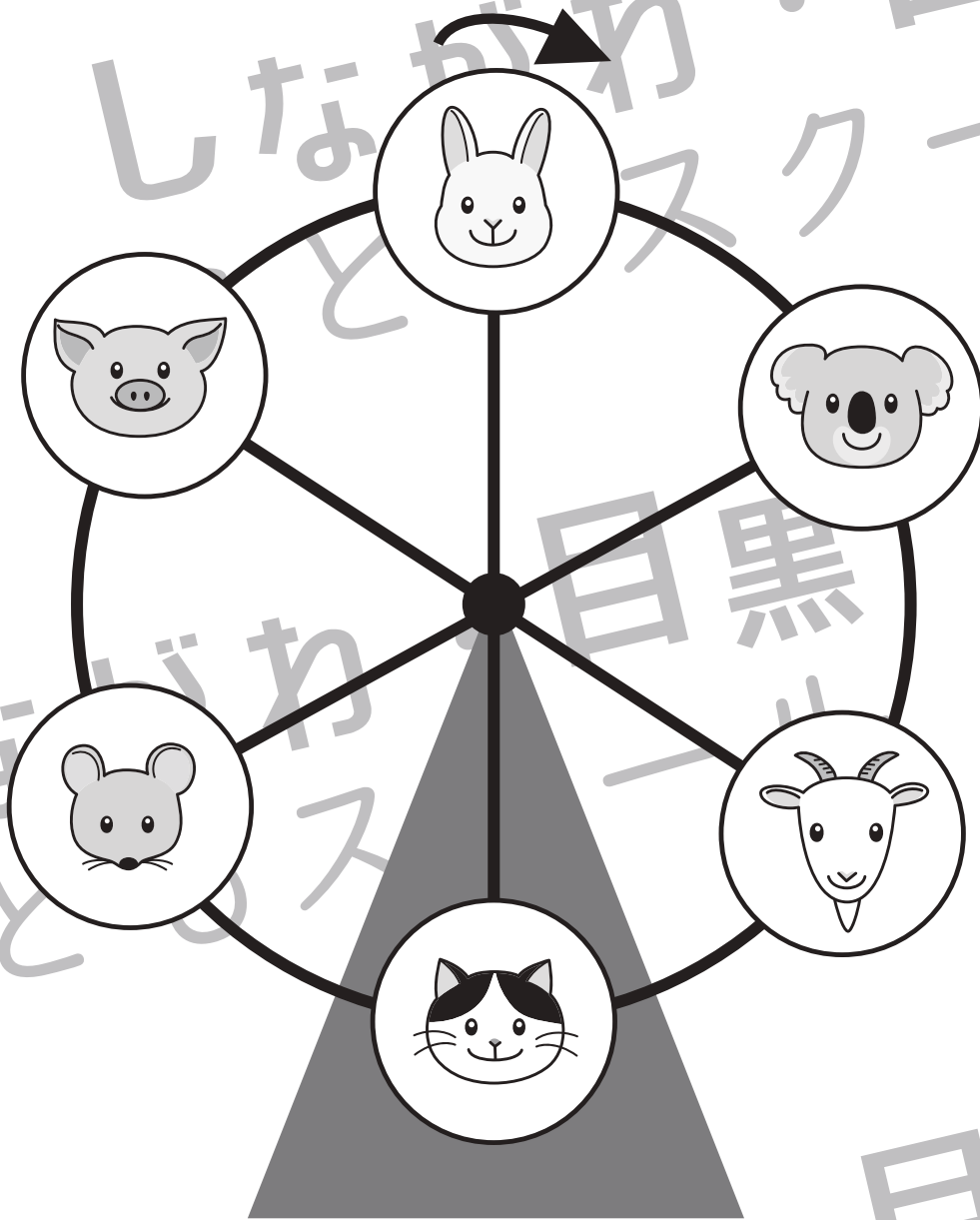
おうちで、やろう。

Study at home. 小学校受験の家庭学習教材

推理：観覧車 13

動物たちが観覧車に乗って、観覧車は矢印の方向へ回ります。

- ①ネコのごンドラが一番上に来た時、一番下になるごンドラに乗っている動物は誰ですか。下の四角に○をかきます。
- ②ネズミのごンドラが一番下に来た時、一番上になるごンドラに乗っている動物は誰ですか。下の四角に△をかきます。
- ③ヤギのごンドラが一番上に来た時、一番下になるごンドラに乗っている動物は誰ですか。下の四角に×をかきます。
- ④ウサギのごンドラが一番下の場所に来た時、一番上になるごンドラに乗っている動物は誰ですか。下の四角に□をかきます。



	×		□	○	△

※1. このプリントは、しながわ・目黒こどもスクールのウェブサイトからダウンロードできます。無断複写・引用はご遠慮ください。
 ※2. このプリントを活用したオンライン授業のスケジュールは、しながわ・目黒こどもスクールのウェブサイトでご確認ください。




おうちで、やろう。

Study at home. 小学校受験の家庭学習教材

推理：観覧車 14

動物たちが観覧車に乗って、観覧車は矢印の方向へ回ります。

- ①ウサギのゴンドラが一番上に来た時、今ブタのゴンドラがある場所にくる動物は誰ですか。下の四角に○をかきます。
- ②ネズミのゴンドラが一番下に来た時、今ネコのゴンドラがある場所にくる動物は誰ですか。下の四角に△をかきます。
- ③コアラのゴンドラが一番上に来た時、今ウサギのゴンドラがある場所にくる動物は誰ですか。下の四角に×をかきます。
- ④ヤギのゴンドラが一番下に来た時、今ネズミのゴンドラがある場所にくる動物は誰ですか。下の四角に□をかきます。



※1. このプリントは、しながわ・目黒こどもスクールのウェブサイトでダウンロードができます。無断複写・引用はご遠慮ください。
 ※2. このプリントを活用したオンライン授業のスケジュールは、しながわ・目黒こどもスクールのウェブサイトでご確認ください。