



おうちで、やろう。

Study at home. 小学校受験の家庭学習教材

言語：音の理解 46

左と右の四角の中の絵で終わりの音が同じもの同士を線で結びます。

The matching exercise consists of two columns of five boxes each. Lines connect boxes with the same ending sound:

- Box 1 (left): Balloon and horn → Box 2 (right): Snail
- Box 2 (left): Umbrella → Box 3 (right): Snowman
- Box 3 (left): Mushrooms → Box 5 (right): Daffodils
- Box 4 (left): Grapes → Box 6 (right): Maple leaf
- Box 5 (left): Child in boat → Box 1 (right): Sushi

※1. このプリントは、しながわ・目黒こどもスクールのウェブサイトでダウンロードができます。無断複写・引用はご遠慮ください。

※2. このプリントを活用したオンライン授業のスケジュールは、しながわ・目黒こどもスクールのウェブサイトでご確認ください。

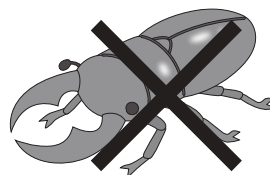






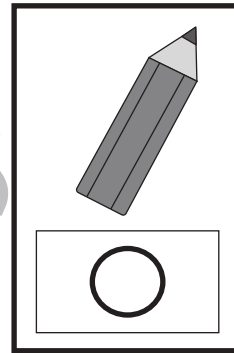

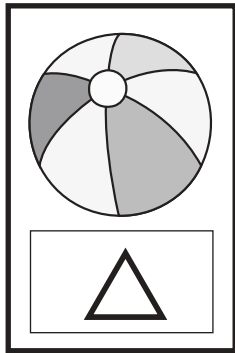


おうちで、やろう。

Study at home. 小学校受験の家庭学習教材

言語：数え方7

上の太い四角の中の絵と同じ数え方をするものを、下の四角の中から見つけて同じ四角の中にあるそれぞれの記号をつけます。



※1. このプリントは、しながわ・目黒こどもスクールのウェブサイトでダウンロードができます。無断複写・引用はご遠慮ください。
※2. このプリントを活用したオンライン授業のスケジュールは、しながわ・目黒こどもスクールのウェブサイトでご確認ください。











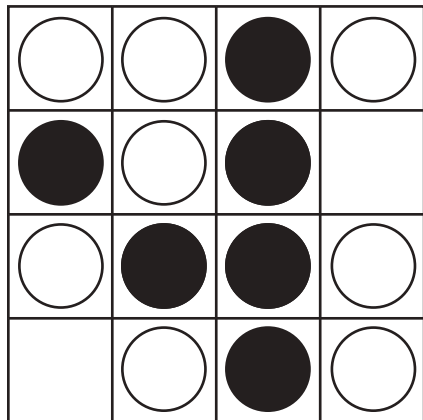
おうちで、やろう。

Study at home. 小学校受験の家庭学習教材

図形：オセロ 4

オセロの問題です。○をできるだけたくさん●にかえるには、空いているマスのどこに●をけばよいですか。空いているマスに●を1つだけかき、●にかわる○を黒く塗りましょう。

※オセロゲームのルール：縦・横・斜めで●と●に挟まれた○は●にかわります。



※1. このプリントは、しながわ・目黒こどもスクールのウェブサイトでダウンロードができます。無断複写・引用はご遠慮ください。

※2. このプリントを活用したオンライン授業のスケジュールは、しながわ・目黒こどもスクールのウェブサイトでご確認ください。



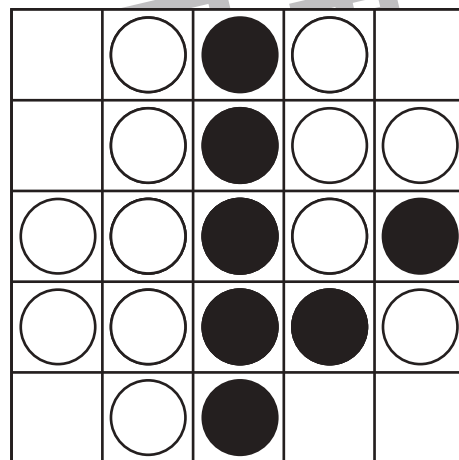



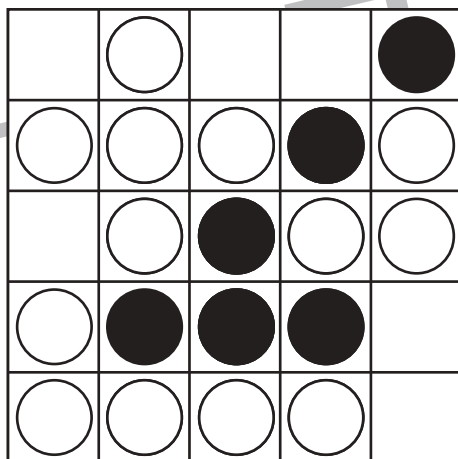




おうちで、やろう。

Study at home. 小学校受験の家庭学習教材

図形：オセロ5

オセロの問題です。○をできるだけたくさん●にかえるには、空いているマスのどこに●をかけばよいですか。空いているマスに●を1つだけかき、●にかわる○を黒く塗りましょう。

※オセロゲームのルール：縦・横・斜めで●と●に挟まれた○は●にかわります。



※1. このプリントは、しながわ・目黒こどもスクールのウェブサイトでダウンロードができます。無断複写・引用はご遠慮ください。
※2. このプリントを活用したオンライン授業のスケジュールは、しながわ・目黒こどもスクールのウェブサイトでご確認ください。




おうちで、やろう。

Study at home. 小学校受験の家庭学習教材


推理：なぞなぞ 1

- ①～④のなぞなぞをとりて、答えに○をつけましょう。
 ①れいそうこの なかに いる どうぶつは なんでしょう。
 ②「ま」が 3つの たべものは なんでしょう。
 ③おひさまの ほうを むいている はなは なんでしょう。
 ④せかいの まんなかに いる むしは なんでしょう。


①



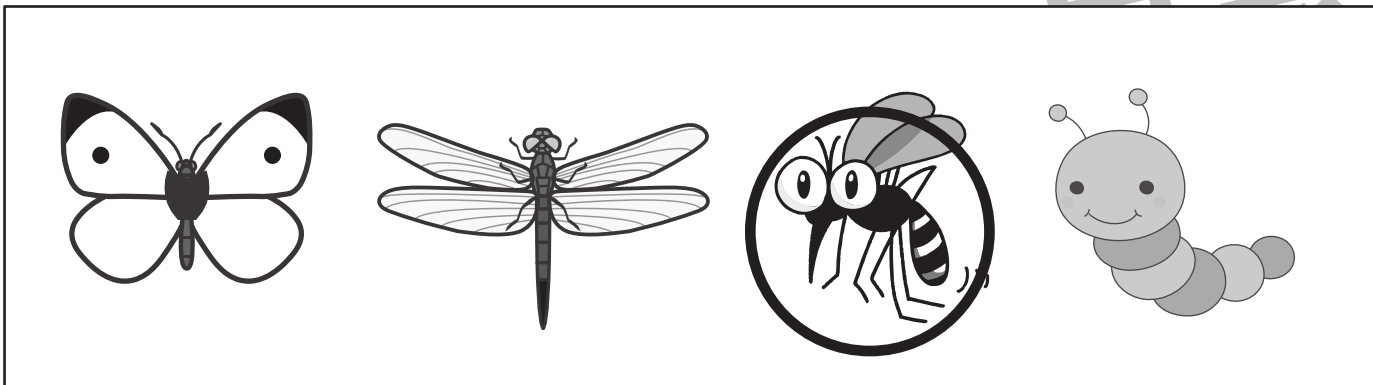
②



③



④



※1. このプリントは、しながわ・目黒こどもスクールのウェブサイトからダウンロードできます。無断複写・引用はご遠慮ください。
 ※2. このプリントを活用したオンライン授業のスケジュールは、しながわ・目黒こどもスクールのウェブサイトでご確認ください。





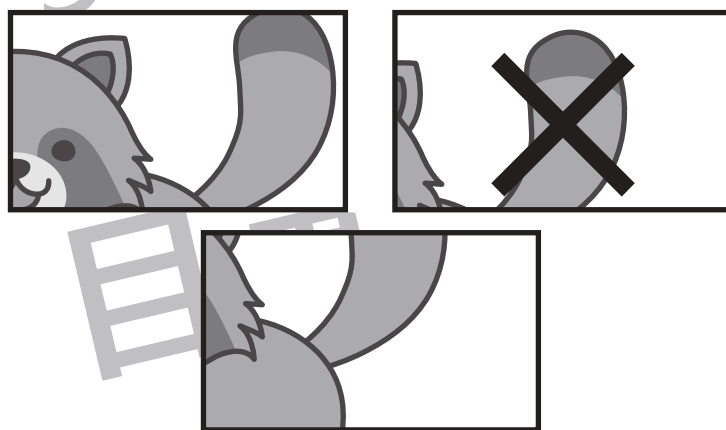
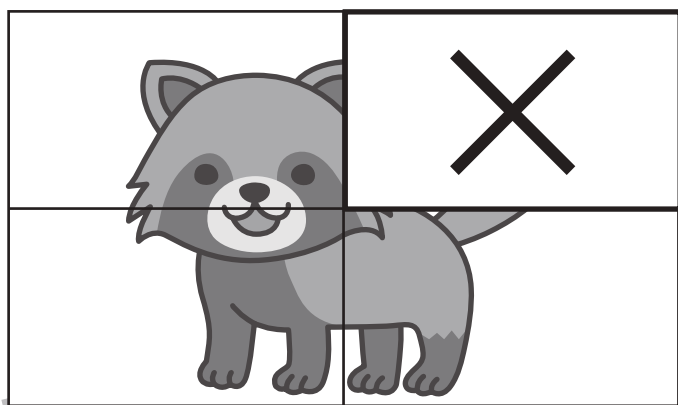
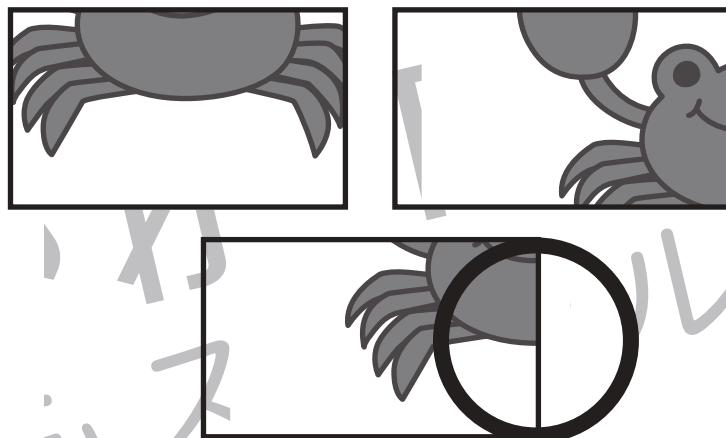



おうちで、やろう。

Study at home. 小学校受験の家庭学習教材

推理：パズル2

印のかいてある四角に当てはまるパズルピースを選んで、同じ印をつけましょう。



※1. このプリントは、しながわ・目黒こどもスクールのウェブサイトからダウンロードできます。無断複写・引用はご遠慮ください。

※2. このプリントを活用したオンライン授業のスケジュールは、しながわ・目黒こどもスクールのウェブサイトでご確認ください。



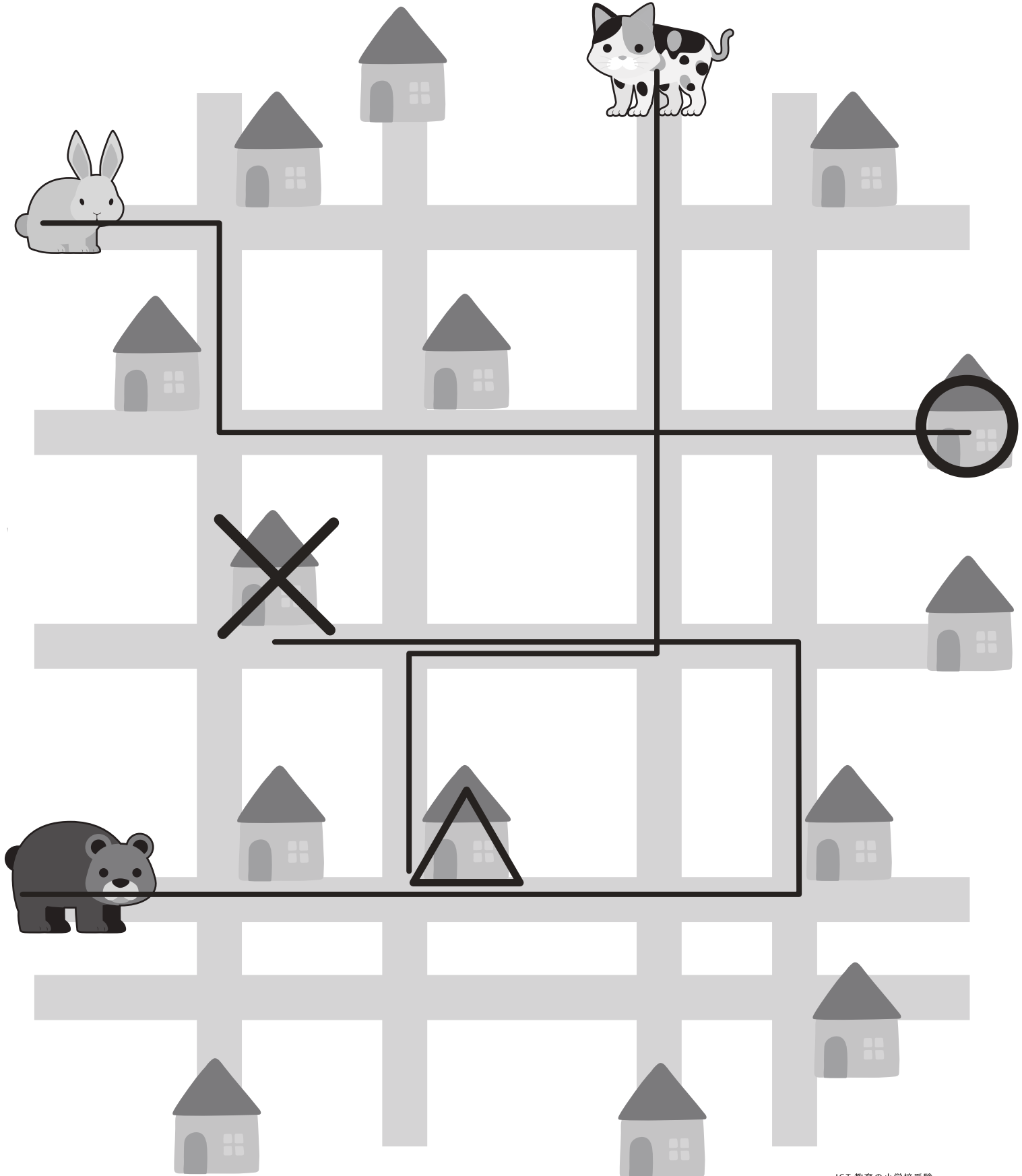


おうちで、やろう。

Study at home. 小学校受験の家庭学習教材

推理：地図の移動 5

- ウサギさんは、はじめの角を右に曲がり、次の角を左に曲がってまっすぐ進み、お友達のおうちに着きました。その家に○をつけましょう。
- ネコさんは、3つ目の交差点までまっすぐ行って、そこを右に曲がって、1つ目の交差点で左に曲がりました。そしてすぐ左側に見えたおうちに着きました。その家に△をつけましょう。
- クマさんは、まっすぐ歩いて3つ目のおうちのある角を左に曲がり、次の交差点も左に曲がりました。しばらく進んで右側に見えたおうちに着きました。その家に×をつけましょう。



※1. このプリントは、しながわ・目黒こどもスクールのウェブサイトダウンロードができます。無断複写・引用はご遠慮ください。
 ※2. このプリントを活用したオンライン授業のスケジュールは、しながわ・目黒こどもスクールのウェブサイトでご確認ください。