



おうちで、やろう。

Study at home. 小学校受験の家庭学習教材

指示の聞き取り 11

お話を聞いた後で動物たちがそれぞれじゃんけんで何を出したか考えて線を引きましょう。

- ①ウサギさんはチョキを出して、ブタさんとクマさんとあいこでした。
- ②ブタさんはウサギさんに勝って、ウサギさんはグーを出してクマさんに勝ちました。
- ③クマさんはグーを出してブタさんとあいこでした。ウサギさんはクマさんともあいこでした。
- ④ウサギさんはパーを出してブタさんに負けました。クマさんはウサギさんに勝ちました。

①

②

③

④

※1. このプリントは、しながわ・目黒こどもスクールのウェブサイトでダウンロードができます。無断複写・引用はご遠慮ください。

※2. このプリントを活用したオンライン授業のスケジュールは、しながわ・目黒こどもスクールのウェブサイトでご確認ください。



おうちで、やろう。

Study at home. 小学校受験の家庭学習教材

図形：パズル 2

左の四角の中にはマスと星があり、灰色のマスを埋めるために必要な部品を星でかいています。それぞれの問題を見て、星の数だけ部品を使うときの正しい組み合わせを見つけ、右の四角内の部品に○をつけましょう。

※1. このプリントは、しながわ・目黒こどもスクールのウェブサイトでダウンロードができます。無断複写・引用はご遠慮ください。

※2. このプリントを活用したオンライン授業のスケジュールは、しながわ・目黒こどもスクールのウェブサイトでご確認ください。



おうちで、やろう。

Study at home. 小学校受験の家庭学習教材

図形：切り抜き 10

四角の左側には折り紙を折って、切り抜くところを黒くしたものがああります。その黒い部分を切った時、どのように見えるかを考えて右の4つの中から正しいものを選んで○をつけます。

※1. このプリントは、しながわ・目黒こどもスクールのウェブサイトでダウンロードができます。無断複写・引用はご遠慮ください。

※2. このプリントを活用したオンライン授業のスケジュールは、しながわ・目黒こどもスクールのウェブサイトでご確認ください。



おうちで、やろう。

Study at home. 小学校受験の家庭学習教材

推理：積み木 10

上の四角の中の白い積み木と黒い積み木と灰色の積み木のうち、数の多い積み木はいくつありますか。その数だけ○をかきます。隠れている積み木は白い積み木です。

○	○	○	○
○	○		

○	○	○	○
○	○	○	○

○	○	○	○
○	○	○	

○	○	○	○
○			

○	○	○	○
○	○	○	

○	○	○	○
○	○	○	○

※1. このプリントは、しながわ・目黒こどもスクールのウェブサイトでダウンロードができます。無断複写・引用はご遠慮ください。
 ※2. このプリントを活用したオンライン授業のスケジュールは、しながわ・目黒こどもスクールのウェブサイトでご確認ください。



おうちで、やろう。

Study at home. 小学校受験の家庭学習教材

推理：積み木 11

上の四角の中の白い積み木と黒い積み木と灰色の積み木のうち、数の多い積み木はいくつありますか。その数だけ○をかきます。隠れている積み木は白い積み木です。

○	○	○	○
○	○	○	

○	○	○	○
○	○		

○	○	○	○
○	○	○	○

○	○	○	○
○			

○	○	○	○

○	○	○	○
○	○	○	

※1. このプリントは、しながわ・目黒こどもスクールのウェブサイトでダウンロードができます。無断複写・引用はご遠慮ください。
※2. このプリントを活用したオンライン授業のスケジュールは、しながわ・目黒こどもスクールのウェブサイトでご確認ください。



おうちで、やろう。

Study at home. 小学校受験の家庭学習教材

推理：積み木 12

上の四角の中の白い積み木と黒い積み木と灰色の積み木のうち、数の多い積み木はいくつありますか。その数だけ○をかきます。隠れている積み木は白い積み木です。

○	○	○	○
○			

○	○	○	○
○	○		

○	○	○	○
○			

○	○	○	○
○	○	○	○

○	○	○	○
○	○	○	○

○	○	○	○
○	○		

※1. このプリントは、しながわ・目黒こどもスクールのウェブサイトからダウンロードができます。無断複写・引用はご遠慮ください。

※2. このプリントを活用したオンライン授業のスケジュールは、しながわ・目黒こどもスクールのウェブサイトでご確認ください。



おうちで、よろう。

Study at home.

推理：ブラックボックス 19

上の太い四角の中が約束です。黒い星、白い星の箱の中に黒や白の丸が入ると、数が変わったり色が変わって出てきます。この約束で星の箱を通して出た丸はどちらの色でいくつになるでしょうか。その数だけ、その色で○を書きます。

	$\bullet \times 8$
--	--------------------

	$\bullet \times 7$
--	--------------------

	$\bullet \times 9$
--	--------------------

	$\circ \times 5$
--	------------------

※1. このプリントは、しながわ・目黒こどもスクールのウェブサイトでダウンロードができます。無断複写・引用はご遠慮ください。

※2. このプリントを活用したオンライン授業のスケジュールは、しながわ・目黒こどもスクールのウェブサイトでご確認ください。



おうちで、よろう。

Study at home.

推理：ブラックボックス 20

上の太い四角の中が約束です。黒い星、白い星の箱の中に黒や白の丸が入ると、数が変わったり色が変わって出てきます。この約束で星の箱を通して出た丸はどちらの色でいくつになるでしょうか。その数だけ、その色で○を書きます。

	$\bigcirc \times 3$
--	---------------------

	$\bullet \times 5$
--	--------------------

	$\bigcirc \times 7$
--	---------------------

	$\bullet \times 7$
--	--------------------

※1. このプリントは、しながわ・目黒こどもスクールのウェブサイトでダウンロードができます。無断複写・引用はご遠慮ください。

※2. このプリントを活用したオンライン授業のスケジュールは、しながわ・目黒こどもスクールのウェブサイトでご確認ください。




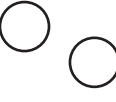

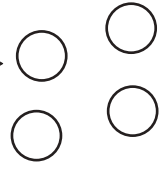





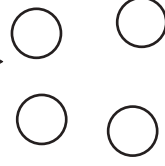






おうちで、よろう。





Study at home.






推理：ブラックボックス 21






上の太い四角の中が約束です。黒い星、白い星の箱の中に黒や白の丸が入ると、数が変わったり色が変わって出てきます。この約束で星の箱を通して出た丸はどちらの色でいくつになるでしょうか。その数だけ、その色で○を書きます。

	→		→	
	→		→	
	→		→	
	→		→	

	→		→		→	 × 2
--	---	--	---	--	---	--

	→		→		→	 × 3
---	---	---	---	---	---	---

	→		→		→		→	 × 7
---	---	---	---	---	---	--	---	---

	→		→		→		→	 × 5
---	---	---	---	---	---	--	---	---

※1. このプリントは、しながわ・目黒こどもスクールのウェブサイトからダウンロードできます。無断複製・引用はご遠慮ください。

※2. このプリントを活用したオンライン授業のスケジュールは、しながわ・目黒こどもスクールのウェブサイトでご確認ください。