







# おうちで、やろう。

Study at home. 小学校受験の家庭学習教材

言語：音の数 19

それぞれの四角の中の野菜や果物の音の数を考えます。音の数が三番目に多いものに○をつけます。



※1. このプリントは、しながわ・目黒こどもスクールのウェブサイトでダウンロードができます。無断複写・引用はご遠慮ください。  
※2. このプリントを活用したオンライン授業のスケジュールは、しながわ・目黒こどもスクールのウェブサイトでご確認ください。







# おうちで、やろう。

Study at home. 小学校受験の家庭学習教材

言語：音の数 20

それぞれの四角の中の動物の音の数が同じものを2つつけて○をつけます。



※1. このプリントは、しながわ・目黒こどもスクールのウェブサイトでダウンロードができます。無断複写・引用はご遠慮ください。  
※2. このプリントを活用したオンライン授業のスケジュールは、しながわ・目黒こどもスクールのウェブサイトでご確認ください。






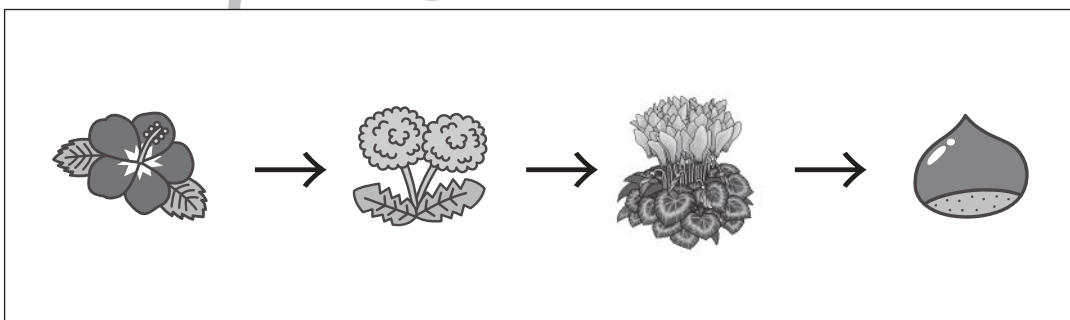

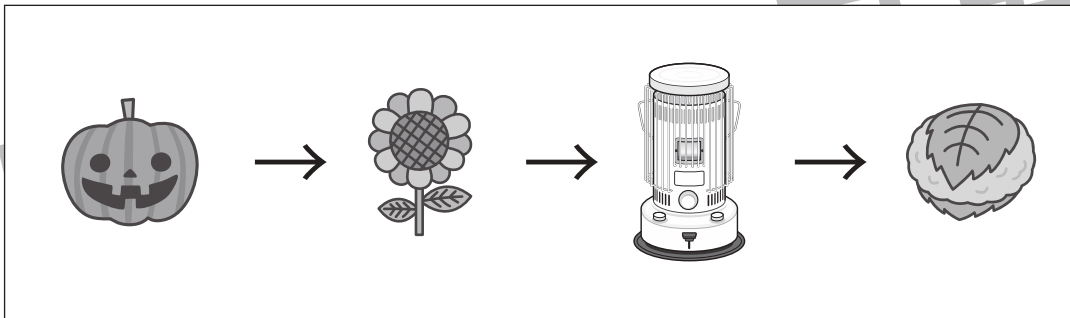

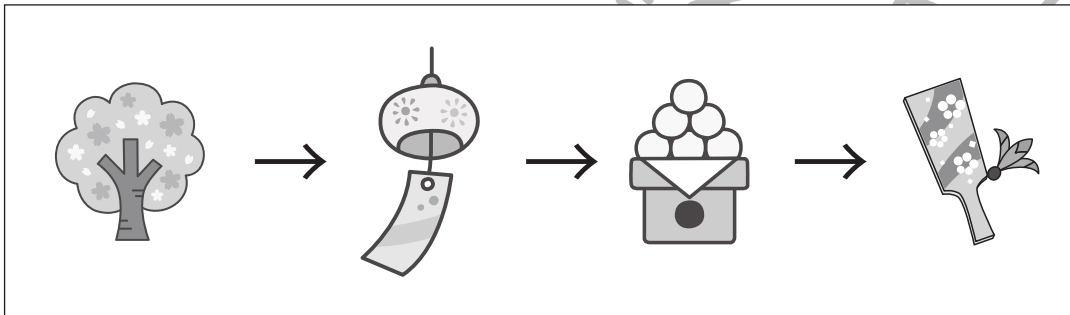

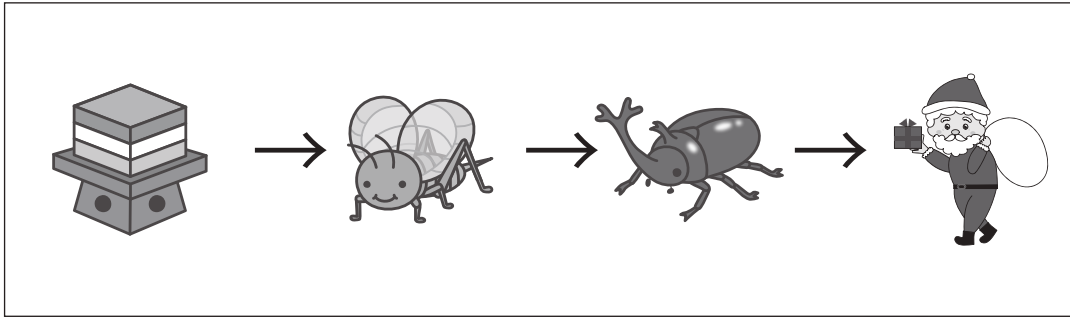


# おうちで、やろう。

Study at home. 小学校受験の家庭学習教材

## 常識：季節 14

左から季節の順番が春→夏→秋→冬となっているときは○、季節の順番が間違っているときは×を右の四角の中にかきます。



※1. このプリントは、しながわ・目黒こどもスクールのウェブサイトでダウンロードができます。無断複写・引用はご遠慮ください。  
※2. このプリントを活用したオンライン授業のスケジュールは、しながわ・目黒こどもスクールのウェブサイトでご確認ください。

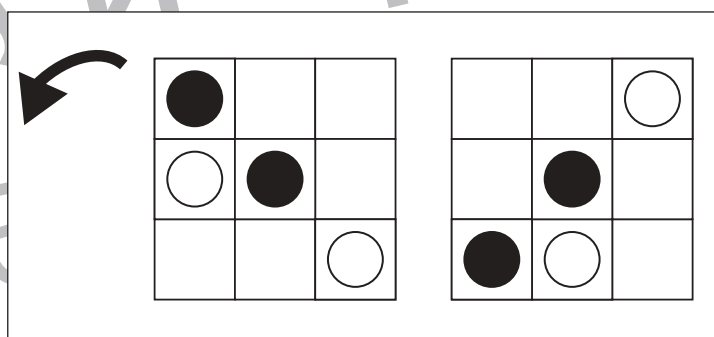
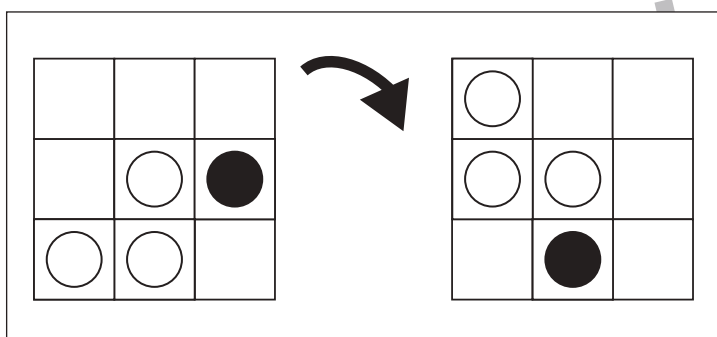
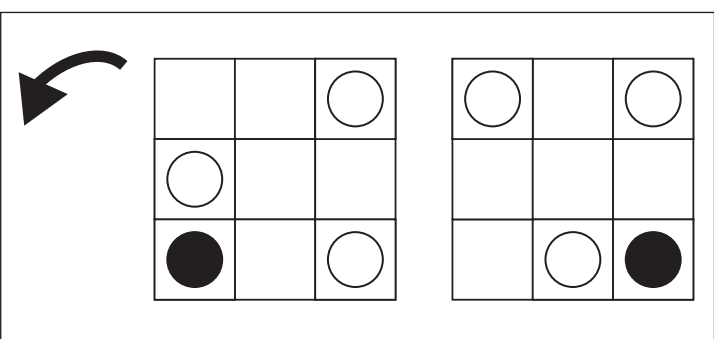
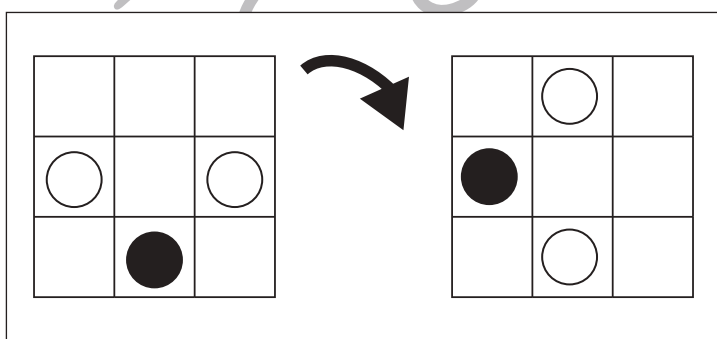
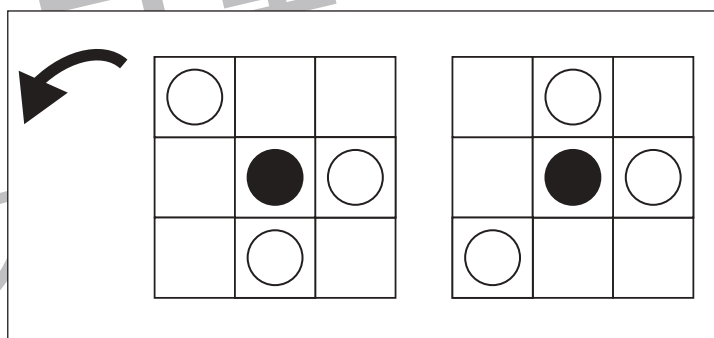
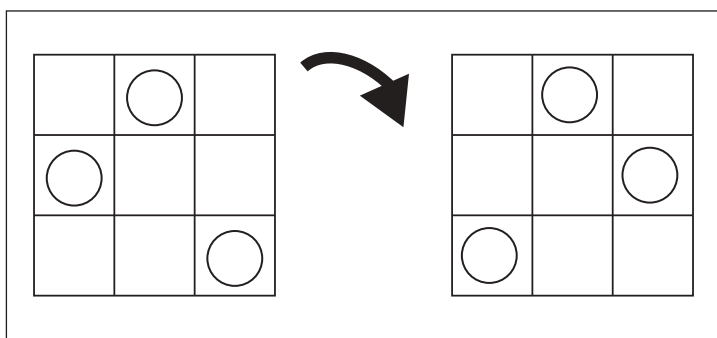
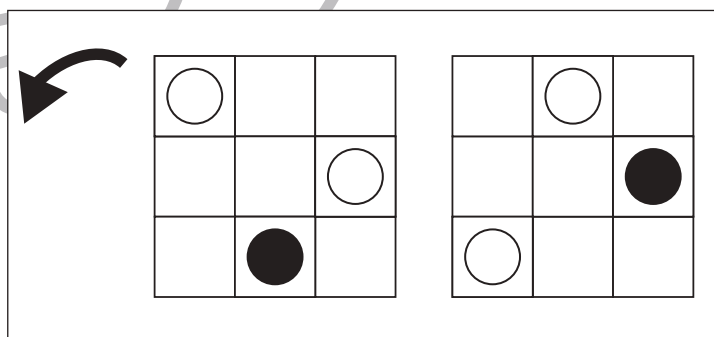
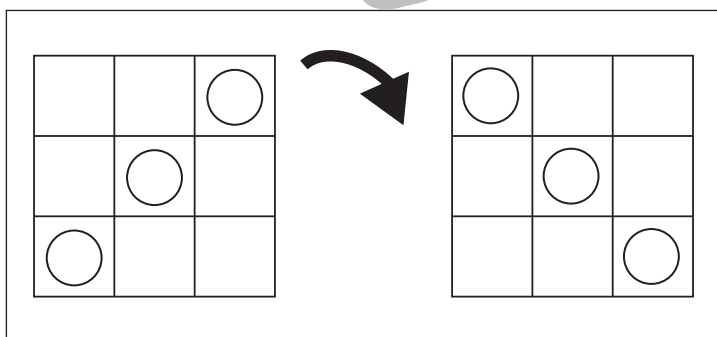
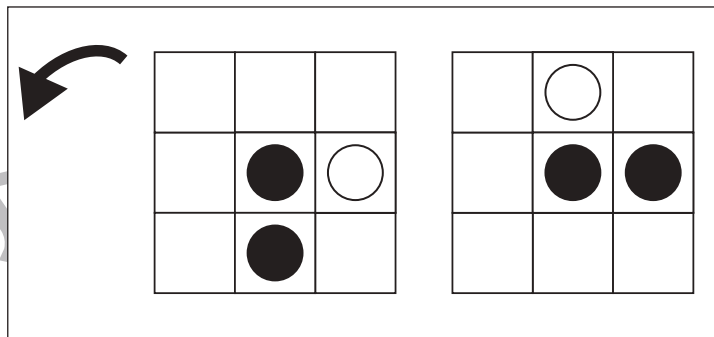
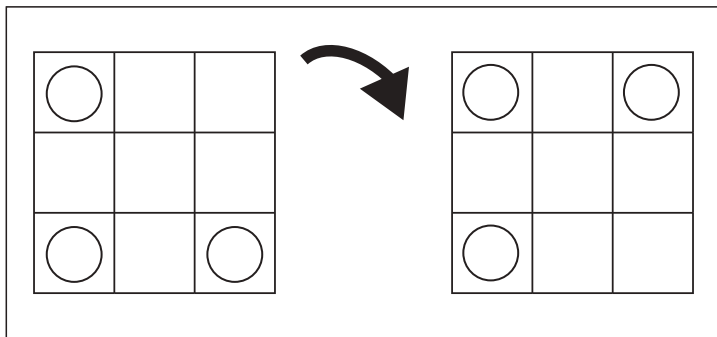


# おうちで、やろう。

Study at home. 小学校受験の家庭学習教材

## 図形：回転 56

左のお手本を矢印の方向へ 1 回倒した時の見え方を考えて右の四角にかきます。



※1. このプリントは、しながわ・目黒こどもスクールのウェブサイトでダウンロードができます。無断複写・引用はご遠慮ください。  
 ※2. このプリントを活用したオンライン授業のスケジュールは、しながわ・目黒こどもスクールのウェブサイトでご確認ください。



# おうちで、やろう。

Study at home. 小学校受験の家庭学習教材

## 推理：シルエット 11

左の太い四角の中は影になった絵です。右の四角の中から左の四角の中にある影を見つけて × をつけます。


※1. このプリントは、しながわ・目黒こどもスクールのウェブサイトでダウンロードができます。無断複写・引用はご遠慮ください。

※2. このプリントを活用したオンライン授業のスケジュールは、しながわ・目黒こどもスクールのウェブサイトでご確認ください。



# おうちで、よろう。

Study at home.

## 推理：ブラックボックス 22

上の太い四角の中が約束です。りんごの箱に三角が入ると、数が変わり、バナナの箱に三角が入ると、色が変わって出てきます。一番右にある三角が、最後に出てくる数になります。このとき、太い箱の中はどちらの果物になりますか。正しい方に○をつけます。

	→		→	
	→		→	
	→		→	
	→		→	

	→		→		→		
--	---	--	---	--	---	--	--

	→		→		→		
--	---	--	---	--	---	--	--

	→		→		→		
--	---	--	---	--	---	--	--

	→		→		→		
--	---	--	---	--	---	--	--

※1. このプリントは、しながわ・目黒こどもスクールのウェブサイトでダウンロードができます。無断複写・引用はご遠慮ください。

※2. このプリントを活用したオンライン授業のスケジュールは、しながわ・目黒こどもスクールのウェブサイトでご確認ください。



# おうちで、よろう。

Study at home.

## 推理：ブラックボックス 23

上の太い四角の中が約束です。りんごの箱に三角が入ると、数が変わり、バナナの箱に三角が入ると、色が変わって出てきます。一番右にある三角が、最後に出てくる数になります。このとき、太い箱の中はどちらの果物になりますか。正しい方に○をつけます。


--	--

--	--

--	--

	<p>※○・△どちらの組み合わせでも正解とします。 ただし、△の組み合わせでも印は○となります。</p>
--	--

※1. このプリントは、しながわ・目黒こどもスクールのウェブサイトでダウンロードができます。無断複写・引用はご遠慮ください。  
 ※2. このプリントを活用したオンライン授業のスケジュールは、しながわ・目黒こどもスクールのウェブサイトでご確認ください。

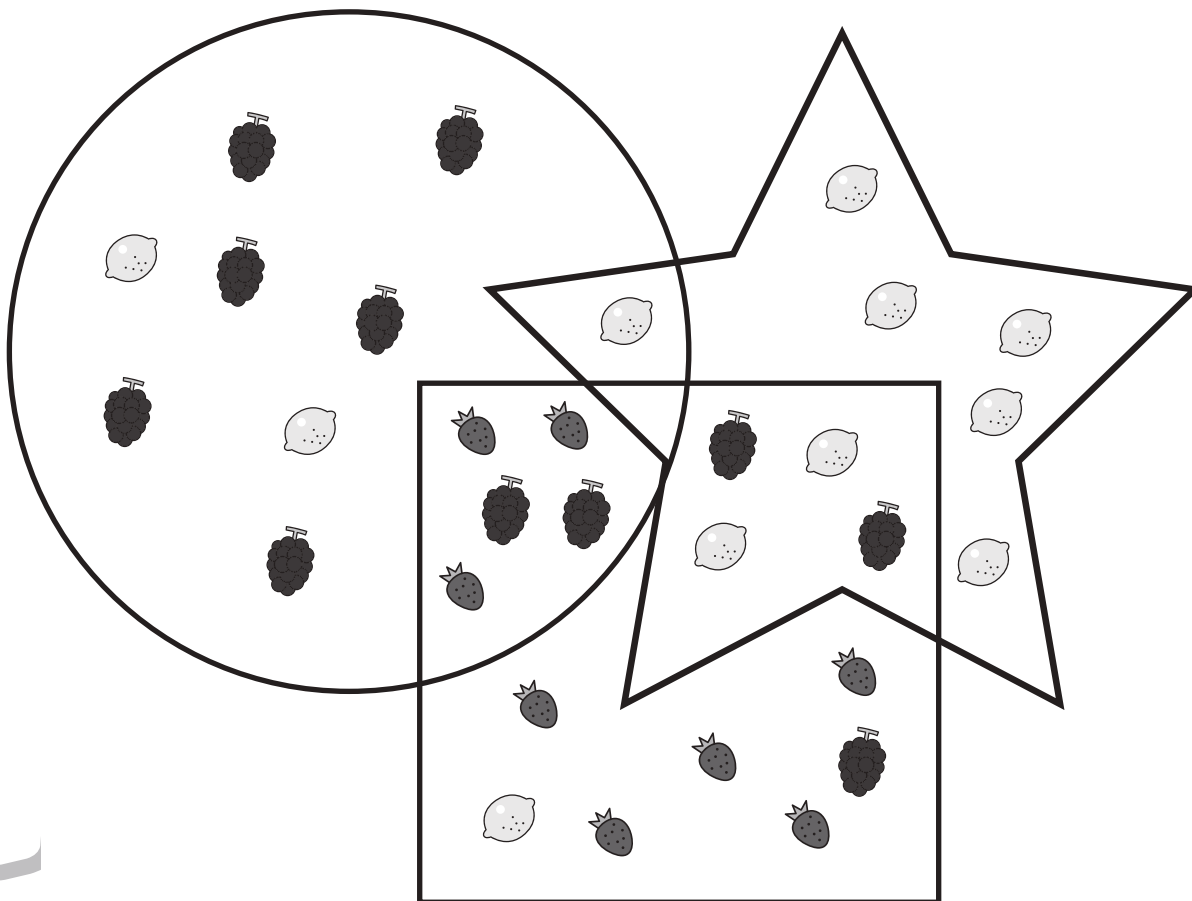


# おうちで、やろう。

Study at home. 小学校受験の家庭学習教材

数量：計数 31

- ①星の中にあるレモンの数だけ○をかきます。
- ②丸と四角が重なっている場所にあるイチゴの数だけ○をかきます。
- ③星と四角が重なっている場所にあるブドウの数だけ○をかきます。
- ④四角の中で丸も星も重なっていない場所にあるイチゴの数だけ○をかきます。



①

○ × 8

②

○ × 3

③

○ × 2

④

○ × 5



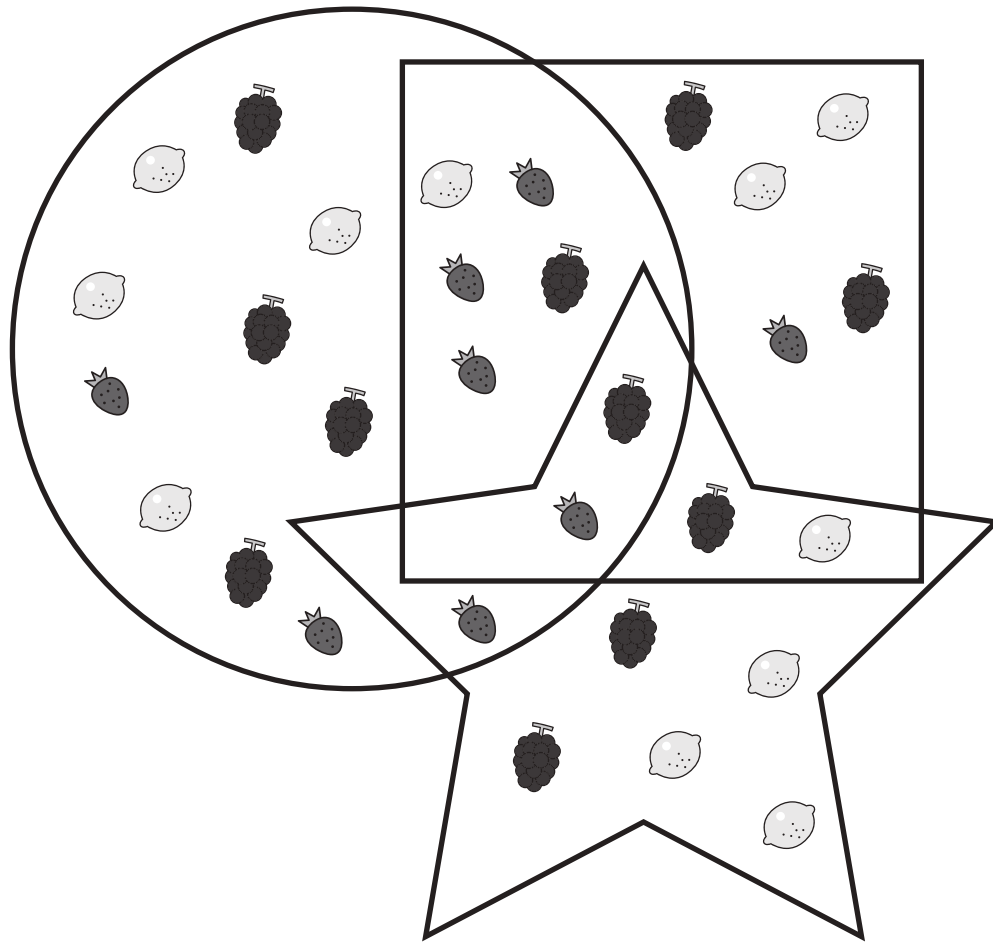


# おうちで、やろう。

Study at home. 小学校受験の家庭学習教材

数量：計数 32

- ①星と四角の中にあるブドウの数だけ○をかきます。
- ②丸と四角の中にあるブドウの数だけ丸をかきます。
- ③星と丸が重なっている場所にあるブドウの数だけ○をかきます。
- ④3つの形が重なっている場所にある果物の数だけ○をかきます。



①

○ × 7

②

○ × 9

③

○ × 1

④

○ × 2

※1. このプリントは、しながわ・目黒こどもスクールのウェブサイトからダウンロードできます。無断複写・引用はご遠慮ください。  
 ※2. このプリントを活用したオンライン授業のスケジュールは、しながわ・目黒こどもスクールのウェブサイトでご確認ください。







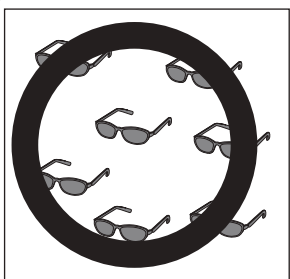
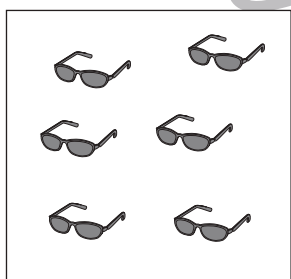














# おうちで、やろう。

Study at home. 小学校受験の家庭学習教材

処理：多少8

左の四角と右の四角を比べて、四角の中の絵の数が多い方に○をつけます。ただし、どちらも同じ数のときは両方の四角に△をつけます。この問題は時間を意識して取り組みましょう。(目安時間 1分～1分30秒)



※1. このプリントは、しながわ・目黒こどもスクールのウェブサイトでダウンロードができます。無断複写・引用はご遠慮ください。  
※2. このプリントを活用したオンライン授業のスケジュールは、しながわ・目黒こどもスクールのウェブサイトでご確認ください。

