



おうちで、やろう。

Study at home. 小学校受験の家庭学習教材

指示の聞き取り 25

それぞれお話をよく聞いて問題に取り組みます。お話は一度しか読みませんのでしっかり聞きましょう。

- ①一番上の段の右端のマスに青のクーピーで○をかきます。
- ②一番下の段の左端のマスに黒のクーピーで△をかきます。
- ③上から2段目の左から3番目のマスに茶色のクーピーで□をかきます。
- ④下から2段目の一番右のマスに緑のクーピーで×をかきます。
- ⑤下から3段目の右から5番目のマスに青のクーピーで◎をかきます。
- ⑥上から6段目の左から5番目のマスを黄色のクーピーで塗ります。

				青	
		茶			
	青	◎			
					緑
					
黒					黄色で 塗る
					

※1. このプリントは、しながわ・目黒こどもスクールのウェブサイトでダウンロードができます。無断複写・引用はご遠慮ください。

※2. このプリントを活用したオンライン授業のスケジュールは、しながわ・目黒こどもスクールのウェブサイトでご確認ください。


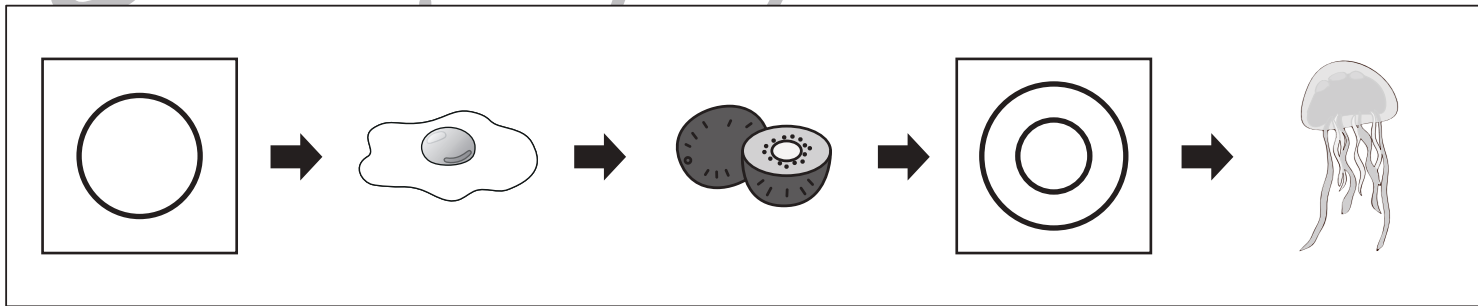

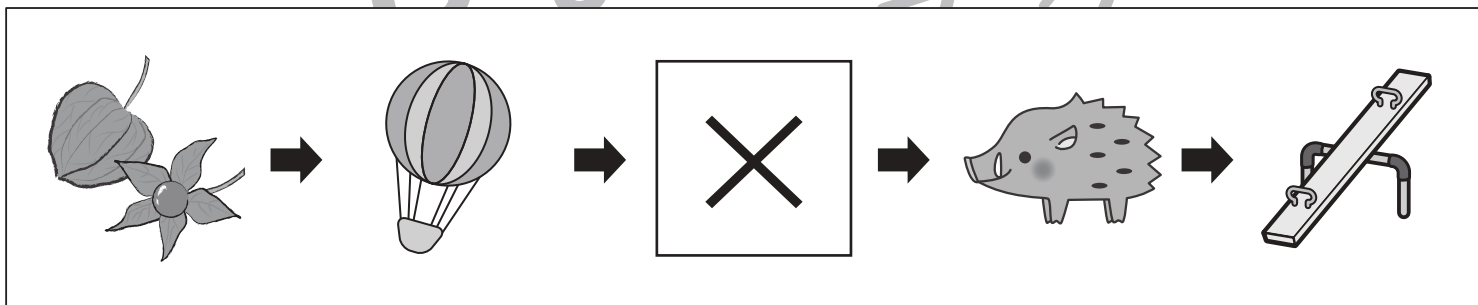



おうちで、やろう。

Study at home. 小学校受験の家庭学習教材

言語：しりとり 12

左から順番にしりとりをします。記号のある四角の中に入る絵を下の四角の中から選んで、それぞれの四角の中の記号をつけます。



※1. このプリントは、しながわ・目黒こどもスクールのウェブサイトでダウンロードができます。無断複写・引用はご遠慮ください。
 ※2. このプリントを活用したオンライン授業のスケジュールは、しながわ・目黒こどもスクールのウェブサイトでご確認ください。

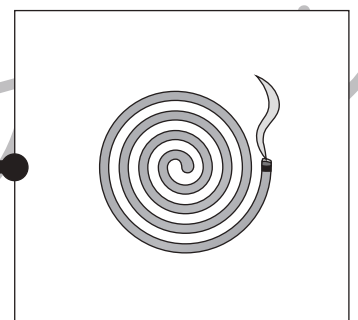


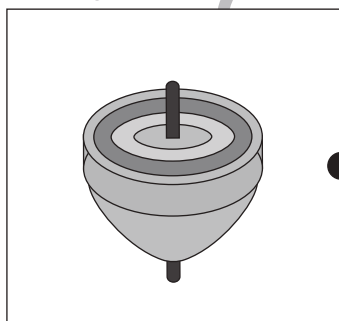
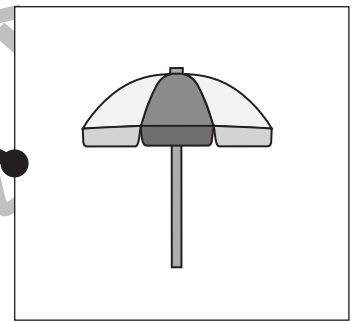
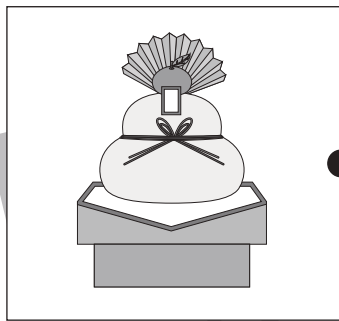






おうちで、やろう。

Study at home. 小学校受験の家庭学習教材

言語：音の数 21

左と右の四角の中の絵の音の数が同じもの同士を点を結びます。



※1. このプリントは、しながわ・目黒こどもスクールのウェブサイトでダウンロードができます。無断複写・引用はご遠慮ください。
※2. このプリントを活用したオンライン授業のスケジュールは、しながわ・目黒こどもスクールのウェブサイトでご確認ください。






おうちで、やろう。

Study at home. 小学校受験の家庭学習教材

言語：音の理解 48

下の四角の中の絵の名前を考えます。①、②の問題に答えます。
①名前の中に「きゃ、きゅ、きょ」があるものに○をつけます。
②名前の中に「っ」がつくものに△をつけます。



※1. このプリントは、しながわ・目黒こどもスクールのウェブサイトでダウンロードができます。無断複写・引用はご遠慮ください。
※2. このプリントを活用したオンライン授業のスケジュールは、しながわ・目黒こどもスクールのウェブサイトでご確認ください。





おうちで、やろう。

Study at home. 小学校受験の家庭学習教材

常識：スポーツ 4

一番上の段のスポーツ選手と関係するものを、真ん中の段と一番下の段の絵の中から選んで線で結びましょう。

※1. このプリントは、しながわ・目黒こどもスクールのウェブサイトでダウンロードができます。無断複写・引用はご遠慮ください。
 ※2. このプリントを活用したオンライン授業のスケジュールは、しながわ・目黒こどもスクールのウェブサイトでご確認ください。



おうちで、やろう。

Study at home. 小学校受験の家庭学習教材

図形：切り抜き 11

四角の左側には折り紙を折って、切り抜くところを黒くしたものがああります。その黒い部分を切った時、どのように見えるかを考えて右の4つの中から正しいものを選んで○をつけます。

※1. このプリントは、しながわ・目黒こどもスクールのウェブサイトでダウンロードができます。無断複写・引用はご遠慮ください。

※2. このプリントを活用したオンライン授業のスケジュールは、しながわ・目黒こどもスクールのウェブサイトでご確認ください。



おうちで、やろう。

Study at home. 小学校受験の家庭学習教材

推理：条件推理 26

上の四角が約束です。左の形から順番が矢印で描かれており、最後の形にたどり着いたら初めのマークに戻っています。下のマスの中にあるマークからスタートし、隣り合わせの縦・横になるすべてにマスに次の形をかきます。この約束でそれぞれ四角のマスすべてに形をかきます。



X	△	○
●	X	△
X	△	○

●	○	△
○	△	X
△	X	●

△	X	△
X	●	X
△	X	△

X	●	X
●	○	●
X	●	X



◎	X	●
X	●	△
●	△	◎

△	◎	△
◎	X	◎
△	◎	△

●	X	◎
X	◎	△
◎	△	●

X	●	X
●	△	●
X	●	X



●	X	●
X	○	X
●	X	●

●	X	○
○	●	X
X	○	●

X	○	X
○	●	○
●	X	●

X	○	X
○	●	○
X	○	X

※1. このプリントは、しながわ・目黒こどもスクールのウェブサイトでダウンロードができます。無断複写・引用はご遠慮ください。
 ※2. このプリントを活用したオンライン授業のスケジュールは、しながわ・目黒こどもスクールのウェブサイトでご確認ください。




おうちで、やろう。

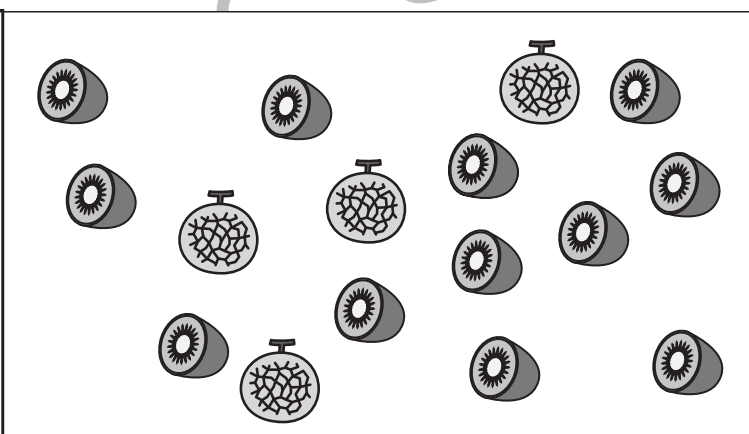

Study at home. 小学校受験の家庭学習教材

数量：余る数 7


左の四角の中の袋がお手本です。真ん中の大きな四角の中の果物でお手本の袋をできるだけ作ります。このとき、余る果物はそれぞれいくつですか。その数だけ一番右の四角に○をかきます。余らない場合はその四角に×を1つかきます。





	$\bigcirc \times 1$
	$\bigcirc \times 3$



	×
	×



	$\bigcirc \times 2$
	×



	$\bigcirc \times 1$
	$\bigcirc \times 8$

※1. このプリントは、しながわ・目黒こどもスクールのウェブサイトからダウンロードできます。無断複写・引用はご遠慮ください。
※2. このプリントを活用したオンライン授業のスケジュールは、しながわ・目黒こどもスクールのウェブサイトでご確認ください。

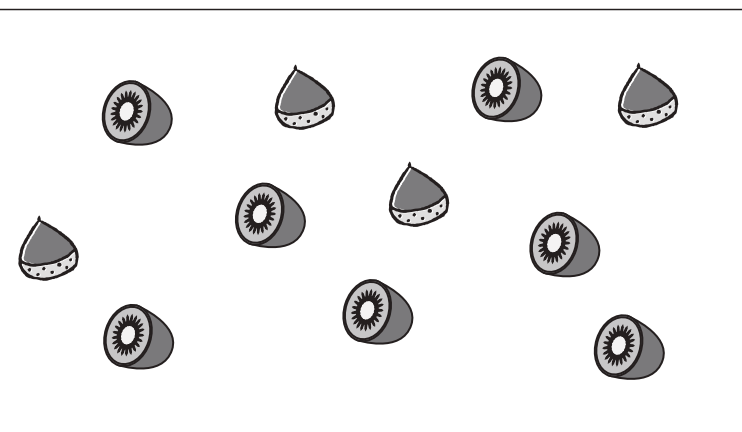



おうちで、やろう。

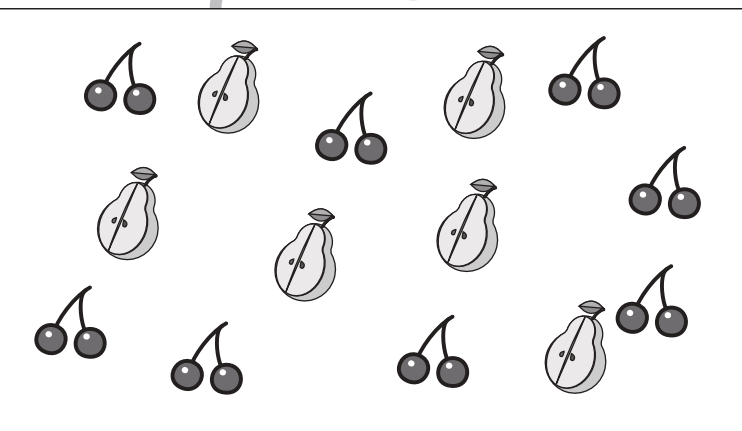

Study at home. 小学校受験の家庭学習教材

数量：余る数8



左の四角の中の袋がお手本です。真ん中の大きな四角の中の果物でお手本の袋をできるだけ作ります。このとき、余る果物はそれぞれいくつですか。その数だけ一番右の四角に○をかきます。余らない場合はその四角に×を1つかきます。




	○ × 1
	○ × 1



	○ × 2
	×



	×
	×



	○ × 1
	○ × 1

※1. このプリントは、しながわ・目黒こどもスクールのウェブサイトでダウンロードができます。無断複写・引用はご遠慮ください。
※2. このプリントを活用したオンライン授業のスケジュールは、しながわ・目黒こどもスクールのウェブサイトでご確認ください。





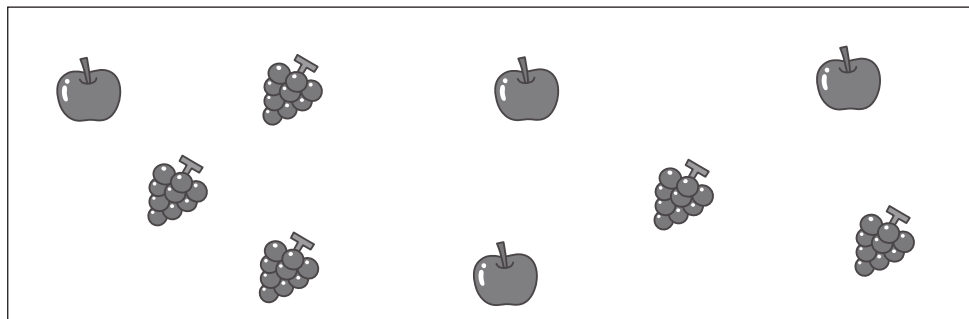


おうちで、やろう。

Study at home. 小学校受験の家庭学習教材

処理：計数 18

左の四角の中にある絵をかぞえてその数だけ、右の同じ絵の四角に○をかきます。
この問題はスピードを意識して取り組みます。(目安時間 1分～1分30秒)



※1. このプリントは、しながわ・目黒こどもスクールのウェブサイトでダウンロードができます。無断複写・引用はご遠慮ください。
※2. このプリントを活用したオンライン授業のスケジュールは、しながわ・目黒こどもスクールのウェブサイトでご確認ください。

