



おうちで、やろう。

Study at home. 小学校受験の家庭学習教材

図形：折り重ね 45

左のマスは透明です。このマスを真ん中の太い線で矢印の方向へ折り重ねます。このとき、隠れないで見えているマスの数だけ右の四角に○をかきます。

	$\bigcirc \times 2$		$\bigcirc \times 4$
--	---------------------	--	---------------------

	$\bigcirc \times 2$		$\bigcirc \times 4$
--	---------------------	--	---------------------

	$\bigcirc \times 3$		$\bigcirc \times 4$
--	---------------------	--	---------------------

	$\bigcirc \times 3$		$\bigcirc \times 2$
--	---------------------	--	---------------------

	$\bigcirc \times 2$		$\bigcirc \times 4$
--	---------------------	--	---------------------

※1. このプリントは、しながわ・目黒こどもスクールのウェブサイトでダウンロードができます。無断複写・引用はご遠慮ください。
 ※2. このプリントを活用したオンライン授業のスケジュールは、しながわ・目黒こどもスクールのウェブサイトでご確認ください。



おうちで、やろう。

Study at home. 小学校受験の家庭学習教材

図形：折り重ね 46

左のマスは透明です。このマスを真ん中の太い線で矢印の方向へ折り重ねます。このとき、隠れないで見えているマスの数だけ右の四角に○をかきます。

	$\bigcirc \times 2$		$\bigcirc \times 3$
--	---------------------	--	---------------------

	$\bigcirc \times 2$		$\bigcirc \times 3$
--	---------------------	--	---------------------

	$\bigcirc \times 3$		$\bigcirc \times 4$
--	---------------------	--	---------------------

	$\bigcirc \times 2$		$\bigcirc \times 4$
--	---------------------	--	---------------------

	$\bigcirc \times 3$		$\bigcirc \times 3$
--	---------------------	--	---------------------

※1. このプリントは、しながわ・目黒こどもスクールのウェブサイトでダウンロードができます。無断複写・引用はご遠慮ください。
※2. このプリントを活用したオンライン授業のスケジュールは、しながわ・目黒こどもスクールのウェブサイトでご確認ください。



おうちで、やろう。

Study at home. 小学校受験の家庭学習教材

図形：折り重ね 47

左のマスは透明です。このマスを真ん中の太い線で矢印の方向へ折り重ねます。このとき、隠れないで見えているマスの数だけ右の四角に○をかきます。

	$\bigcirc \times 3$		$\bigcirc \times 2$
--	---------------------	--	---------------------

	$\bigcirc \times 2$		$\bigcirc \times 3$
--	---------------------	--	---------------------

	$\bigcirc \times 1$		$\bigcirc \times 2$
--	---------------------	--	---------------------

	$\bigcirc \times 2$		$\bigcirc \times 4$
--	---------------------	--	---------------------

	$\bigcirc \times 4$		$\bigcirc \times 3$
--	---------------------	--	---------------------

※1. このプリントは、しながわ・目黒こどもスクールのウェブサイトでダウンロードができます。無断複写・引用はご遠慮ください。
 ※2. このプリントを活用したオンライン授業のスケジュールは、しながわ・目黒こどもスクールのウェブサイトでご確認ください。

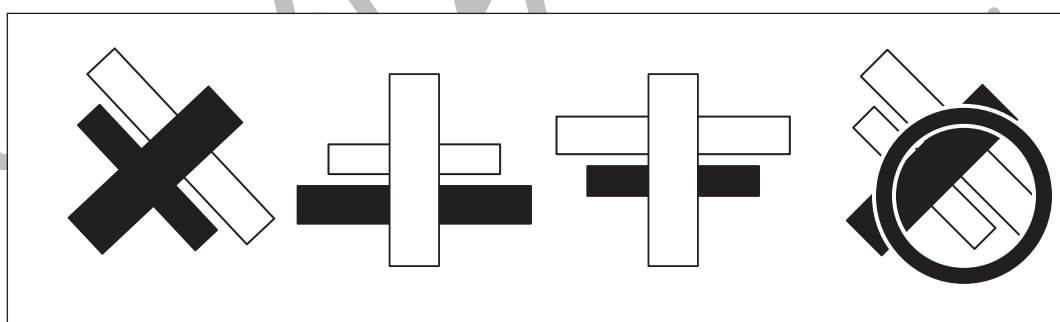
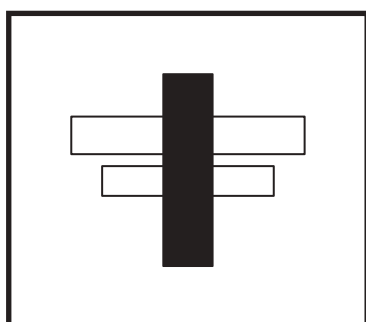


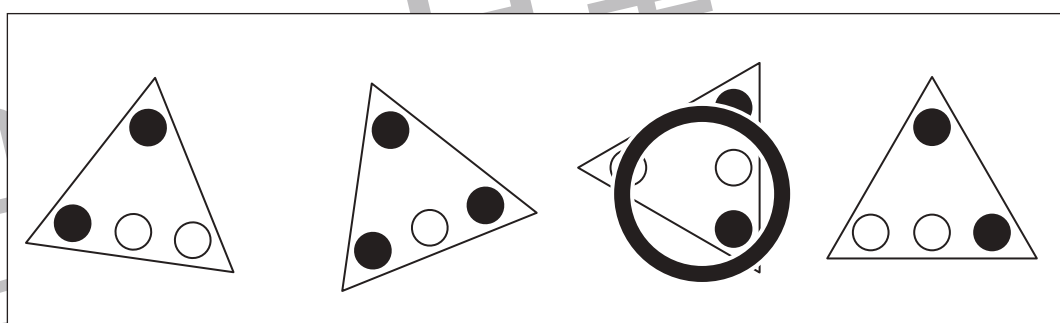
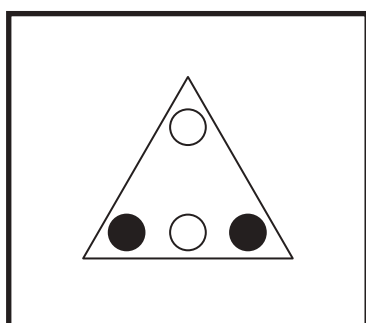
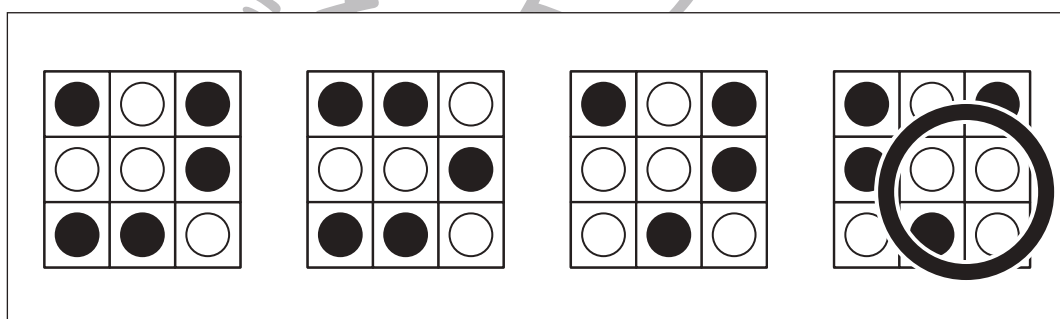
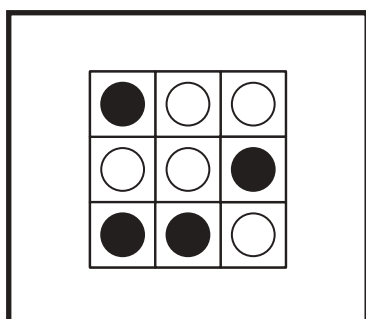
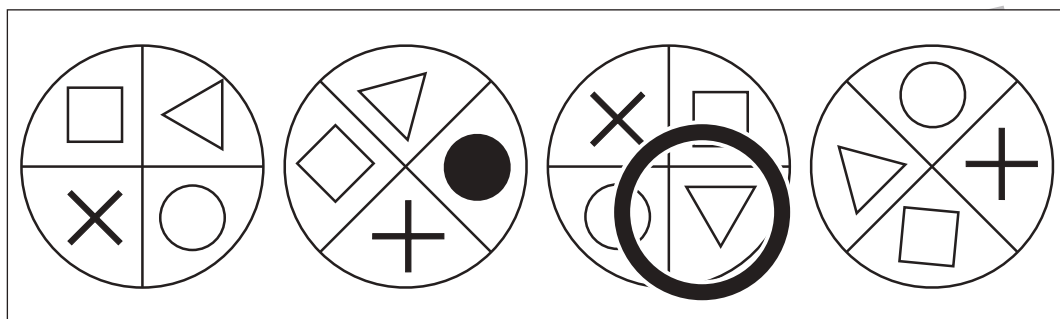



おうちで、やろう。

Study at home. 小学校受験の家庭学習教材

図形：同図形7

左の太い四角の中がお手本です。このお手本とそっくり同じ形を右の4つの中から見つけて○をつけます。
右の形は回っているものもあります。



※1. このプリントは、しながわ・目黒こどもスクールのウェブサイトでダウンロードができます。無断複写・引用はご遠慮ください。
※2. このプリントを活用したオンライン授業のスケジュールは、しながわ・目黒こどもスクールのウェブサイトでご確認ください。





おうちで、やろう。

Study at home. 小学校受験の家庭学習教材

推理：系列完成 22

上の太い四角がお手本です。黒い矢印からお手本の形を左から順番に繰り返して進みます。進む道は縦と横には進めますが、斜めには進めません。この約束で進むと、どの動物の場所に着きますか。その動物に○をつけます。

目黒し

		● ▲ ○ □							
○	□	▲	○	▲	▲	○	□	●	□
○	●	▲	▲	○	●	●	○	▲	○
○	□	○	▲	○	□	□	○	□	□
●	□	□	●	□	□	▲	○	●	○

○ (Elephant) ○ (Cat) ○ (Giraffe)

しながわ 目黒し

		□ ◀ ● ▲							
○	□	●	▲	□	●	◀	□	▲	◀
□	●	▲	○	▲	□	▲	▲	○	●
□	◀	◀	◀	●	●	●	□	●	▲
○	◀	□	◀	□	▲	○	○	□	▲
▲	●	▲	●	○	●	□	●	●	○

○ (Elephant) ○ (Cat) ○ (Giraffe)

※1. このプリントは、しながわ・目黒こどもスクールのウェブサイトでダウンロードができます。無断複写・引用はご遠慮ください。
※2. このプリントを活用したオンライン授業のスケジュールは、しながわ・目黒こどもスクールのウェブサイトでご確認ください。



おうちで、やろう。

Study at home. 小学校受験の家庭学習教材

推理：系列完成 23

野菜がある順番通りに並んでいます。灰色の四角の中の並び方を考えて正しいものを下の四角の中から選んで○をつけます。

※1. このプリントは、しながわ・目黒こどもスクールのウェブサイトでダウンロードができます。無断複写・引用はご遠慮ください。

※2. このプリントを活用したオンライン授業のスケジュールは、しながわ・目黒こどもスクールのウェブサイトでご確認ください。