



おうちで、やろう。

Study at home. 小学校受験の家庭学習教材

記憶：絵の記憶 13

別紙『記憶 - 絵の記憶 13 記憶用紙』を使用します。記憶用紙の絵を見た後に①、②、③の問題に取り組みましょう。

①

$$\bigcirc \times 7$$

②

$$\bigcirc \times 9$$

③

$$\bigcirc \times 10$$



おうちで、やろう。

Study at home. 小学校受験の家庭学習教材

図形：折り重ね 48

真ん中の線で矢印の方向へ折って重ねるとすべてのマスが灰色になる約束です。
この約束のとき、太い四角の灰色のマスを考えて塗ります。

※1. このプリントは、しながわ・目黒こどもスクールのウェブサイトからダウンロードできます。無断複写・引用はご遠慮ください。
 ※2. このプリントを活用したオンライン授業のスケジュールは、しながわ・目黒こどもスクールのウェブサイトでご確認ください。



おうちで、やろう。

Study at home. 小学校受験の家庭学習教材

図形：折り重ね 49

真ん中の線で矢印の方向へ折って重ねるとすべてのマスが灰色になる約束です。
この約束のとき、太い四角の灰色のマスを考えて塗ります。

※1. このプリントは、しながわ・目黒こどもスクールのウェブサイトからダウンロードできます。無断複写・引用はご遠慮ください。

※2. このプリントを活用したオンライン授業のスケジュールは、しながわ・目黒こどもスクールのウェブサイトでご確認ください。



おうちで、やろう。

Study at home. 小学校受験の家庭学習教材

図形：折り重ね 50

真ん中の線で矢印の方向へ折って重ねるとすべてのマスが灰色になる約束です。
この約束のとき、太い四角の灰色のマスを考えて塗ります。

※1. このプリントは、しながわ・目黒こどもスクールのウェブサイトからダウンロードできます。無断複写・引用はご遠慮ください。

※2. このプリントを活用したオンライン授業のスケジュールは、しながわ・目黒こどもスクールのウェブサイトでご確認ください。



おうちで、やろう。

Study at home. 小学校受験の家庭学習教材

推理：系列完成 24

野菜がある順番通りに並んでいます。灰色の四角の中の並び方を考えて正しいものを下の四角の中から選んで○をつけます。

※1. このプリントは、しながわ・目黒こどもスクールのウェブサイトでダウンロードができます。無断複写・引用はご遠慮ください。
 ※2. このプリントを活用したオンライン授業のスケジュールは、しながわ・目黒こどもスクールのウェブサイトでご確認ください。



おうちで、やろう。

Study at home. 小学校受験の家庭学習教材

推理：系列完成 25

上の太い四角がお手本です。黒い矢印からお手本の形を左から順番に繰り返して進みます。進む道は縦と横には進めますが、斜めには進めません。この約束で進むと、どの動物の場所に着きますか。その動物に○をつけます。

Legend: ▽ ○ □ ●

▽	●	▽	○	▽	○	□	○	○	□
○	●	○	□	●	▽	●	▽	▽	●
○	●	▽	□	□	○	○	○	□	□
□	□	○	▽	↑	□	▽	○	●	▽

Start: Elephant (top-left), Lion (top-right), Cat (bottom-left), Giraffe (bottom-right)

Legend: ○ △ ◁ ●

○	△	●	▽	△	○	●	▷	▷	▷
▽	○	△	○	▷	●	△	△	○	●
○	●	▷	▷	●	○	▽	▽	○	△
●	▷	●	△	▷	△	△	○	△	○
▽	○	●	▽	●	▽	○	▽	▷	△
▷	▷	▷	△	○	●	○	●	●	○

Start: Elephant (top-left), Lion (top-right), Cat (bottom-left), Giraffe (bottom-right)

※1. このプリントは、しながわ・目黒こどもスクールのウェブサイトからダウンロードできます。無断複製・引用はご遠慮ください。
※2. このプリントを活用したオンライン授業のスケジュールは、しながわ・目黒こどもスクールのウェブサイトでご確認ください。

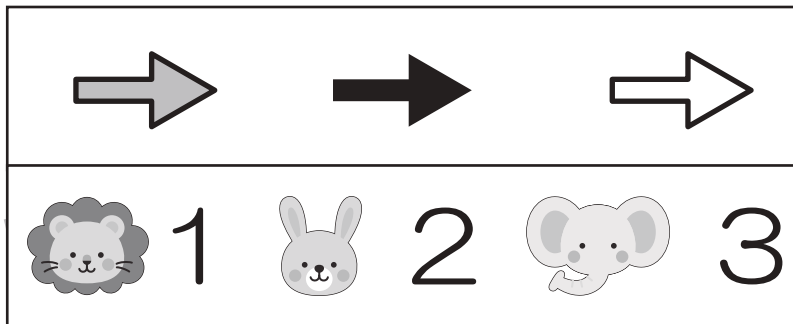


おうちで、やろう。

Study at home. 小学校受験の家庭学習教材

推理：条件推理 27

上の四角が約束です。上の段の矢印はマスをずらす順番で左からみていきます。ずらすマスの数は、下の段の動物の横にある数字の数です。この約束で矢印のある場所を全てずらしたとき、太い四角の中に残っている黒丸の数はいくつでしょう。その数だけ下の四角に○をかきます。



		<table border="1"><tr><td></td><td></td><td></td></tr><tr><td>●</td><td>●</td><td>●</td></tr><tr><td></td><td>●</td><td></td></tr></table>				●	●	●		●			
●	●	●											
	●												

○ × 3

<table border="1"><tr><td>●</td><td></td><td></td></tr><tr><td></td><td>●</td><td></td></tr><tr><td></td><td>●</td><td>●</td></tr></table>	●				●			●	●		
●											
	●										
	●	●									
		<table border="1"><tr><td></td><td></td><td></td></tr><tr><td></td><td>●</td><td></td></tr><tr><td></td><td>●</td><td>●</td></tr></table>					●			●	●
	●										
	●	●									

○ × 2

		<table border="1"><tr><td></td><td>●</td><td></td><td></td></tr><tr><td>●</td><td>●</td><td></td><td></td></tr><tr><td>●</td><td></td><td>●</td><td></td></tr><tr><td></td><td></td><td></td><td>●</td></tr></table>		●			●	●			●		●					●		
	●																			
●	●																			
●		●																		
			●																	

○ × 4

		<table border="1"><tr><td></td><td></td><td></td><td></td></tr><tr><td></td><td></td><td></td><td></td></tr><tr><td>●</td><td></td><td>●</td><td>●</td></tr><tr><td>●</td><td></td><td>●</td><td></td></tr><tr><td>●</td><td></td><td></td><td></td></tr></table>									●		●	●	●		●		●			
●		●	●																			
●		●																				
●																						
		<table border="1"><tr><td></td><td></td><td></td><td></td></tr><tr><td>●</td><td></td><td>●</td><td>●</td></tr><tr><td>●</td><td></td><td>●</td><td></td></tr><tr><td>●</td><td></td><td></td><td></td></tr></table>					●		●	●	●		●		●							
●		●	●																			
●		●																				
●																						

○ × 4

※1. このプリントは、しながわ・目黒こどもスクールのウェブサイトでダウンロードができます。無断複写・引用はご遠慮ください。
※2. このプリントを活用したオンライン授業のスケジュールは、しながわ・目黒こどもスクールのウェブサイトでご確認ください。

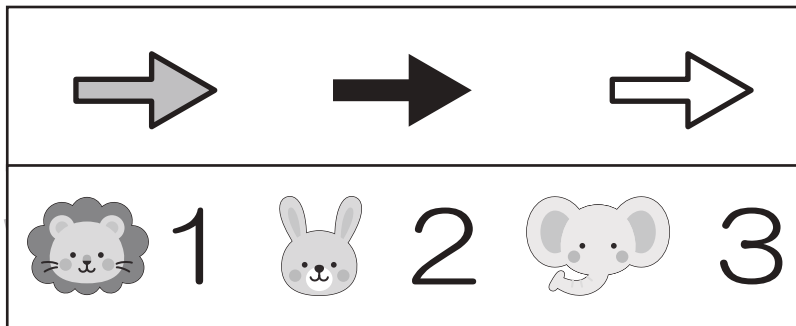


おうちで、やろう。

Study at home. 小学校受験の家庭学習教材

推理：条件推理 28

上の四角が約束です。上の段の矢印はマスをずらす順番で左からみていきます。ずらすマスの数は、下の段の動物の横にある数字の数です。この約束で矢印のある場所を全てずらしたとき、太い四角の中に残っている黒丸の数はいくつでしょう。その数だけ下の四角に○をかきます。



○×4

○×5

○×4

○×5

※1. このプリントは、しながわ・目黒こどもスクールのウェブサイトでダウンロードができます。無断複写・引用はご遠慮ください。
 ※2. このプリントを活用したオンライン授業のスケジュールは、しながわ・目黒こどもスクールのウェブサイトでご確認ください。




おうちで、やろう。

Study at home. 小学校受験の家庭学習教材

推理：条件推理 29

上の四角が約束です。上の段の矢印はマスをずらす順番で左からみていきます。ずらすマスの数は、下の段の動物の横にある数字の数です。この約束で矢印のある場所を全てずらしたとき、太い四角の中に残っている黒丸の数はいくつでしょう。その数だけ下の四角に○をかきます。



	↓				
	→	●	●		●
			●		
		●	●	●	
					←

○×4

		●	●	●	
				●	
	→	●			
					←
		●			
					↑

○×2

		●		●	●
		●	●	●	
		●		●	
	→	●		●	
				●	
					↑

○×6

		●	●		
		●		●	●
		●	●		●
		●	●		●
					↑

○×7

※1. このプリントは、しながわ・目黒こどもスクールのウェブサイトでダウンロードができます。無断複写・引用はご遠慮ください。
 ※2. このプリントを活用したオンライン授業のスケジュールは、しながわ・目黒こどもスクールのウェブサイトでご確認ください。