



おうちで、やろう。 年中児版

Study at home. 小学校受験の家庭学習教材

推理：なぞなぞ 19

①～④のなぞなぞをといて、答えに○をつけましょう。

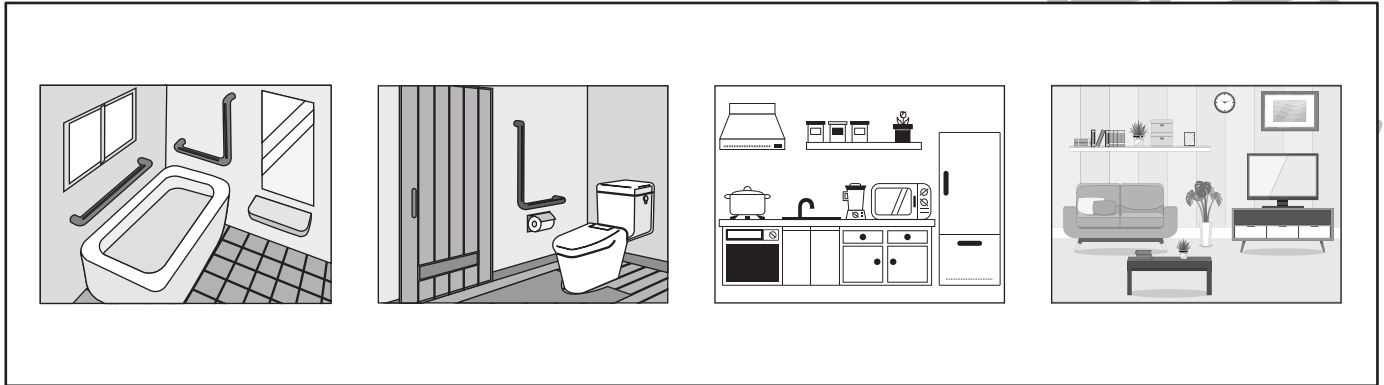
①いえの なかで かならず くつしたを ぬいで はいるばしょは どこでしょう。

②むしを 銃(じゅう)で うつと でてくる ばんは なにばん でしょう。


③かおに えを かいたら どんなかおに なるでしょう。

④とりが さんわ いました。 なにいろ でしょう。そのいろで まるを ぬります。


①




②



③



④



※1. このプリントは、しながわ・目黒こどもスクールのウェブサイトでダウンロードができます。無断複写・引用はご遠慮ください。

※2. このプリントを活用したオンライン授業のスケジュールは、しながわ・目黒こどもスクールのウェブサイトでご確認ください。






おうちで、やろう。年中児版

Study at home. 小学校受験の家庭学習教材

常識：季節6

春の絵に○、秋の絵に□をつけます。



※1. このプリントは、しながわ・目黒こどもスクールのウェブサイトからダウンロードできます。無断複写・引用はご遠慮ください。

※2. このプリントを活用したオンライン授業のスケジュールは、しながわ・目黒こどもスクールのウェブサイトでご確認ください。








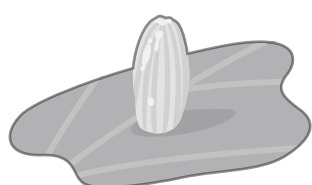

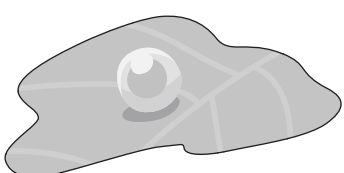


おうちで、やろう。 年中児版

Study at home. 小学校受験の家庭学習教材

常識：生物 2

左側は大人の姿で、右側は卵のときの姿です。正しい組み合わせになるように点と点を線で結びます。

※1. このプリントは、しながわ・目黒こどもスクールのウェブサイトでダウンロードができます。無断複写・引用はご遠慮ください。

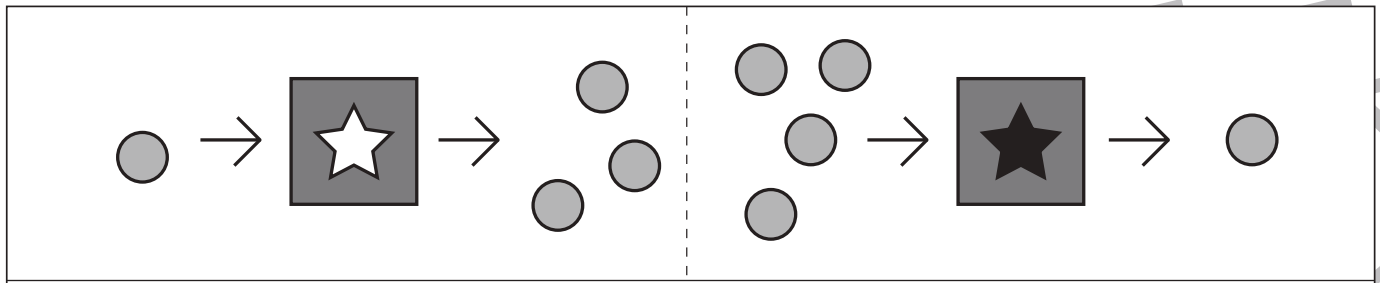
※2. このプリントを活用したオンライン授業のスケジュールは、しながわ・目黒こどもスクールのウェブサイトでご確認ください。



おうちで、やろう。 年中児版 推理：ブラックボックス6

Study at home. 小学校受験の家庭学習教材

一番上の四角の中が約束です。☆の箱に入ると2つ増え、★の箱に入ると3つ減ります。この約束で下の問題を考えます。お菓子が矢印の順番に箱の中を通ったとき、?の場所のお菓子はいくつになりますか。その数だけ右の四角の中に○をかきます。



※1. このプリントは、しながわ・目黒こどもスクールのウェブサイトでダウンロードができます。無断複写・引用はご遠慮ください。
 ※2. このプリントを活用したオンライン授業のスケジュールは、しながわ・目黒こどもスクールのウェブサイトでご確認ください。



おうちで、やろう。 年中児版 推理：まちがいさがし 20

Study at home. 小学校受験の家庭学習教材

上の絵と下の絵を見比べて、変わっているところを5つみつけます。見つけたら、下の絵の変わっている場所に○をつけます。



※1. このプリントは、しながわ・目黒こどもスクールのウェブサイトダウンロードができます。無断複写・引用はご遠慮ください。

※2. このプリントを活用したオンライン授業のスケジュールは、しながわ・目黒こどもスクールのウェブサイトでご確認ください。



おうちで、やろう。 年中児版

Study at home. 小学校受験の家庭学習教材

推理：重さ6

はかりを使ってケーキの重さを比べました。一番重いものに○一番軽いものに×を右の四角の中のケーキにそれぞれつけましょう。

※1. このプリントは、しながわ・目黒こどもスクールのウェブサイトでダウンロードができます。無断複写・引用はご遠慮ください。

※2. このプリントを活用したオンライン授業のスケジュールは、しながわ・目黒こどもスクールのウェブサイトでご確認ください。


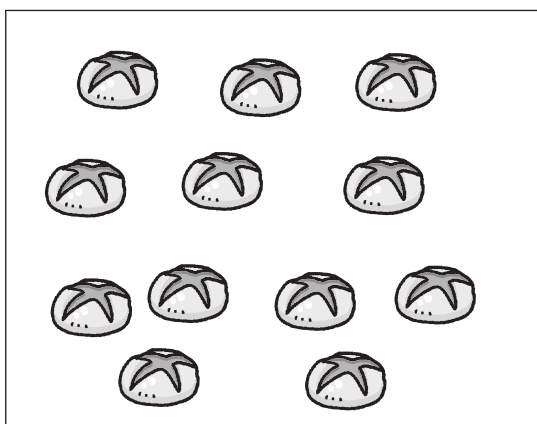




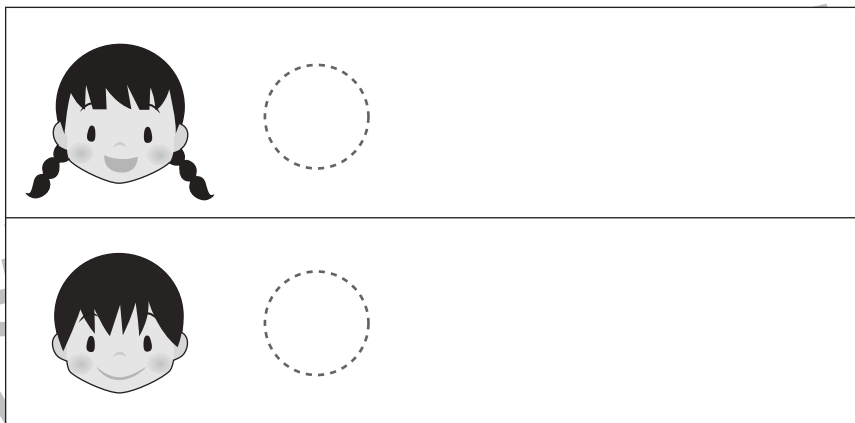



おうちで、やろう。年中児版

Study at home. 小学校受験の家庭学習教材

数量：分割 8

左の四角の中のパンを二人で分けたら、それぞれいくつずつになりますか。その数だけお友だちの横に○をかきます。



※1. このプリントは、しながわ・目黒こどもスクールのウェブサイトでダウンロードができます。無断複写・引用はご遠慮ください。
※2. このプリントを活用したオンライン授業のスケジュールは、しながわ・目黒こどもスクールのウェブサイトでご確認ください。




おうちで、やろう。年中児版

Study at home. 小学校受験の家庭学習教材

絵画：条件画 19

お月見の絵をかきます。紙の向きは横でつかいましょう。お月見はどんなことをするのか、誰としたいのかを考えてかきます。



※1. このプリントは、しながわ・目黒こどもスクールのウェブサイトでダウンロードができます。無断複写・引用はご遠慮ください。
※2. このプリントを活用したオンライン授業のスケジュールは、しながわ・目黒こどもスクールのウェブサイトでご確認ください。