








おうちで、やろう。 年中児版

Study at home. 小学校受験の家庭学習教材

言語：言葉 1

同じ言葉ですが、動きが違うものどうしを線でつなぎます。



※1. このプリントは、しながわ・目黒こどもスクールのウェブサイトでダウンロードができます。無断複写・引用はご遠慮ください。
※2. このプリントを活用したオンライン授業のスケジュールは、しながわ・目黒こどもスクールのウェブサイトでご確認ください。





おうちで、やろう。 年中児版

Study at home. 小学校受験の家庭学習教材

常識：季節7

夏の絵に○、冬の絵に□をつけます。



※1. このプリントは、しながわ・目黒こどもスクールのウェブサイトからダウンロードできます。無断複写・引用はご遠慮ください。

※2. このプリントを活用したオンライン授業のスケジュールは、しながわ・目黒こどもスクールのウェブサイトでご確認ください。

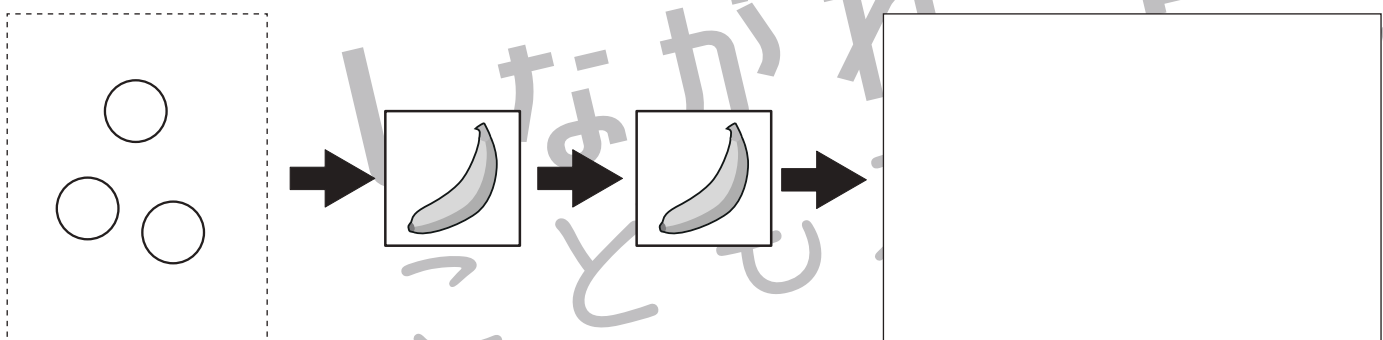
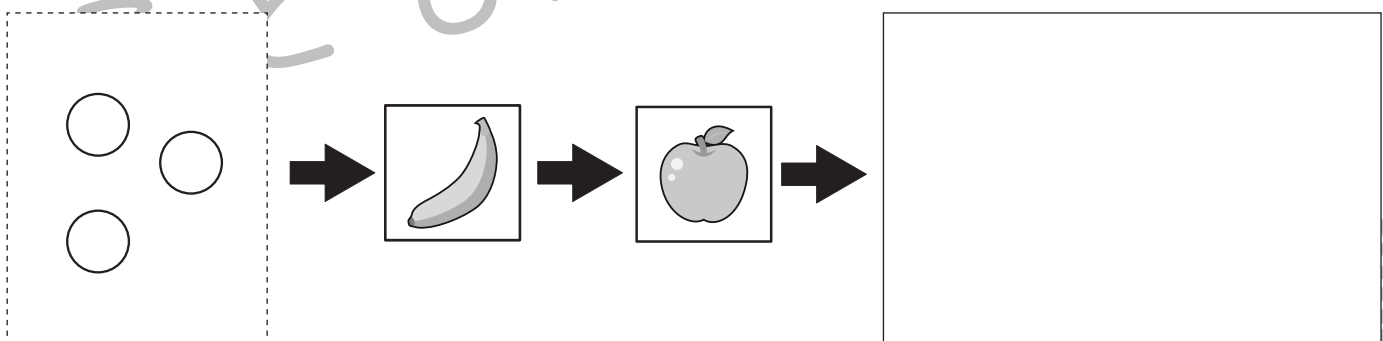
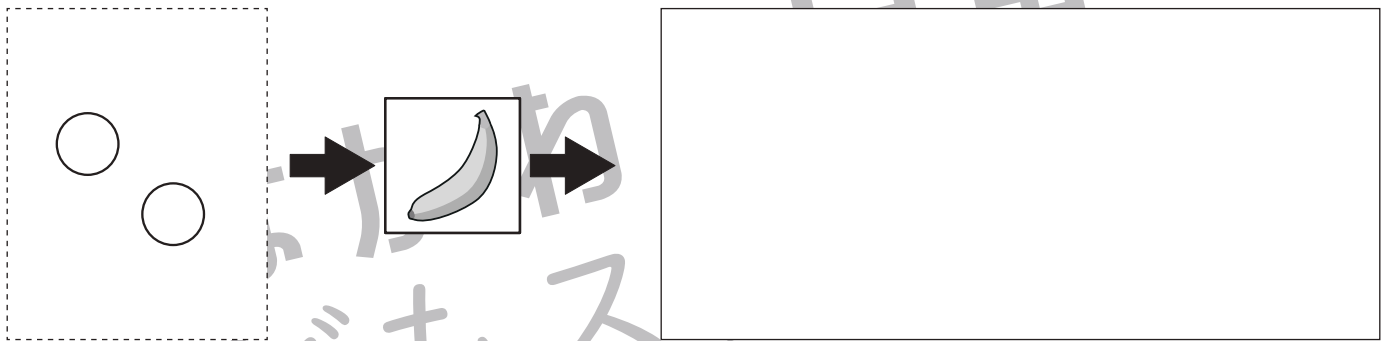

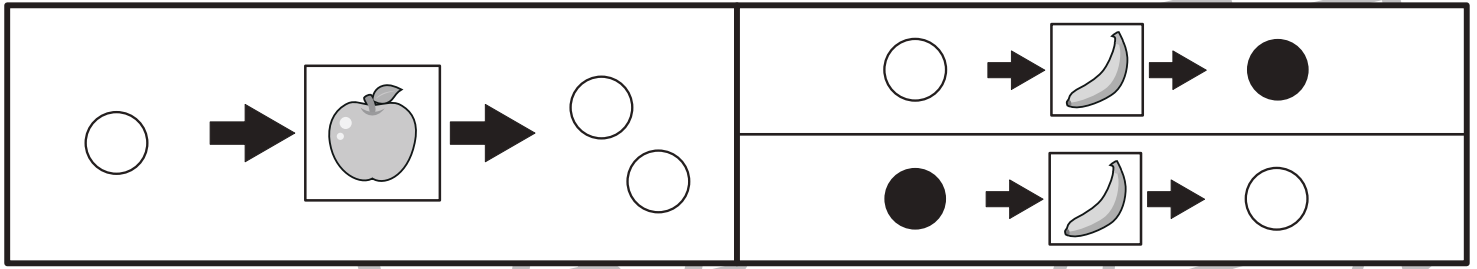


おうちで、やろう。 年中児版

Study at home. 小学校受験の家庭学習教材

推理：ブラックボックス7

一番上の四角の中が約束です。りんごの箱に入ると○が1つ増え、バナナの箱に入ると○が●に、●が○に変わります。丸が矢印の順番に箱の中を通ったとき、最後の丸はどうなりますか。答えを一番右の四角にかきます。



※1. このプリントは、しながわ・目黒こどもスクールのウェブサイトでダウンロードができます。無断複写・引用はご遠慮ください。

※2. このプリントを活用したオンライン授業のスケジュールは、しながわ・目黒こどもスクールのウェブサイトでご確認ください。







おうちで、やろう。 年中児版


Study at home. 小学校受験の家庭学習教材



推理：ブラックボックス8



一番上の四角の中が約束です。りんごの箱に入ると○が2つ増え、バナナの箱に入ると○が●に、●が○に変わります。丸が矢印の順番に箱の中を通ったとき、最後の丸はどうなりますか。答えを一番右の四角にかきます。

○ →  → ○ ○	○ →  → ●
	● →  → ○

○ ○	→  →	
-----	---	--

○ ○ ○	→  →	
-------	---	--

○ ○ ○ ○	→  →  →	
---------	---	--

○ ○ ○ ○ ○	→  →  →	
-----------	---	--

※1. このプリントは、しながわ・目黒こどもスクールのウェブサイトでダウンロードができます。無断複写・引用はご遠慮ください。

※2. このプリントを活用したオンライン授業のスケジュールは、しながわ・目黒こどもスクールのウェブサイトでご確認ください。



おうちで、やろう。 年中児版

Study at home. 小学校受験の家庭学習教材

推理：重さ7

はかりを使って果物の重さを比べました。二番目に軽い果物をさがして、下の四角の中の、答えの果物に○をつけましょう。

※1. このプリントは、しながわ・目黒こどもスクールのウェブサイトでダウンロードができます。無断複写・引用はご遠慮ください。

※2. このプリントを活用したオンライン授業のスケジュールは、しながわ・目黒こどもスクールのウェブサイトでご確認ください。



おうちで、やろう。 年中児版

Study at home. 小学校受験の家庭学習教材

推理：重さ 8

はかりを使って果物の重さを比べました。一番重い果物をさがして、下の四角の中の、答えの果物に○をつけましょう。

※1. このプリントは、しながわ・目黒こどもスクールのウェブサイトでダウンロードができます。無断複写・引用はご遠慮ください。

※2. このプリントを活用したオンライン授業のスケジュールは、しながわ・目黒こどもスクールのウェブサイトでご確認ください。


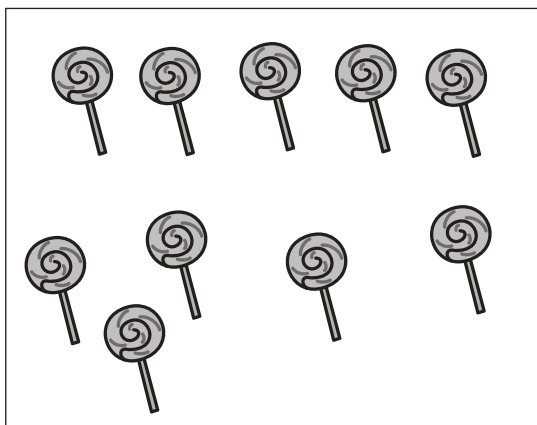



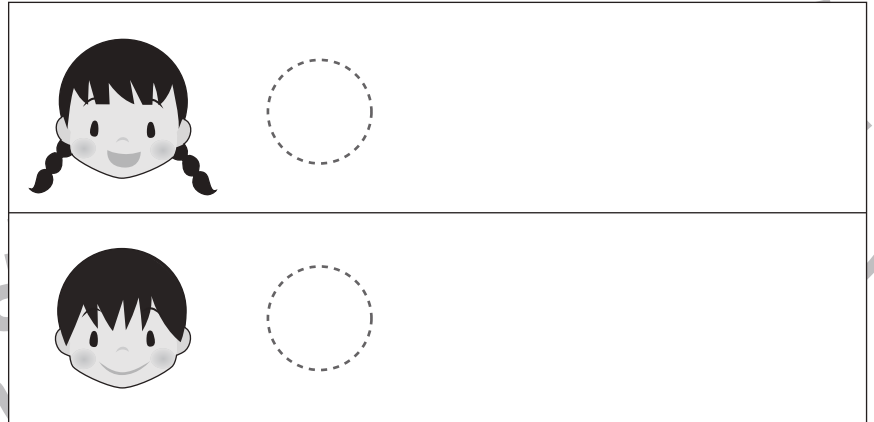
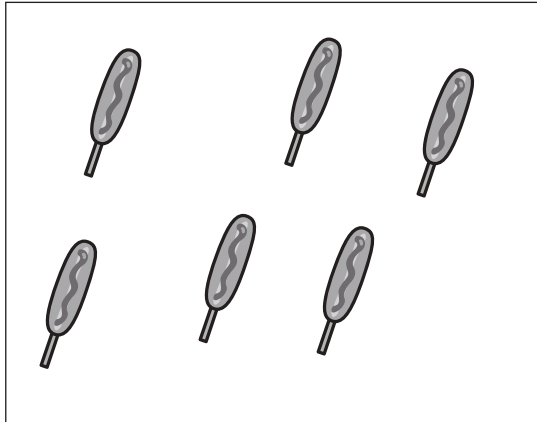


おうちで、やろう。 年中児版

Study at home. 小学校受験の家庭学習教材

数量：分割 9

左の四角の中の食べ物を同じ数になるように二人で分けたら、それぞれいくつずつになりますか。その数だけお友だちの横に○をかきます。



※1. このプリントは、しながわ・目黒こどもスクールのウェブサイトでダウンロードができます。無断複写・引用はご遠慮ください。
※2. このプリントを活用したオンライン授業のスケジュールは、しながわ・目黒こどもスクールのウェブサイトでご確認ください。


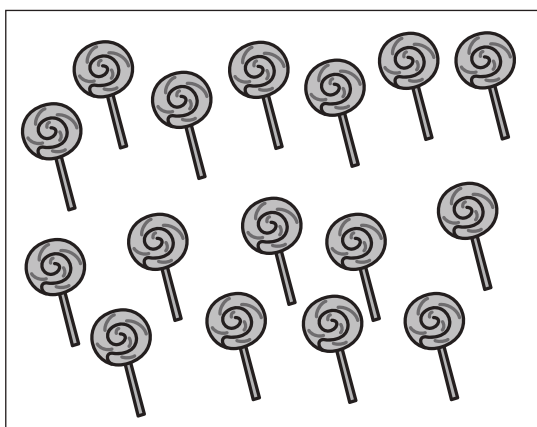




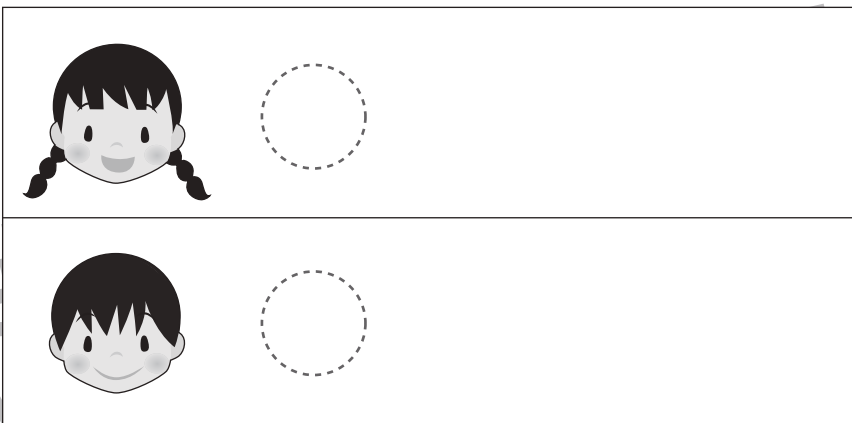
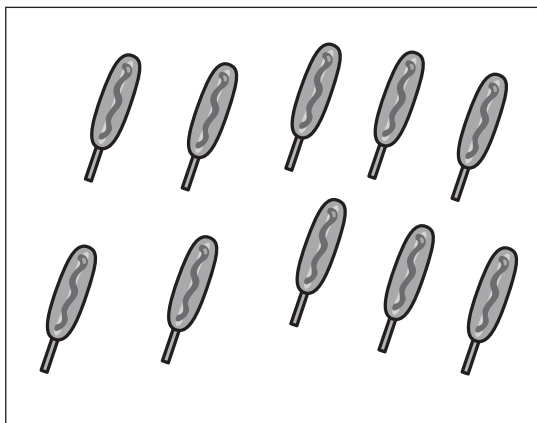


おうちで、やろう。 年中児版

Study at home. 小学校受験の家庭学習教材

数量：分割 10

左の四角の中の食べ物を同じ数になるように二人で分けたら、それぞれいくつずつになりますか。その数だけお友だちの横に○をかきます。



※1. このプリントは、しながわ・目黒こどもスクールのウェブサイトからダウンロードできます。無断複写・引用はご遠慮ください。
※2. このプリントを活用したオンライン授業のスケジュールは、しながわ・目黒こどもスクールのウェブサイトでご確認ください。