








おうちで、やろう。 年中児版

Study at home. 小学校受験の家庭学習教材

言語：言葉 1

同じ言葉ですが、動きが違うものどうしを線でつなぎます。



※1. このプリントは、しながわ・目黒こどもスクールのウェブサイトでダウンロードができます。無断複写・引用はご遠慮ください。
 ※2. このプリントを活用したオンライン授業のスケジュールは、しながわ・目黒こどもスクールのウェブサイトでご確認ください。




おうちで、やろう。 年中児版

Study at home. 小学校受験の家庭学習教材

常識：季節7

夏の絵に○、冬の絵に□をつけます。



※1. このプリントは、しながわ・目黒こどもスクールのウェブサイトでダウンロードができます。無断複写・引用はご遠慮ください。
 ※2. このプリントを活用したオンライン授業のスケジュールは、しながわ・目黒こどもスクールのウェブサイトでご確認ください。

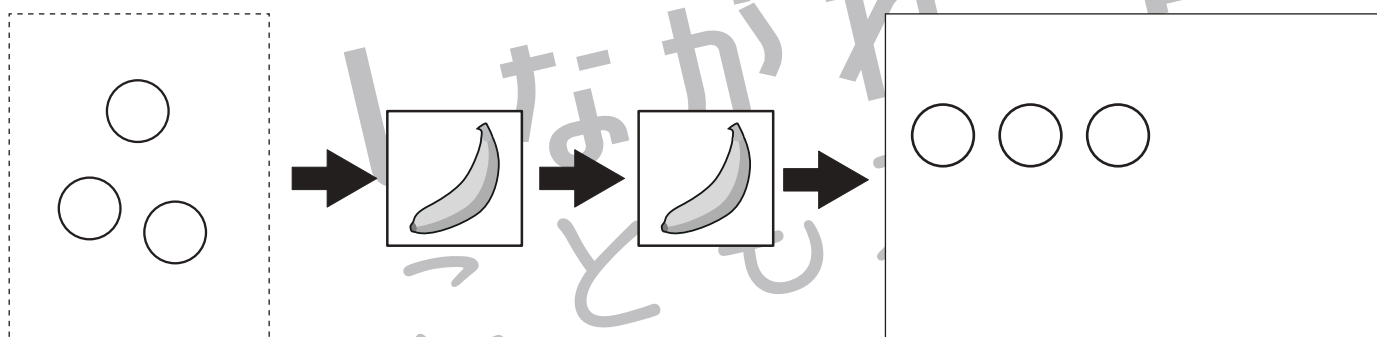
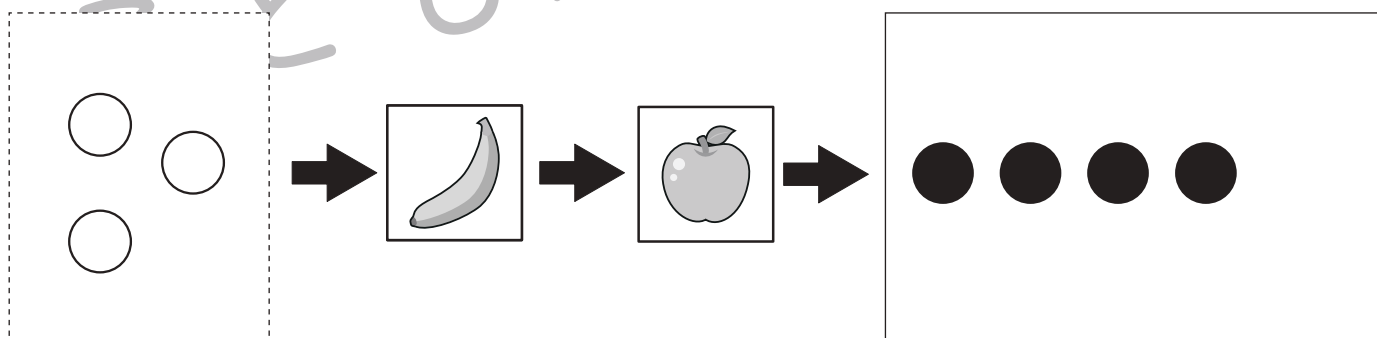
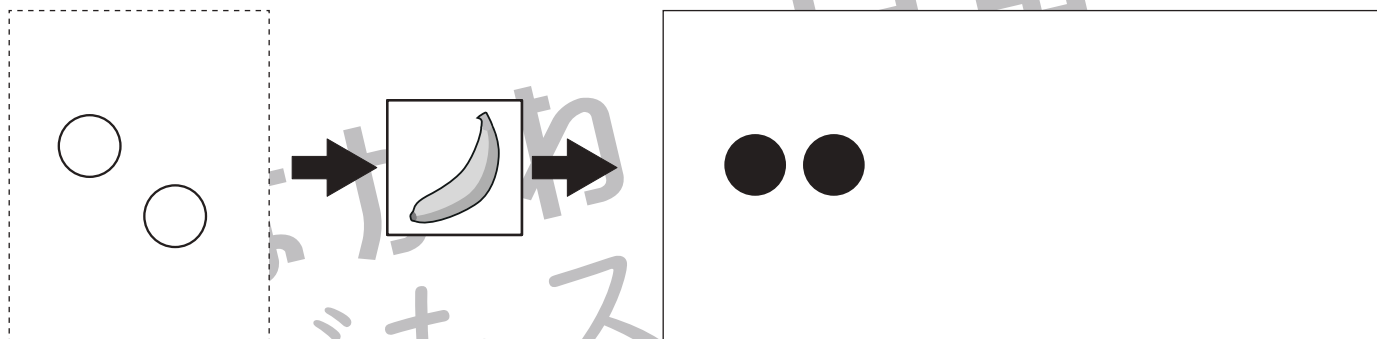
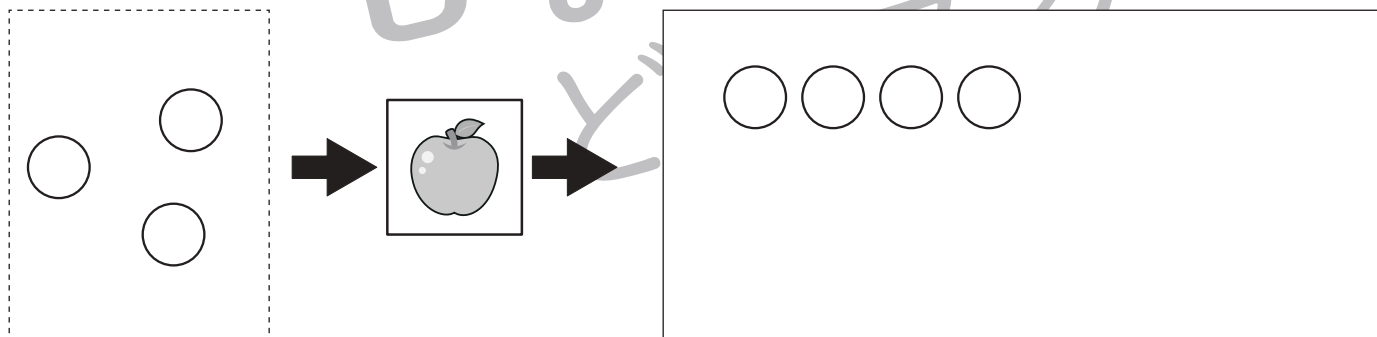
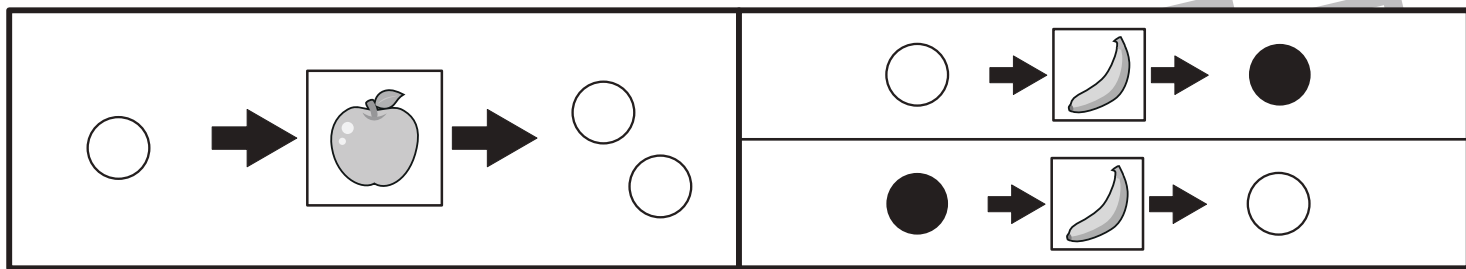


おうちで、やろう。 年中児版

Study at home. 小学校受験の家庭学習教材

推理：ブラックボックス7

一番上の四角の中が約束です。りんごの箱に入ると○が1つ増え、バナナの箱に入ると○が●に、●が○に変わります。丸が矢印の順番に箱の中を通ったとき、最後の丸はどうなりますか。答えを一番右の四角にかきます。



※1. このプリントは、しながわ・目黒こどもスクールのウェブサイトでダウンロードができます。無断複写・引用はご遠慮ください。
 ※2. このプリントを活用したオンライン授業のスケジュールは、しながわ・目黒こどもスクールのウェブサイトでご確認ください。


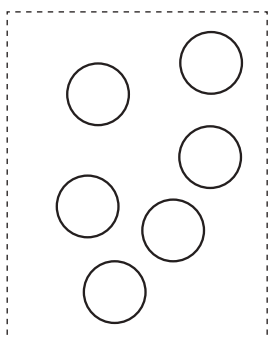

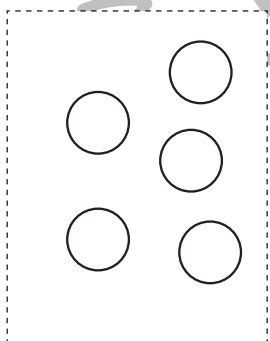

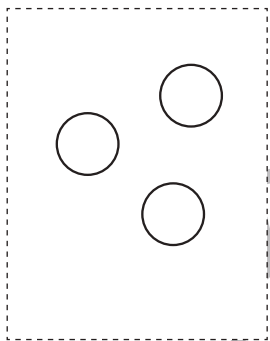

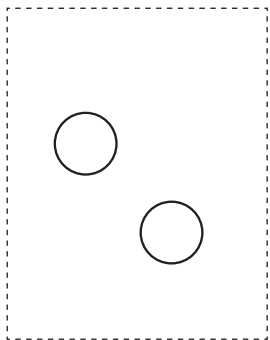
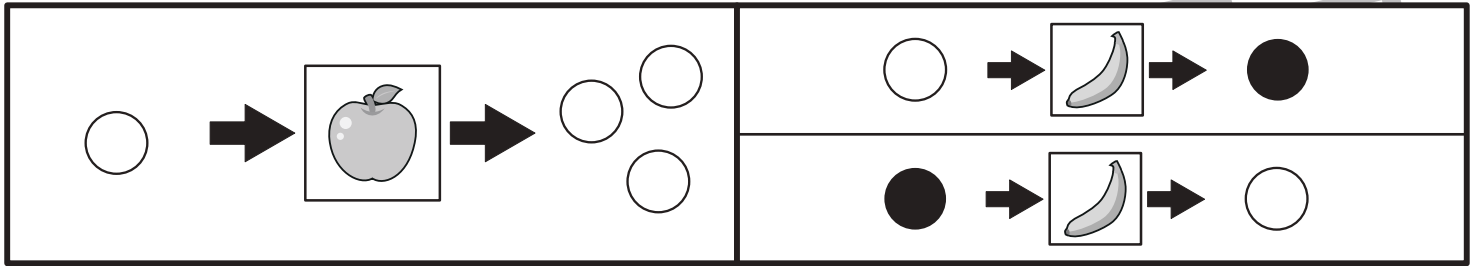


おうちで、やろう。 年中児版

Study at home. 小学校受験の家庭学習教材

推理：ブラックボックス8

一番上の四角の中が約束です。りんごの箱に入ると○が2つ増え、バナナの箱に入ると○が●に、●が○に変わります。丸が矢印の順番に箱の中を通ったとき、最後の丸はどうなりますか。答えを一番右の四角にかきます。



※1. このプリントは、しながわ・目黒こどもスクールのウェブサイトからダウンロードできます。無断複写・引用はご遠慮ください。
 ※2. このプリントを活用したオンライン授業のスケジュールは、しながわ・目黒こどもスクールのウェブサイトでご確認ください。



おうちで、やろう。 年中児版

Study at home. 小学校受験の家庭学習教材

推理：重さ7

はかりを使って果物の重さを比べました。二番目に軽い果物をさがして、下の四角の中の、答えの果物に○をつけましょう。

| | | |
|--|--|--|
| | | |
| | | |
| | | |
| | | |
| | | |
| | | |
| | | |
| | | |

※1. このプリントは、しながわ・目黒こどもスクールのウェブサイトでダウンロードができます。無断複写・引用はご遠慮ください。

※2. このプリントを活用したオンライン授業のスケジュールは、しながわ・目黒こどもスクールのウェブサイトでご確認ください。



おうちで、やろう。 年中児版

Study at home. 小学校受験の家庭学習教材

推理：重さ 8

はかりを使って果物の重さを比べました。一番重い果物をさがして、下の四角の中の、答えの果物に○をつけましょう。

| | | |
|--|--|--|
| | | |
| | | |
| | | |
| | | |
| | | |
| | | |
| | | |
| | | |

※1. このプリントは、しながわ・目黒こどもスクールのウェブサイトでダウンロードができます。無断複写・引用はご遠慮ください。

※2. このプリントを活用したオンライン授業のスケジュールは、しながわ・目黒こどもスクールのウェブサイトでご確認ください。


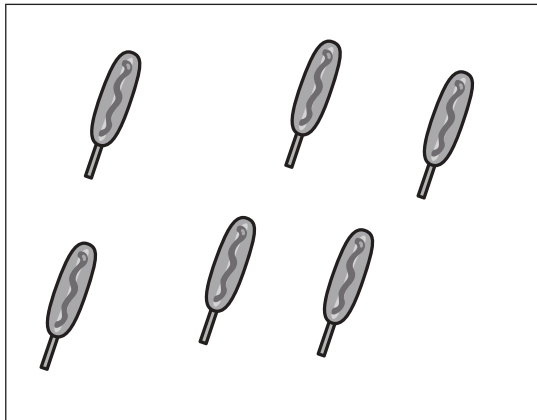


おうちで、やろう。 年中児版

Study at home. 小学校受験の家庭学習教材

数量：分割 9



左の四角の中の食べ物を同じ数になるように二人で分けたら、それぞれいくつずつになりますか。その数だけお友だちの横に○をかきます。



$$\bigcirc \times 3$$





$$\bigcirc \times 3$$



$$\bigcirc \times 4$$




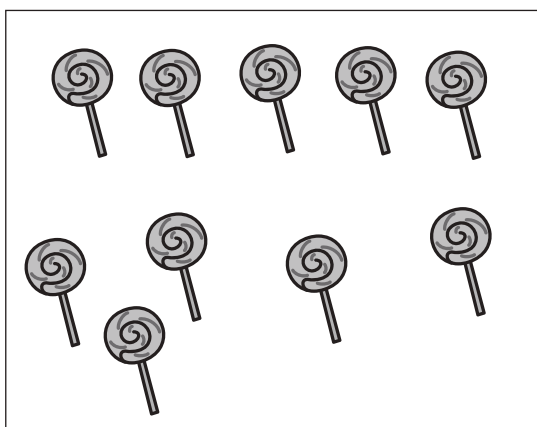
$$\bigcirc \times 4$$



$$\bigcirc \times 3$$



$$\bigcirc \times 3$$



$$\bigcirc \times 5$$



$$\bigcirc \times 5$$

※1. このプリントは、しながわ・目黒こどもスクールのウェブサイトでダウンロードができます。無断複写・引用はご遠慮ください。

※2. このプリントを活用したオンライン授業のスケジュールは、しながわ・目黒こどもスクールのウェブサイトでご確認ください。


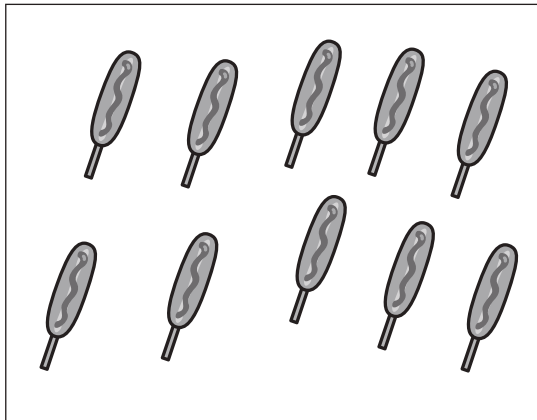


おうちで、やろう。 年中児版

Study at home. 小学校受験の家庭学習教材

数量：分割 10



左の四角の中の食べ物を同じ数になるように二人で分けたら、それぞれいくつずつになりますか。その数だけお友だちの横に○をかきます。



$$\bigcirc \times 5$$





$$\bigcirc \times 5$$



$$\bigcirc \times 6$$




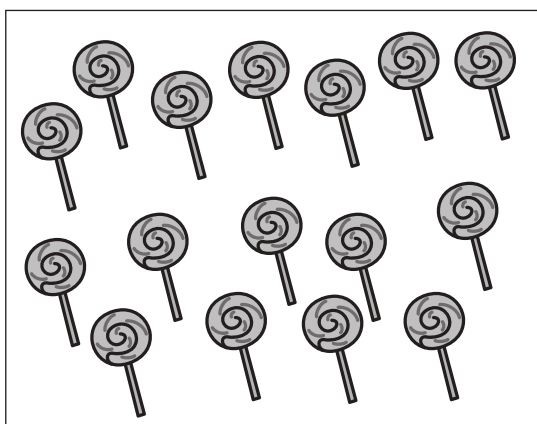
$$\bigcirc \times 6$$



$$\bigcirc \times 7$$



$$\bigcirc \times 7$$



$$\bigcirc \times 8$$



$$\bigcirc \times 8$$

※1. このプリントは、しながわ・目黒こどもスクールのウェブサイトでダウンロードができます。無断複写・引用はご遠慮ください。
※2. このプリントを活用したオンライン授業のスケジュールは、しながわ・目黒こどもスクールのウェブサイトでご確認ください。