






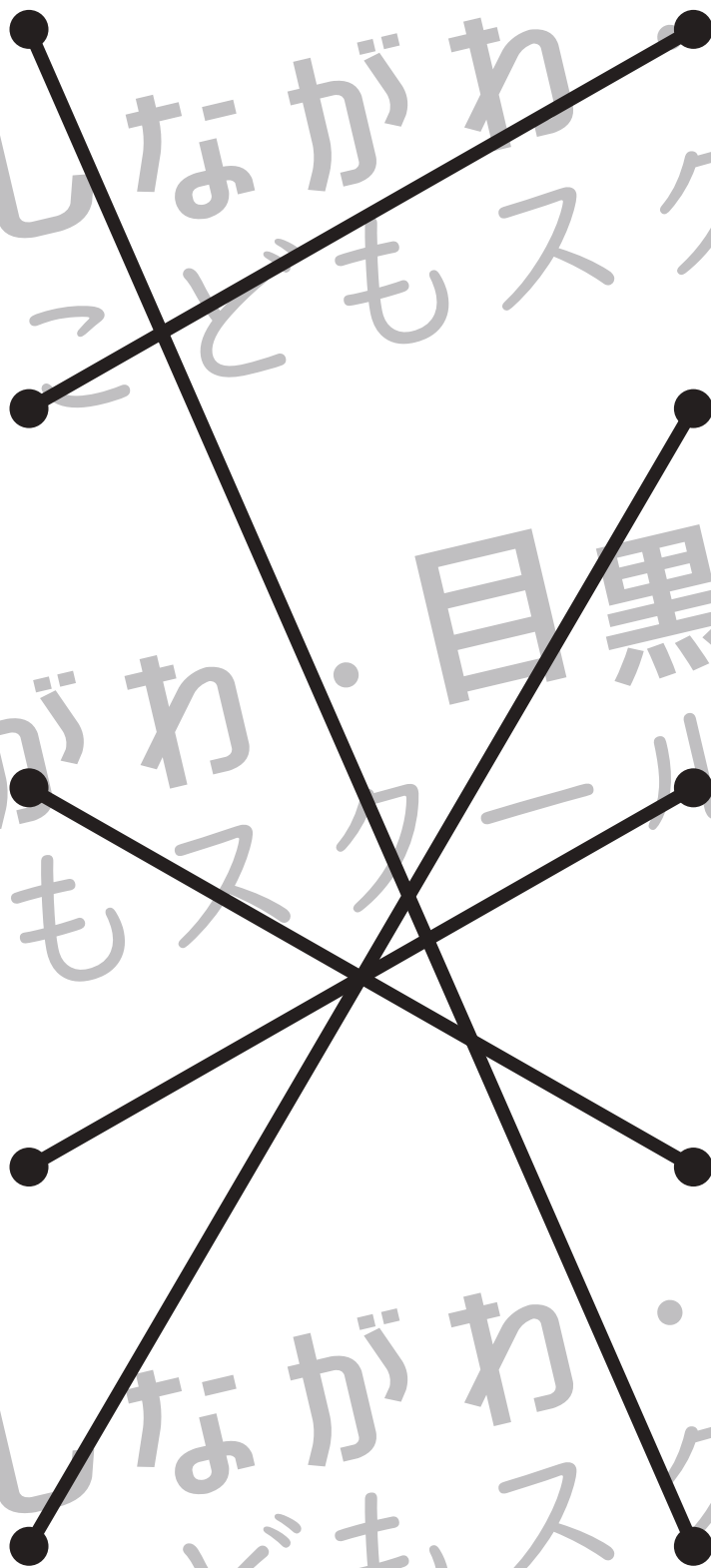


おうちで、やろう。 年中児版

Study at home. 小学校受験の家庭学習教材

言語：音の数 9

右のサイコロの目と同じ音の数の絵を線で結びます。



※1. このプリントは、しながわ・目黒こどもスクールのウェブサイトでダウンロードができます。無断複写・引用はご遠慮ください。
 ※2. このプリントを活用したオンライン授業のスケジュールは、しながわ・目黒こどもスクールのウェブサイトでご確認ください。



おうちで、やろう。 年中児版

Study at home. 小学校受験の家庭学習教材

図形：回転4

左の四角を矢印の向きに一回倒したときの見え方を考えて右の四角にかきます。

※1. このプリントは、しながわ・目黒こどもスクールのウェブサイトでダウンロードができます。無断複写・引用はご遠慮ください。
 ※2. このプリントを活用したオンライン授業のスケジュールは、しながわ・目黒こどもスクールのウェブサイトでご確認ください。



おうちで、やろう。 年中児版

Study at home. 小学校受験の家庭学習教材

図形：回転5

左の四角を矢印の向きに一回倒したときの見え方を考えて右の四角にかきます。

The diagram shows a sequence of 12 2x2 grids arranged in 4 rows and 3 columns. Each grid contains a white circle and a black circle. The circles are positioned in the four quadrants of the grid. Curved arrows point from the left grid to the right grid in each row, indicating a 90-degree clockwise rotation of the entire 2x2 grid.

- Row 1: Grid 1 (White circle top-right, Black circle bottom-right) → Grid 2 (Black circle bottom-left, White circle bottom-right) → Grid 3 (Black circle top-left, White circle bottom-right) → Grid 4 (White circle bottom-left, Black circle top-right)
- Row 2: Grid 1 (White circle top-left, Black circle bottom-right) → Grid 2 (Black circle bottom-left, White circle top-right) → Grid 3 (Black circle top-right, White circle bottom-right) → Grid 4 (White circle bottom-left, Black circle top-right)
- Row 3: Grid 1 (White circle top-left, Black circle bottom-left) → Grid 2 (Black circle top-left, White circle top-right) → Grid 3 (Black circle top-left, White circle top-right) → Grid 4 (Black circle top-right, White circle bottom-right)
- Row 4: Grid 1 (White circle bottom-left, Black circle bottom-right) → Grid 2 (White circle top-left, Black circle bottom-left) → Grid 3 (Black circle bottom-left, White circle top-right) → Grid 4 (Black circle top-left, White circle bottom-right)

※1. このプリントは、しながわ・目黒こどもスクールのウェブサイトでダウンロードができます。無断複写・引用はご遠慮ください。
 ※2. このプリントを活用したオンライン授業のスケジュールは、しながわ・目黒こどもスクールのウェブサイトでご確認ください。








おうちで、やろう。年中児版

Study at home. 小学校受験の家庭学習教材

推理：影3





左の四角の中は動物が影になって重なっています。影になっていない動物を右の四角の中から見つけて○をつけます。



※1. このプリントは、しながわ・目黒こどもスクールのウェブサイトでダウンロードができます。無断複写・引用はご遠慮ください。
 ※2. このプリントを活用したオンライン授業のスケジュールは、しながわ・目黒こどもスクールのウェブサイトでご確認ください。



左の四角の中は動物が影になって重なっています。影になっていない動物を右の四角の中から見つけて○をつけます。



※1. このプリントは、しながわ・目黒こどもスクールのウェブサイトでダウンロードができます。無断複写・引用はご遠慮ください。
 ※2. このプリントを活用したオンライン授業のスケジュールは、しながわ・目黒こどもスクールのウェブサイトでご確認ください。




おうちで、やろう。 年中児版

Study at home. 小学校受験の家庭学習教材


推理：順位付け4

- ①四角の中の乗り物でタイヤの数が一番多いものに○をつけます。
- ②四角の中の動物で、足の数が一番少ないものに○をつけます。
- ③四角の中の行事で1月から12月まで順番に並べたとき、一番最後に来る日の絵を探して○をつけます。

①



②



③



※1. このプリントは、しながわ・目黒こどもスクールのウェブサイトからダウンロードできます。無断複写・引用はご遠慮ください。
※2. このプリントを活用したオンライン授業のスケジュールは、しながわ・目黒こどもスクールのウェブサイトでご確認ください。




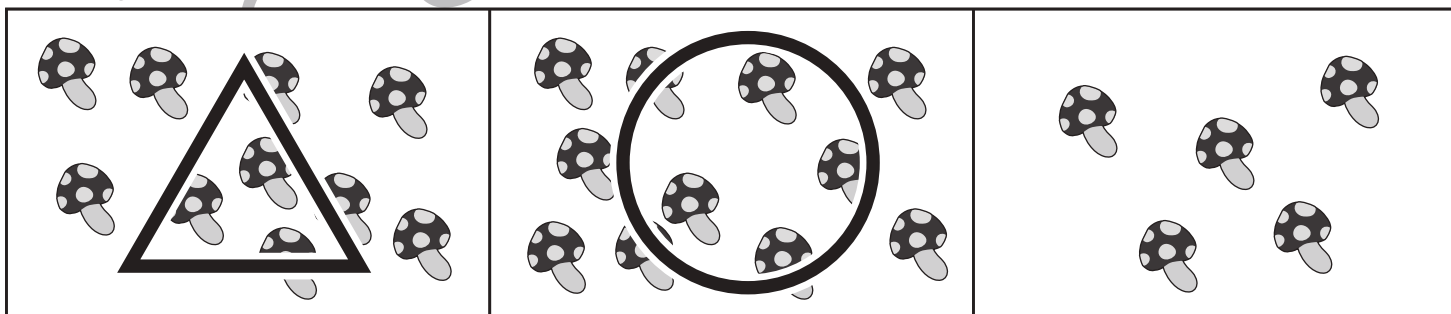





おうちで、やろう。 年中児版

Study at home. 小学校受験の家庭学習教材

数量：多少 4

横に並んだ三つの四角の中で、中にかいてある絵が一番目に多いものに○、二番目に少ないものに△をつけます。



※1. このプリントは、しながわ・目黒こどもスクールのウェブサイトでダウンロードができます。無断複写・引用はご遠慮ください。
 ※2. このプリントを活用したオンライン授業のスケジュールは、しながわ・目黒こどもスクールのウェブサイトでご確認ください。