



おうちで、やろう。 年中児版

Study at home. 小学校受験の家庭学習教材

推理：なぞなぞ22

①～④のなぞなぞをといて、答えの四角に絵をかきましょう。

①あたまに のせる うしは なんでしょう。

②がちょうに くっついている むしは なんでしょう。

③はけるけど ぬげないものは なんでしょう。

④はが くさく なりそうな やさいは なんでしょう。

①



ぼうし

②



ちょう

③



ほうき

④



はくさい

※1. このプリントは、しながわ・目黒こどもスクールのウェブサイトでダウンロードができます。無断複写・引用はご遠慮ください。

※2. このプリントを活用したオンライン授業のスケジュールは、しながわ・目黒こどもスクールのウェブサイトでご確認ください。



おうちで、やろう。 年中児版

Study at home. 小学校受験の家庭学習教材

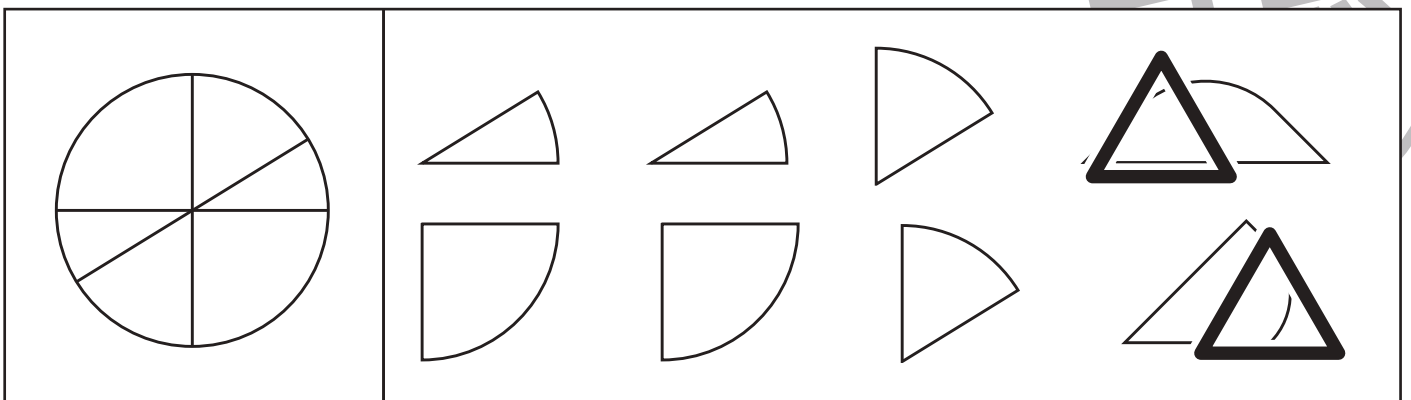
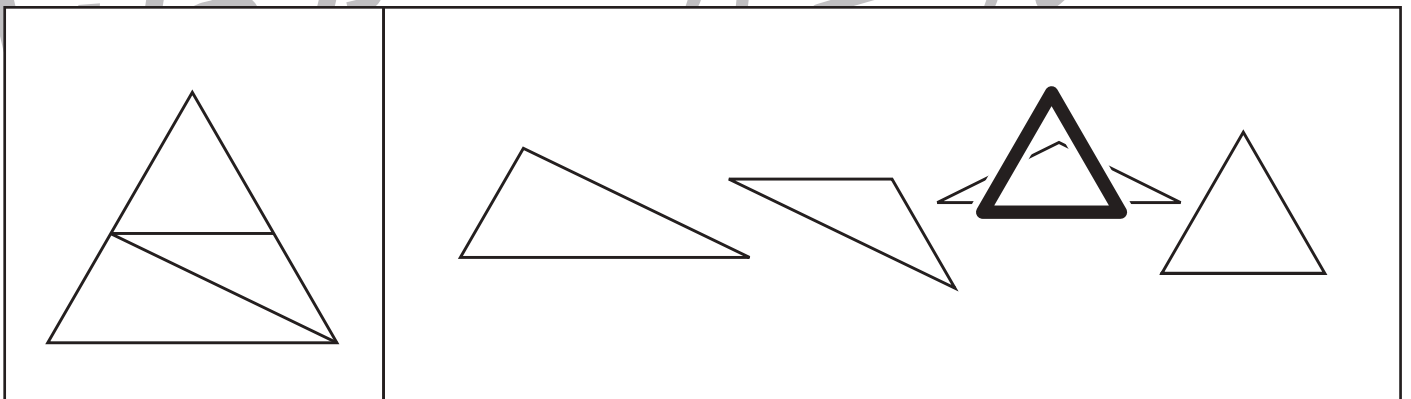

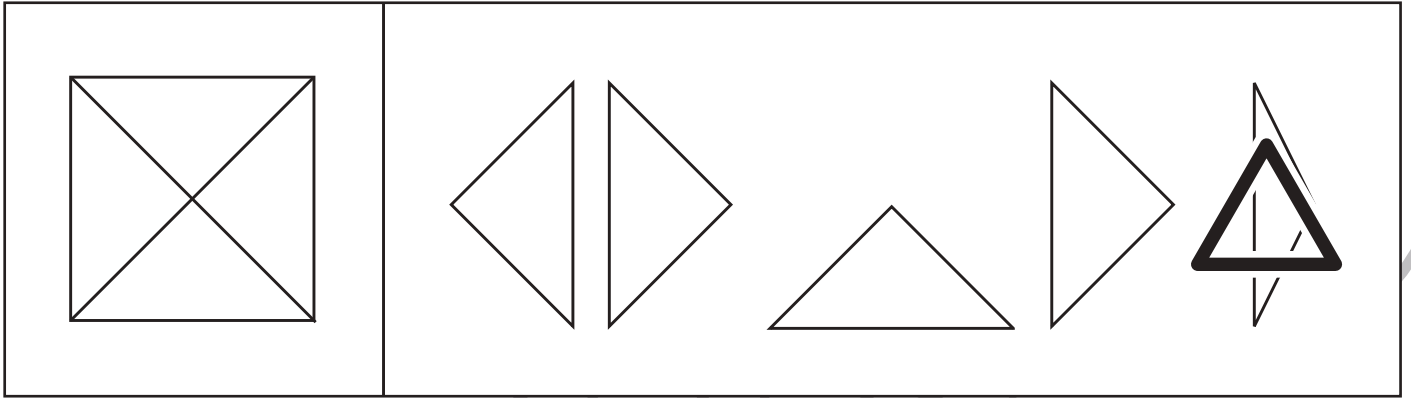
図形：回転8

4つあるマス目を順番に三角が移動します。左上の四角から初めて右に進み、1段目が終わったら2段目の左という順番で進みます。2段目以降は自分でかきます。スピードも意識していきましょう。

※1. このプリントは、しながわ・目黒こどもスクールのウェブサイトでダウンロードができます。無断複写・引用はご遠慮ください。
 ※2. このプリントを活用したオンライン授業のスケジュールは、しながわ・目黒こどもスクールのウェブサイトでご確認ください。



左のお手本の形を作るのに使わない形を右の四角の中から全て選んで△をつけます。





※1. このプリントは、しながわ・目黒こどもスクールのウェブサイトでダウンロードができます。無断複写・引用はご遠慮ください。
 ※2. このプリントを活用したオンライン授業のスケジュールは、しながわ・目黒こどもスクールのウェブサイトでご確認ください。



おうちで、やろう。年中児版 推理：まちがいさがし 23

Study at home. 小学校受験の家庭学習教材

上の絵と下の絵を見比べて、変わっているところを5つみつけます。見つけたら、下の絵の変わっている場所に○をつけます。



※1. このプリントは、しながわ・目黒こどもスクールのウェブサイトでダウンロードができます。無断複写・引用はご遠慮ください。

※2. このプリントを活用したオンライン授業のスケジュールは、しながわ・目黒こどもスクールのウェブサイトでご確認ください。



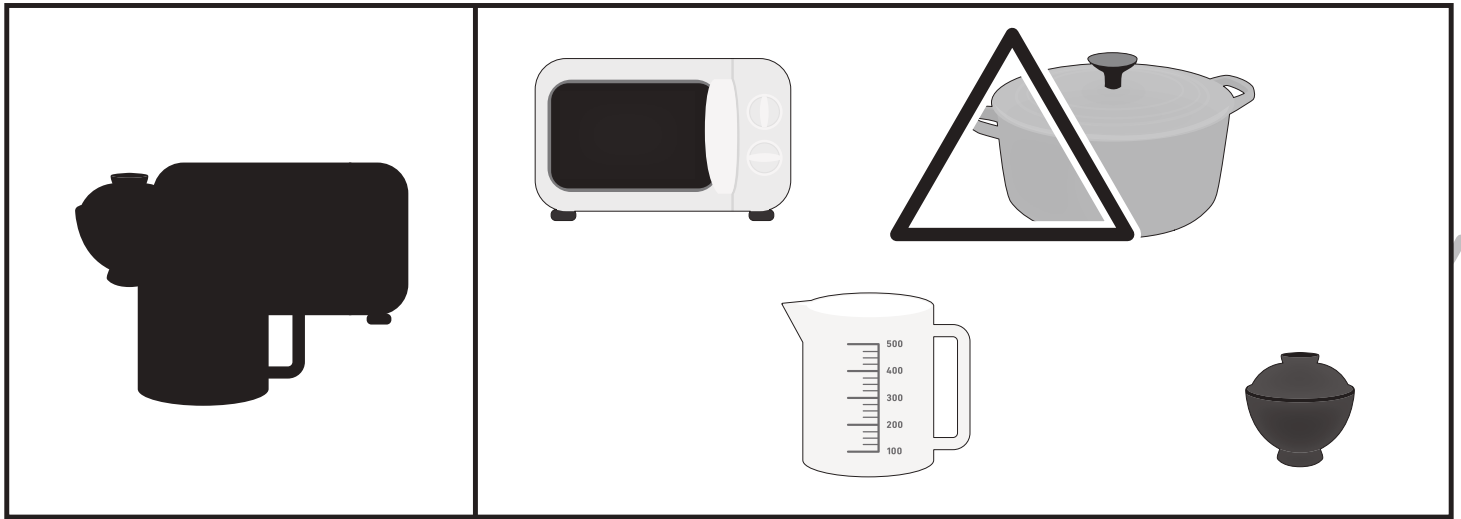


おうちで、やろう。 年中児版

Study at home. 小学校受験の家庭学習教材

推理：影5

左の四角の中は調理器具が影になって重なっています。影になっていない調理器具を右の四角の中から見つけて△をつけます。



※1. このプリントは、しながわ・目黒こどもスクールのウェブサイトからダウンロードできます。無断複写・引用はご遠慮ください。
 ※2. このプリントを活用したオンライン授業のスケジュールは、しながわ・目黒こどもスクールのウェブサイトでご確認ください。

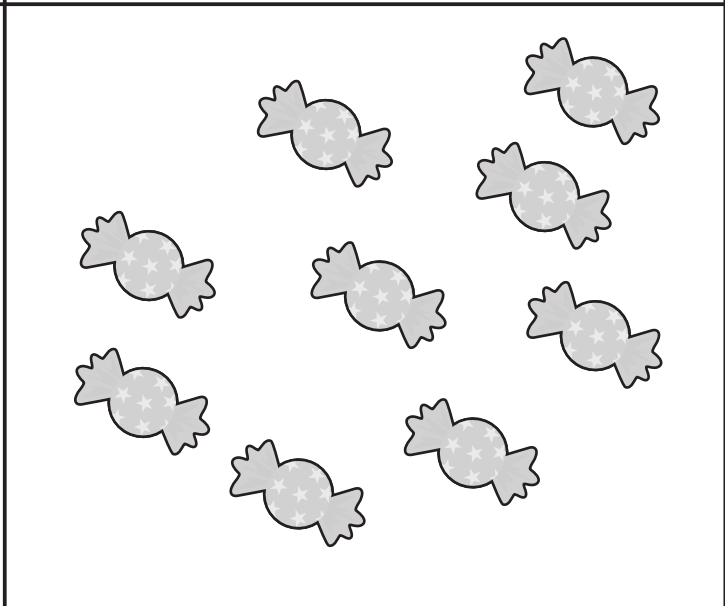
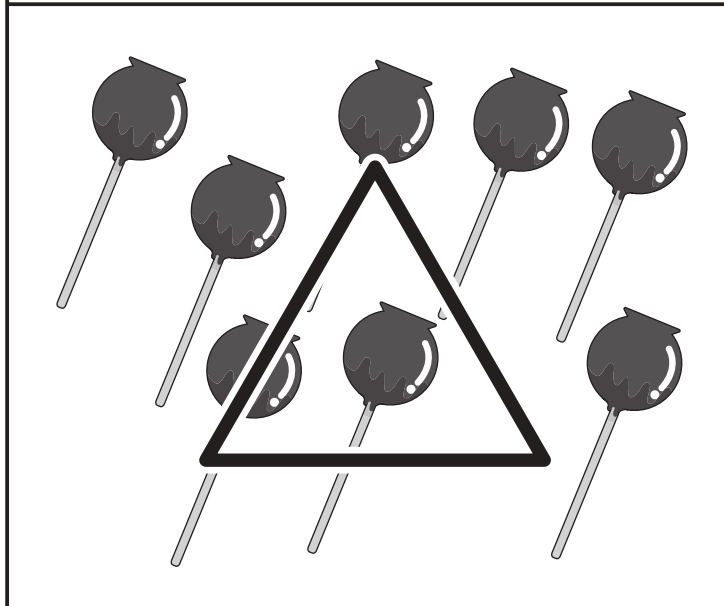
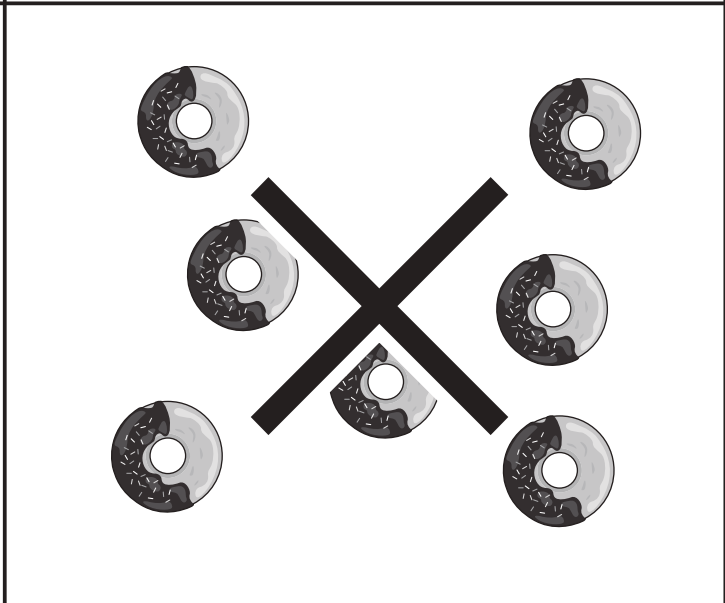
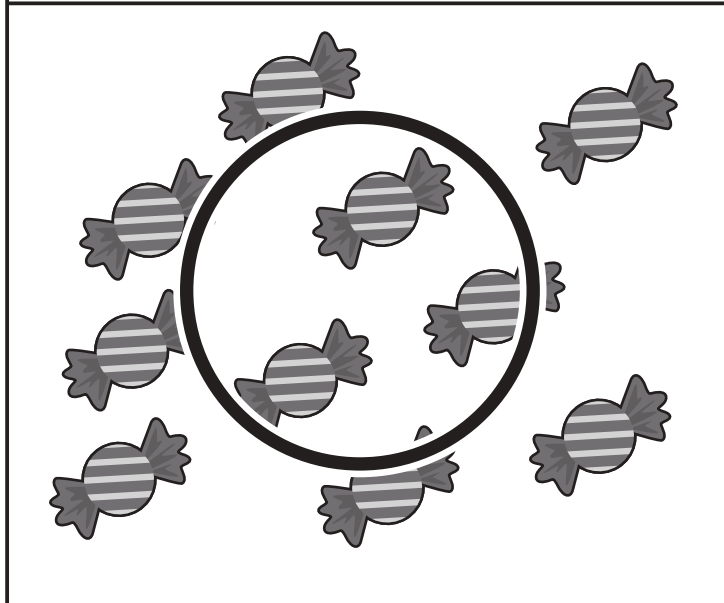
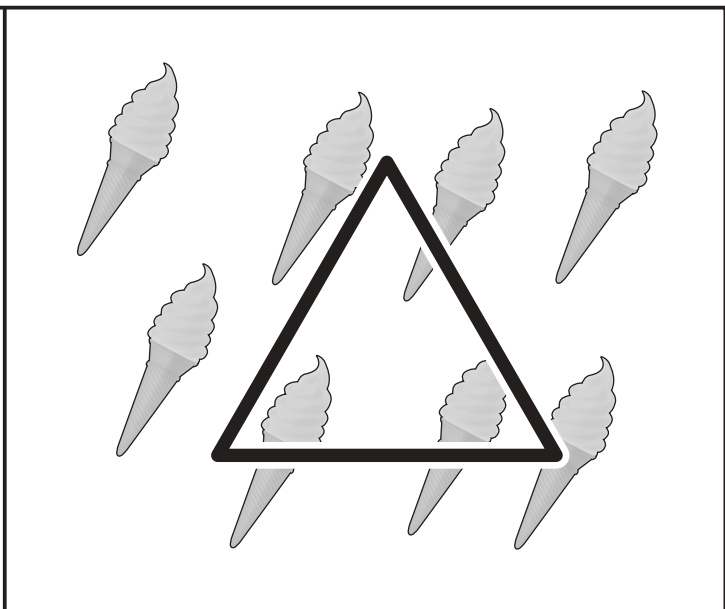
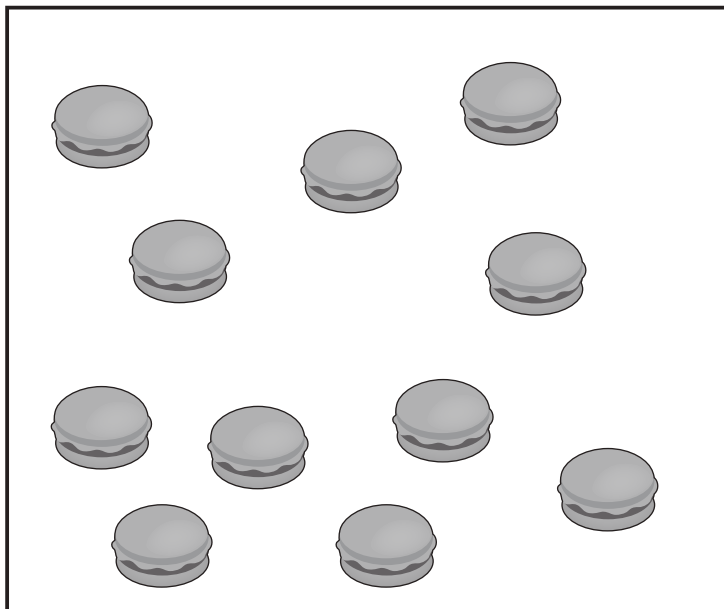


おうちで、やろう。 年中児版

Study at home. 小学校受験の家庭学習教材

数量：計数 22

下の四角の中には、いろいろなお菓子が入っています。この中で、二番目に多いものには○、一番少ないものには×、同じ数のものには△をつけます。

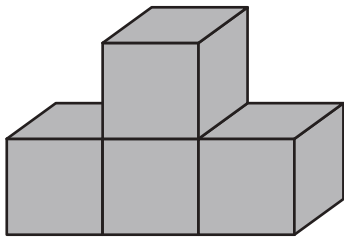


※1. このプリントは、しながわ・目黒こどもスクールのウェブサイトからダウンロードできます。無断複写・引用はご遠慮ください。
※2. このプリントを活用したオンライン授業のスケジュールは、しながわ・目黒こどもスクールのウェブサイトでご確認ください。

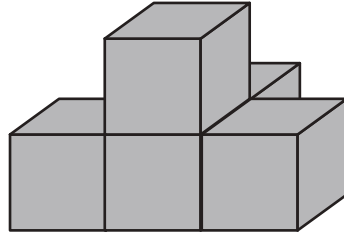




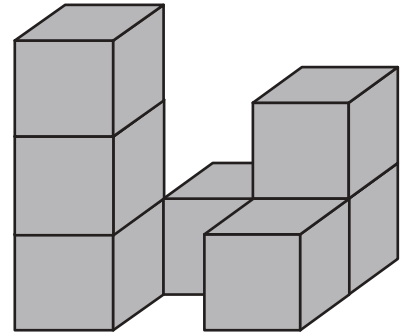
積み木の数だけ、すぐ下の四角に○をかきます。



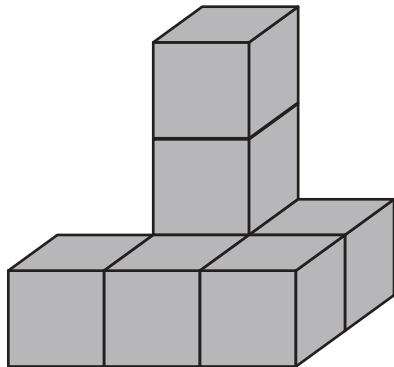
$$\bigcirc \times 4$$



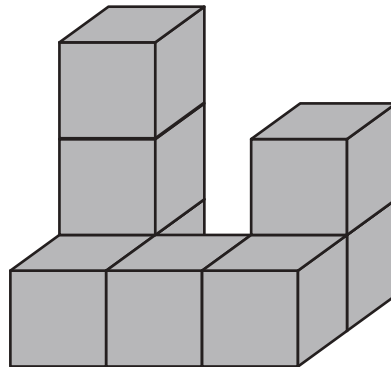
$$\bigcirc \times 5$$



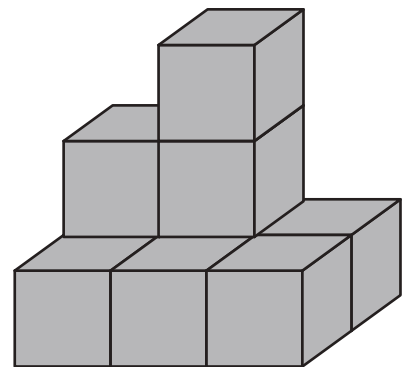
$$\bigcirc \times 7$$



$$\bigcirc \times 7$$



$$\bigcirc \times 8$$



$$\bigcirc \times 9$$