

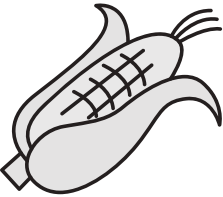



おうちで、やろう。 年中児版

Study at home. 小学校受験の家庭学習教材

言語：音の数7

下の4つの絵の中で、音の数が違うものが1つあります。その絵に、×をつけましょう。

※1. このプリントは、しながわ・目黒こどもスクールのウェブサイトからダウンロードできます。無断複写・引用はご遠慮ください。

※2. このプリントを活用したオンライン授業のスケジュールは、しながわ・目黒こどもスクールのウェブサイトでご確認ください。



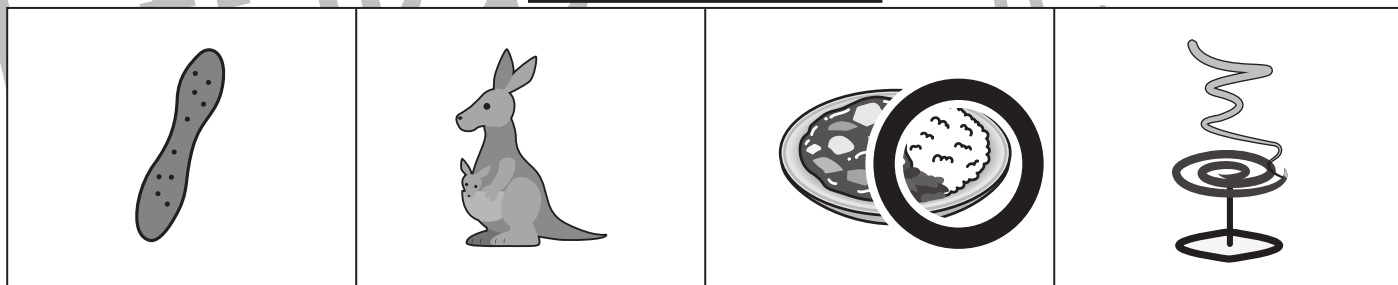





おうちで、やろう。年中児版

Study at home. 小学校受験の家庭学習教材

言語：音の数8

太い線の中の絵と同じ音の数の絵を下の四角の中から選び、○をつけましょう。



※1. このプリントは、しながわ・目黒こどもスクールのウェブサイトでダウンロードができます。無断複写・引用はご遠慮ください。
 ※2. このプリントを活用したオンライン授業のスケジュールは、しながわ・目黒こどもスクールのウェブサイトでご確認ください。



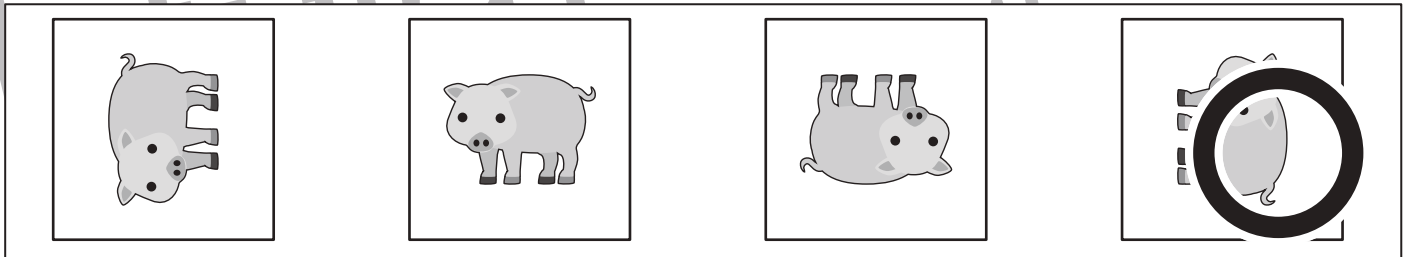

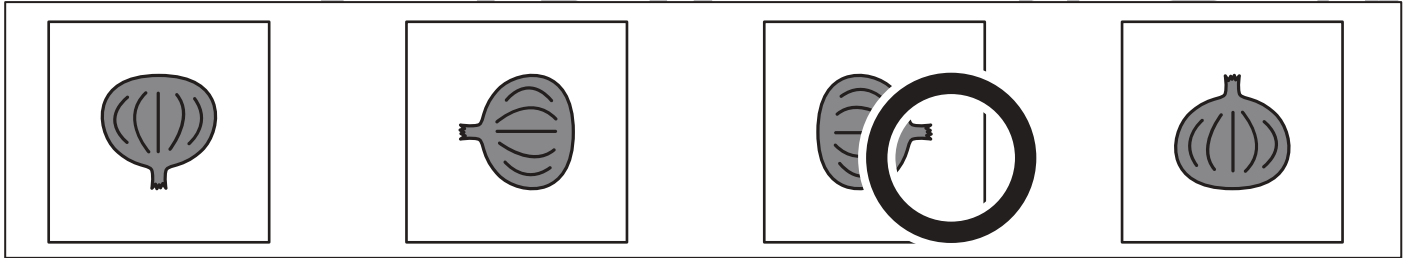



おうちで、やろう。 年中児版

Study at home. 小学校受験の家庭学習教材

図形：回転1

太い四角の中の絵を矢印の方向に1回倒すと、下の4つのどの絵になりますか。その絵に○をつけましょう。



※1. このプリントは、しながわ・目黒こどもスクールのウェブサイトからダウンロードできます。無断複写・引用はご遠慮ください。
※2. このプリントを活用したオンライン授業のスケジュールは、しながわ・目黒こどもスクールのウェブサイトでご確認ください。



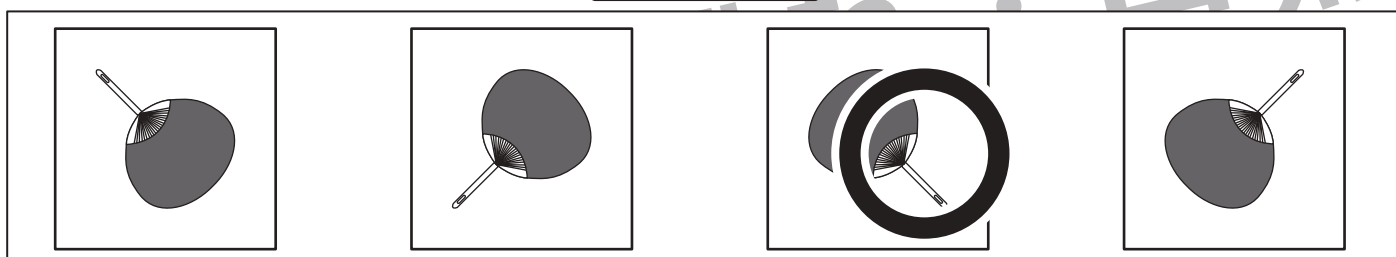

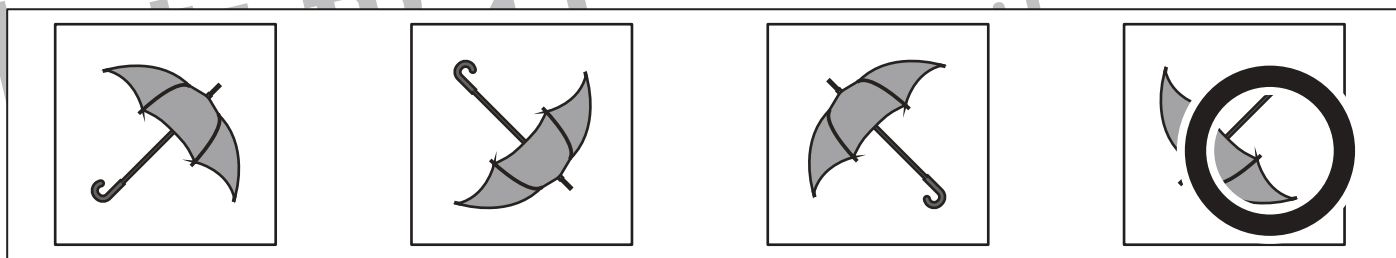

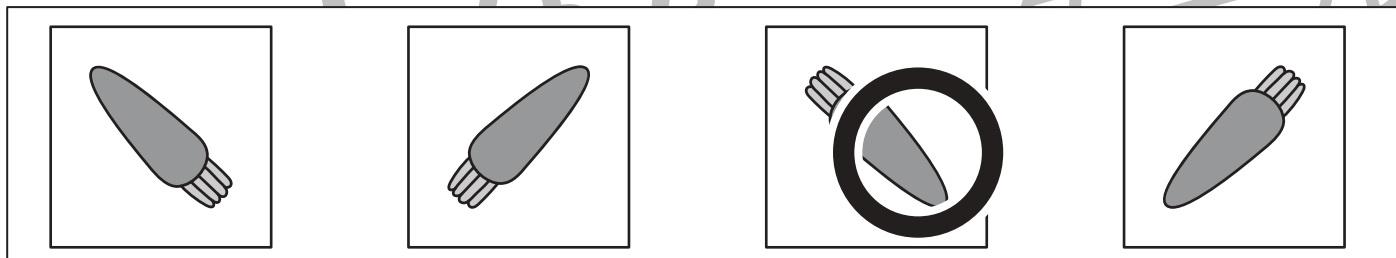



おうちで、やろう。 年中児版

Study at home. 小学校受験の家庭学習教材

図形：回転2

太い四角の中の絵を矢印の方向に1回倒すと、下の4つのどの絵になりますか。その絵に○をつけましょう。



※1. このプリントは、しながわ・目黒こどもスクールのウェブサイトからダウンロードできます。無断複写・引用はご遠慮ください。
※2. このプリントを活用したオンライン授業のスケジュールは、しながわ・目黒こどもスクールのウェブサイトでご確認ください。









おうちで、やろう。年中児版

Study at home. 小学校受験の家庭学習教材

推理：影 2

左の四角の中は動物の影になって重なっています。影になっている動物を右の四角の中から探して○をつけます。



※1. このプリントは、しながわ・目黒こどもスクールのウェブサイトでダウンロードができます。無断複写・引用はご遠慮ください。

※2. このプリントを活用したオンライン授業のスケジュールは、しながわ・目黒こどもスクールのウェブサイトでご確認ください。

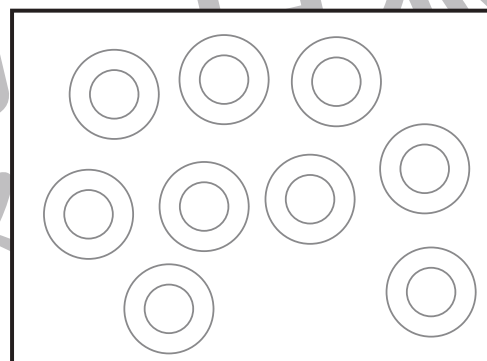
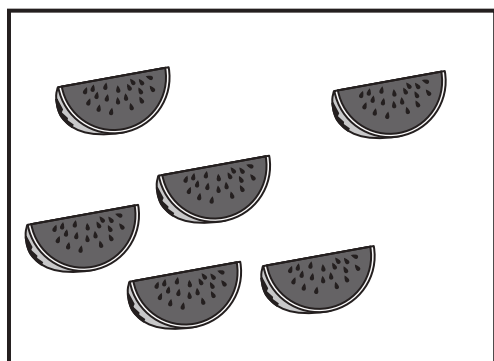
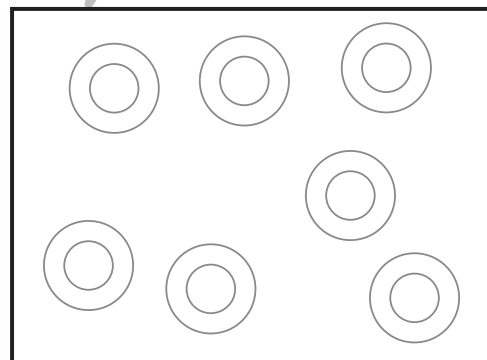

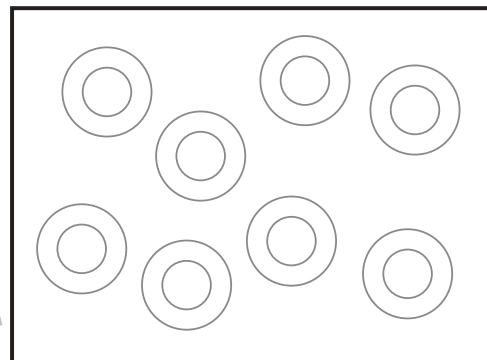

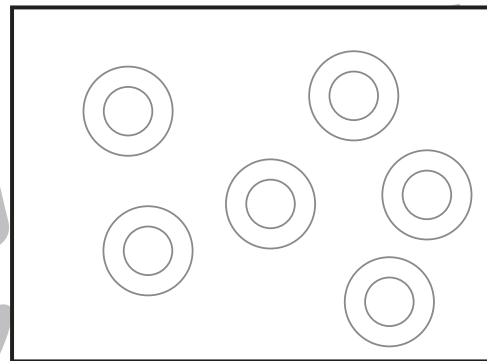
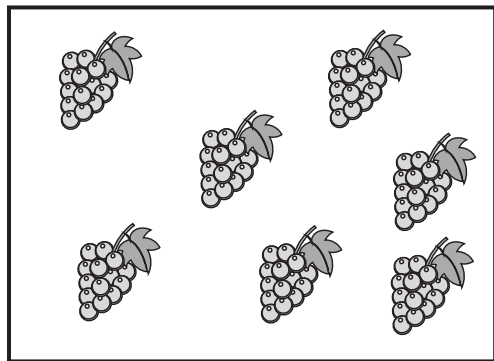


おうちで、やろう。 年中児版

Study at home. 小学校受験の家庭学習教材

数量：計数 18

左の四角の中の果物を1つのお皿に1つだけのせます。
お皿の数がいくつあればよいか考えて右の四角の中から選び線で結びます。



※1. このプリントは、しながわ・目黒こどもスクールのウェブサイトでダウンロードができます。無断複写・引用はご遠慮ください。
※2. このプリントを活用したオンライン授業のスケジュールは、しながわ・目黒こどもスクールのウェブサイトでご確認ください。



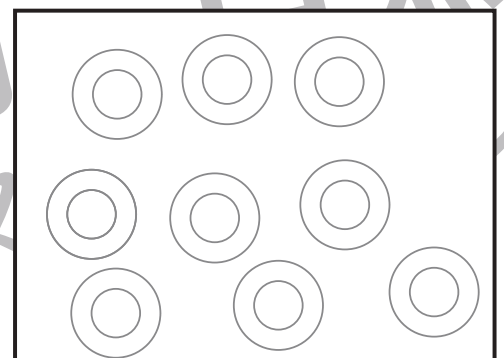

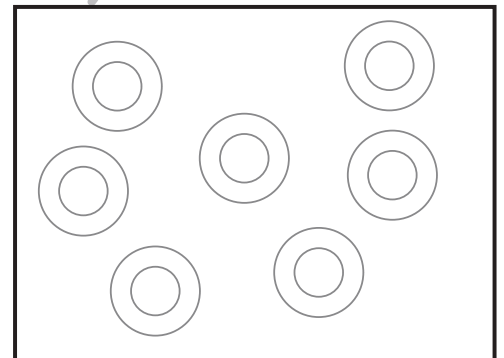

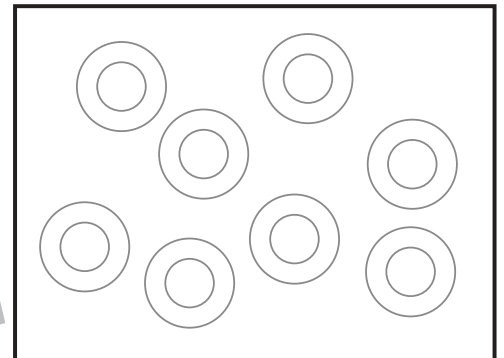

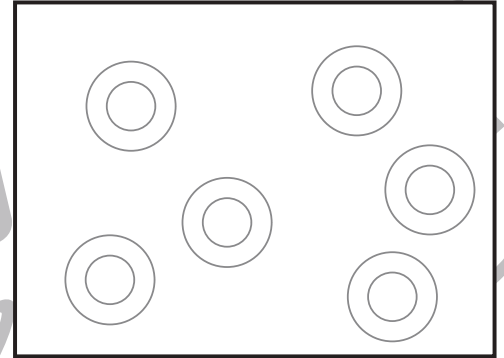



おうちで、やろう。 年中児版

Study at home. 小学校受験の家庭学習教材

数量：計数 19

左の四角の中の果物を1つのお皿に1つだけのせます。
お皿の数がいくつあればよいか考えて右の四角の中から選び線で結びます。



※1. このプリントは、しながわ・目黒こどもスクールのウェブサイトでダウンロードができます。無断複写・引用はご遠慮ください。
※2. このプリントを活用したオンライン授業のスケジュールは、しながわ・目黒こどもスクールのウェブサイトでご確認ください。



おうちで、やろう。年中児版

Study at home. 小学校受験の家庭学習教材

図形：構成 10

【このプリントはハサミを使用します】

- ①プリントを点線で切ります。
- ②切り離れた下のプリントにかいてある形を好きな色で塗ってから黒い線に沿ってはさみで切ります。
- ③上のかたちの中に、②でつくった形を隙間ができないように並べます。

