



おうちで、やろう。

Study at home. 小学校受験の家庭学習教材

指示の聞き取り 26

それぞれお話をよく聞いて問題に取り組みます。お話は一度しか読みませんのでしっかり聞きましょう。

- ①○が左へ2マス動きます。着いたマスに青のクーピーで塗ります。
- ②□が下へ2マス動きます。着いたマスに緑で塗ります。
- ③◎が右へ4マス動きます。着いたマスに黒のクーピーで塗ります。
- ④×が左へ3マス、上へ2マス動きます。着いたマスに黄色のクーピーで塗ります。
- ⑤△が右へ3マス、上へ3マス、右へ1マス動きます。着いたマスに茶色のクーピーで塗ります。

	青で塗る		○		
	黄で塗る	□		茶で塗る	
◎				黒で塗る	
		緑で塗る		×	
△					

※1. このプリントは、しながわ・目黒こどもスクールのウェブサイトでダウンロードができます。無断複写・引用はご遠慮ください。
 ※2. このプリントを活用したオンライン授業のスケジュールは、しながわ・目黒こどもスクールのウェブサイトでご確認ください。

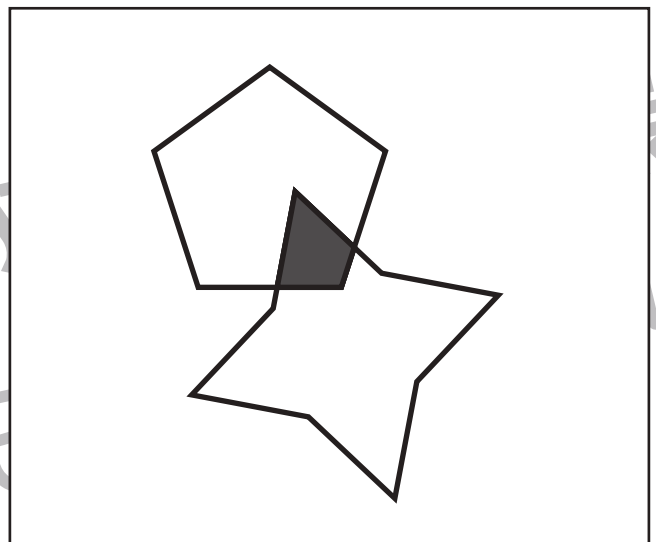
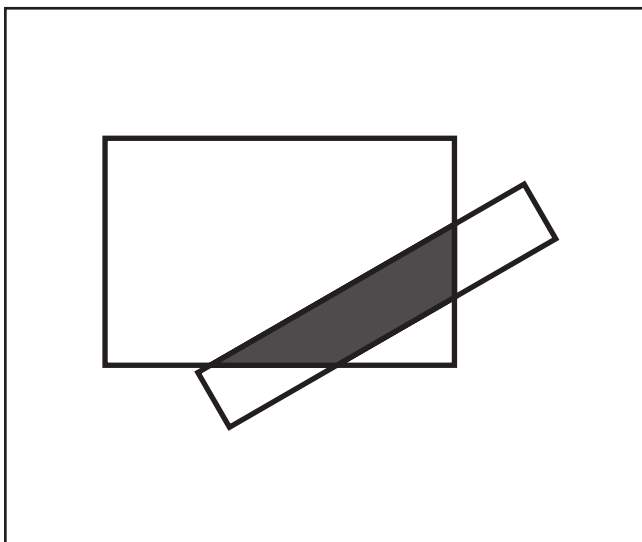
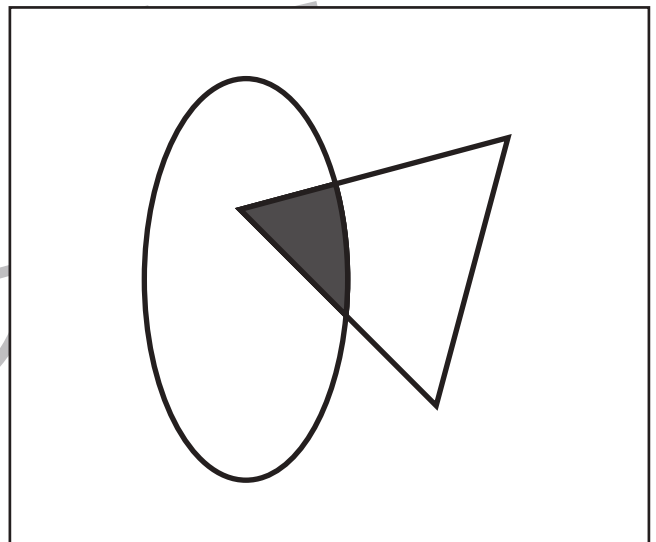
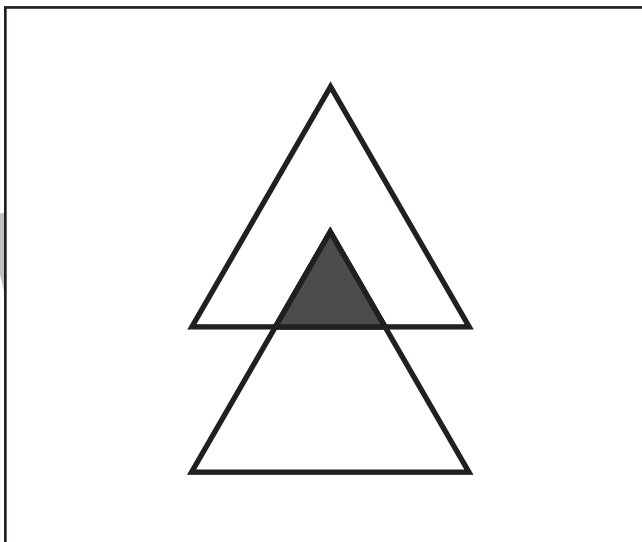
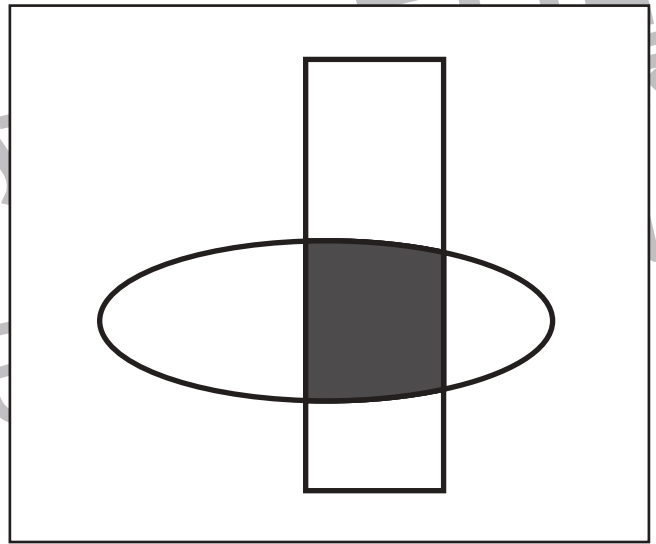
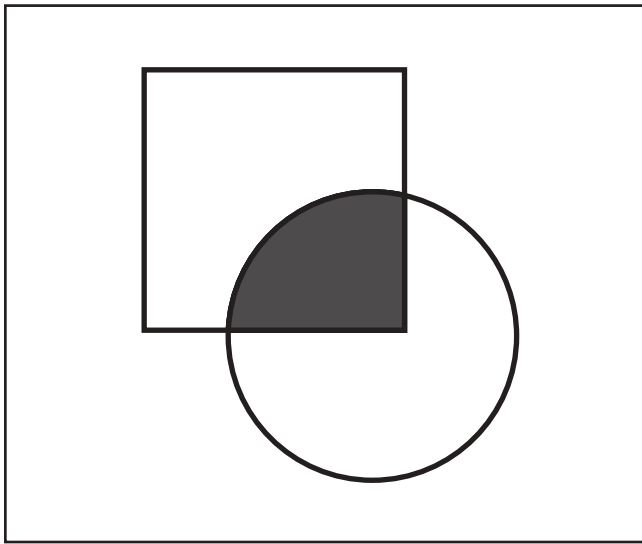


おうちで、やろう。

Study at home. 小学校受験の家庭学習教材

図形：重なり 20

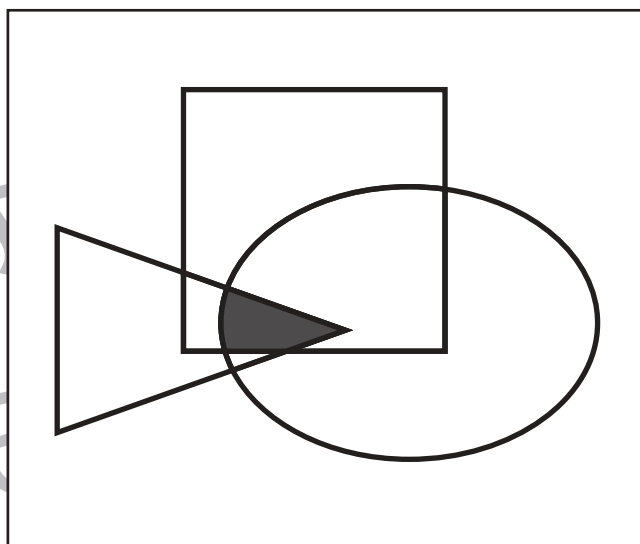
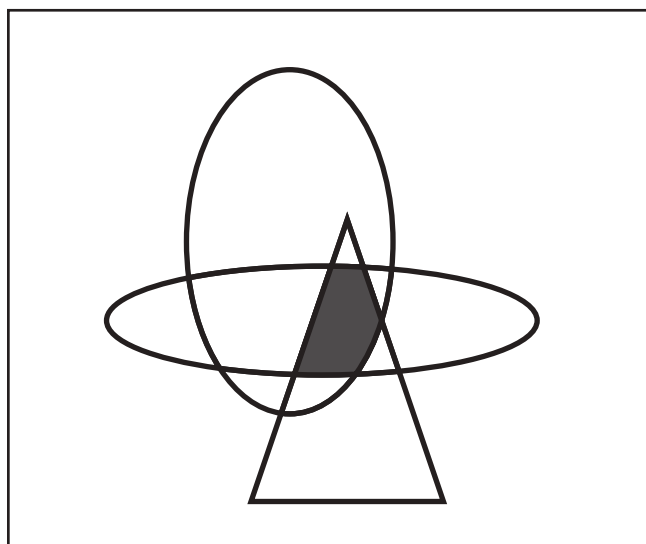
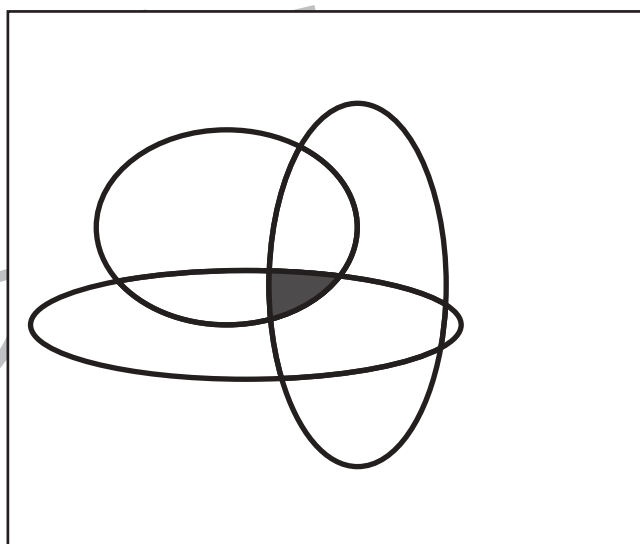
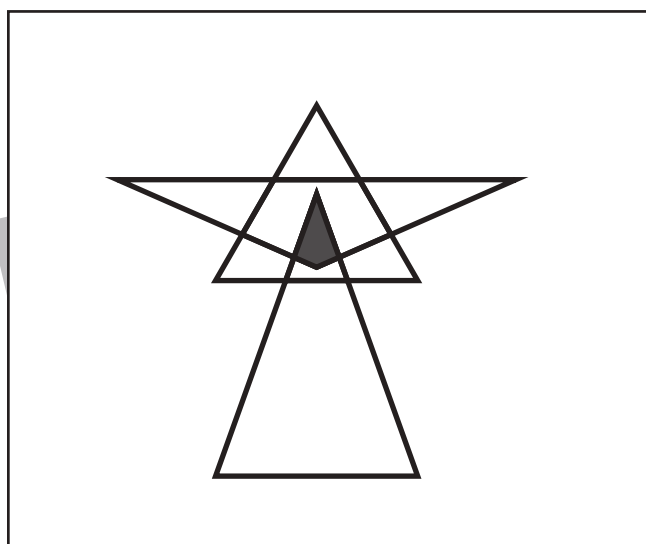
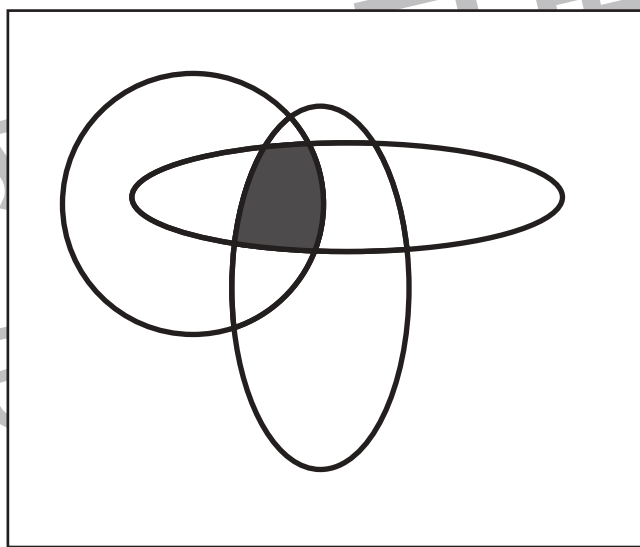
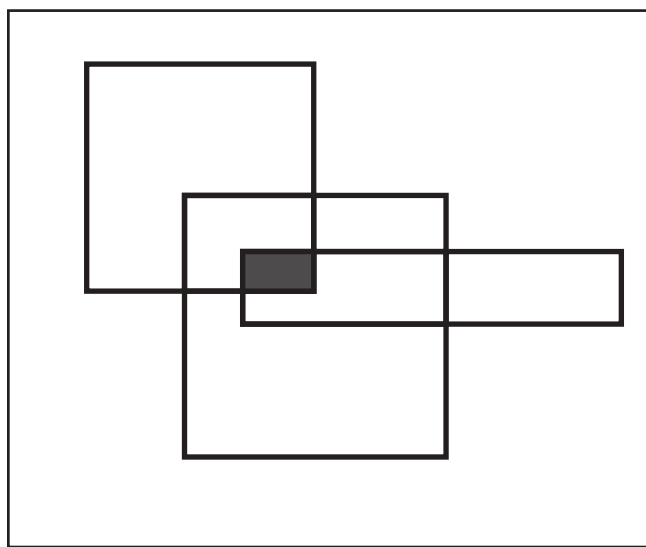
それぞれの四角の中の2つの形が重なっている場所を見つけて塗ります。



※1. このプリントは、しながわ・目黒こどもスクールのウェブサイトでダウンロードができます。無断複写・引用はご遠慮ください。
※2. このプリントを活用したオンライン授業のスケジュールは、しながわ・目黒こどもスクールのウェブサイトでご確認ください。



それぞれの四角の中の3つの形が重なっている場所を見つけて塗ります。



※1. このプリントは、しながわ・目黒こどもスクールのウェブサイトからダウンロードできます。無断複写・引用はご遠慮ください。
※2. このプリントを活用したオンライン授業のスケジュールは、しながわ・目黒こどもスクールのウェブサイトでご確認ください。



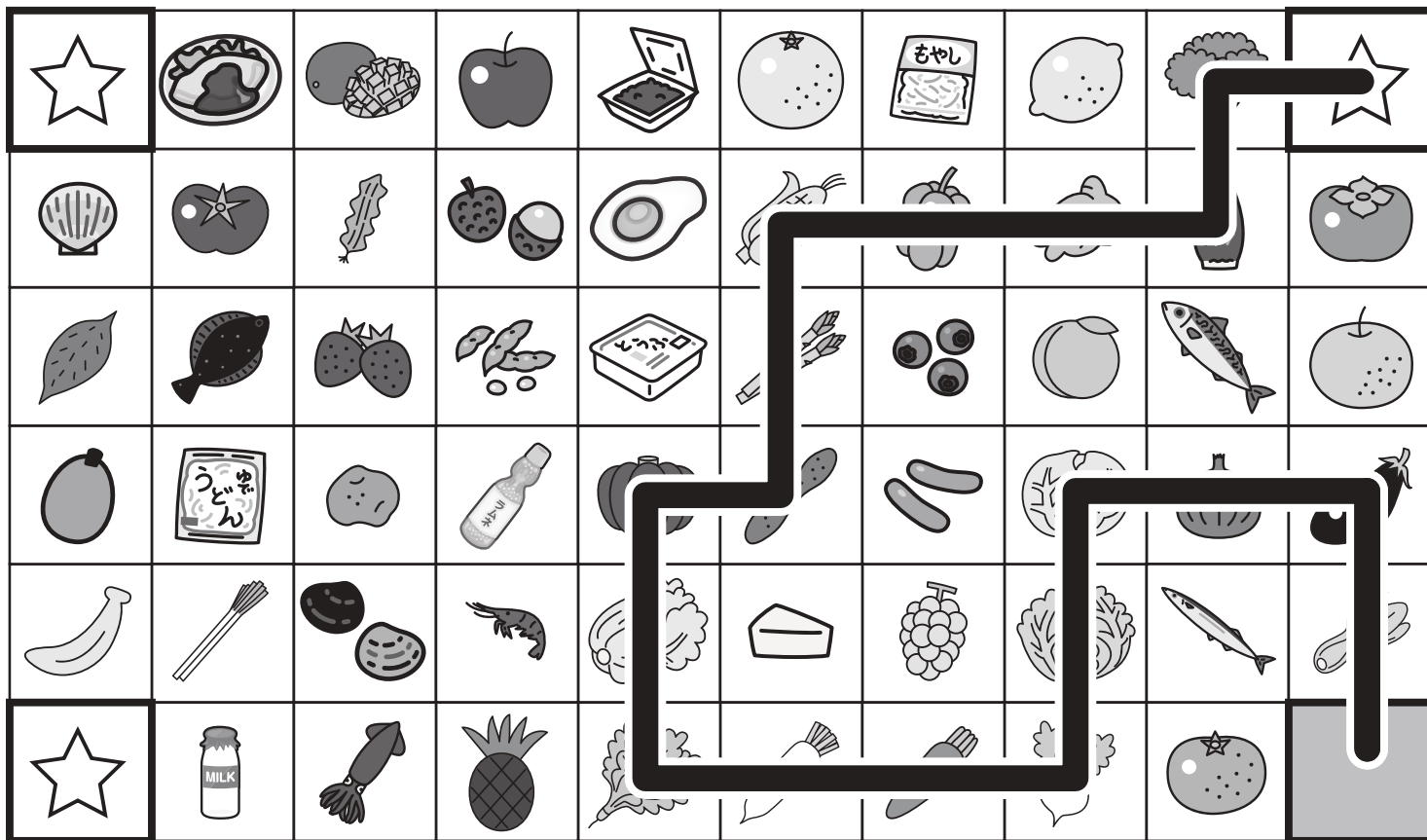


おうちで、やろう。


Study at home. 小学校受験の家庭学習教材

推理：条件推理 31

☆のマスがスタートです。野菜の絵が描いてあるマスだけを通り右下の灰色のマスのゴールまで進みます。縦横には進めますが、斜めには進めません。また、☆は3つありますが、正しいスタートは1つだけです。 ※一度通った道は通れません。



☆のマスがスタートです。赤ちゃんで生まれてくる動物の絵が描いてあるマスだけを通り右上の灰色のマスのゴールまで進みます。縦横には進めますが、斜めには進めません。また、☆は3つありますが、正しいスタートは1つだけです。 ※一度通った道は通れません。



※1. このプリントは、しながわ・目黒こどもスクールのウェブサイトからダウンロードできます。無断複写・引用はご遠慮ください。
※2. このプリントを活用したオンライン授業のスケジュールは、しながわ・目黒こどもスクールのウェブサイトでご確認ください。




おうちで、やろう。

Study at home. 小学校受験の家庭学習教材

数量：加減 22

別紙『数量：加減 22（問題文）』を使用し取り組みます。



※1. このプリントは、しながわ・目黒こどもスクールのウェブサイトでダウンロードができます。無断複写・引用はご遠慮ください。
※2. このプリントを活用したオンライン授業のスケジュールは、しながわ・目黒こどもスクールのウェブサイトでご確認ください。




おうちで、やろう。

Study at home. 小学校受験の家庭学習教材

数量：加減 23

別紙『数量：加減 23（問題文）』を使用し取り組みます。



※1. このプリントは、しながわ・目黒こどもスクールのウェブサイトでダウンロードができます。無断複写・引用はご遠慮ください。
※2. このプリントを活用したオンライン授業のスケジュールは、しながわ・目黒こどもスクールのウェブサイトでご確認ください。





おうちで、やろう。

Study at home. 小学校受験の家庭学習教材

数量：加減 24

別紙『数量：加減 24（問題文）』を使用し取り組みます。



※1. このプリントは、しながわ・目黒こどもスクールのウェブサイトでダウンロードができます。無断複写・引用はご遠慮ください。

※2. このプリントを活用したオンライン授業のスケジュールは、しながわ・目黒こどもスクールのウェブサイトでご確認ください。



おうちで、やろう。

Study at home. 小学校受験の家庭学習教材

数量：的あてゲーム3


今から、食べ物が描かれた的にボールを当てる的当てをします。的は当たったものによって得点が違います。果物に当たると1点、野菜に当たると2点です。この約束のとき、①～④の問題に答えましょう。

①「ミカン」と「モモ」の的にボールを当てたとき、何点になりますか。その数だけ○をかきましょう。

②「ピーマン」と「ニンジン」の的にボールを当てたとき、何点になりますか。その数だけ○をかきましょう。

③「バナナ」と「トウモロコシ」と「リンゴ」の的にボールを当てたとき、何点になりますか。その数だけ○をかきましょう。

④「ナス」と「ミカン」と「ピーマン」と「ブドウ」の的にボールを当てたとき、何点になりますか。その数だけ○をかきましょう。



①

○ × 2

②

○ × 4

③

○ × 4

④

○ × 6



おうちで、やろう。

Study at home. 小学校受験の家庭学習教材

数量：的あてゲーム4


今から、動物が描かれた的にボールを当てる的当てをします。的は当たったものによって得点が違います。卵で生まれる動物の的は3点で、赤ちゃんで生まれる動物の的は2点です。この約束のとき、①～④の問題に答えましょう。

①「ライオン」と「ゾウ」の的にボールを当てたとき、何点になりますか。その数だけ〇をかきましょう。

②「ニワトリ」と「ペンギン」の的にボールを当てたとき、何点になりますか。その数だけ〇をかきましょう。

③「ヘビ」と「カンガルー」と「キツネ」の的にボールを当てたとき、何点になりますか。その数だけ〇をかきましょう。

④「カバ」と「キツネ」と「ヘビ」と「ニワトリ」の的にボールを当てたとき、何点になりますか。その数だけ〇をかきましょう。



①

○ × 6

②

○ × 4

③

○ × 7

④

○ × 10

※1. このプリントは、しながわ・目黒こどもスクールのウェブサイトでダウンロードができます。無断複写・引用はご遠慮ください。

※2. このプリントを活用したオンライン授業のスケジュールは、しながわ・目黒こどもスクールのウェブサイトでご確認ください。