



おうちで、やろう。

Study at home. 小学校受験の家庭学習教材

常識：なぞなぞ 10

①～⑤の問題を聞いて、下の四角の中から正しいものを選びます。


①私は小さな丸い粒がたくさん集まっています。秋においしくなります。私に○をつけてください。

②私は赤い体をしています。頭に緑のヘタがついていて体の周りにつぶつぶの種があります。私に△をつけてください。

③私は双子になることがあります。実の中には種があります。私に□をつけてください。

④私は包丁を使わずに手で黄色い皮を向いて食べます。中身は白色くてとても甘いです。私に◎をつけてください。

⑤夏に美味しい果物で大きな種が1つ入っています。私に×をつけてください。



※1. このプリントは、しながわ・目黒こどもスクールのウェブサイトでダウンロードができます。無断複写・引用はご遠慮ください。

※2. このプリントを活用したオンライン授業のスケジュールは、しながわ・目黒こどもスクールのウェブサイトでご確認ください。





おうちで、やろう。

Study at home. 小学校受験の家庭学習教材

常識：なぞなぞ 11

①～⑤の問題を聞いて、下の四角の中から正しいものを選びます。


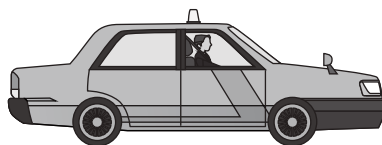

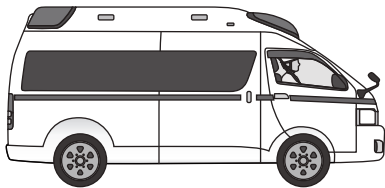

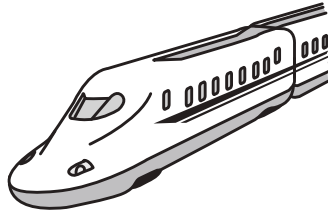


①私は空を跳ぶ乗り物です。頭の上にプロペラがあります。私に○をつけてください。

②私はサイレンを鳴らしながら走り、病院に向かいます。私に△をつけてください。

③私は火を使って空を跳びます。風船みたいに膨らんでいます。私に□をつけてください。

④私は線路の上を走ります。1度でたくさんの人を運ぶことができます。私に◎をつけてください。

⑤私は荷物を運びます。背中には荷物をたくさんのおられる箱がついています。私に×をつけてください。



※1. このプリントは、しながわ・目黒こどもスクールのウェブサイトでダウンロードができます。無断複写・引用はご遠慮ください。

※2. このプリントを活用したオンライン授業のスケジュールは、しながわ・目黒こどもスクールのウェブサイトでご確認ください。





おうちで、やろう。

Study at home. 小学校受験の家庭学習教材

常識：季節 15

左の四角の中の絵の季節を考えます。

春はプリンの下に、夏はドーナツの下に、秋はたいやきの下に、冬はケーキの下に○をかきます。

※1. このプリントは、しながわ・目黒こどもスクールのウェブサイトからダウンロードできます。無断複写・引用はご遠慮ください。

※2. このプリントを活用したオンライン授業のスケジュールは、しながわ・目黒こどもスクールのウェブサイトでご確認ください。



おうちで、やろう。

Study at home. 小学校受験の家庭学習教材

常識：季節 16

左の四角の中の絵の季節を考えます。

春はプリンの下に、夏はドーナツの下に、秋はたいやきの下に、冬はケーキの下に○をかきます。

※1. このプリントは、しながわ・目黒こどもスクールのウェブサイトからダウンロードできます。無断複写・引用はご遠慮ください。

※2. このプリントを活用したオンライン授業のスケジュールは、しながわ・目黒こどもスクールのウェブサイトでご確認ください。

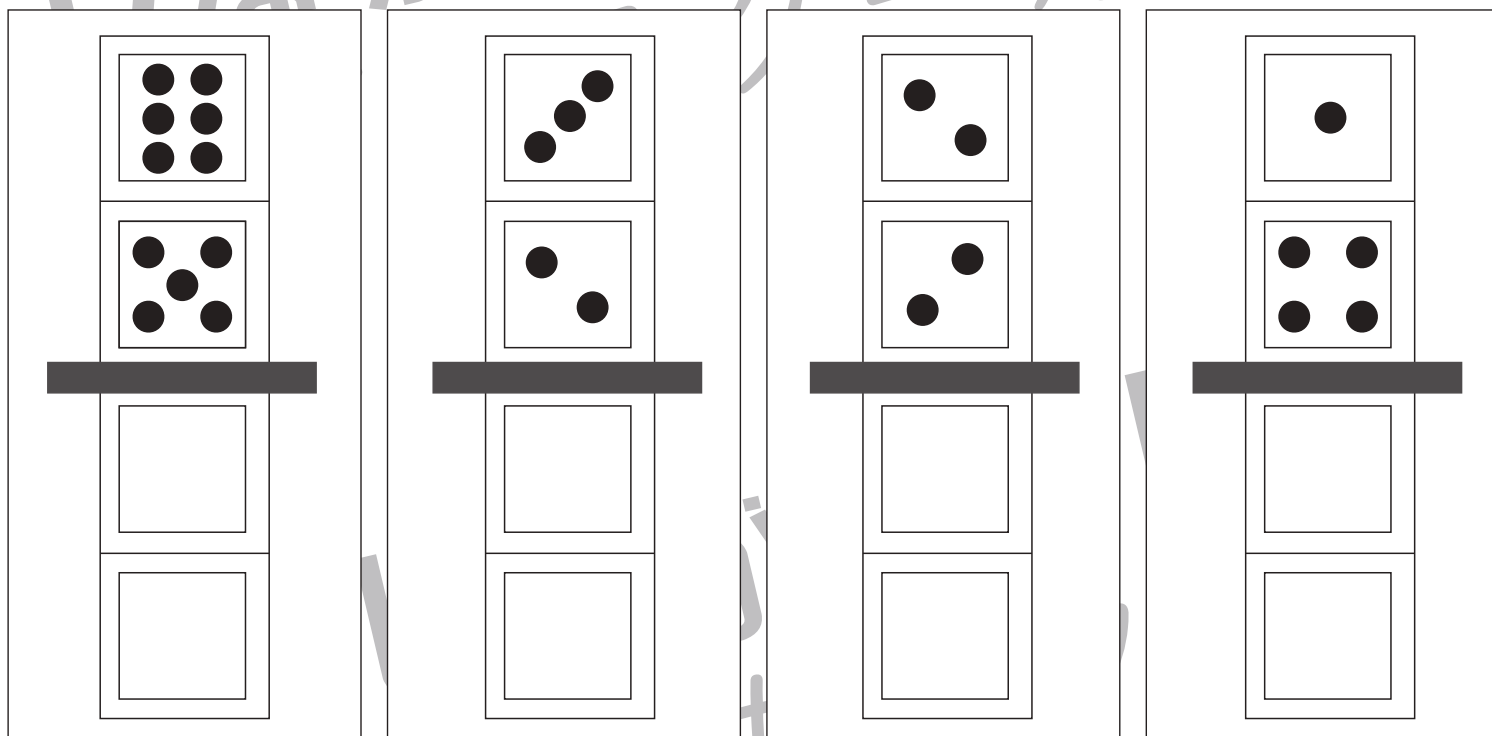
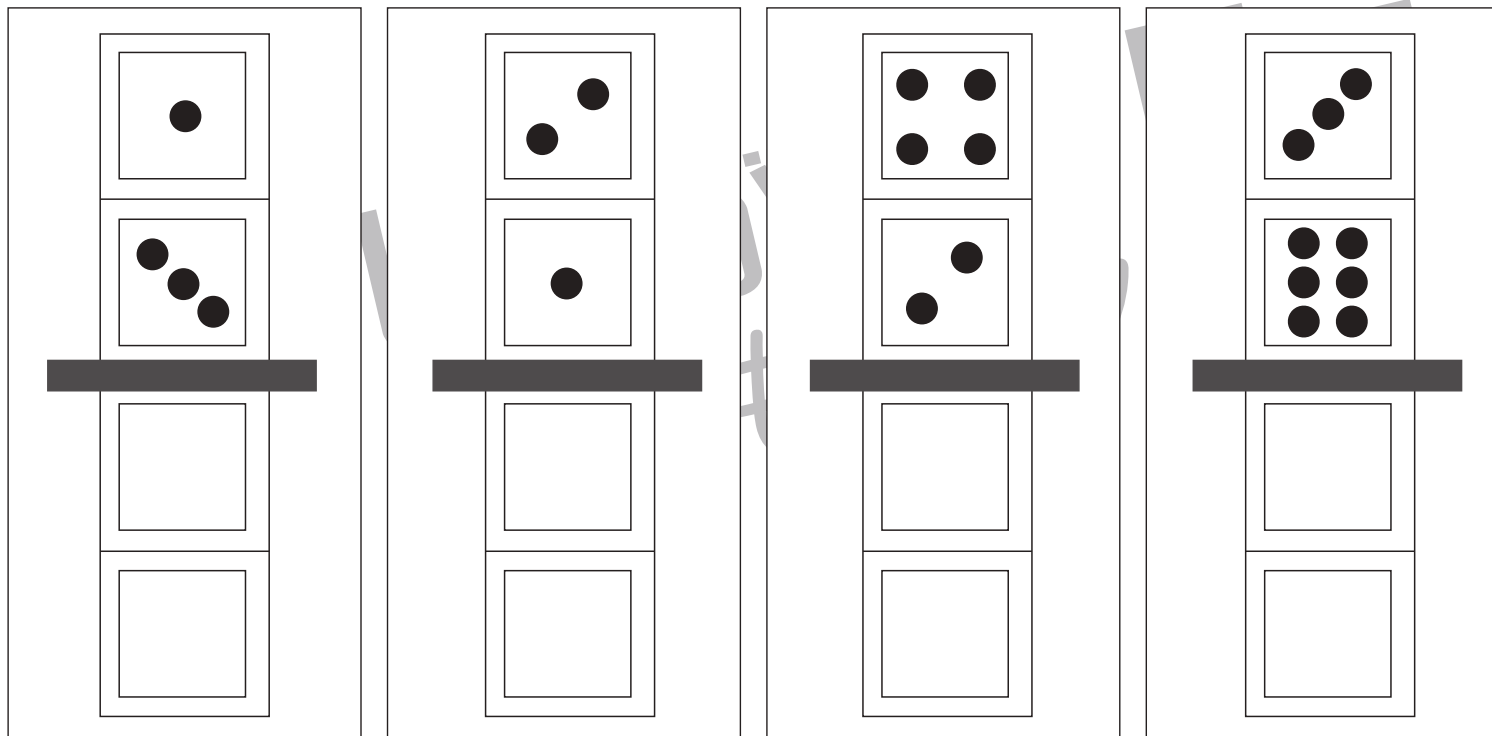


おうちで、やろう。

Study at home. 小学校受験の家庭学習教材

図形：鏡 30

上の四角の中にはサイコロの目が描いてあります。紙の真ん中の灰色の部分に鏡を立てて鏡を見た時と見え方を考えます。鏡を見たときにサイコロがどのような模様になっているか考えて下にかきます。



※1. このプリントは、しながわ・目黒こどもスクールのウェブサイトでダウンロードができます。無断複写・引用はご遠慮ください。
 ※2. このプリントを活用したオンライン授業のスケジュールは、しながわ・目黒こどもスクールのウェブサイトでご確認ください。

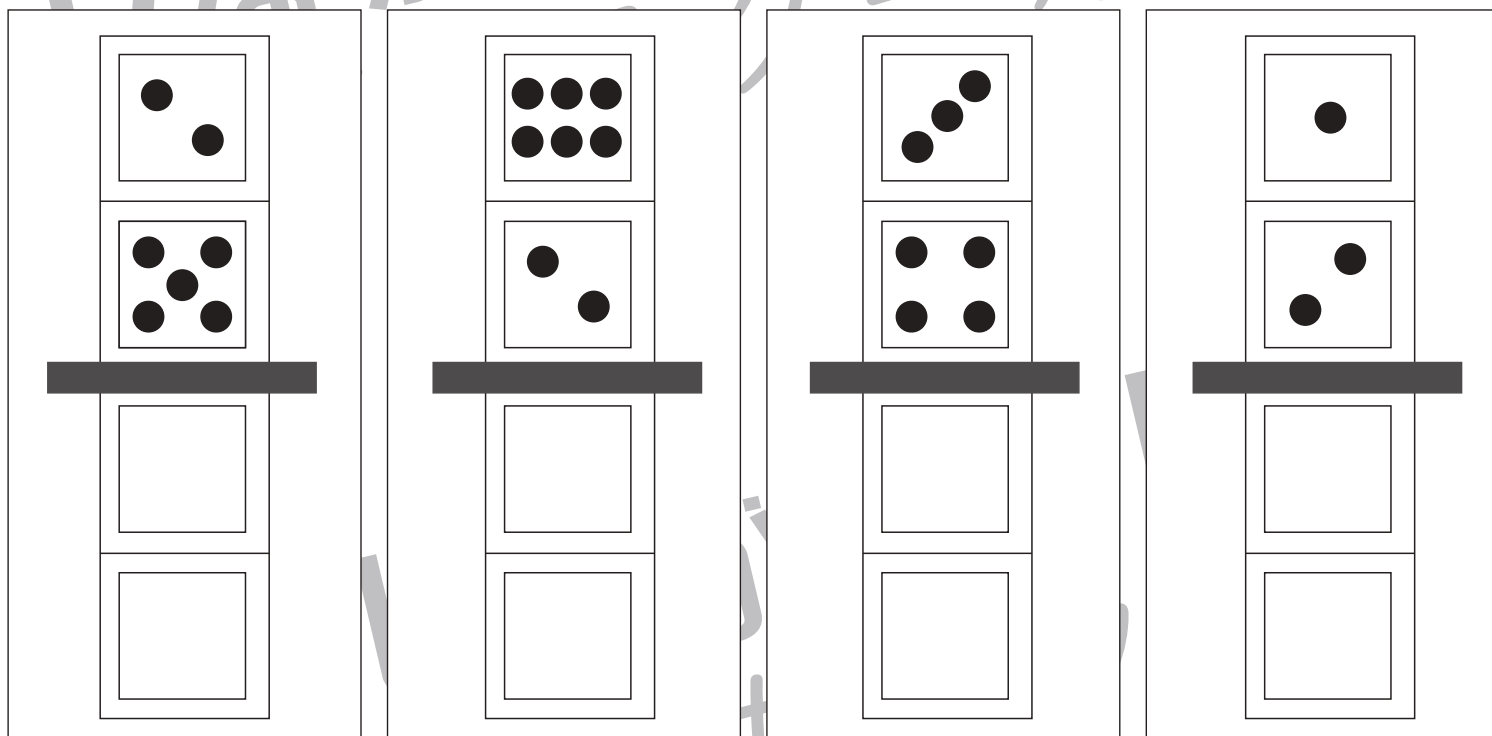
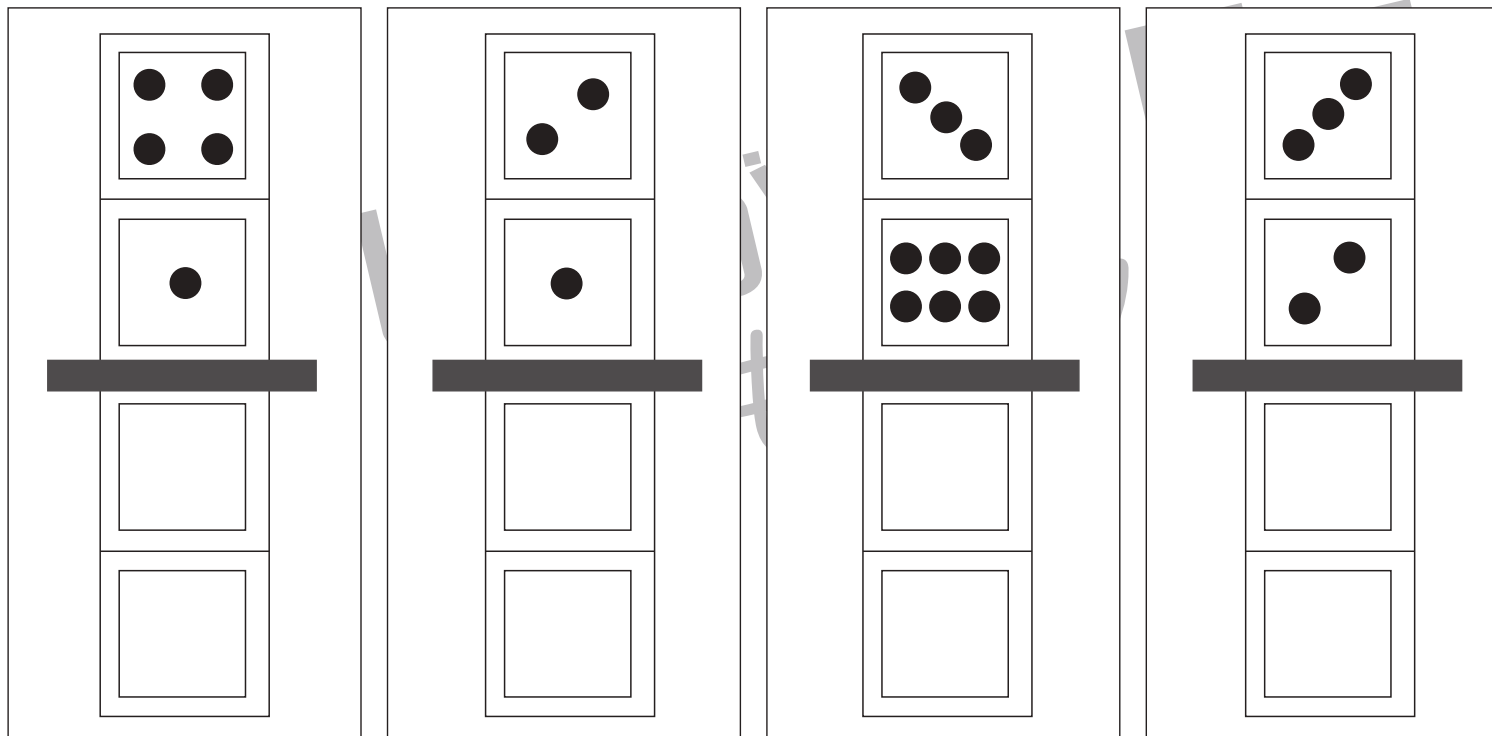


おうちで、やろう。

Study at home. 小学校受験の家庭学習教材

図形：鏡 31

上の四角の中にはサイコロの目が描いてあります。紙の真ん中の灰色の部分に鏡を立てて鏡を見た時と時の見え方を考えます。鏡を見たときにサイコロがどのような模様になっているか考えて下にかきます。



※1. このプリントは、しながわ・目黒こどもスクールのウェブサイトでダウンロードができます。無断複写・引用はご遠慮ください。
 ※2. このプリントを活用したオンライン授業のスケジュールは、しながわ・目黒こどもスクールのウェブサイトでご確認ください。

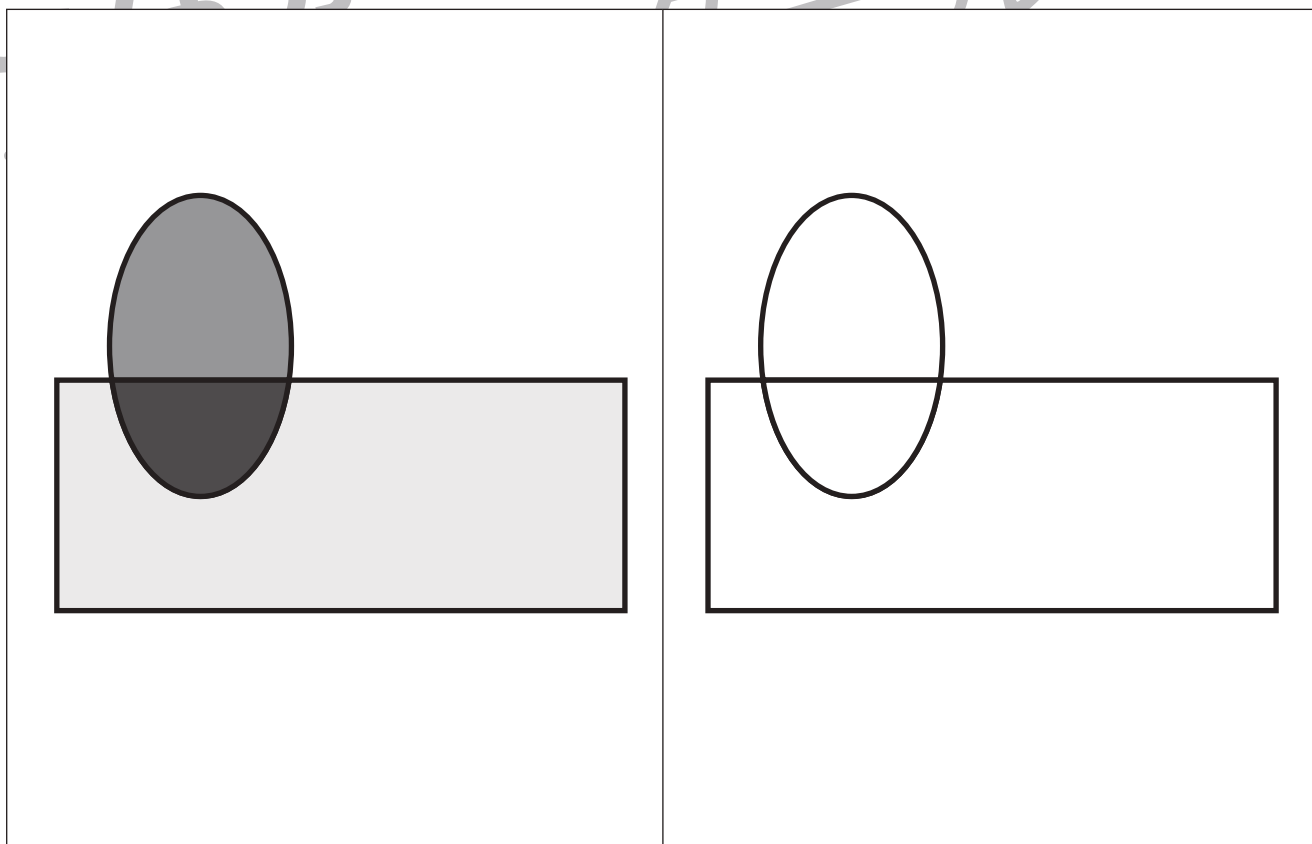
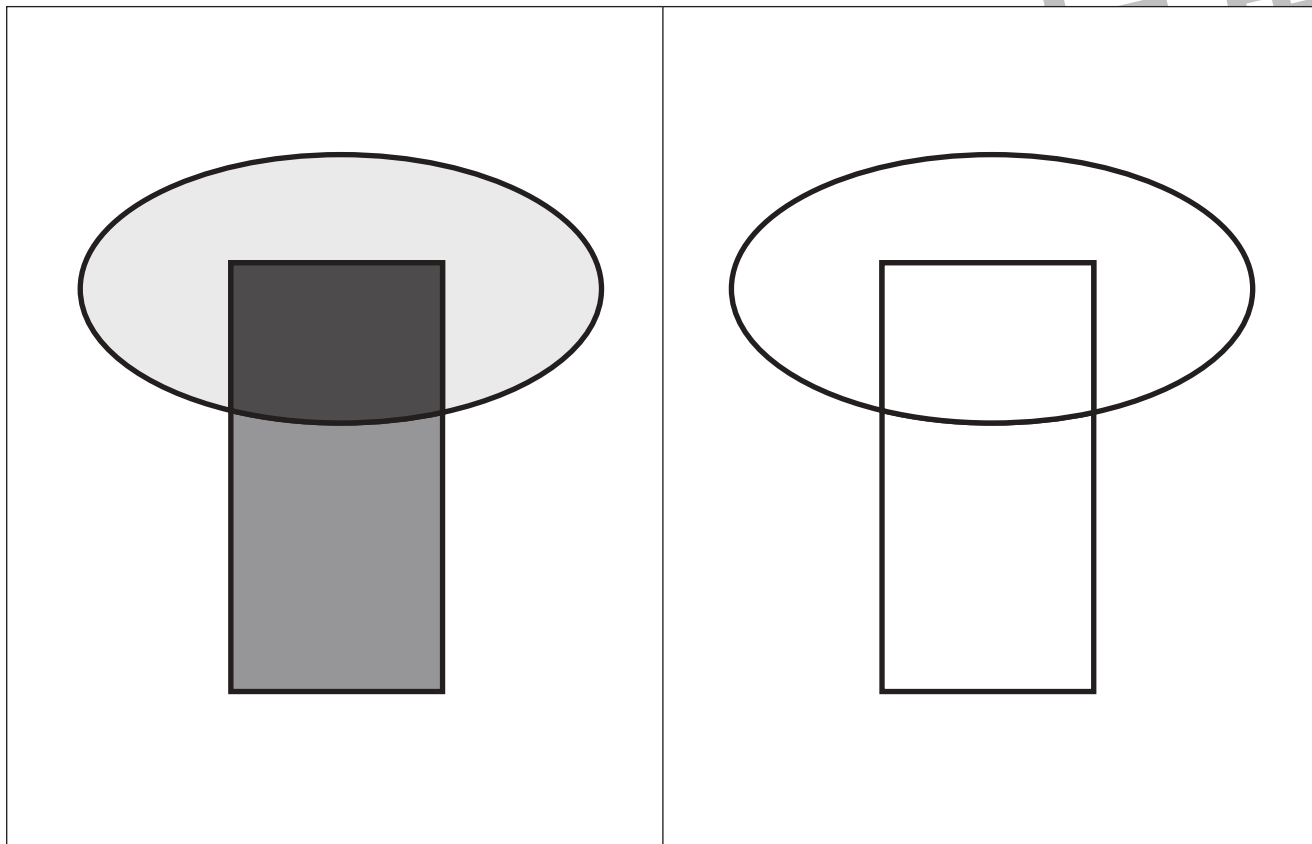


おうちで、やろう。

Study at home. 小学校受験の家庭学習教材

運筆：濃淡9

左のお手本と同じ濃さになるように右の形を塗ります。この問題は鉛筆でやりましょう。
※この問題に解答はありません。



※1. このプリントは、しながわ・目黒こどもスクールのウェブサイトからダウンロードできます。無断複写・引用はご遠慮ください。
※2. このプリントを活用したオンライン授業のスケジュールは、しながわ・目黒こどもスクールのウェブサイトでご確認ください。




おうちで、やろう。

Study at home. 小学校受験の家庭学習教材

巧緻性：はさみ 12

- ①真ん中の点線をはさみできます。
 - ②切り取った灰色の紙を使い上の形に切ります。灰色の紙にはそれぞれの形はありませんので、自分で大きさや形を考えながら切りましょう。
 - ③切った形を上形の形に合わせてのりで貼り付けます。
- ※この問題に解答はありません。






おうちで、やろう。

Study at home. 小学校受験の家庭学習教材

巧緻性：はさみ 13

- ①真ん中の点線をはさみできます。
 - ②切り取った灰色の紙を使い上の形に切ります。灰色の紙にはそれぞれの形はありませんので、自分で大きさや形を考えながら切りましょう。
 - ③切った形を上形の形に合わせてのりで貼り付けます。
- ※この問題に解答はありません。





おうちで、やろう。

Study at home. 小学校受験の家庭学習教材

巧緻性：はさみ 14

- ①真ん中の点線をはさみできます。
 - ②切り取った灰色の紙を使い上の形に切ります。灰色の紙にはそれぞれの形はありませんので、自分で大きさや形を考えながら切りましょう。
 - ③切った形を上の方の形に合わせてのりで貼り付けます。
- ※この問題に解答はありません。

