



おうちで、やろう。

Study at home. 小学校受験の家庭学習教材



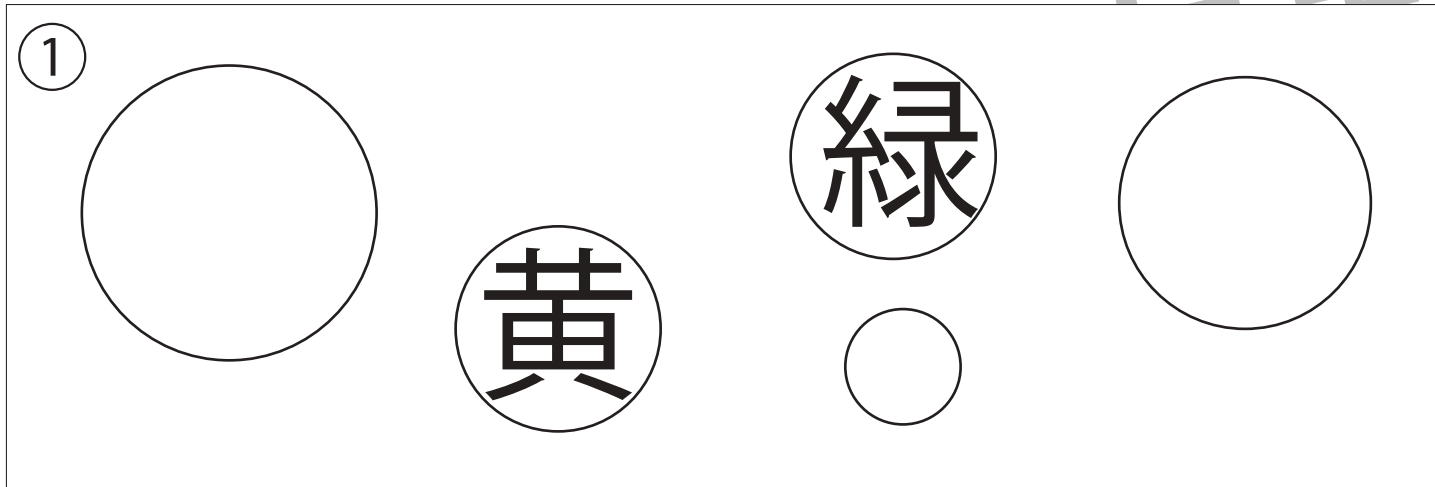
指示の聞き取り 27

それぞれのお話通りになるように色を塗ったり、記号をかきます。問題は1度しか読みませんのでしっかり聞きましょう。

①同じ大きさの○のうち、左側にあるものを黄色で、右側にあるものを緑で塗ります。

②○を横に三つかき、その左側に□をかきます。

③左の白い丸から右の灰色の丸まで鉛筆でなみ線をかきます。



※1. このプリントは、しながわ・目黒こどもスクールのウェブサイトでダウンロードができます。無断複写・引用はご遠慮ください。

※2. このプリントを活用したオンライン授業のスケジュールは、しながわ・目黒こどもスクールのウェブサイトでご確認ください。


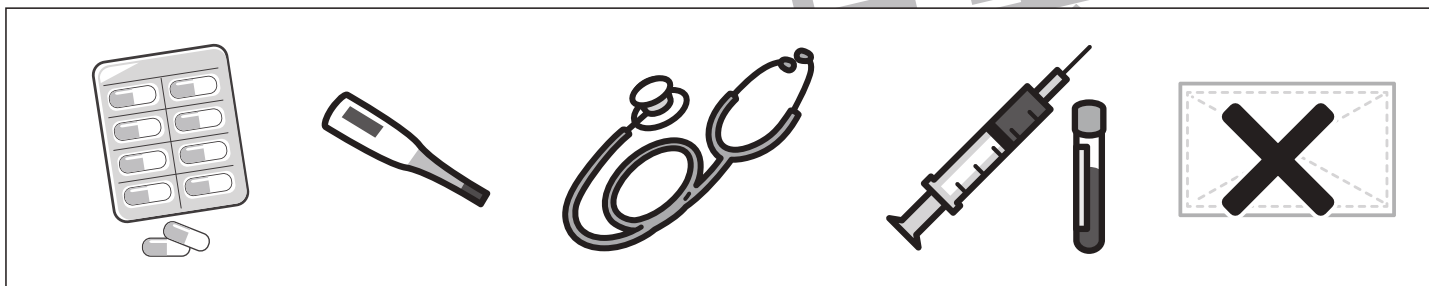

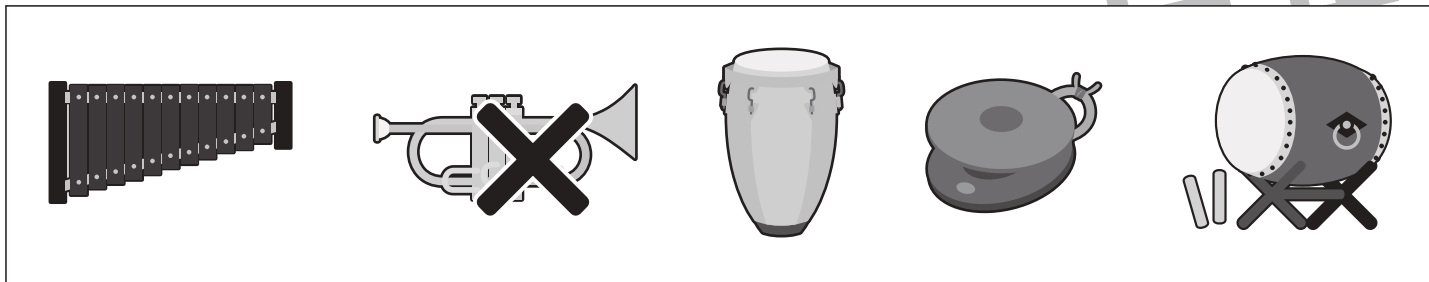


おうちで、やろう。

Study at home. 小学校受験の家庭学習教材

常識：仲間6

四角の中にはいろいろなものが入っています。5つの中から仲間外れのを1つ見つけて×をつけます。
また、どうして仲間外れなのか理由もお話してみましょう。



※1. このプリントは、しながわ・目黒こどもスクールのウェブサイトでダウンロードができます。無断複写・引用はご遠慮ください。
※2. このプリントを活用したオンライン授業のスケジュールは、しながわ・目黒こどもスクールのウェブサイトでご確認ください。



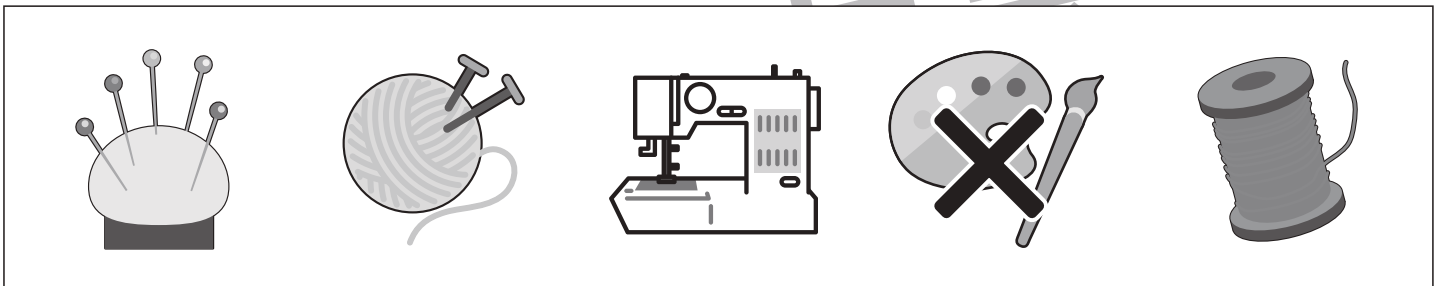
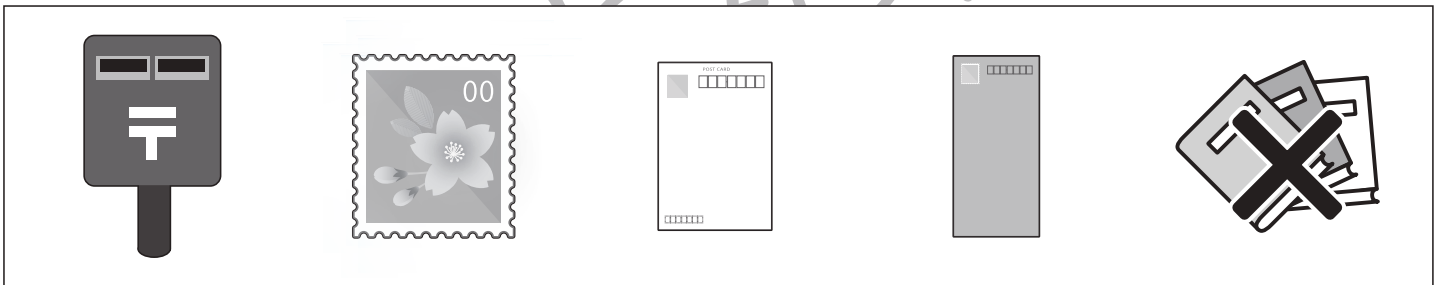


おうちで、やろう。

Study at home. 小学校受験の家庭学習教材

常識：仲間7

四角の中にはいろいろなものが入っています。5つの中から仲間外れのものを1つ見つけて×をつけます。
また、どうして仲間外れなのか理由もお話してみましょう。



※1. このプリントは、しながわ・目黒こどもスクールのウェブサイトからダウンロードできます。無断複写・引用はご遠慮ください。
※2. このプリントを活用したオンライン授業のスケジュールは、しながわ・目黒こどもスクールのウェブサイトでご確認ください。








おうちで、やろう。

Study at home. 小学校受験の家庭学習教材

常識：仲間8

左端と右端の四角の中の絵、両方とも仲間になるものを真ん中の四角の中から見つけて○をつけます。



※1. このプリントは、しながわ・目黒こどもスクールのウェブサイトでダウンロードができます。無断複写・引用はご遠慮ください。
 ※2. このプリントを活用したオンライン授業のスケジュールは、しながわ・目黒こどもスクールのウェブサイトでご確認ください。

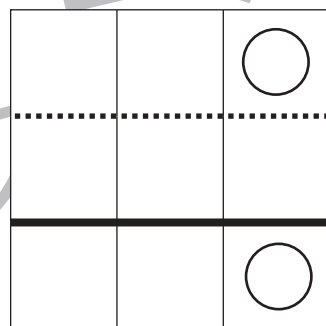
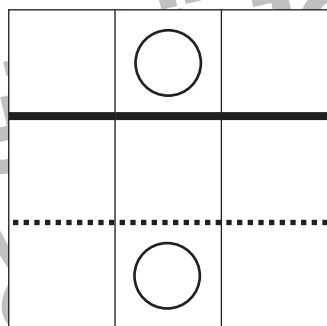
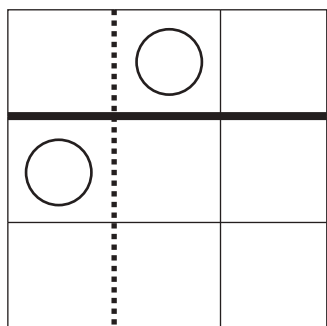
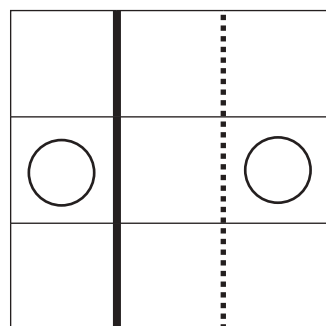
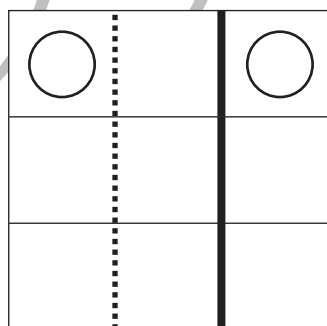
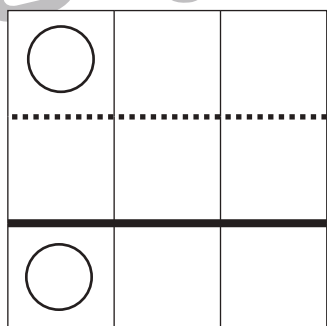
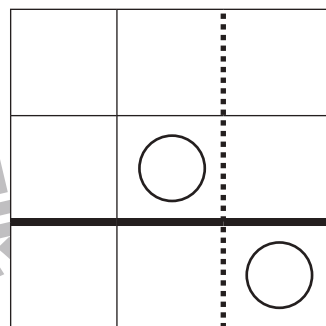
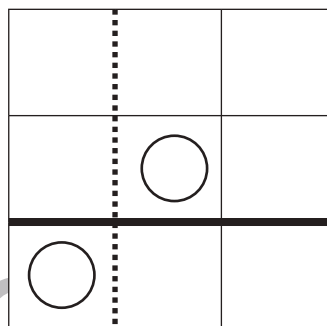
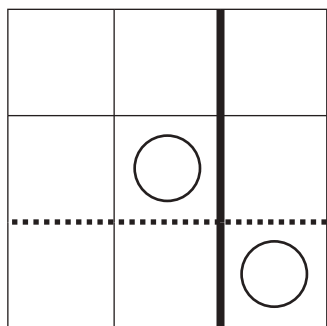
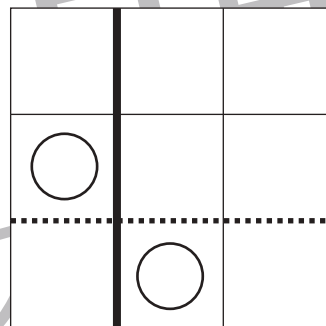
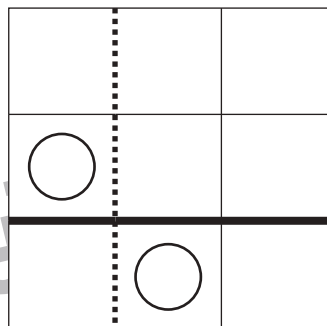
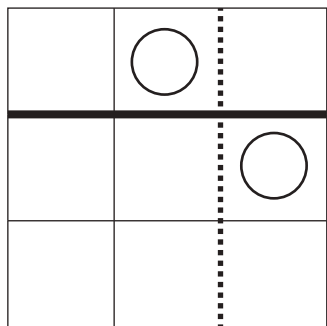


おうちで、やろう。

Study at home. 小学校受験の家庭学習教材

図形：折り重ね 51

それぞれの四角を黒い線で折り重ね、その後に点線で折り重ねたときの○の場所を考えていきます。2回折り重ねた後の○の場所はどこになるのかを考えてそのマスに○をかきます。折り重ねるときは○がある方を重ねます。



※1. このプリントは、しながわ・目黒こどもスクールのウェブサイトでダウンロードができます。無断複写・引用はご遠慮ください。
※2. このプリントを活用したオンライン授業のスケジュールは、しながわ・目黒こどもスクールのウェブサイトでご確認ください。



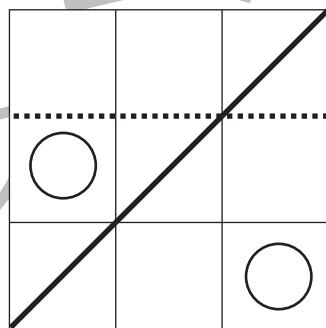
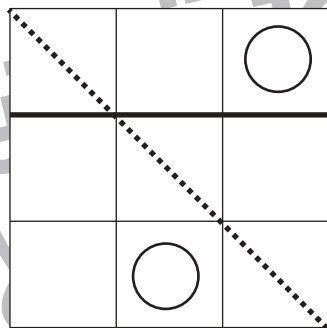
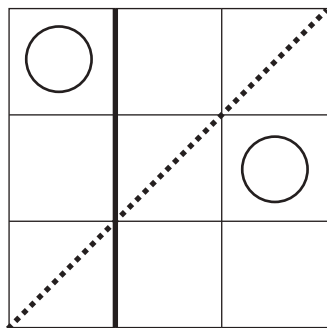
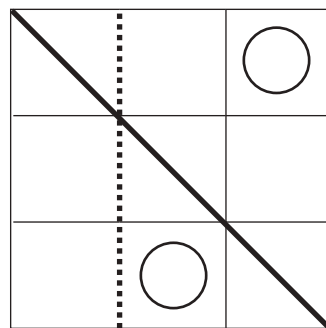
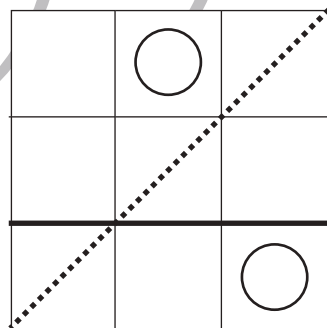
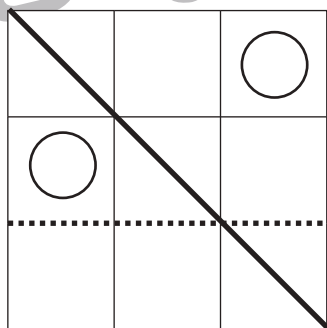
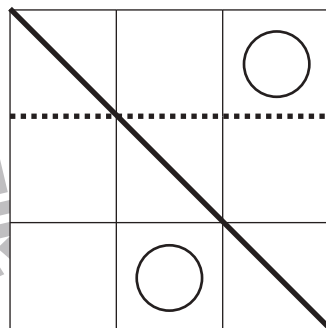
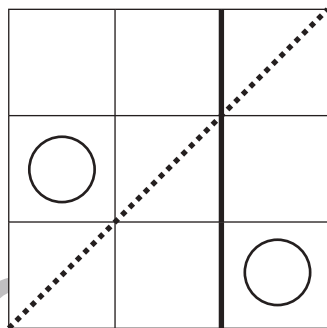
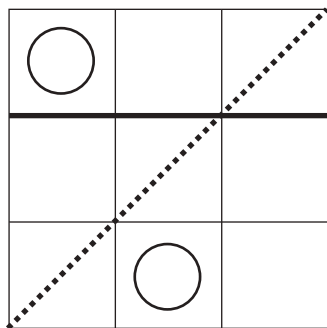
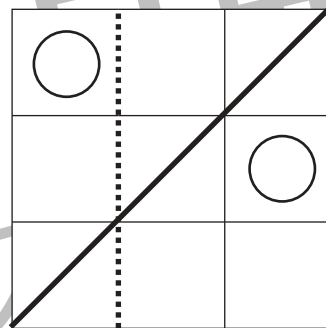
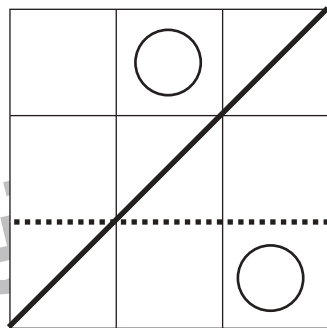
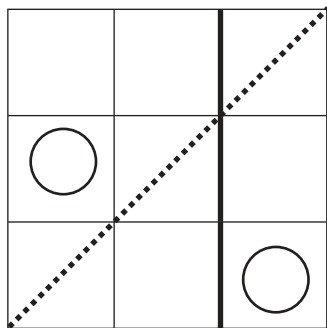


おうちで、やろう。

Study at home. 小学校受験の家庭学習教材

図形：折り重ね 52

それぞれの四角を黒い線で折り重ね、その後に点線で折り重ねたときの○の場所を考えていきます。2回折り重ねた後の○の場所はどこになるのかを考えてそのマスに○をかきます。折り重ねるときは○がある方を重ねます。



※1. このプリントは、しながわ・目黒こどもスクールのウェブサイトでダウンロードができます。無断複写・引用はご遠慮ください。
※2. このプリントを活用したオンライン授業のスケジュールは、しながわ・目黒こどもスクールのウェブサイトでご確認ください。



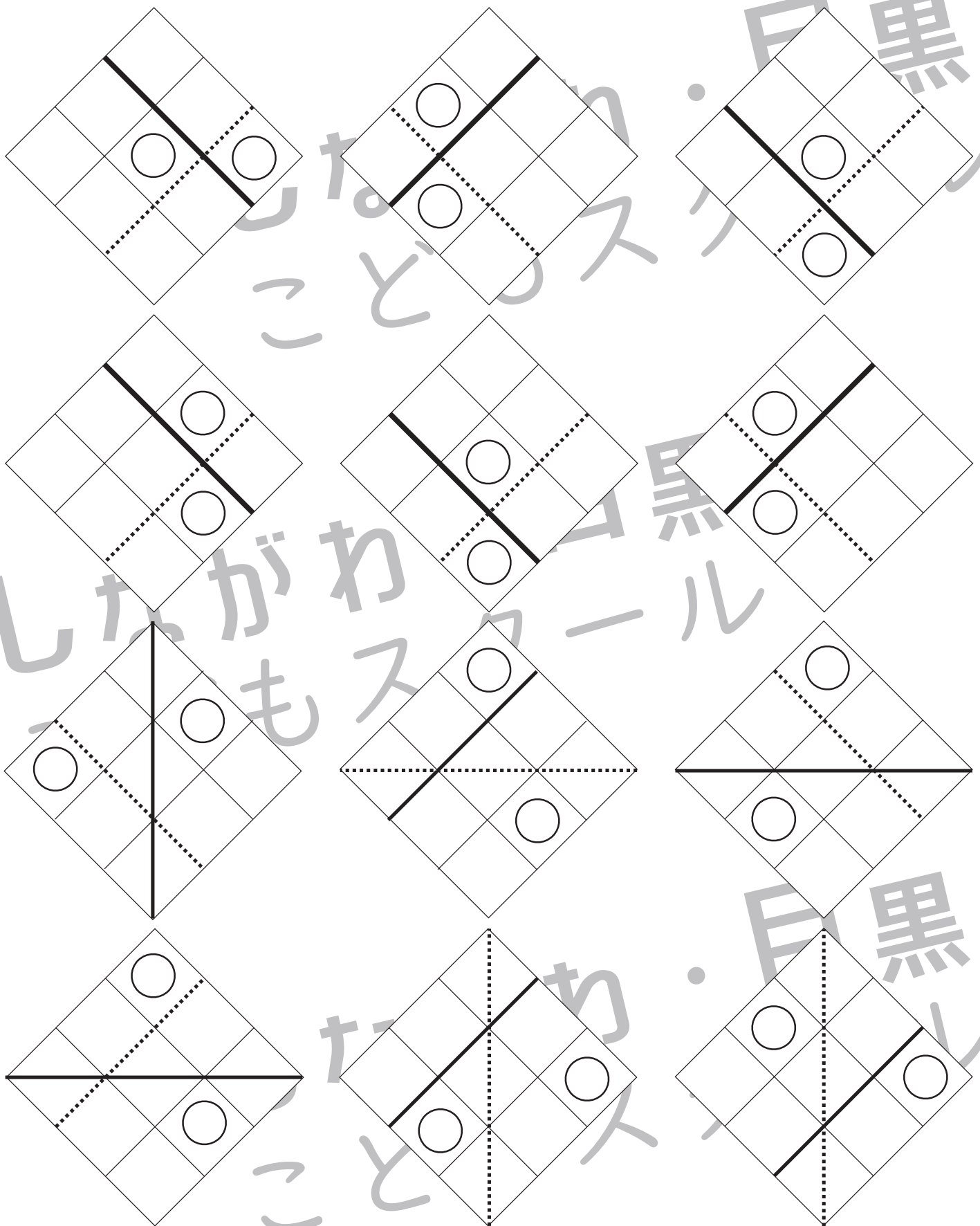


おうちで、やろう。

Study at home. 小学校受験の家庭学習教材

図形：折り重ね 53

それぞれの四角を黒い線で折り重ね、その後に点線で折り重ねたときの○の場所を考えていきます。2回折り重ねた後の○の場所はどこになるのかを考えてそのマスに○をかきます。折り重ねるときは○がある方を重ねます。



※1. このプリントは、しながわ・目黒こどもスクールのウェブサイトでダウンロードができます。無断複写・引用はご遠慮ください。
※2. このプリントを活用したオンライン授業のスケジュールは、しながわ・目黒こどもスクールのウェブサイトでご確認ください。



おうちで、やろう。

Study at home. 小学校受験の家庭学習教材

図形：点図形 68

左のお手本には黒い線と点線があります。このうち黒い線だけを右にかきます。

※1. このプリントは、しながわ・目黒こどもスクールのウェブサイトでダウンロードができます。無断複写・引用はご遠慮ください。
 ※2. このプリントを活用したオンライン授業のスケジュールは、しながわ・目黒こどもスクールのウェブサイトでご確認ください。






おうちで、やろう。

Study at home. 小学校受験の家庭学習教材

推理：順位付け 4

四角の中には絵がかいてあります。この中で、年齢が1番上の人に○、一番下の人に□をつけます。



※1. このプリントは、しながわ・目黒こどもスクールのウェブサイトでダウンロードができます。無断複写・引用はご遠慮ください。
※2. このプリントを活用したオンライン授業のスケジュールは、しながわ・目黒こどもスクールのウェブサイトでご確認ください。










おうちで、やろう。

Study at home. 小学校受験の家庭学習教材

推理：水量 17

それぞれの四角の中のコップには水が入っています。

それぞれのコップの中のボールをすべて外に出したとき、水の量が2番目に少ないコップに○をつけます。



※1. このプリントは、しながわ・目黒こどもスクールのウェブサイトでダウンロードができます。無断複写・引用はご遠慮ください。

※2. このプリントを活用したオンライン授業のスケジュールは、しながわ・目黒こどもスクールのウェブサイトでご確認ください。