



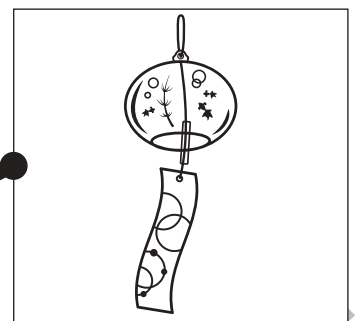


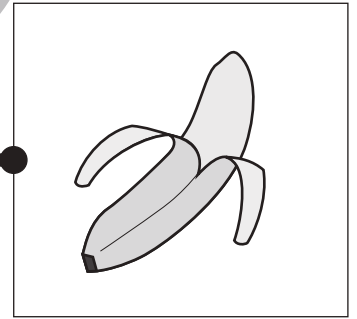





おうちで、やろう。

Study at home. 小学校受験の家庭学習教材

言語：音の理解 49

左と右の四角の中の絵で終わりの音が同じもの同士を線で結びます。



※1. このプリントは、しながわ・目黒こどもスクールのウェブサイトからダウンロードできます。無断複写・引用はご遠慮ください。
※2. このプリントを活用したオンライン授業のスケジュールは、しながわ・目黒こどもスクールのウェブサイトでご確認ください。



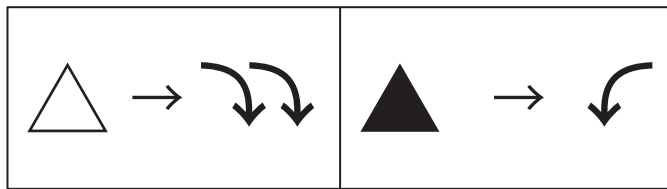


おうちで、やろう。

Study at home. 小学校受験の家庭学習教材

図形：回転 60

△は右に2回、▲は左に1回倒します。上の四角を△と▲の数だけ倒すと、下の3つのうちのどの図になりますか。正しいものを1つ選んで線で結びましょう。



Problem 1: A 2x2 grid of squares. The top-left square is a cross with a thick black horizontal bar. To its right are two white triangles and one black triangle. Below are three options, each with a dot above it. A line connects the top-right corner of the starting square to the top-left corner of the first option.

Problem 2: A 2x2 grid of squares. The top-left square is a square with a missing top-right corner. To its right are two white triangles and two black triangles. Below are three options, each with a dot above it. A line connects the top-right corner of the starting square to the top-right corner of the third option.

※1. このプリントは、しながわ・目黒こどもスクールのウェブサイトでダウンロードができます。無断複写・引用はご遠慮ください。
※2. このプリントを活用したオンライン授業のスケジュールは、しながわ・目黒こどもスクールのウェブサイトでご確認ください。

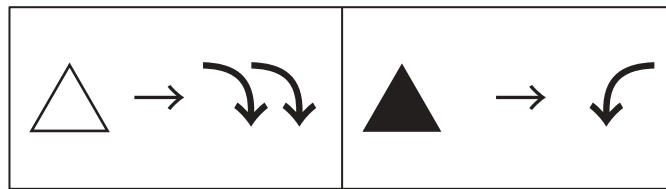


おうちで、やろう。

Study at home. 小学校受験の家庭学習教材

図形：回転 61

△は右に2回、▲は左に1回倒します。上の四角を△と▲の数だけ倒すと、下の3つのうちのどの図になりますか。正しいものを1つ選んで線で結びましょう。



Problem 1: A square divided by a diagonal line from the top-left to the bottom-right. The top-right triangle contains a grey circle, and the bottom-left triangle contains a white circle. To the right are 1 white triangle and 2 black triangles. A line connects the starting square to the middle option.

Options:

- Option 1: Square with diagonal. Top-left: grey circle. Bottom-right: white circle.
- Option 2: Square with diagonal. Top-left: white circle. Bottom-right: grey circle.
- Option 3: Square with diagonal. Top-right: grey circle. Bottom-left: white circle.

Problem 2: A square divided by a diagonal line from the top-left to the bottom-right. The top triangle is grey and the bottom triangle is black. To the right are 2 white triangles and 2 black triangles. A line connects the starting square to the middle option.

Options:

- Option 1: Square with diagonal. Top: grey. Bottom: black.
- Option 2: Square with diagonal. Top: black. Bottom: grey.
- Option 3: Square with diagonal. Top: black. Bottom: black.

※1. このプリントは、しながわ・目黒こどもスクールのウェブサイトでダウンロードができます。無断複写・引用はご遠慮ください。
※2. このプリントを活用したオンライン授業のスケジュールは、しながわ・目黒こどもスクールのウェブサイトでご確認ください。



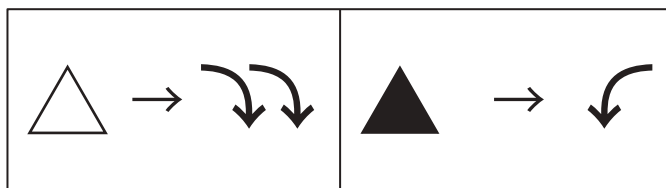


おうちで、やろう。

Study at home. 小学校受験の家庭学習教材

図形：回転62

△は右に2回、▲は左に1回倒します。上の四角を△と▲の数だけ倒すと、下の3つのうちどの図になりますか。正しいものを1つ選んで線で結びましょう。



Problem 1: A square with a circle in the top-left corner and a diagonal line from the top-left to the bottom-right. To its right are 4 triangles: 2 white (pointing up) and 2 black (pointing up).

Options:

- Option 1: Square with circle in bottom-left, diagonal from top-left to bottom-right.
- Option 2: Square with circle in top-right, diagonal from top-left to bottom-right.
- Option 3: Square with circle in bottom-right, diagonal from top-left to bottom-right.

Problem 2: A square with a white triangle pointing up and a black triangle pointing down, both overlapping. A diagonal line from top-left to bottom-right is also present. To its right are 6 triangles: 3 white (pointing up) and 3 black (pointing up).

Options:

- Option 1: Square with white triangle pointing up, black triangle pointing down, diagonal from top-left to bottom-right.
- Option 2: Square with white triangle pointing up, black triangle pointing down, diagonal from top-right to bottom-left.
- Option 3: Square with white triangle pointing up, black triangle pointing down, diagonal from top-left to bottom-right.

※1. このプリントは、しながわ・目黒こどもスクールのウェブサイトからダウンロードできます。無断複写・引用はご遠慮ください。
 ※2. このプリントを活用したオンライン授業のスケジュールは、しながわ・目黒こどもスクールのウェブサイトでご確認ください。

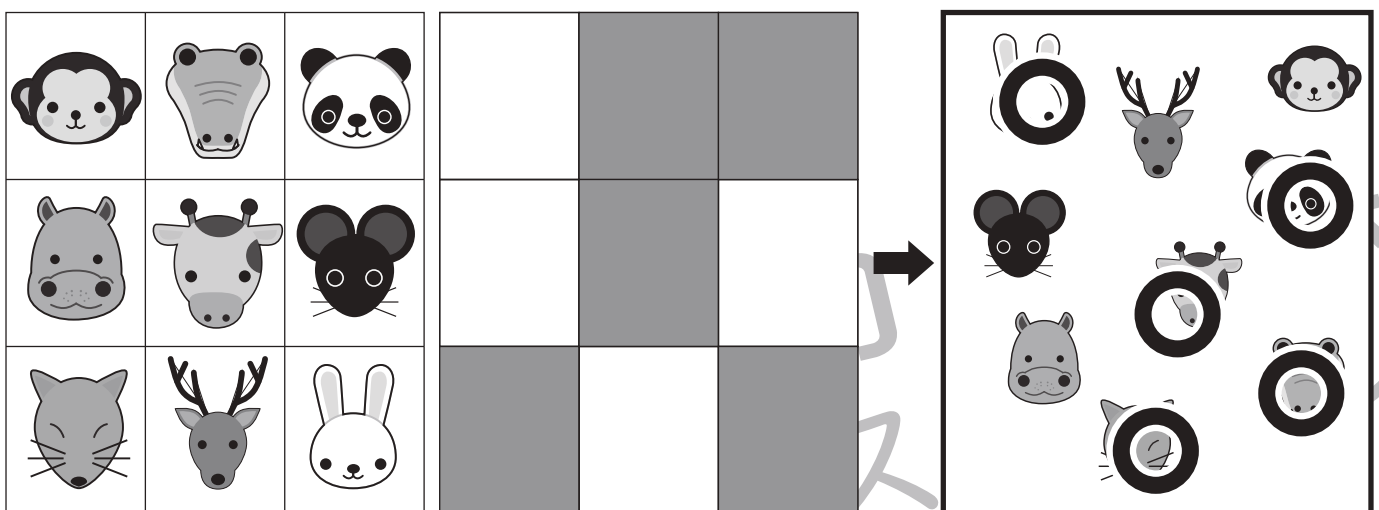
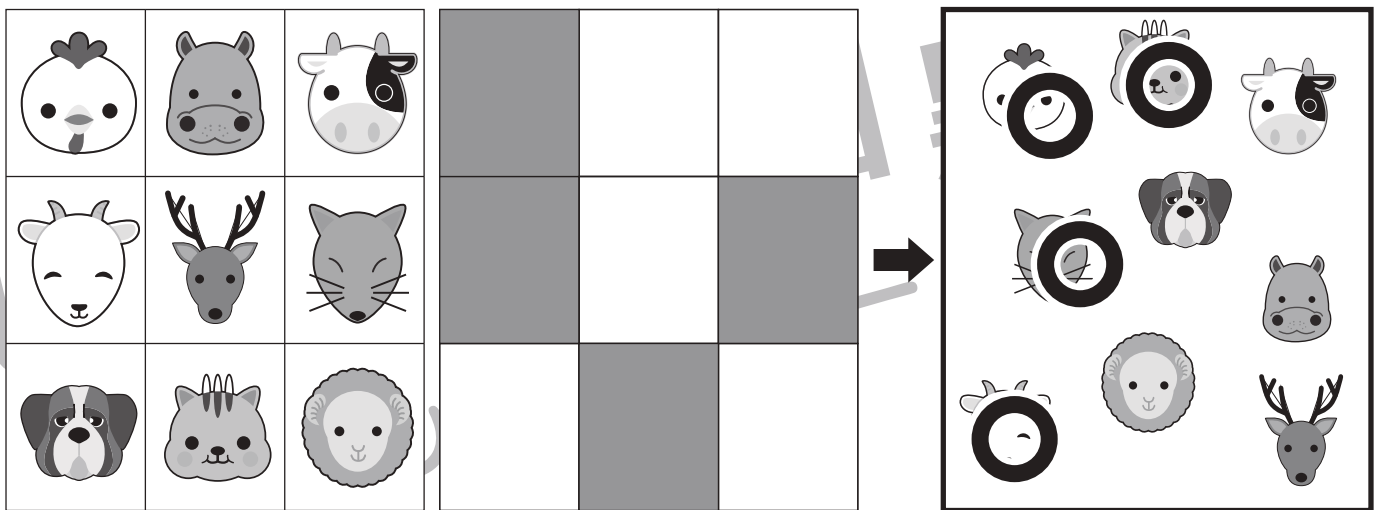
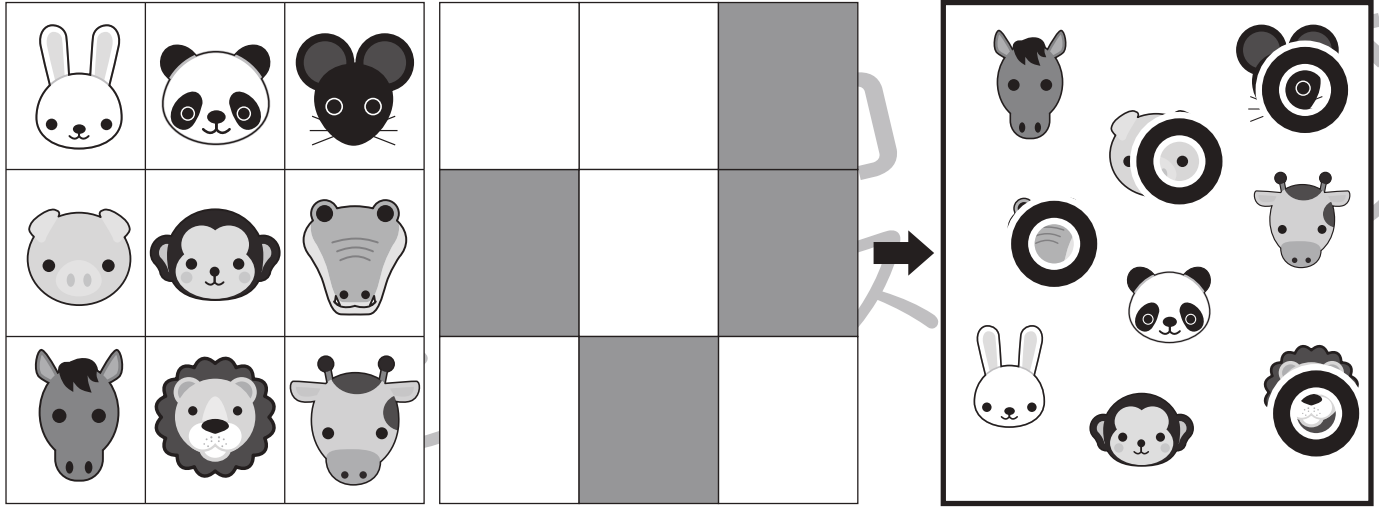


おうちで、やろう。

Study at home. 小学校受験の家庭学習教材

図形：重ね 45

左の動物が描いてある四角に、右の色が塗ってある透明な四角の板を重ねた時、色が塗ってあるマスに隠れる動物を右の四角から選んで○をつけます。



※1. このプリントは、しながわ・目黒こどもスクールのウェブサイトでダウンロードができます。無断複写・引用はご遠慮ください。
 ※2. このプリントを活用したオンライン授業のスケジュールは、しながわ・目黒こどもスクールのウェブサイトでご確認ください。





おうちで、やろう。

Study at home. 小学校受験の家庭学習教材

処理：計数 20

上の四角の中の絵の数をかぞえて、その数だけ下の同じ絵の右に○をかきます。
この問題はスピードを意識して取り組む練習をしてみましょう。(1分～1分30秒)



※1. このプリントは、しながわ・目黒こどもスクールのウェブサイトでダウンロードができます。無断複写・引用はご遠慮ください。
※2. このプリントを活用したオンライン授業のスケジュールは、しながわ・目黒こどもスクールのウェブサイトでご確認ください。







おうちで、やろう。

Study at home. 小学校受験の家庭学習教材

処理：計数 21


上の四角の中の形の数をかぞえて、その数だけ下の同じ絵の右に○をかきます。
形は重なっているものもありますので、しっかり探しましょう。



○×10



○×7



○×8



○×7

※1. このプリントは、しながわ・目黒こどもスクールのウェブサイトでダウンロードができます。無断複写・引用はご遠慮ください。
※2. このプリントを活用したオンライン授業のスケジュールは、しながわ・目黒こどもスクールのウェブサイトでご確認ください。



おうちで、やろう。

Study at home. 小学校受験の家庭学習教材

図形：点図形 69

左のお手本には黒い線と点線があります。このうち黒い線だけを右にかきます。

※1. このプリントは、しながわ・目黒こどもスクールのウェブサイトでダウンロードができます。無断複写・引用はご遠慮ください。
 ※2. このプリントを活用したオンライン授業のスケジュールは、しながわ・目黒こどもスクールのウェブサイトでご確認ください。