



おうちで、やろう。

Study at home. 小学校受験の家庭学習教材


指示の聞き取り 28

いろいろな国旗が並んでいます。①～⑤の問題に答えましょう。

①日本の国旗に○をつけます。 ②上から3段目の真ん中の国旗に♡(ハート)をつけます。

③上から5段目の中で星が1つだけある国旗に□をつけます。 ④右端の列の中から星が5つある国旗に◎をつけます。

⑤左から2列目の中から月と星がある国旗に△をつけます。



※1. このプリントは、しながわ・目黒こどもスクールのウェブサイトでダウンロードができます。無断複写・引用はご遠慮ください。

※2. このプリントを活用したオンライン授業のスケジュールは、しながわ・目黒こどもスクールのウェブサイトでご確認ください。

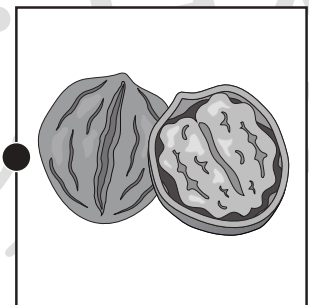
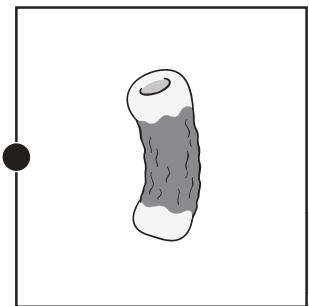
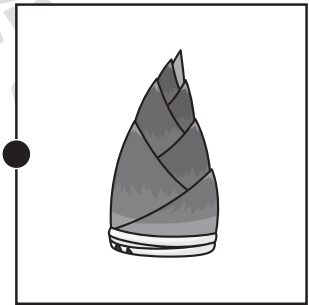


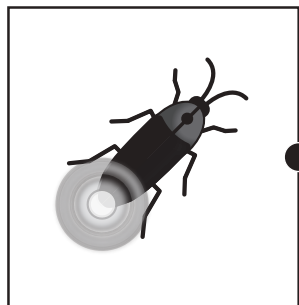

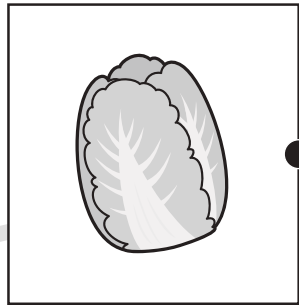




おうちで、やろう。

Study at home. 小学校受験の家庭学習教材

言語：音の理解 50

左の絵の 2 番目の音と右の絵のはじめの音が同じもの同士を線で結びます。



※1. このプリントは、しながわ・目黒こどもスクールのウェブサイトでダウンロードができます。無断複写・引用はご遠慮ください。
※2. このプリントを活用したオンライン授業のスケジュールは、しながわ・目黒こどもスクールのウェブサイトでご確認ください。





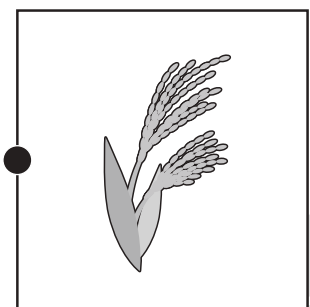
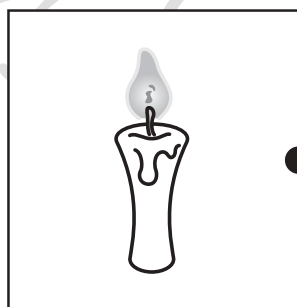




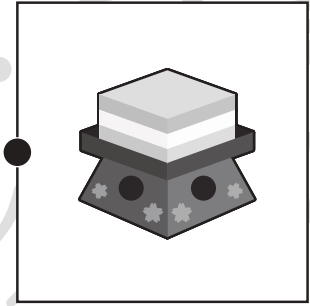



おうちで、やろう。

Study at home. 小学校受験の家庭学習教材

言語：音の理解 51

左の絵のはじめの音と右の絵の 2 番目の音が同じもの同士を線で結びます。



※1. このプリントは、しながわ・目黒こどもスクールのウェブサイトでダウンロードができます。無断複写・引用はご遠慮ください。
※2. このプリントを活用したオンライン授業のスケジュールは、しながわ・目黒こどもスクールのウェブサイトでご確認ください。




おうちで、やろう。

Study at home. 小学校受験の家庭学習教材

言語：言葉5

それぞれの言葉にぴったり合う絵をみつけてそれぞれの記号をつけます。

- ①「ブーブー」に合う絵を見つけて○をつけます。
- ②「ガオー」に合う絵を見つけて△をつけます。
- ③「パウーン」に合う絵を見つけて◎をつけます。
- ④「カーカー」に合う絵を見つけて×をつけます。
- ⑤「ニャーニャー」に合う絵を見つけて□をつけます。
- ⑥「ヒヒーン」に合う絵を見つけて/をつけます。



※1. このプリントは、しながわ・目黒こどもスクールのウェブサイトからダウンロードできます。無断複写・引用はご遠慮ください。

※2. このプリントを活用したオンライン授業のスケジュールは、しながわ・目黒こどもスクールのウェブサイトでご確認ください。



おうちで、やろう。

Study at home. 小学校受験の家庭学習教材

図形：鏡 32

左のお手本を真ん中の太い線の上に鏡を置いて見た時の見え方を考えます。鏡で移してみた時、灰色の場所のみ右の丸を塗ります。

※1. このプリントは、しながわ・目黒こどもスクールのウェブサイトでダウンロードができます。無断複写・引用はご遠慮ください。
 ※2. このプリントを活用したオンライン授業のスケジュールは、しながわ・目黒こどもスクールのウェブサイトでご確認ください。



おうちで、やろう。

Study at home. 小学校受験の家庭学習教材

図形：鏡 33

左のお手本を真ん中の太い線の上に鏡を置いて見た時の見え方を考えます。鏡で移してみた時、灰色の場所のみ右の丸を塗ります。

※1. このプリントは、しながわ・目黒こどもスクールのウェブサイトでダウンロードができます。無断複写・引用はご遠慮ください。
 ※2. このプリントを活用したオンライン授業のスケジュールは、しながわ・目黒こどもスクールのウェブサイトでご確認ください。



おうちで、やろう。

Study at home. 小学校受験の家庭学習教材

図形：鏡 34

左のお手本を真ん中の太い線の上に鏡を置いて見た時の見え方を考えます。鏡で移してみた時、灰色の場所のみ右の丸を塗ります。

※1. このプリントは、しながわ・目黒こどもスクールのウェブサイトでダウンロードができます。無断複写・引用はご遠慮ください。
 ※2. このプリントを活用したオンライン授業のスケジュールは、しながわ・目黒こどもスクールのウェブサイトでご確認ください。



おうちで、やろう。

Study at home. 小学校受験の家庭学習教材

図形：複合 2

左の3つの透明なマスには○(白丸)と矢印が描かれています。3枚を重ねた時に見える矢印の順番に○(白丸)が進んだ時、最後に到着するマスを見つけて○を付けましょう。

※1. このプリントは、しながわ・目黒こどもスクールのウェブサイトでダウンロードができます。無断複写・引用はご遠慮ください。

※2. このプリントを活用したオンライン授業のスケジュールは、しながわ・目黒こどもスクールのウェブサイトでご確認ください。



おうちで、やろう。

Study at home. 小学校受験の家庭学習教材

図形：複合 3

左の3つの透明なマスには○(白丸)と矢印が描かれています。3枚を重ねた時に見える矢印の順番に○(白丸)が進んだ時、最後に到着するマスを見つけて○を付けましょう。

答えは○のみ描いてあれば正解です。

※1. このプリントは、しながわ・目黒こどもスクールのウェブサイトでダウンロードができます。無断複写・引用はご遠慮ください。

※2. このプリントを活用したオンライン授業のスケジュールは、しながわ・目黒こどもスクールのウェブサイトでご確認ください。




おうちで、やろう。

Study at home. 小学校受験の家庭学習教材

処理：計数 22

上の四角の中の絵の数をかぞえて、その数だけ下の同じ絵の右に○をかきます。
この問題はスピードを意識して取り組む練習をしてみましょう。(1分～1分30秒)



※1. このプリントは、しながわ・目黒こどもスクールのウェブサイトでダウンロードができます。無断複写・引用はご遠慮ください。
※2. このプリントを活用したオンライン授業のスケジュールは、しながわ・目黒こどもスクールのウェブサイトでご確認ください。