

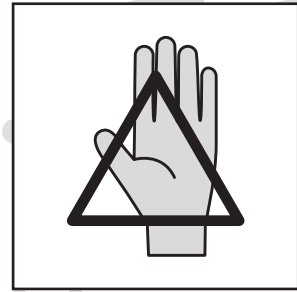




おうちで、やろう。

Study at home. 小学校受験の家庭学習教材

常識：生活 7

下の四角の中の食べ物を食べる時に使う道具を考えます。箸で食べるものには口、スプーン・フォーク・ナイフで食べるものには○、手で食べるものには△をつけます。



※1. このプリントは、しながわ・目黒こどもスクールのウェブサイトでダウンロードができます。無断複写・引用はご遠慮ください。
 ※2. このプリントを活用したオンライン授業のスケジュールは、しながわ・目黒こどもスクールのウェブサイトでご確認ください。

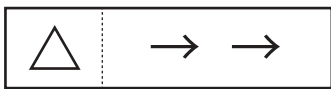


おうちで、やろう。

Study at home. 小学校受験の家庭学習教材

図形：移動 44

上の四角がお手本です。このお手本の○を上へ1マス、△を右へ2マス、●を左へ3マス動かします。動かした後の場所を考えて、下の四角の中にそれぞれの記号をかきます。



						●	
		△					
	○				●		○
	△						

			●				
	○			△			○
		●					
			△				

		△				●	
				●	○		
○				●			
		△		△			○

			●	△	○		
○	●						
	●						○
					△		△

						●	
△			●				
			△	○			○
	○	△					

		●					
●		△		○			○
	○				△		
				△			

	△		●		○		
△				○			●
○				△		●	

					○		
●			△	○			
○		△		●			
			●				△

					△		
○		○					
			●			○	
△				△			●

○		○					
					○	△	
●							
		△		●			△

	△				●		
				●		○	
		△	●		○		
	○			△	●	○	

		●	△			○	
	●				○		
●	○			△		○	
		●					△

※1. このプリントは、しながわ・目黒こどもスクールのウェブサイトでダウンロードができます。無断複写・引用はご遠慮ください。
※2. このプリントを活用したオンライン授業のスケジュールは、しながわ・目黒こどもスクールのウェブサイトでご確認ください。

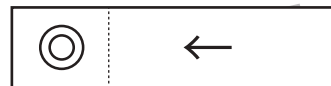
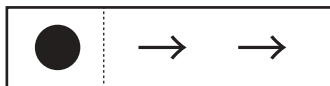
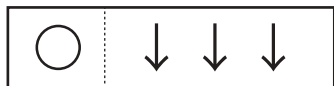


おうちで、やろう。

Study at home. 小学校受験の家庭学習教材

図形：移動 45

左の四角がお手本です。このお手本の○を下へ3マス、△を上へ1マス、●を右へ2マス、◎を左へ1マス動かします。動かした後の場所を考えて、右の四角の中にそれぞれの記号をかきます。



		○		
	●			○
		◎		
△				
●				
				◎
	△			

				●
△	◎			
		○		
		●		○
	△		◎	

		●		
○			○	
		△		◎
	●			
●	◎			
	△			

				●
		△		
				◎
				●
○			○	
		●		
		△		

				○
	△			
	○		◎	
△		◎		
●				
	△			
			◎	
	●			

	△			
△		◎		
	◎			○
	△	●		
	○			
			◎	
				●

			◎	
		●		
○	◎			○
			△	
	●	○		
	△		◎	
●				
	△			

		◎		
				●
◎			△	
	△		●	
○		◎		○
	△	●		
		○		

※1. このプリントは、しながわ・目黒こどもスクールのウェブサイトでダウンロードができます。無断複写・引用はご遠慮ください。
※2. このプリントを活用したオンライン授業のスケジュールは、しながわ・目黒こどもスクールのウェブサイトでご確認ください。





おうちで、やろう。

Study at home. 小学校受験の家庭学習教材

推理：弓矢 1

四角の中の風船を矢を放って割ります。左の太い四角の矢印の数だけその向きに矢を放つとすべての風船を割ることができます。矢の進む道を考えて線を描きます。

→

→

→

↓

→

↙

※1. このプリントは、しながわ・目黒こどもスクールのウェブサイトでダウンロードができます。無断複写・引用はご遠慮ください。
 ※2. このプリントを活用したオンライン授業のスケジュールは、しながわ・目黒こどもスクールのウェブサイトでご確認ください。



おうちで、やろう。

Study at home. 小学校受験の家庭学習教材

推理：弓矢 2

四角の中の風船を矢を放って割ります。左の太い四角の矢印の数だけその向きに矢を放つとすべての風船を割ることができます。矢の進む道を考えて線を描きます。

※1. このプリントは、しながわ・目黒こどもスクールのウェブサイトでダウンロードができます。無断複写・引用はご遠慮ください。

※2. このプリントを活用したオンライン授業のスケジュールは、しながわ・目黒こどもスクールのウェブサイトでご確認ください。

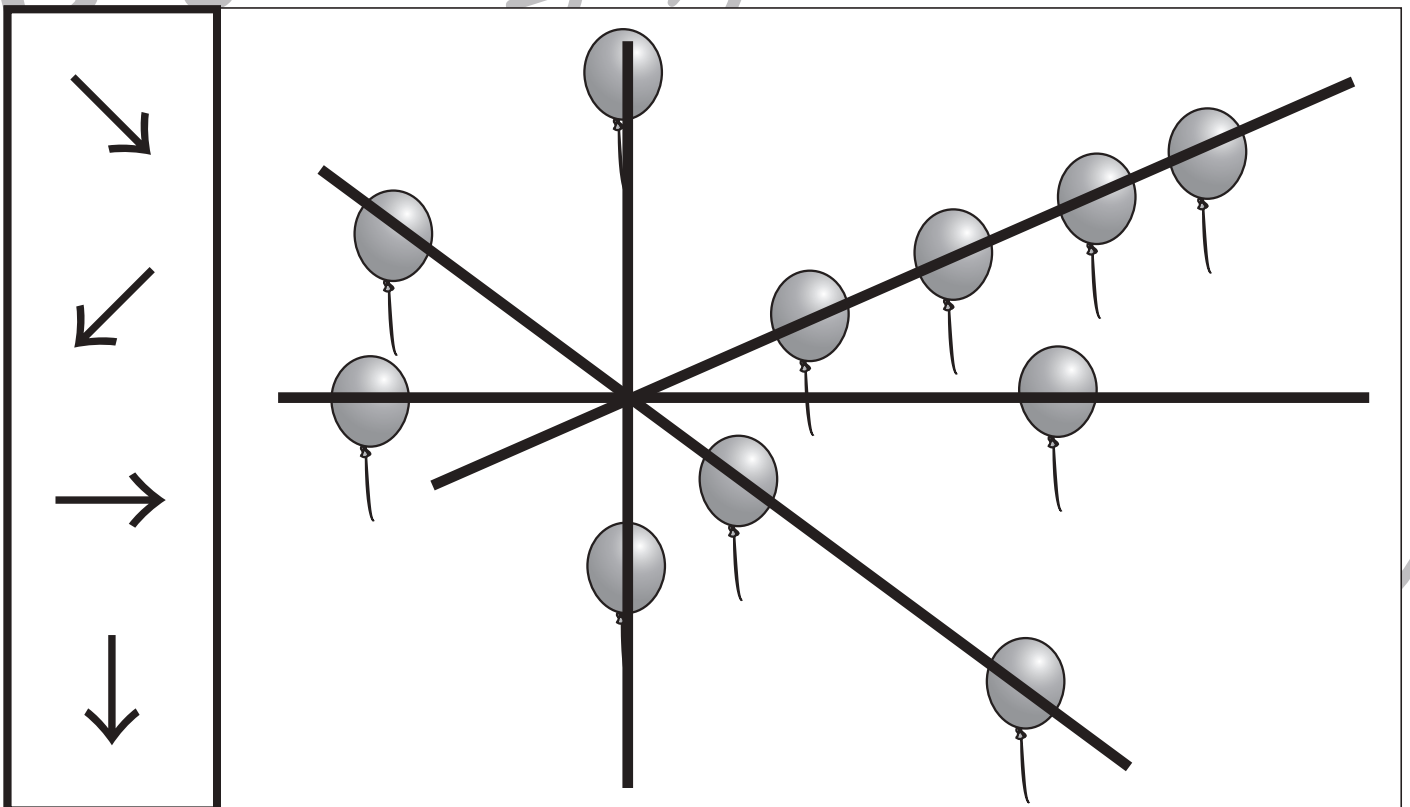
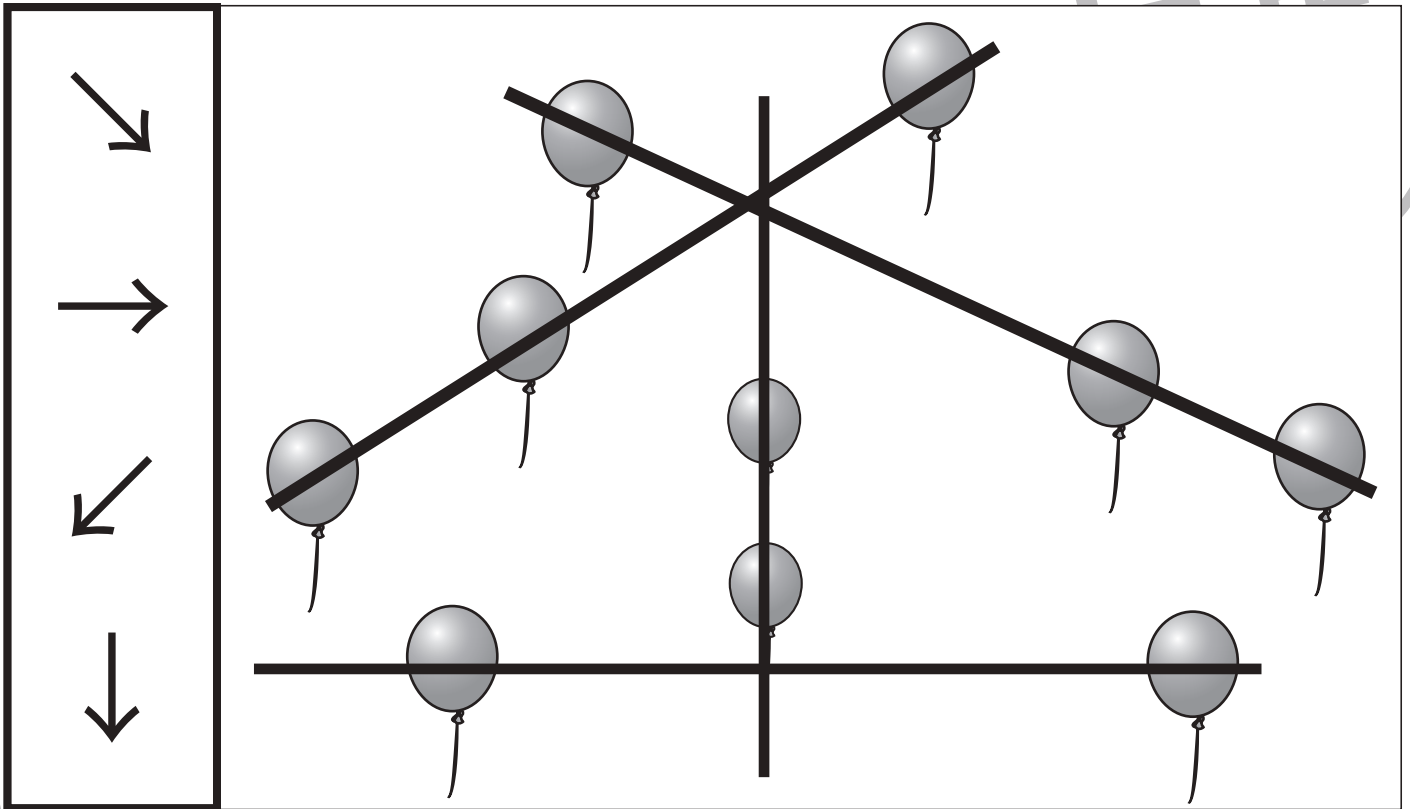


おうちで、やろう。

Study at home. 小学校受験の家庭学習教材

推理：弓矢 3

四角の中の風船を矢を放って割ります。左の太い四角の矢印の数だけその向きに矢を放つとすべての風船を割ることができます。矢の進む道を考えて線を描きます。



※1. このプリントは、しながわ・目黒こどもスクールのウェブサイトでダウンロードができます。無断複写・引用はご遠慮ください。

※2. このプリントを活用したオンライン授業のスケジュールは、しながわ・目黒こどもスクールのウェブサイトでご確認ください。



おうちで、やろう。

Study at home. 小学校受験の家庭学習教材

推理：重さ 20

左の四角の中が約束で2つのものをシーソーで重さ比べをした様子です。真ん中の四角の中のシーソーは2つのものの数を変えて重さ比べをした様子です。空いているところに入る野菜の数が正しい四角に○をつけます。

※1. このプリントは、しながわ・目黒こどもスクールのウェブサイトでダウンロードができます。無断複写・引用はご遠慮ください。

※2. このプリントを活用したオンライン授業のスケジュールは、しながわ・目黒こどもスクールのウェブサイトでご確認ください。



おうちで、やろう。

Study at home. 小学校受験の家庭学習教材

推理：重さ 21

左の四角の中が約束で2つのものをシーソーで重さ比べをした様子です。真ん中の四角の中のシーソーは2つのものの数を変えて重さ比べをした様子です。空いているところに入る野菜の数が正しい四角に○をつけます。

※1. このプリントは、しながわ・目黒こどもスクールのウェブサイトからダウンロードできます。無断複写・引用はご遠慮ください。

※2. このプリントを活用したオンライン授業のスケジュールは、しながわ・目黒こどもスクールのウェブサイトでご確認ください。



おうちで、やろう。

Study at home. 小学校受験の家庭学習教材

数量：合わせた数 17

横に並んだ4つの四角の中の果物のうち、2つの四角の中の数合わせると一番多くなる組み合わせを見つけて2つの四角に○をつけます。

--	--	--	--

--	--	--	--

--	--	--	--

--	--	--	--

※1. このプリントは、しながわ・目黒こどもスクールのウェブサイトでダウンロードができます。無断複写・引用はご遠慮ください。
 ※2. このプリントを活用したオンライン授業のスケジュールは、しながわ・目黒こどもスクールのウェブサイトでご確認ください。