







おうちで、やろう。

















Study at home. 小学校受験の家庭学習教材

言語：音の数 22

上の太い四角の中の動物の音の数を考えます。これがお手本の数です。

下の四角の中の動物が上のどの動物と同じ音の数なのかを考えて、お手本の動物の下にある記号をつけます。

			
○	△	×	◎

※1. このプリントは、しながわ・目黒こどもスクールのウェブサイトからダウンロードできます。無断複写・引用はご遠慮ください。

※2. このプリントを活用したオンライン授業のスケジュールは、しながわ・目黒こどもスクールのウェブサイトでご確認ください。






















おうちで、やろう。

Study at home. 小学校受験の家庭学習教材

言語：音の数 23

上の太い四角の中の動物の音の数を考えます。これがお手本の数です。
それぞれのお手本の数より音の数が1つ多いものを見つけて、お手本の動物の下にある記号をつけます。

		
○	△	×

※1. このプリントは、しながわ・目黒こどもスクールのウェブサイトでダウンロードができます。無断複写・引用はご遠慮ください。

※2. このプリントを活用したオンライン授業のスケジュールは、しながわ・目黒こどもスクールのウェブサイトでご確認ください。






















おうちで、やろう。

Study at home. 小学校受験の家庭学習教材

言語：音の数 24

上の太い四角の中の動物の音の数を考えます。これがお手本の数です。
それぞれのお手本の数より音の数が1つ少ないものを見つけて、お手本の動物の下にある記号をつけます。

 ○	 △	 ×
--	--	--

※1. このプリントは、しながわ・目黒こどもスクールのウェブサイトからダウンロードできます。無断複写・引用はご遠慮ください。
※2. このプリントを活用したオンライン授業のスケジュールは、しながわ・目黒こどもスクールのウェブサイトでご確認ください。

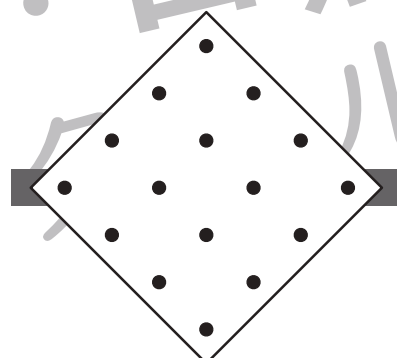
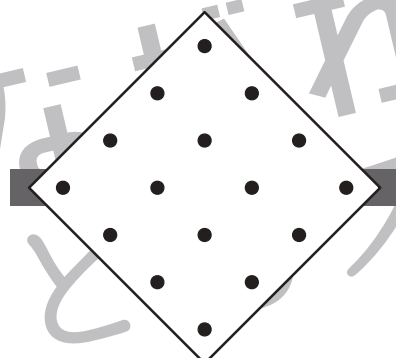
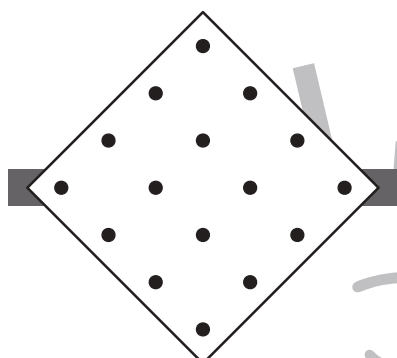
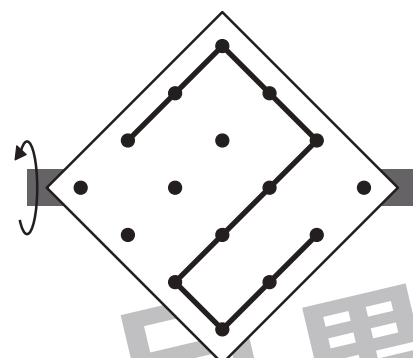
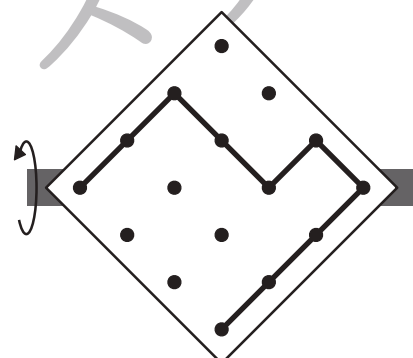
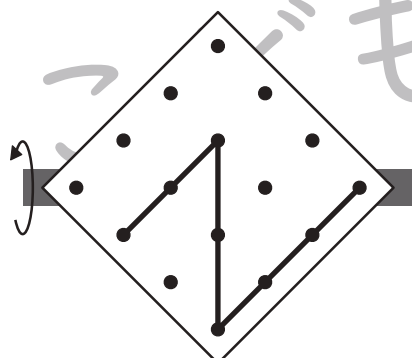
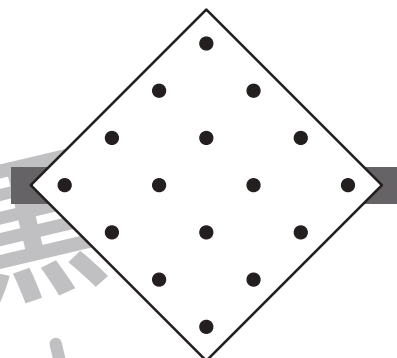
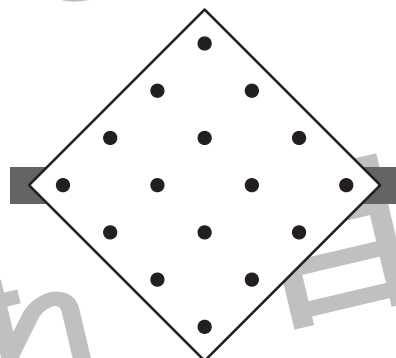
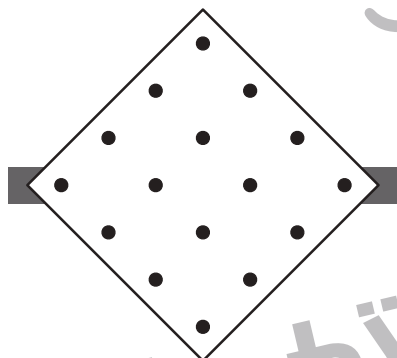
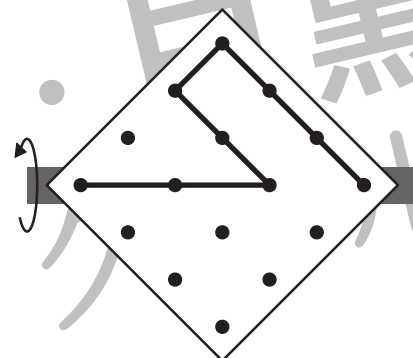
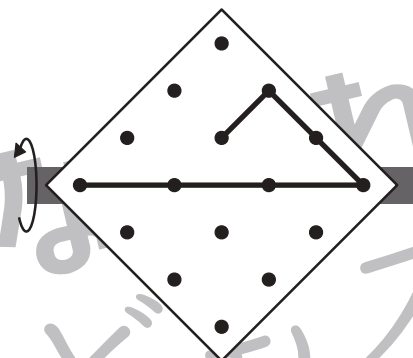
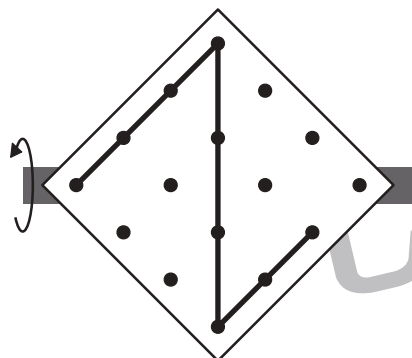


おうちで、やろう。

Study at home. 小学校受験の家庭学習教材

図形：反転 19

左のお手本を上への矢印の向きに回して裏返した時の見え方を考えて、下の四角にかきます。



※1. このプリントは、しながわ・目黒こどもスクールのウェブサイトでダウンロードができます。無断複写・引用はご遠慮ください。
※2. このプリントを活用したオンライン授業のスケジュールは、しながわ・目黒こどもスクールのウェブサイトでご確認ください。



おうちで、やろう。


Study at home. 小学校受験の家庭学習教材

数量：数の操作7

男の子と女の子がそれぞれが同じものを持っていますが、持っている数が違います。どちらかがいくつかあげると2人の数が同じになります。その数だけ真ん中の四角に○をかきます。

		
---	--	---

		
--	--	--

		
---	--	---

		
---	--	---

		
---	--	---

※1. このプリントは、しながわ・目黒こどもスクールのウェブサイトでダウンロードができます。無断複写・引用はご遠慮ください。

※2. このプリントを活用したオンライン授業のスケジュールは、しながわ・目黒こどもスクールのウェブサイトでご確認ください。





おうちで、やろう。

Study at home. 小学校受験の家庭学習教材

数量：数の操作 8

男の子と女の子がそれぞれが同じものを持っていますが、持っている数が違います。どちらかがいくつかあげると2人の数が同じになります。その数だけ真ん中の四角に○をかきます。

--	--	--

--	--	--

--	--	--

--	--	--

--	--	--

※1. このプリントは、しながわ・目黒こどもスクールのウェブサイトでダウンロードができます。無断複写・引用はご遠慮ください。

※2. このプリントを活用したオンライン授業のスケジュールは、しながわ・目黒こどもスクールのウェブサイトでご確認ください。

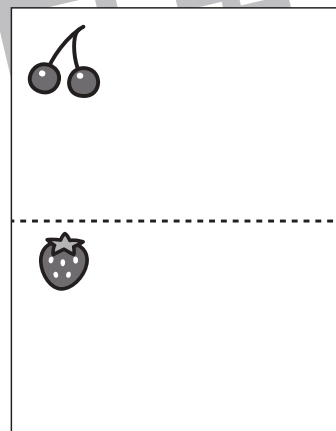

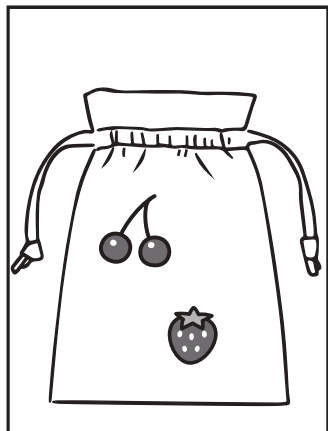
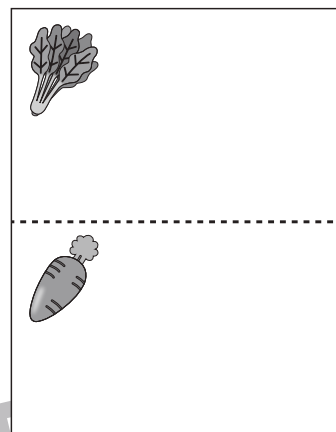

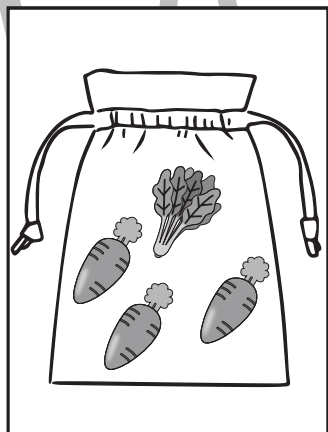
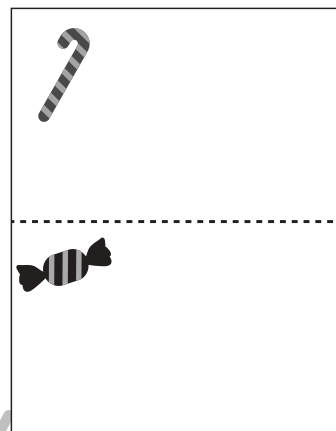


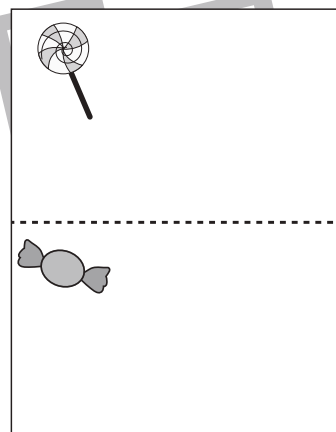
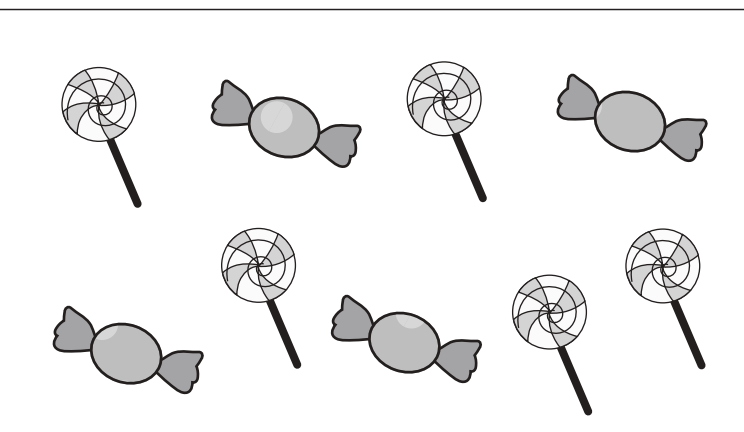
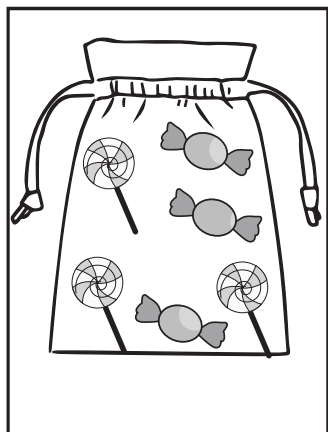


おうちで、やろう。

Study at home. 小学校受験の家庭学習教材

数量：余る数 9

左の四角の中の袋がお手本です。真ん中の大きな四角の中からお手本の袋をできるだけ作ります。
このとき、余るものはそれぞれいくつですか。その数だけ一番右の四角に○をかきます。余らない場合は何も書きません。



※1. このプリントは、しながわ・目黒こどもスクールのウェブサイトでダウンロードができます。無断複写・引用はご遠慮ください。
※2. このプリントを活用したオンライン授業のスケジュールは、しながわ・目黒こどもスクールのウェブサイトでご確認ください。






























おうちで、やろう。

Study at home. 小学校受験の家庭学習教材











処理：置き換え8






























上の太い四角の中が約束です。この約束通りに下のマスに記号をかきます。
この問題はスピードを意識して取り組む練習をしてみましょう。(それぞれ1分30秒～2分)

 → 1	 → 2	 → 3	 → 4	 → 5
---	---	---	--	---



 → 	 → 	 → 	 → 	 → 
---	---	---	--	---



※1. このプリントは、しながわ・目黒こどもスクールのウェブサイトでダウンロードができます。無断複写・引用はご遠慮ください。
 ※2. このプリントを活用したオンライン授業のスケジュールは、しながわ・目黒こどもスクールのウェブサイトでご確認ください。



おうちで、やろう。

Study at home. 小学校受験の家庭学習教材

巧緻性：ちぎり 18

- ①点線をはさみで切ります。
- ②絵の太い線をちぎります。



※1. このプリントは、しながわ・目黒こどもスクールのウェブサイトでダウンロードができます。無断複写・引用はご遠慮ください。
※2. このプリントを活用したオンライン授業のスケジュールは、しながわ・目黒こどもスクールのウェブサイトでご確認ください。








おうちで、やろう。

Study at home. 小学校受験の家庭学習教材

巧緻性：ちぎり 19

- ①点線をはさみで切ります。
- ②絵の太い線をちぎります。



※1. このプリントは、しながわ・目黒こどもスクールのウェブサイトでダウンロードができます。無断複写・引用はご遠慮ください。
※2. このプリントを活用したオンライン授業のスケジュールは、しながわ・目黒こどもスクールのウェブサイトでご確認ください。

