





# おうちで、やろう。

Study at home. 小学校受験の家庭学習教材

言語：音の数 22

上の太い四角の中の動物の音の数を考えます。これがお手本の数です。

下の四角の中の動物が上のどの動物と同じ音の数なのかを考えて、お手本の動物の下にある記号をつけます。



※1. このプリントは、しながわ・目黒こどもスクールのウェブサイトからダウンロードできます。無断複写・引用はご遠慮ください。

※2. このプリントを活用したオンライン授業のスケジュールは、しながわ・目黒こどもスクールのウェブサイトでご確認ください。





# おうちで、やろう。

Study at home. 小学校受験の家庭学習教材

言語：音の数 23

上の太い四角の中の動物の音の数を考えます。これがお手本の数です。  
それぞれのお手本の数より音の数が1つ多いものを見つけて、お手本の動物の下にある記号をつけます。



※1. このプリントは、しながわ・目黒こどもスクールのウェブサイトからダウンロードできます。無断複写・引用はご遠慮ください。

※2. このプリントを活用したオンライン授業のスケジュールは、しながわ・目黒こどもスクールのウェブサイトでご確認ください。





















# おうちで、やろう。

Study at home. 小学校受験の家庭学習教材

言語：音の数 24

上の太い四角の中の動物の音の数を考えます。これがお手本の数です。  
それぞれのお手本の数より音の数が1つ少ないものを見つけて、お手本の動物の下にある記号をつけます。

 ○	 △	 ×
--	--	--

※1. このプリントは、しながわ・目黒こどもスクールのウェブサイトからダウンロードできます。無断複写・引用はご遠慮ください。  
※2. このプリントを活用したオンライン授業のスケジュールは、しながわ・目黒こどもスクールのウェブサイトでご確認ください。

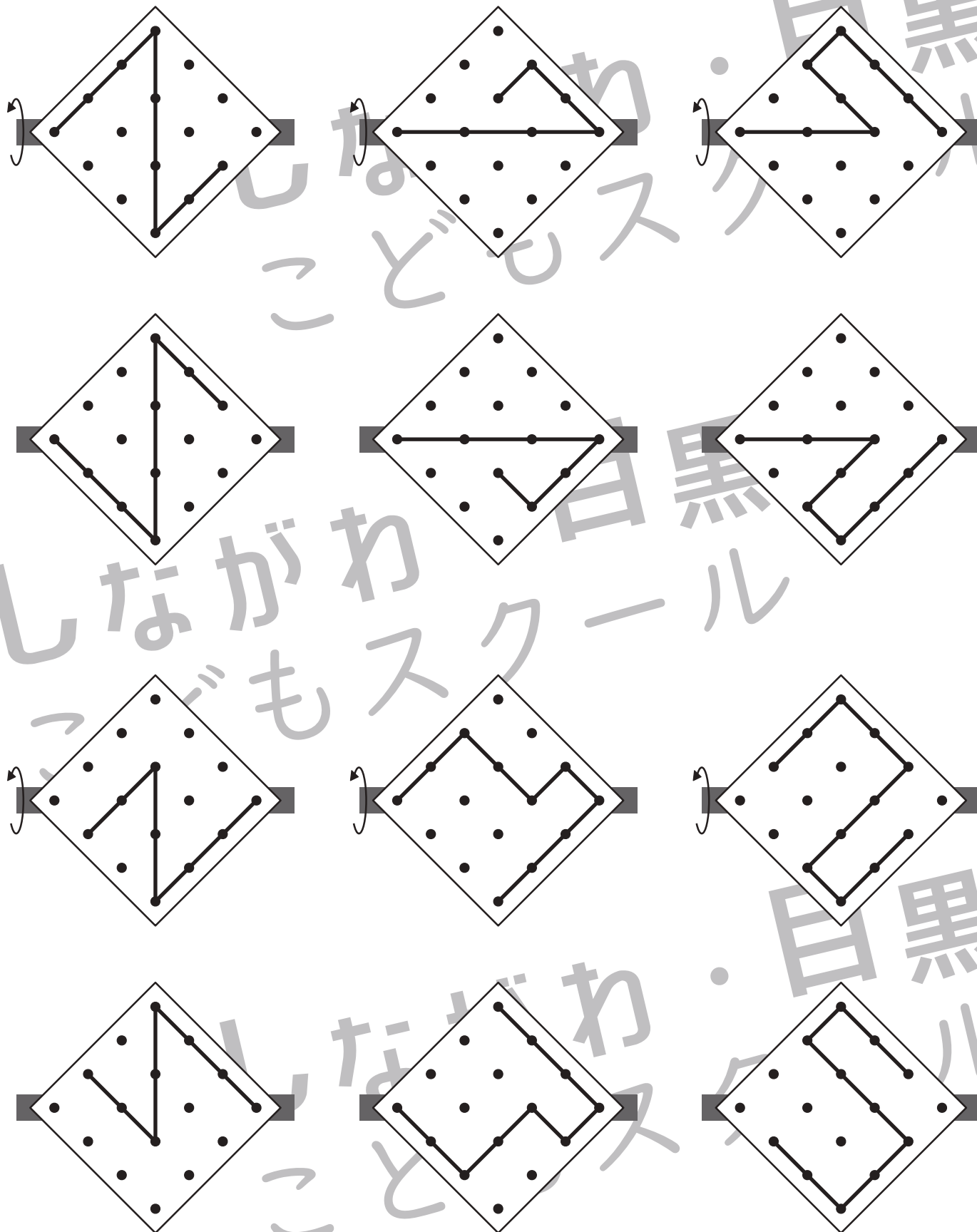


# おうちで、やろう。

Study at home. 小学校受験の家庭学習教材

## 図形：反転 19

左のお手本を上矢印の向きに回して裏返した時の見え方を考えて、下の四角にかきます。



※1. このプリントは、しながわ・目黒こどもスクールのウェブサイトでダウンロードができます。無断複写・引用はご遠慮ください。  
 ※2. このプリントを活用したオンライン授業のスケジュールは、しながわ・目黒こどもスクールのウェブサイトでご確認ください。



# おうちで、やろう。

Study at home. 小学校受験の家庭学習教材

数量：数の操作7

男の子と女の子がそれぞれが同じものを持っていますが、持っている数が違います。どちらかがいくつあげると2人の数が同じになります。その数だけ真ん中の四角に○をかきます。

	$\bigcirc \times 1$	
--	---------------------	--

	$\bigcirc \times 1$	
--	---------------------	--

	$\bigcirc \times 3$	
--	---------------------	--

	$\bigcirc \times 2$	
--	---------------------	--

	$\bigcirc \times 3$	
--	---------------------	--

※1. このプリントは、しながわ・目黒こどもスクールのウェブサイトでダウンロードができます。無断複写・引用はご遠慮ください。

※2. このプリントを活用したオンライン授業のスケジュールは、しながわ・目黒こどもスクールのウェブサイトでご確認ください。





# おうちで、やろう。

Study at home. 小学校受験の家庭学習教材

## 数量：数の操作 8

男の子と女の子がそれぞれが同じものを持っていますが、持っている数が違います。どちらかがいくつあげると2人の数が同じになります。その数だけ真ん中の四角に○をかきます。

	$\bigcirc \times 2$	
--	---------------------	--

	$\bigcirc \times 1$	
--	---------------------	--

	$\bigcirc \times 2$	
--	---------------------	--

	$\bigcirc \times 1$	
--	---------------------	--

	$\bigcirc \times 2$	
--	---------------------	--

※1. このプリントは、しながわ・目黒こどもスクールのウェブサイトでダウンロードができます。無断複写・引用はご遠慮ください。

※2. このプリントを活用したオンライン授業のスケジュールは、しながわ・目黒こどもスクールのウェブサイトでご確認ください。



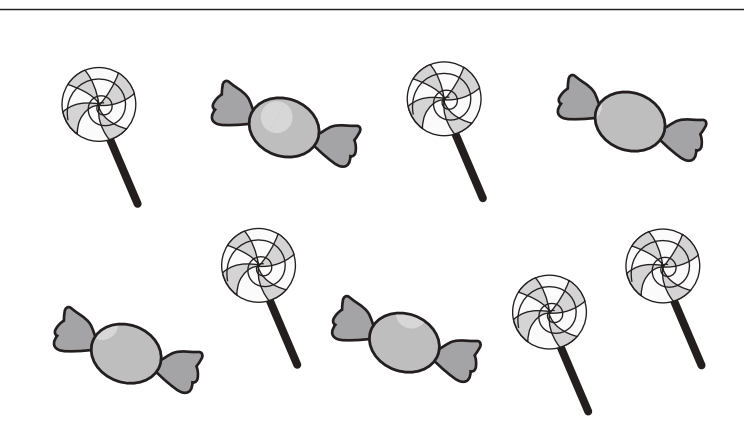
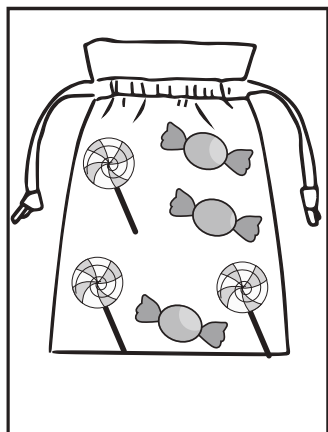



# おうちで、やろう。

Study at home. 小学校受験の家庭学習教材

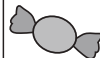
数量：余る数 9



左の四角の中の袋がお手本です。真ん中の大きな四角の中からお手本の袋をできるだけ作ります。  
このとき、余るものはそれぞれいくつですか。その数だけ一番右の四角に○をかきます。余らない場合は何も書きません。




 ○ × 2


---


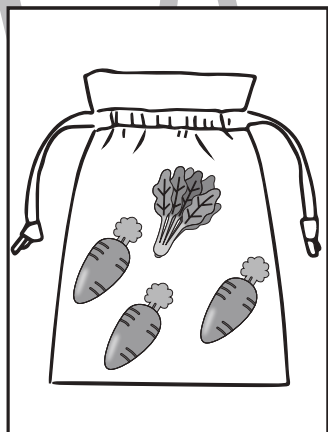
 ○ × 1




 ○ × 2


---


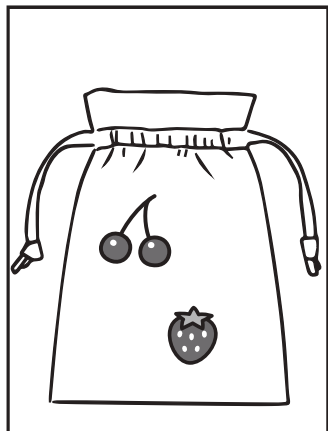
 ○ × 2




 ○ × 1


---

 ○ × 1



 ○ × 4

---



※1. このプリントは、しながわ・目黒こどもスクールのウェブサイトでダウンロードができます。無断複写・引用はご遠慮ください。  
※2. このプリントを活用したオンライン授業のスケジュールは、しながわ・目黒こどもスクールのウェブサイトでご確認ください。





# おうちで、やろう。



Study at home. 小学校受験の家庭学習教材

処理：置き換え8

上の太い四角の中が約束です。この約束通りに下のマスに記号をかきます。  
この問題はスピードを意識して取り組む練習をしてみましょう。(それぞれ1分30秒～2分)



1		3			2		5		3			2		
	4		5	2	1		3		5	1		4	3	
2		4				5		1		5		2		4




※1. このプリントは、しながわ・目黒こどもスクールのウェブサイトでダウンロードができます。無断複写・引用はご遠慮ください。  
 ※2. このプリントを活用したオンライン授業のスケジュールは、しながわ・目黒こどもスクールのウェブサイトでご確認ください。