



# おうちで、やろう。

Study at home. 小学校受験の家庭学習教材

## 指示の聞き取り 29

それぞれの設問に答えましょう。指示は1度ですべて読み上げます。しっかり聞いて取り組みましょう。

①鉛筆で左から右へ向かって×→○→△の順番で3回かきます。枠の中に入るように大きさにも注意しましょう。

②鉛筆で左から右へ向かって○→○→×の順番で3回かきます。枠の中に入るように大きさにも注意しましょう。

③鉛筆で左から右へ向かって×→□→×の順番で3回かきます。枠の中に入るように大きさにも注意しましょう。


①



②



③



※1. このプリントは、しながわ・目黒こどもスクールのウェブサイトでダウンロードができます。無断複写・引用はご遠慮ください。

※2. このプリントを活用したオンライン授業のスケジュールは、しながわ・目黒こどもスクールのウェブサイトでご確認ください。


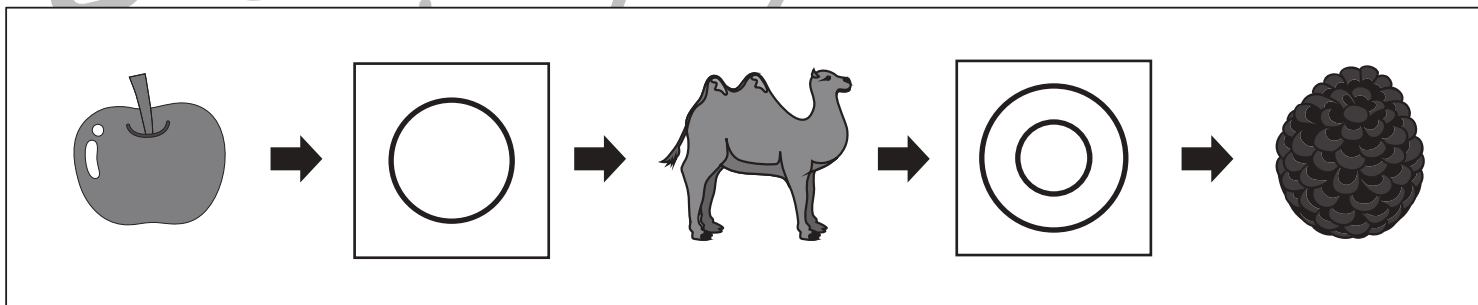
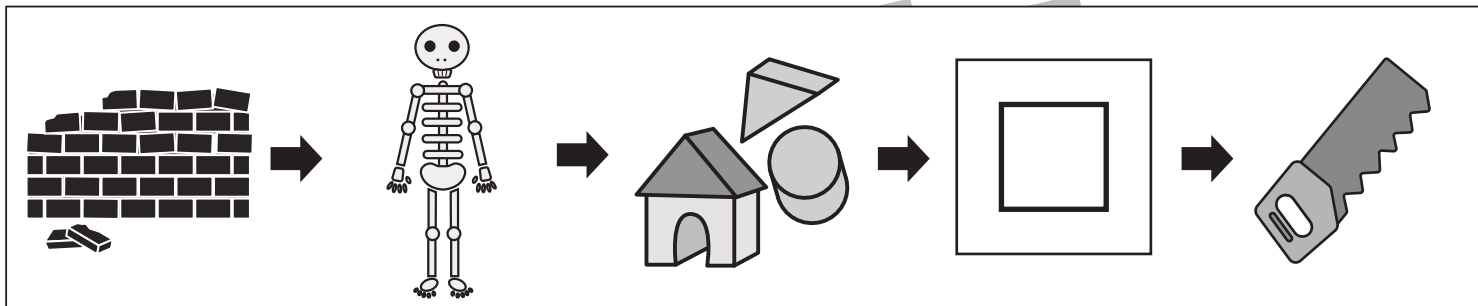
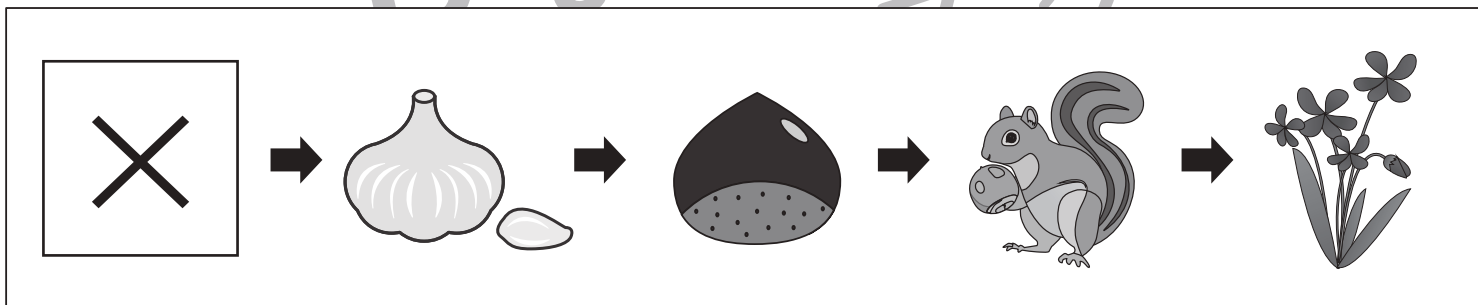



# おうちで、やろう。

Study at home. 小学校受験の家庭学習教材

言語：しりとり 13

左から順番にしりとりをします。記号のある四角の中に入る絵を下の四角の中から選んで、それぞれの四角の中の記号をつけます。



※1. このプリントは、しながわ・目黒こどもスクールのウェブサイトダウンロードができます。無断複写・引用はご遠慮ください。

※2. このプリントを活用したオンライン授業のスケジュールは、しながわ・目黒こどもスクールのウェブサイトでご確認ください。



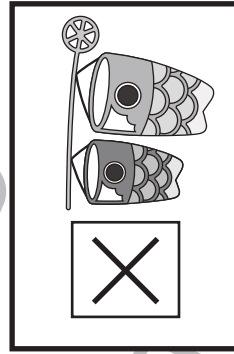
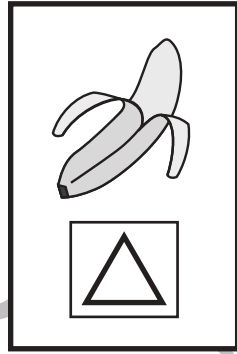



# おうちで、やろう。

Study at home. 小学校受験の家庭学習教材

言語：音の数 25

上の太い四角の中の絵の音の数と同じ数の絵を下の中から見つけて、それぞれの記号をつけます。



※1. このプリントは、しながわ・目黒こどもスクールのウェブサイトからダウンロードできます。無断複写・引用はご遠慮ください。  
※2. このプリントを活用したオンライン授業のスケジュールは、しながわ・目黒こどもスクールのウェブサイトでご確認ください。



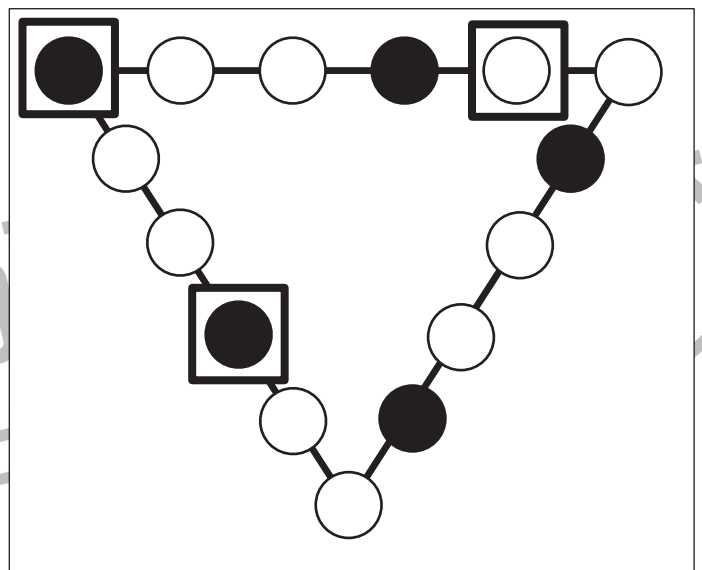
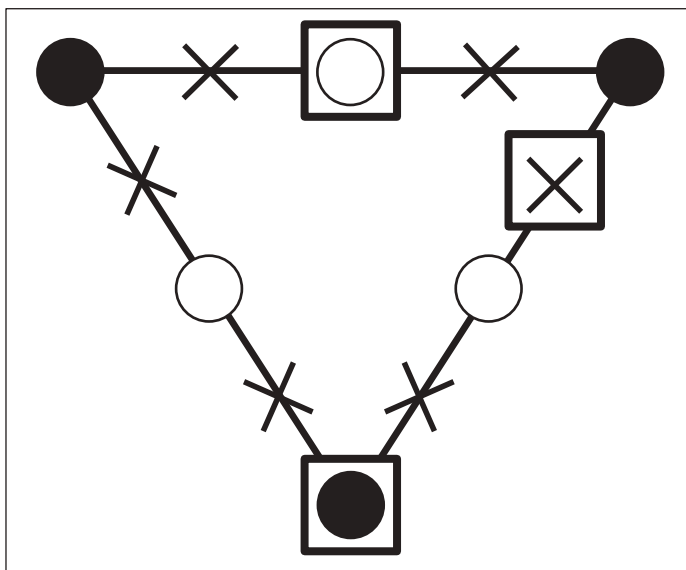
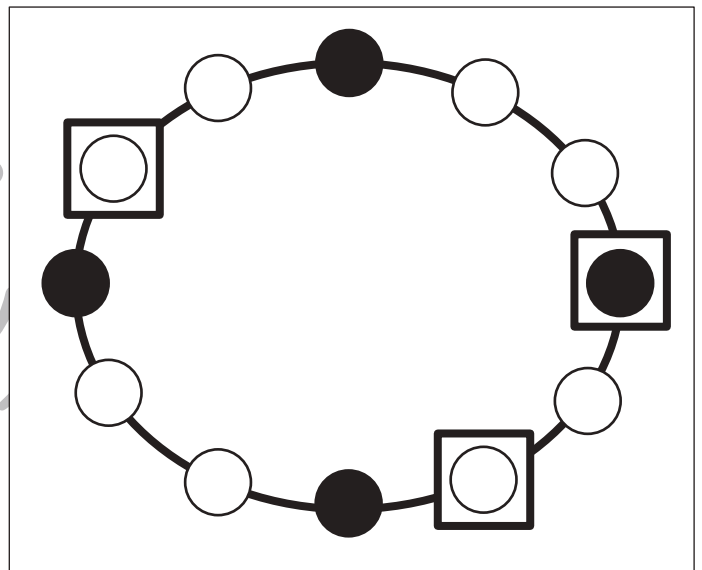
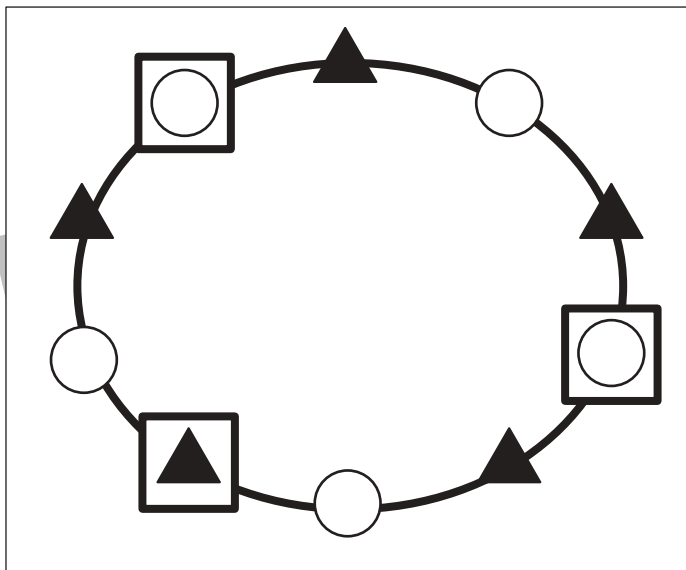
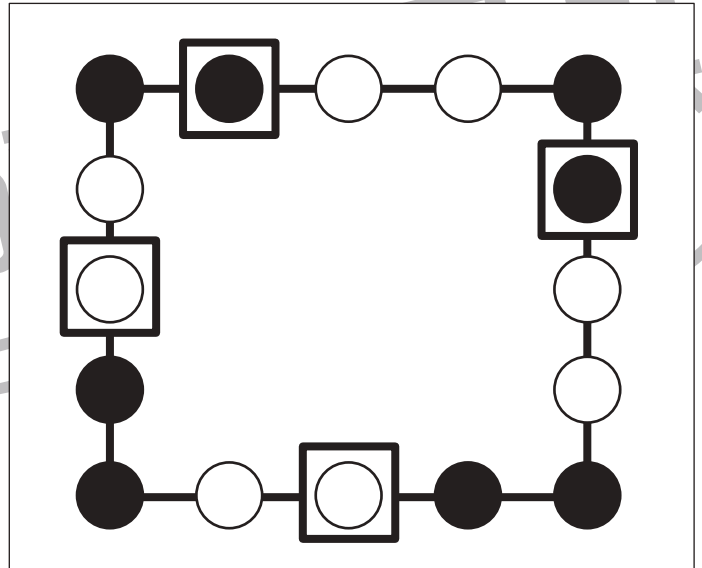
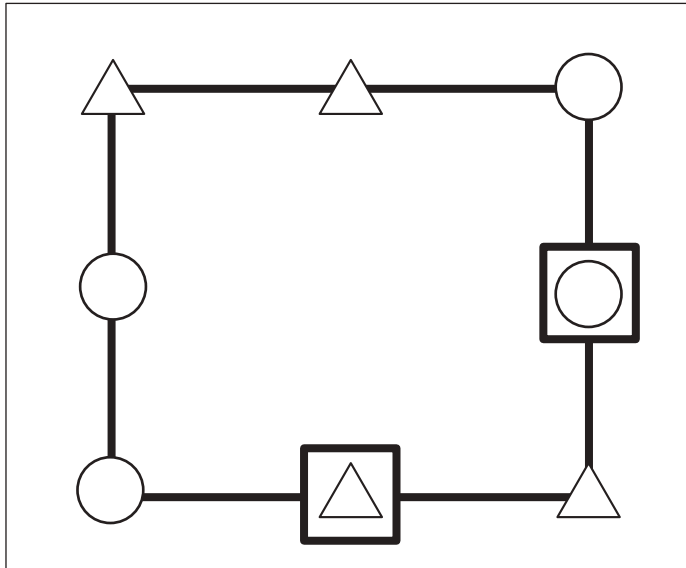


# おうちで、やろう。

Study at home. 小学校受験の家庭学習教材

## 推理：系列完成 26

それぞれの四角の中にはある順番で線の上に記号が並んでいます。どんな順番に並んでいるのかを考えて空いている四角に入る記号をかきます。



※1. このプリントは、しながわ・目黒こどもスクールのウェブサイトでダウンロードができます。無断複写・引用はご遠慮ください。  
 ※2. このプリントを活用したオンライン授業のスケジュールは、しながわ・目黒こどもスクールのウェブサイトでご確認ください。





# おうちで、やろう。

Study at home. 小学校受験の家庭学習教材

## 数量：数の操作9

男の子と女の子がそれぞれが同じものを持っていますが、持っている数が違います。どちらかがいくつかあげると2人の数が同じになります。その数だけ真ん中の四角に、女の子があげるなら○を、男の子があげるなら△をかきます。

	$\bigcirc \times 2$	
--	---------------------	--

	$\bigcirc \times 1$	
--	---------------------	--

	$\triangle \times 3$	
--	----------------------	--

	$\bigcirc \times 2$	
--	---------------------	--

	$\bigcirc \times 1$	
--	---------------------	--

※1. このプリントは、しながわ・目黒こどもスクールのウェブサイトからダウンロードできます。無断複写・引用はご遠慮ください。

※2. このプリントを活用したオンライン授業のスケジュールは、しながわ・目黒こどもスクールのウェブサイトでご確認ください。

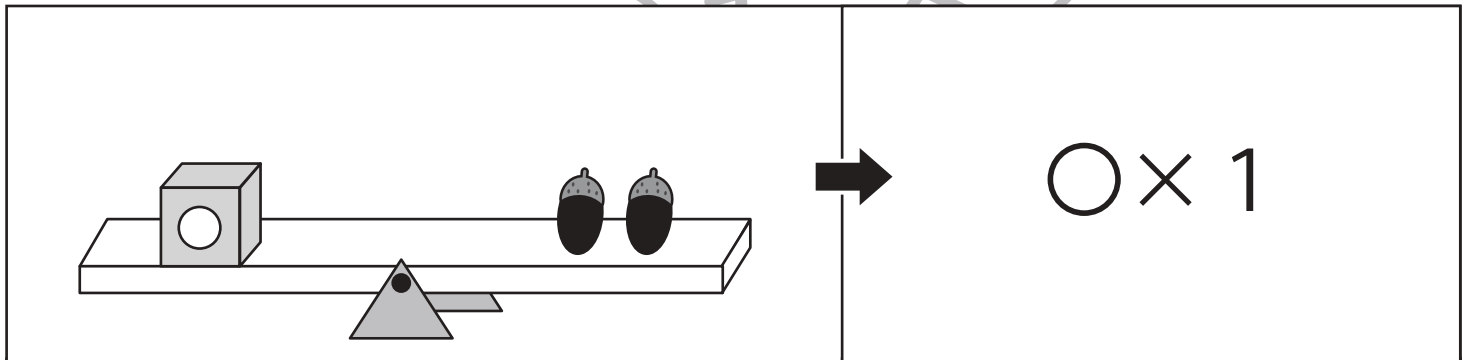
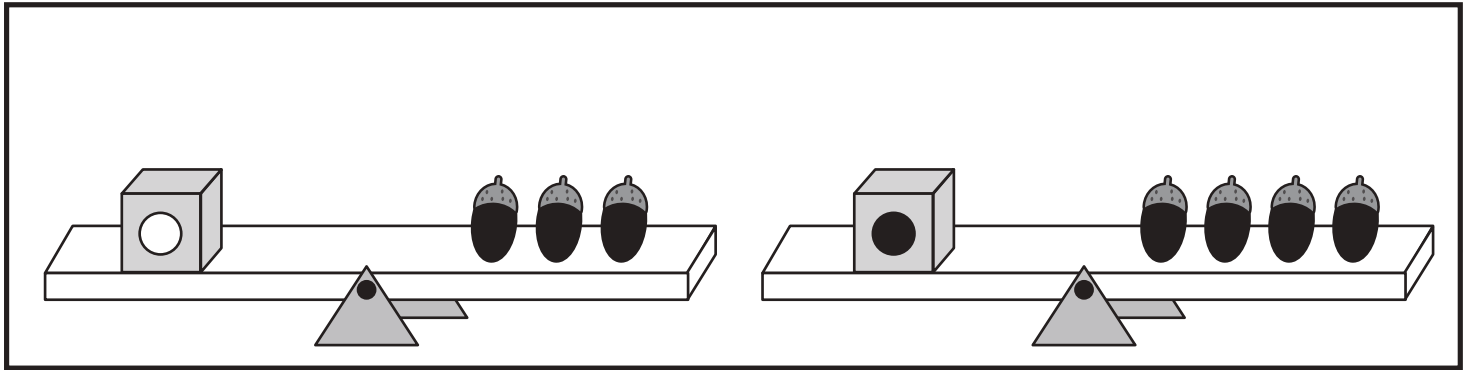


# おうちで、やろう。

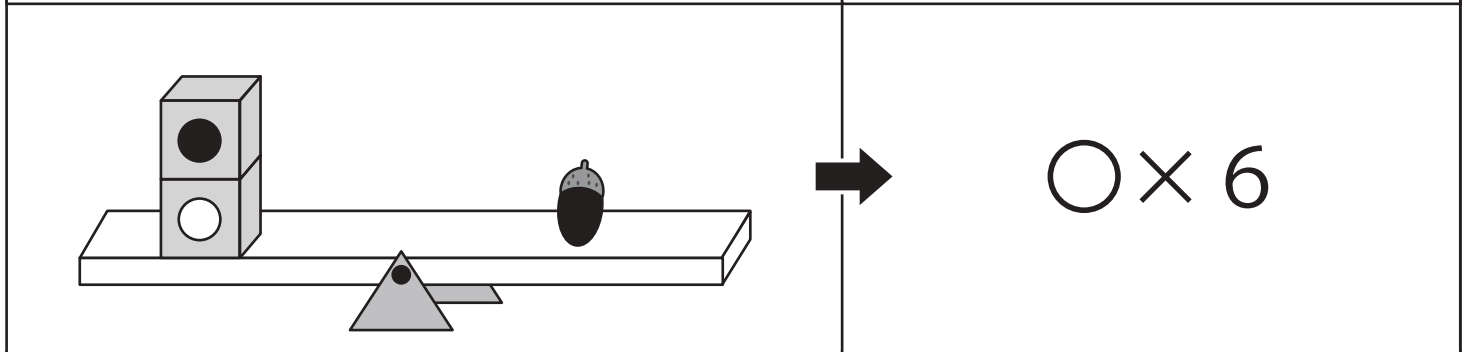
Study at home. 小学校受験の家庭学習教材

数量：置き換え 18

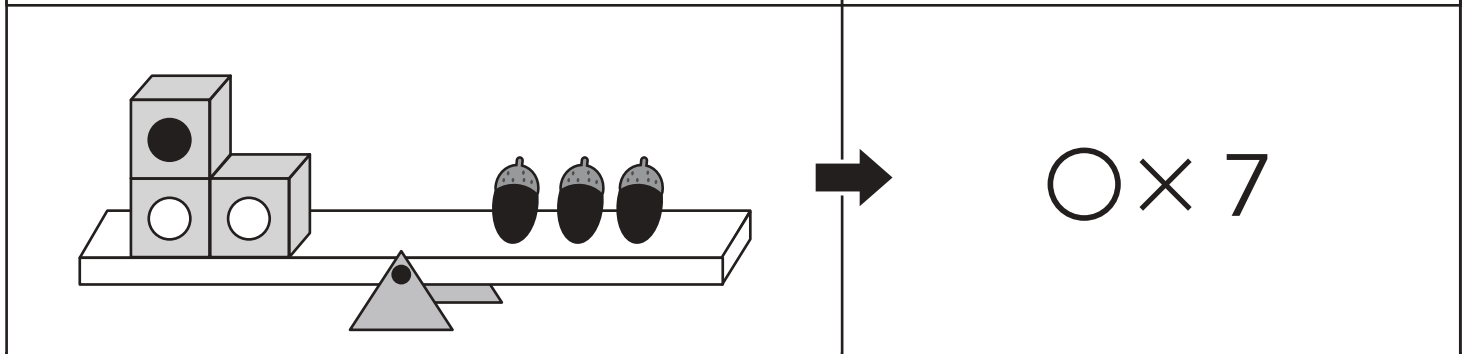
上の太い四角の中がお約束です。記号のついた箱はいつかのドングリと同じ重さで吊り合っています。下のシーソーが釣り合うためには右側にあといくつのドングリを乗せればよいかを考えて、足りない数だけ矢印の右に○を書きましょう。



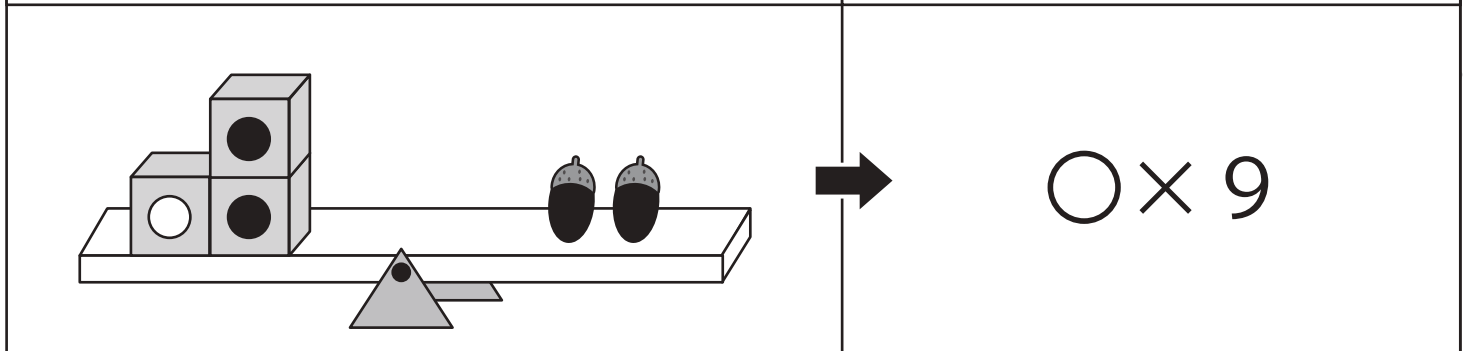
○ × 1



○ × 6



○ × 7



○ × 9

※1. このプリントは、しながわ・目黒こどもスクールのウェブサイトでダウンロードができます。無断複写・引用はご遠慮ください。

※2. このプリントを活用したオンライン授業のスケジュールは、しながわ・目黒こどもスクールのウェブサイトでご確認ください。

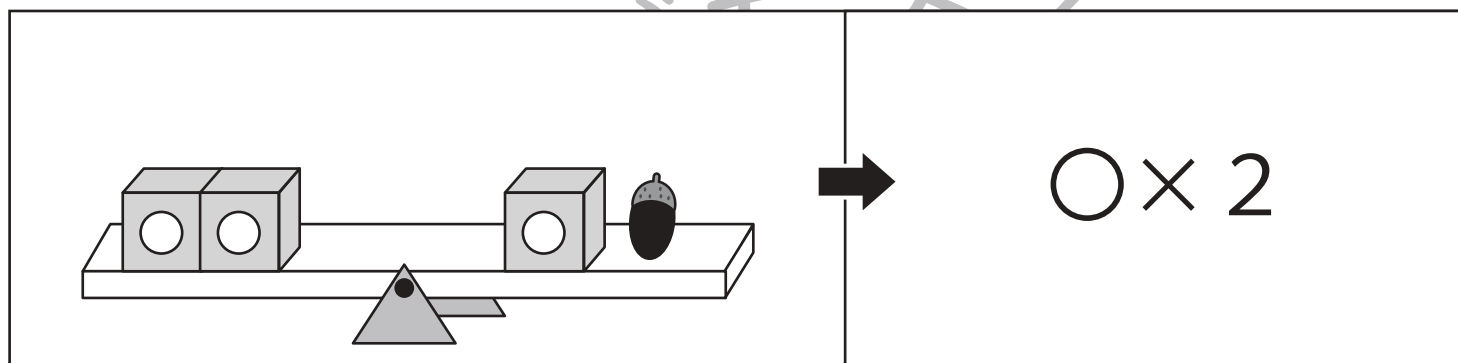
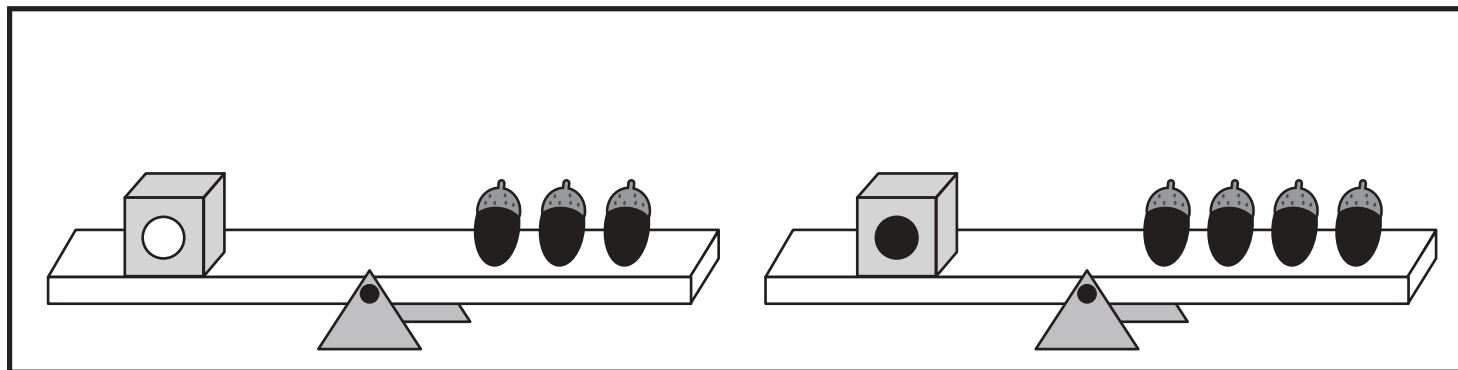


# おうちで、やろう。

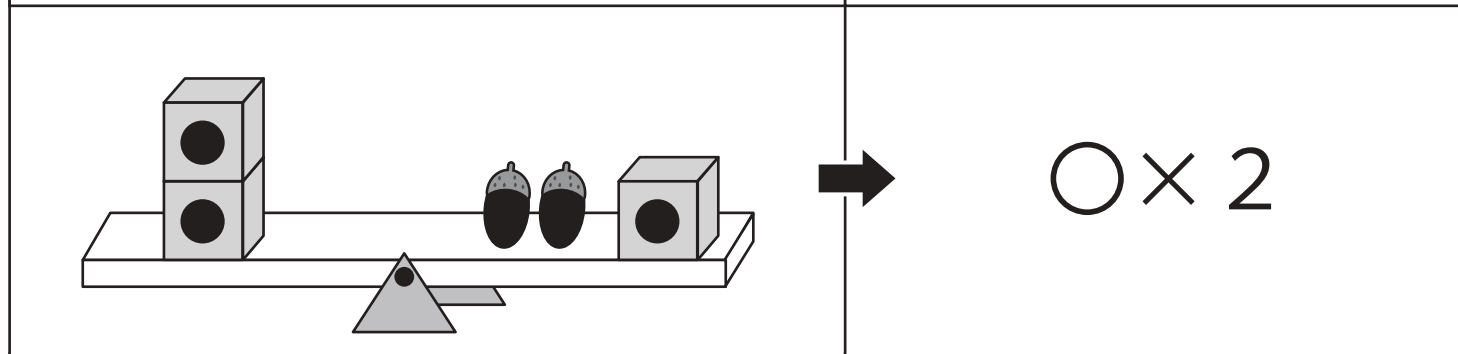
Study at home. 小学校受験の家庭学習教材

数量：置き換え 19

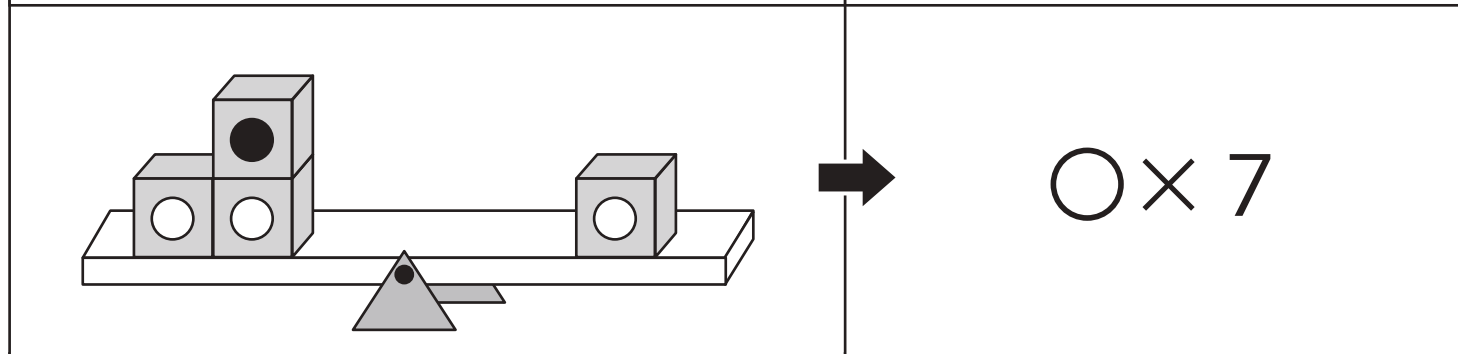
上の太い四角の中がお約束です。記号のついた箱はいつかのドングリと同じ重さで吊り合っています。下のシーソーが吊り合うためには右側にあといくつのドングリを乗せればよいかを考えて、足りない数だけ矢印の右に○を書きましょう。



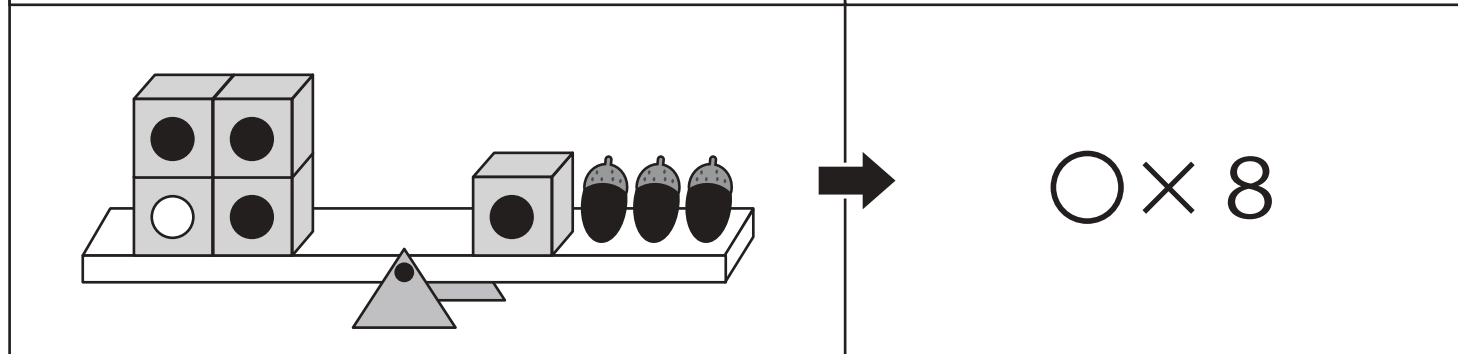
$$\bigcirc \times 2$$



$$\bigcirc \times 2$$



$$\bigcirc \times 7$$



$$\bigcirc \times 8$$

※1. このプリントは、しながわ・目黒こどもスクールのウェブサイトでダウンロードができます。無断複写・引用はご遠慮ください。

※2. このプリントを活用したオンライン授業のスケジュールは、しながわ・目黒こどもスクールのウェブサイトでご確認ください。



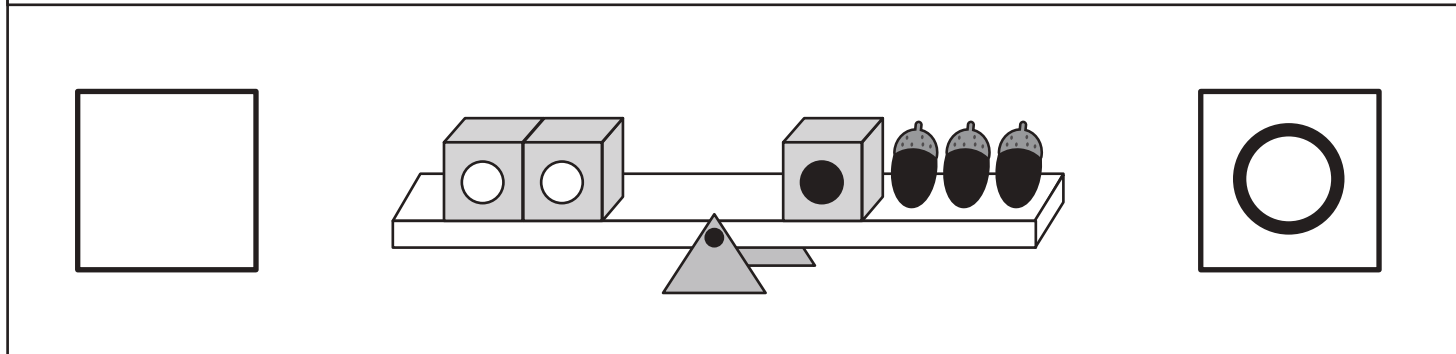
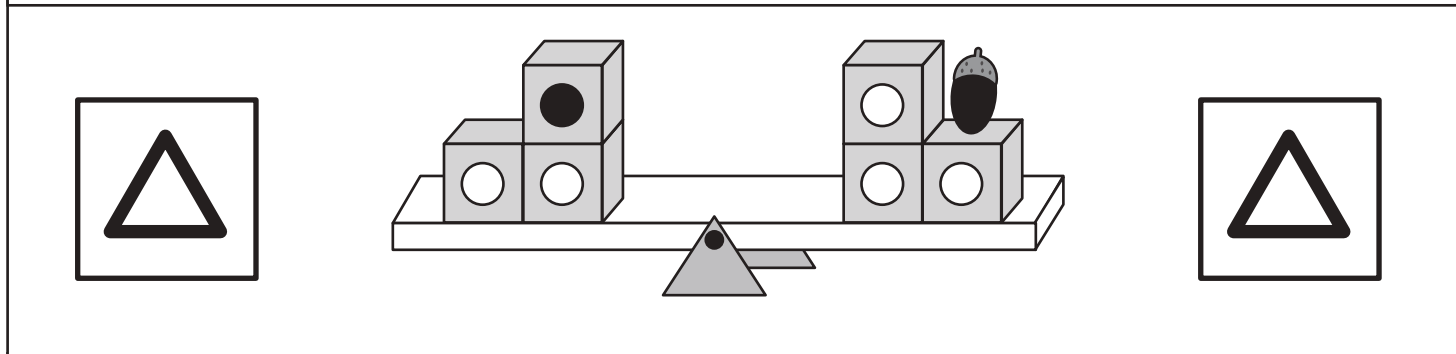
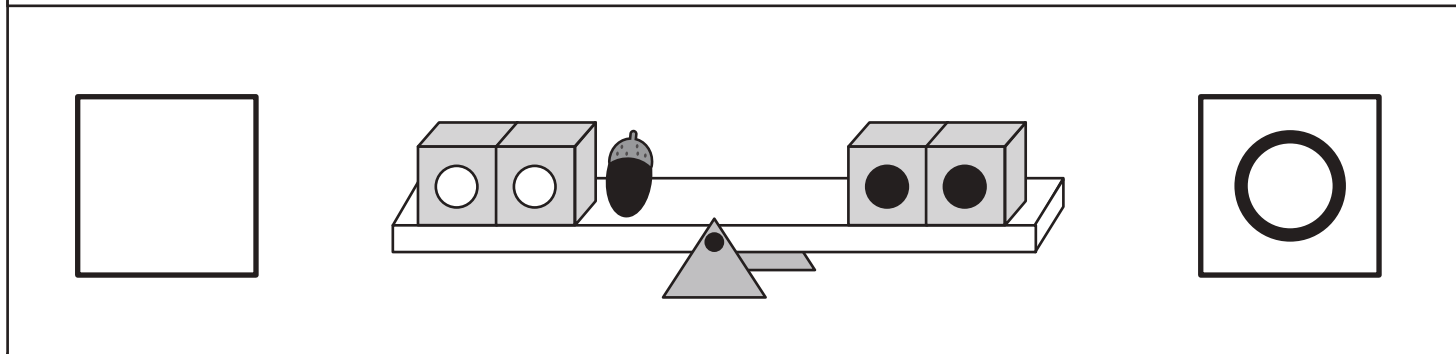
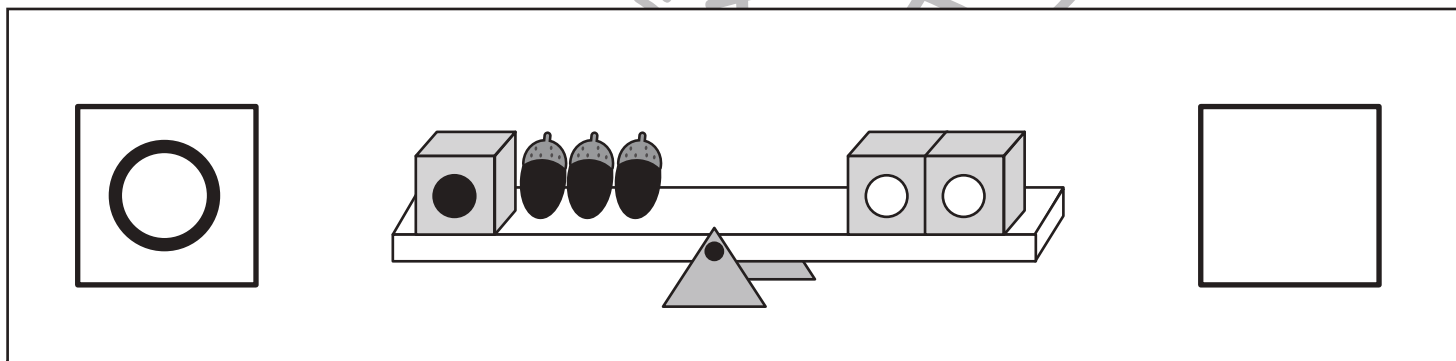
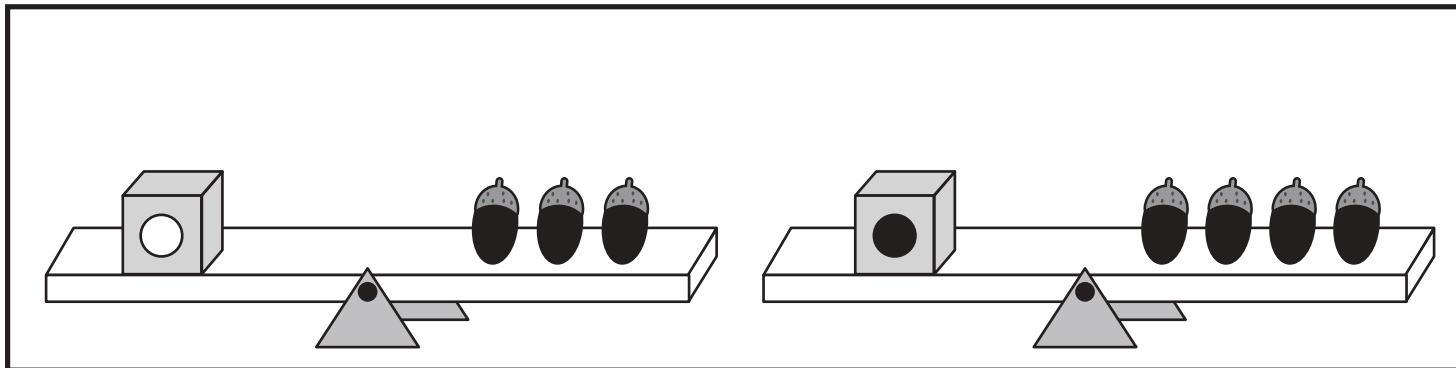


# おうちで、やろう。

Study at home. 小学校受験の家庭学習教材

数量：置き換え 20

上の太い四角の中がお約束です。この約束でシーソーで重さ比べをしました。このとき下がってしまうのは左と右のどちら側になりますか。下がる方の四角に○をかきます。また、つり合う時は両方の四角に△をつけます。



※1. このプリントは、しながわ・目黒こどもスクールのウェブサイトでダウンロードができます。無断複写・引用はご遠慮ください。

※2. このプリントを活用したオンライン授業のスケジュールは、しながわ・目黒こどもスクールのウェブサイトでご確認ください。