

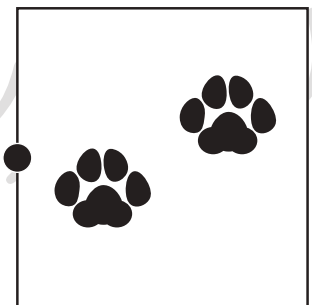

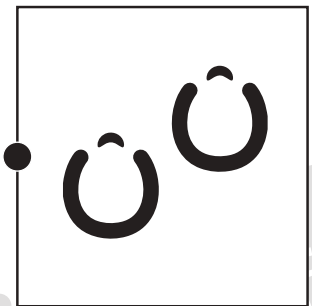




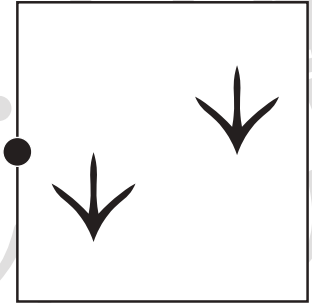



おうちで、やろう。

Study at home. 小学校受験の家庭学習教材

常識：生き物 7

左の生き物の足跡を右から見つけて点を点を線で結びます。



※1. このプリントは、しながわ・目黒こどもスクールのウェブサイトでダウンロードができます。無断複写・引用はご遠慮ください。
※2. このプリントを活用したオンライン授業のスケジュールは、しながわ・目黒こどもスクールのウェブサイトでご確認ください。














おうちで、やろう。

Study at home. 小学校受験の家庭学習教材

常識：生き物 8

下の動物のうち、土の上で生活しているものには×、空を飛ぶことができるものには○、水の中で暮らしているものには△をつけます。



※1. このプリントは、しながわ・目黒こどもスクールのウェブサイトでダウンロードができます。無断複写・引用はご遠慮ください。
※2. このプリントを活用したオンライン授業のスケジュールは、しながわ・目黒こどもスクールのウェブサイトでご確認ください。











おうちで、やろう。

Study at home. 小学校受験の家庭学習教材

図形：鏡 38

左の四角を真ん中の鏡にうつしてみます。右の四角は鏡にうつった見え方です。鏡の見え方で間違えている場所を探して×をつけます。



※1. このプリントは、しながわ・目黒こどもスクールのウェブサイトからダウンロードできます。無断複写・引用はご遠慮ください。
※2. このプリントを活用したオンライン授業のスケジュールは、しながわ・目黒こどもスクールのウェブサイトでご確認ください。









おうちで、やろう。

Study at home. 小学校受験の家庭学習教材

図形：鏡 38

左の四角を真ん中の鏡にうつしてみます。右の四角は鏡にうつった見え方です。鏡の見え方で間違えている場所を探して×をつけます。



※1. このプリントは、しながわ・目黒こどもスクールのウェブサイトでダウンロードができます。無断複写・引用はご遠慮ください。
※2. このプリントを活用したオンライン授業のスケジュールは、しながわ・目黒こどもスクールのウェブサイトでご確認ください。





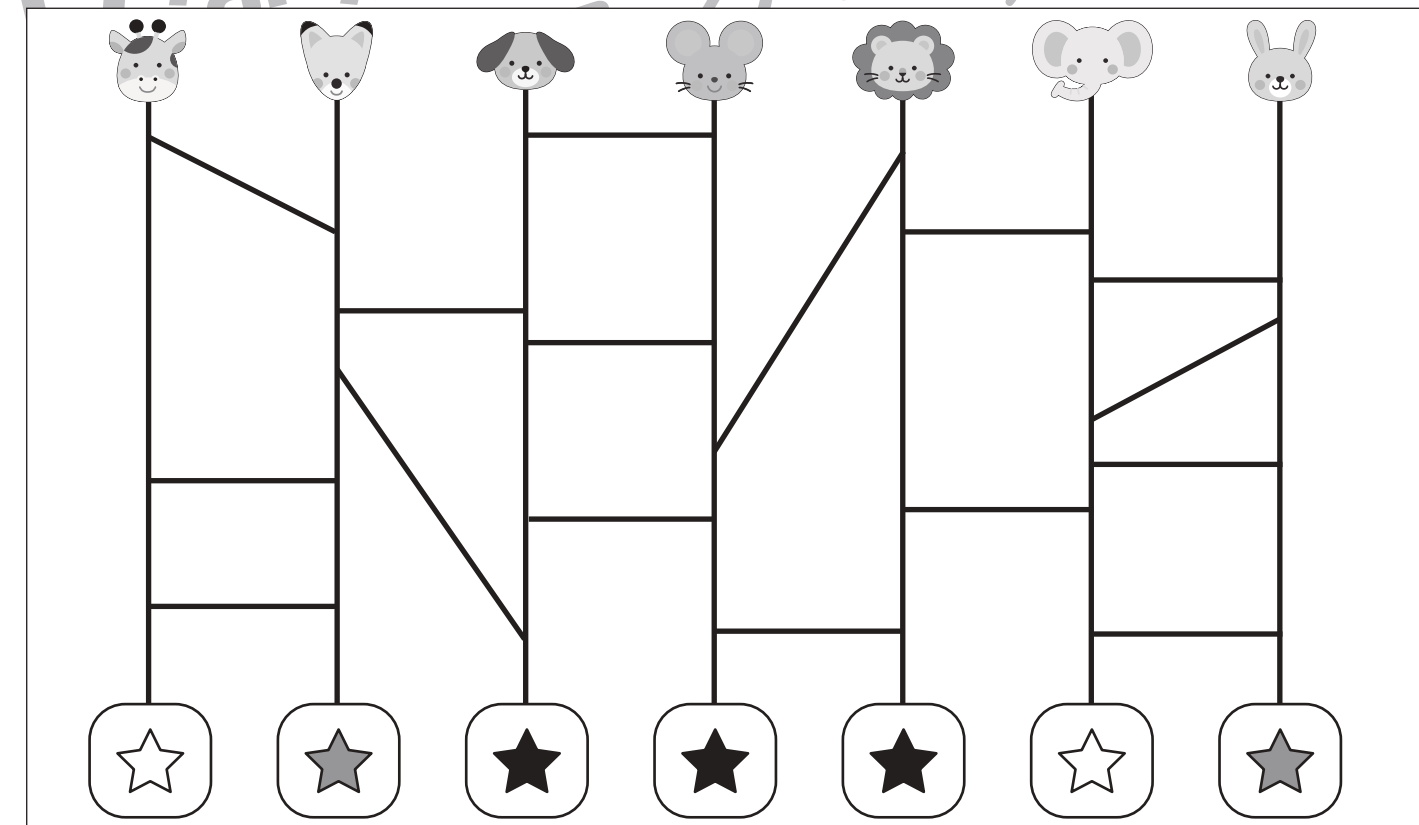
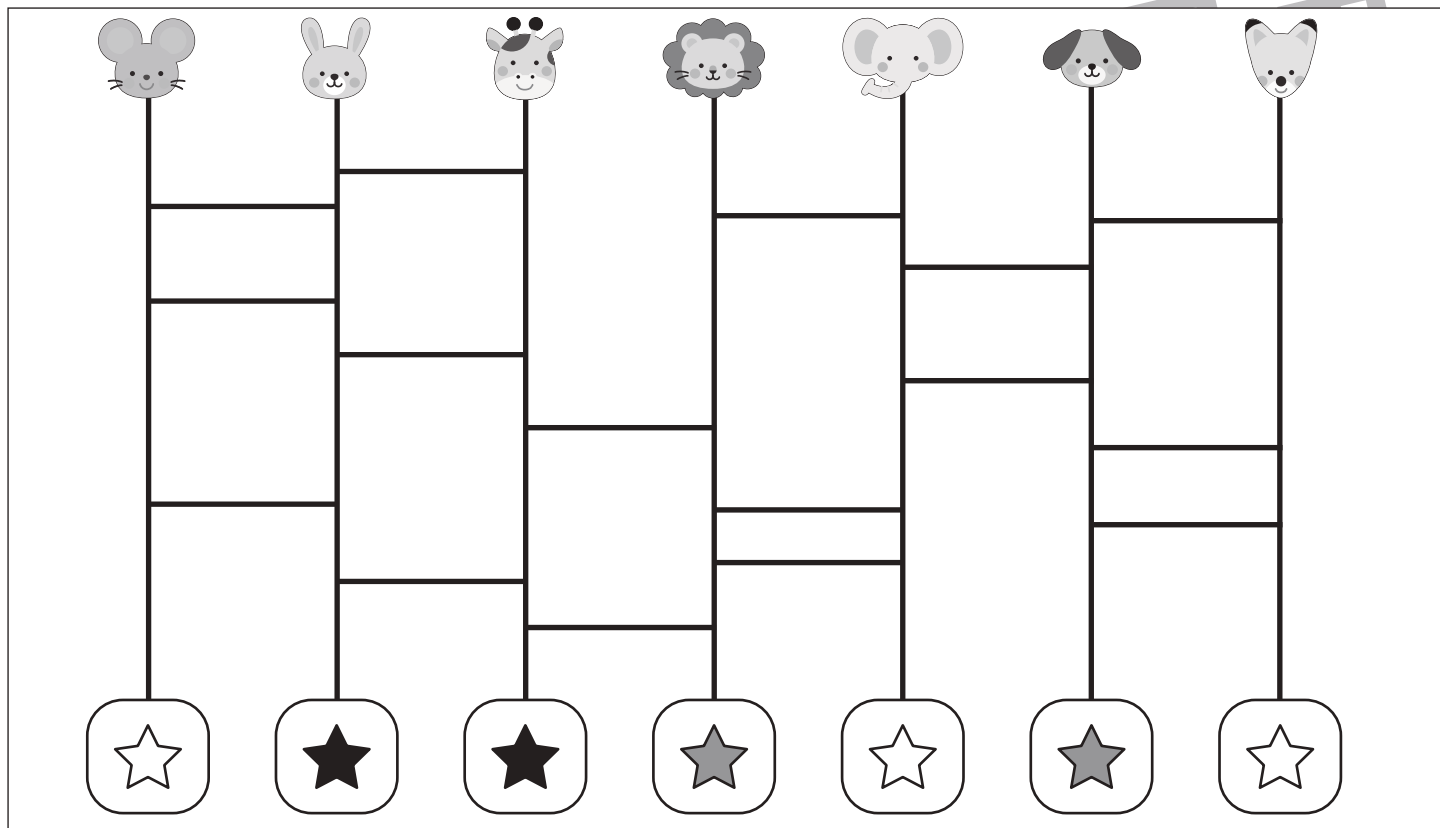
おうちで、やろう。

Study at home. 小学校受験の家庭学習教材

推理：あみだくじ⑦

上の動物たちがあみだくじを進んでいくと下のどこかにつきます。白い星についた動物には○、黒い星についた動物には×をつけ、灰色の星についた動物には何もつけません。

※あみだくじのルール：①上から下へ進みます。道は戻ってはいけません。②途中で曲がり角があったら必ず曲がります。



※1. このプリントは、しながわ・目黒こどもスクールのウェブサイトでダウンロードができます。無断複写・引用はご遠慮ください。

※2. このプリントを活用したオンライン授業のスケジュールは、しながわ・目黒こどもスクールのウェブサイトでご確認ください。







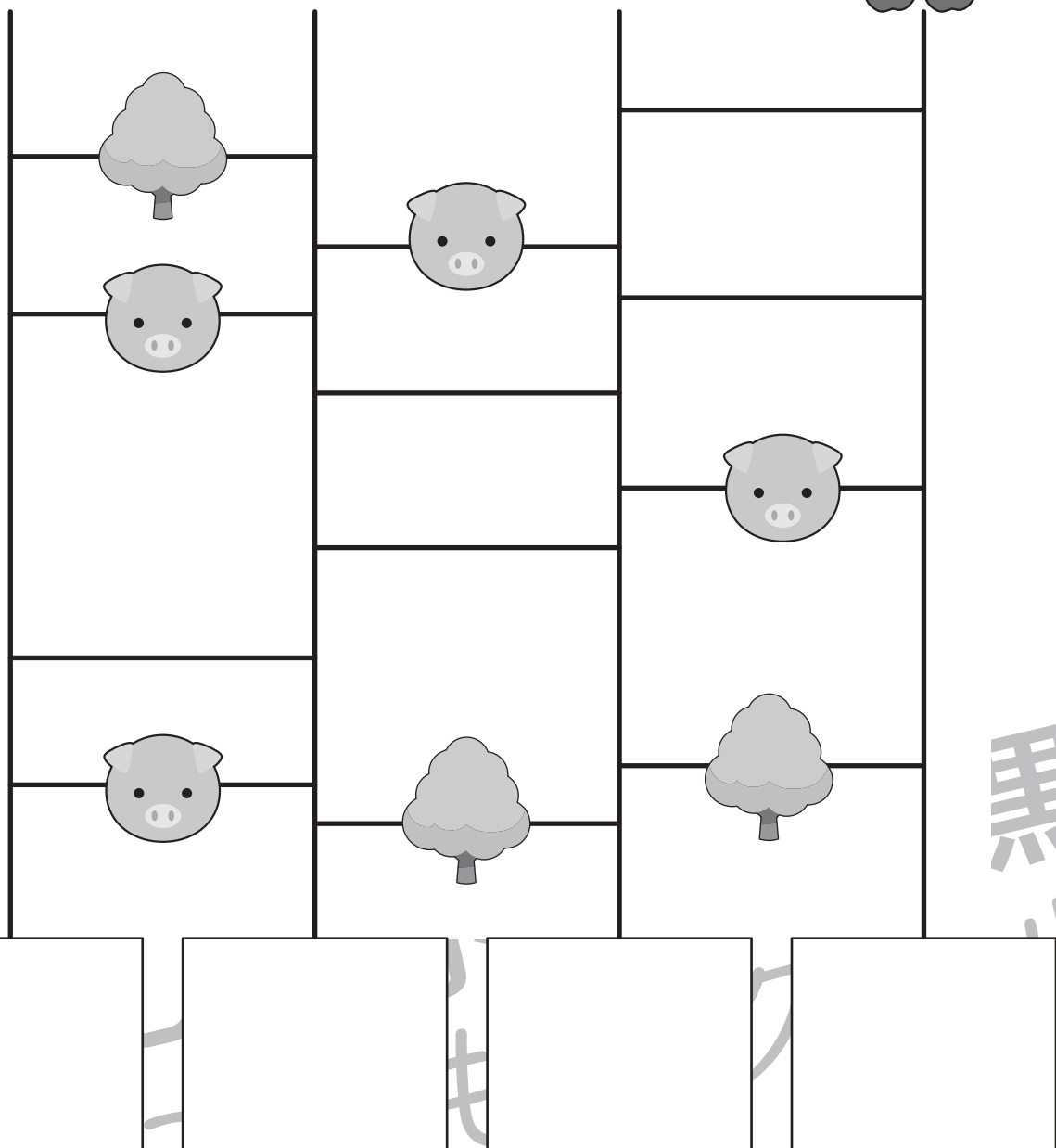




おうちで、やろう。

Study at home. 小学校受験の家庭学習教材

推理：あみだくじ 8

動物はそれぞれリンゴを持っています。あみだくじで進み、途中でブタに会ると1つ減り、木を通り過ぎると2つ増えます。この約束であみだくじを通った後に持っていたリンゴの数だけ下の着いた四角の中に○をかきます。

※あみだくじのルール：①上から下へ進みます。道は戻ってはいけません。②途中で曲がり角があったら必ず曲がります。



※1. このプリントは、しながわ・目黒こどもスクールのウェブサイトでダウンロードができます。無断複写・引用はご遠慮ください。

※2. このプリントを活用したオンライン授業のスケジュールは、しながわ・目黒こどもスクールのウェブサイトでご確認ください。



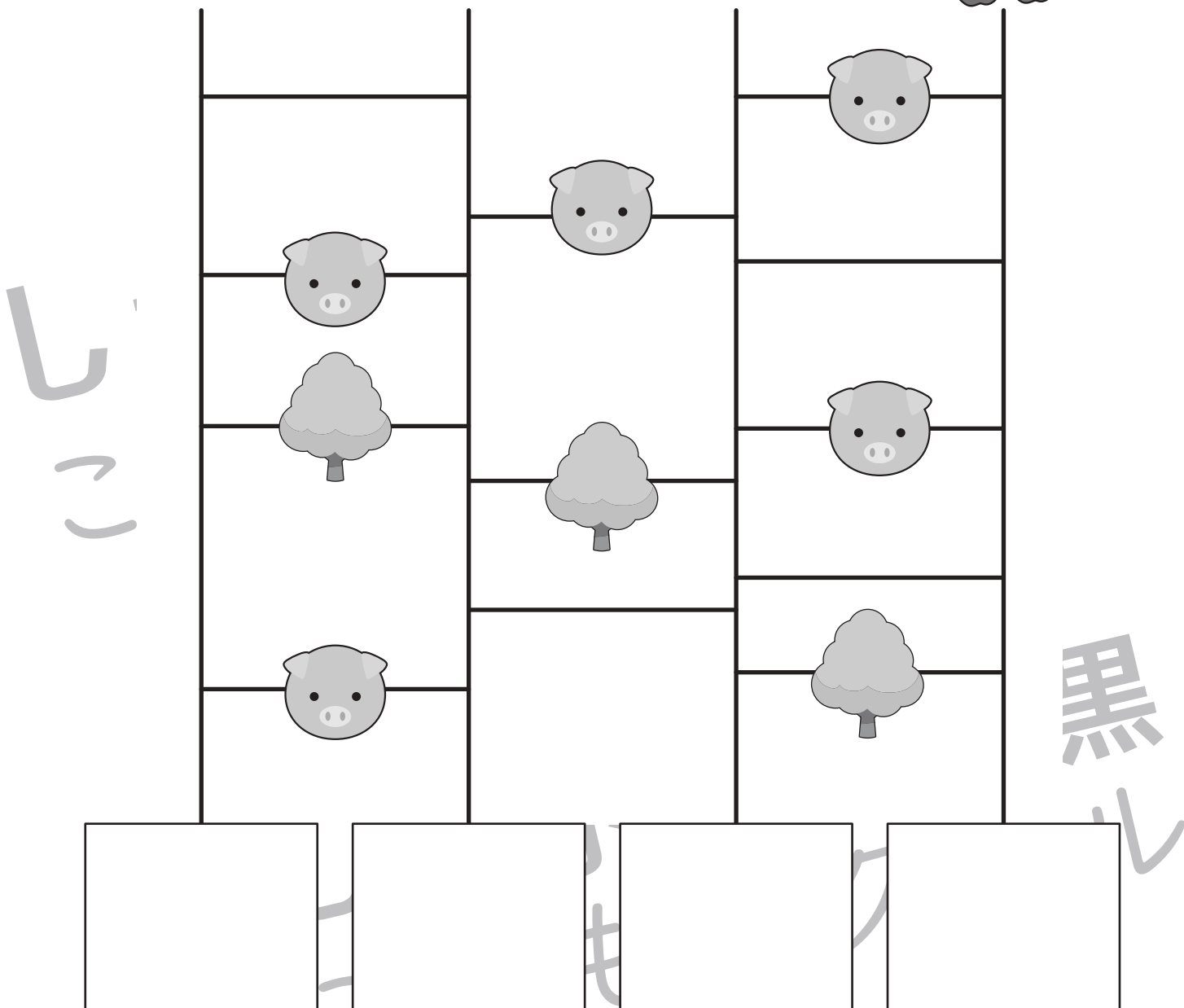





おうちで、やろう。

Study at home. 小学校受験の家庭学習教材

推理：あみだくじ9

動物はそれぞれリンゴを持っています。あみだくじで進み、途中でブタに会うと1つ減り、木を通り過ぎると2つ増えます。この約束であみだくじを通った後に持っていたリンゴの数だけ下の着いた四角の中に○をかきます。

※あみだくじのルール：①上から下へ進みます。道は戻ってはいけません。②途中で曲がり角があったら必ず曲がります。



※1. このプリントは、しながわ・目黒こどもスクールのウェブサイトでダウンロードができます。無断複写・引用はご遠慮ください。
※2. このプリントを活用したオンライン授業のスケジュールは、しながわ・目黒こどもスクールのウェブサイトでご確認ください。


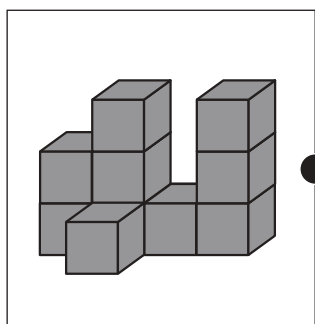

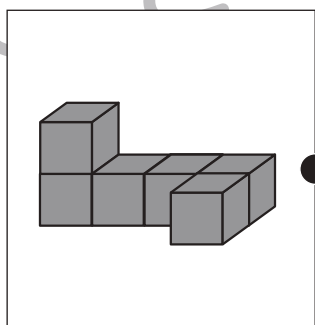

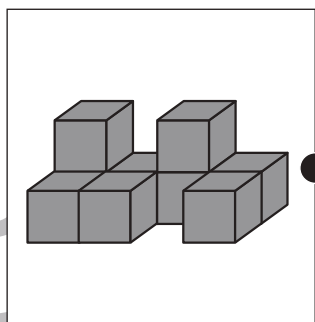

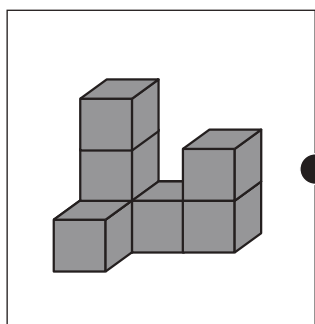




おうちで、やろう。

Study at home. 小学校受験の家庭学習教材

数量：同数 29

左の積み木の数と右の星の数が同じもの同士を線で結びます。



※1. このプリントは、しながわ・目黒こどもスクールのウェブサイトでダウンロードができます。無断複写・引用はご遠慮ください。

※2. このプリントを活用したオンライン授業のスケジュールは、しながわ・目黒こどもスクールのウェブサイトでご確認ください。




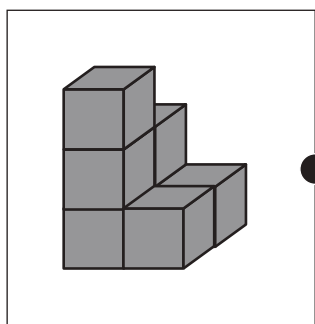

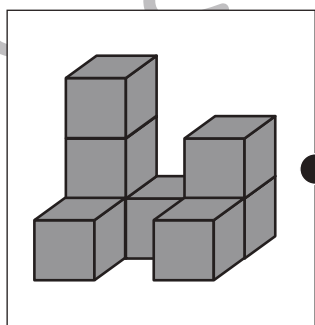

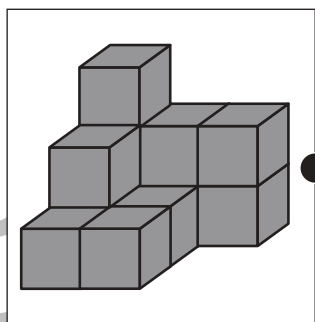

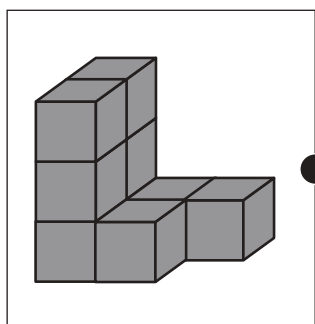

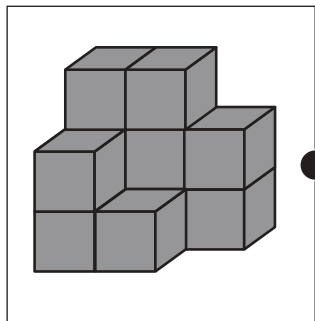


おうちで、やろう。

Study at home. 小学校受験の家庭学習教材

数量：同数 30

左の積み木の数と右の星の数が同じもの同士を線で結びます。



※1. このプリントは、しながわ・目黒こどもスクールのウェブサイトでダウンロードができます。無断複写・引用はご遠慮ください。

※2. このプリントを活用したオンライン授業のスケジュールは、しながわ・目黒こどもスクールのウェブサイトでご確認ください。





おうちで、やろう。

Study at home. 小学校受験の家庭学習教材

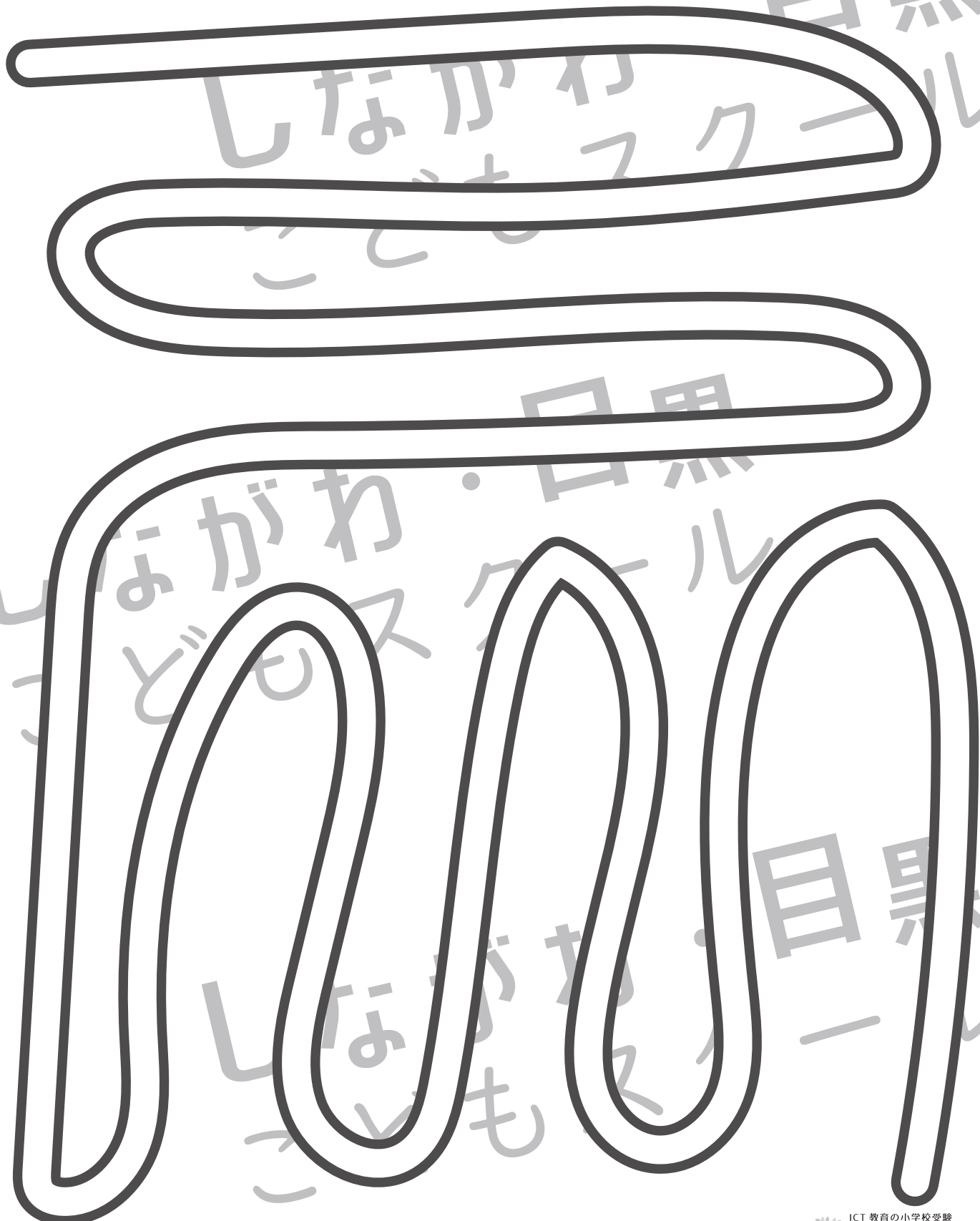
処理：運筆 31

壁にぶつからないように左上から右下まで線をひきます。

この問題はスピードを意識して取り組む練習をしてみましょう。(1分～1分30秒)

※クーピー、鉛筆、水性ペンの好きなものを使ってやりましょう。

※この問題に解答はありません。



※1. このプリントは、しながわ・目黒こどもスクールのウェブサイトでダウンロードができます。無断複写・引用はご遠慮ください。

※2. このプリントを活用したオンライン授業のスケジュールは、しながわ・目黒こどもスクールのウェブサイトでご確認ください。