









おうちで、やろう。

Study at home. 小学校受験の家庭学習教材

言語：音の数 26

それぞれの四角の中の絵の名前の音の数だけ下の○を塗ります。

 <p>● ● ○ ○ ○ ○ ○</p>	 <p>● ● ● ● ○ ○ ○</p>
 <p>● ● ● ● ○ ○ ○</p>	 <p>● ● ● ● ● ● ●</p>
 <p>● ● ● ● ○ ○ ○</p>	 <p>● ● ● ● ○ ○ ○</p>

※1. このプリントは、しながわ・目黒こどもスクールのウェブサイトからダウンロードできます。無断複写・引用はご遠慮ください。

※2. このプリントを活用したオンライン授業のスケジュールは、しながわ・目黒こどもスクールのウェブサイトでご確認ください。

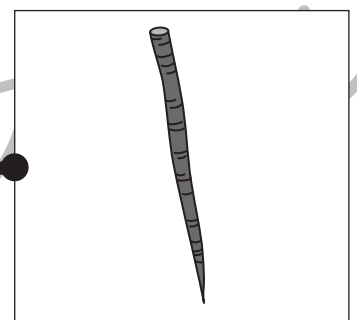


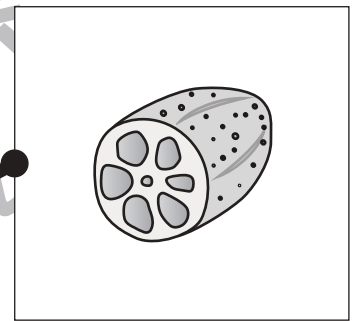







おうちで、やろう。

Study at home. 小学校受験の家庭学習教材

言語：音の理解 52

左と右の四角の中の絵で終わりの音が同じもの同士を線で結びます。



※1. このプリントは、しながわ・目黒こどもスクールのウェブサイトでダウンロードができます。無断複写・引用はご遠慮ください。
※2. このプリントを活用したオンライン授業のスケジュールは、しながわ・目黒こどもスクールのウェブサイトでご確認ください。





おうちで、やろう。

Study at home. 小学校受験の家庭学習教材

常識：なぞなぞ12

①～④にあてはまるものを選んで○をつけます。


①わたしは空を飛びます。両側に羽がついている乗り物です。わたしは誰でしょう。

②わたしは体が白いです。雨がふらないように、よく子供たちにつるされます。わたしは誰でしょう。


③わたしは公園にあります。四角い部屋がたくさんあって、のぼったりおりたりして遊びます。わたしは誰でしょう。

④わたしは丸い食べ物です。お月さまがまん丸の日に飾られます。わたしは誰でしょう。

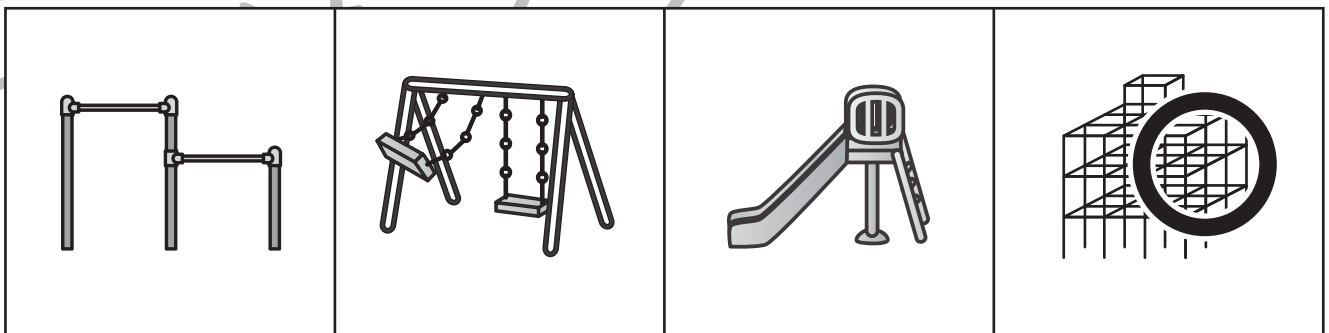
①




②



③



④



※1. このプリントは、しながわ・目黒こどもスクールのウェブサイトでダウンロードができます。無断複写・引用はご遠慮ください。

※2. このプリントを活用したオンライン授業のスケジュールは、しながわ・目黒こどもスクールのウェブサイトでご確認ください。



おうちで、やろう。

Study at home. 小学校受験の家庭学習教材

図形：構成 43

お手本の形を、向きや順序は変えず、そのままくっけると右のどれになりますか。正しいものを選んで○をつけましょう。

※1. このプリントは、しながわ・目黒こどもスクールのウェブサイトでダウンロードができます。無断複写・引用はご遠慮ください。

※2. このプリントを活用したオンライン授業のスケジュールは、しながわ・目黒こどもスクールのウェブサイトでご確認ください。



左の積み木と右のサイコロの目が同じになるように、点と点を線で結びましょう。

※1. このプリントは、しながわ・目黒こどもスクールのウェブサイトでダウンロードができます。無断複写・引用はご遠慮ください。
※2. このプリントを活用したオンライン授業のスケジュールは、しながわ・目黒こどもスクールのウェブサイトでご確認ください。

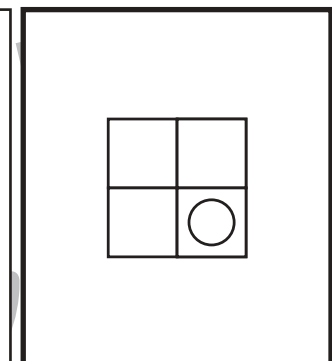
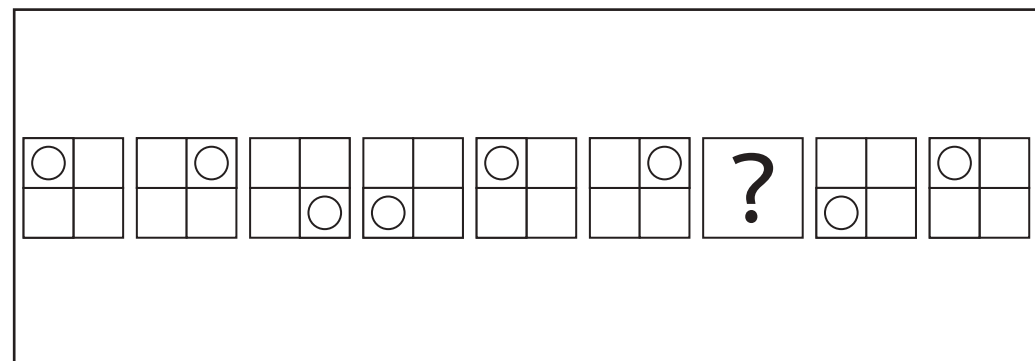
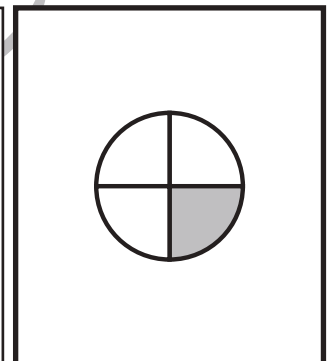
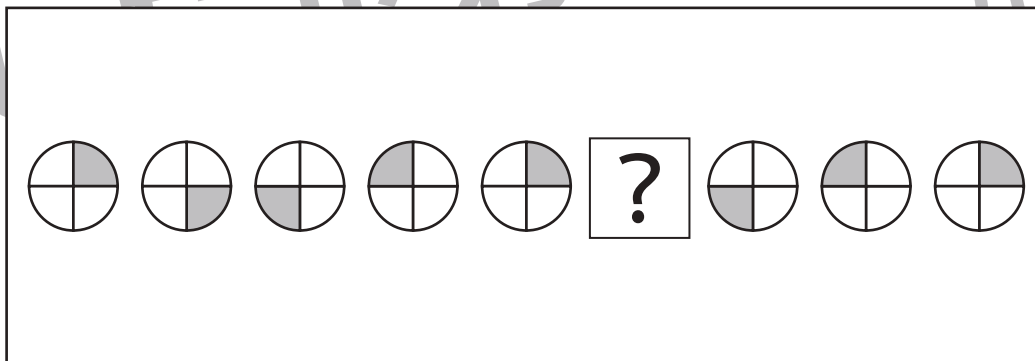

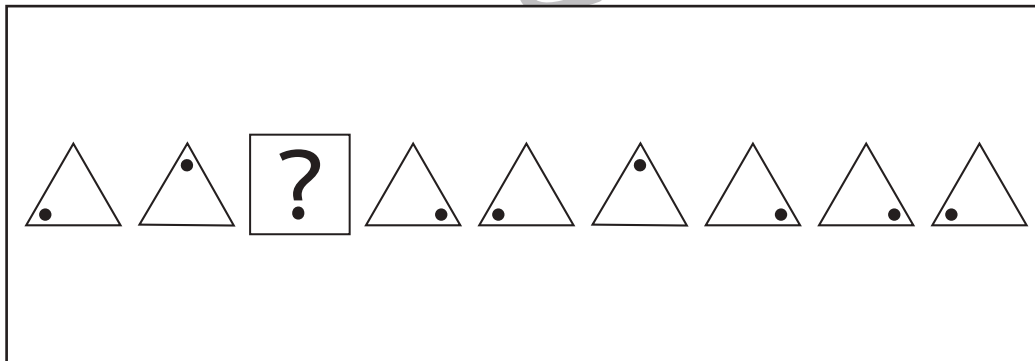
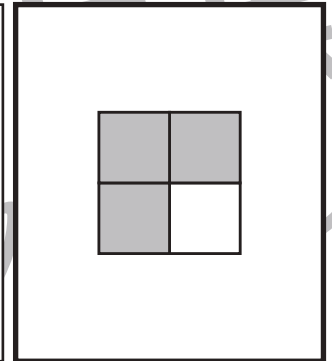
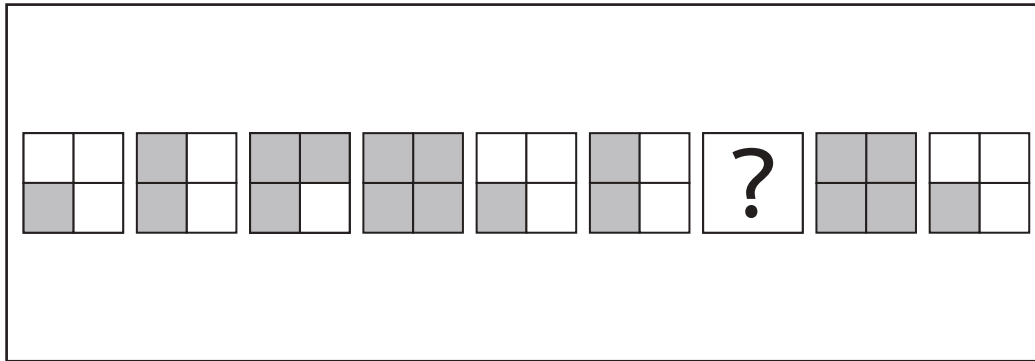


おうちで、やろう。

Study at home. 小学校受験の家庭学習教材

推理：系列完成 28

色々な形がある決まりに従って並んでいます。？のついている四角に入る形を考えて、右の形の足りないところを足します。



※1. このプリントは、しながわ・目黒こどもスクールのウェブサイトからダウンロードができます。無断複写・引用はご遠慮ください。
 ※2. このプリントを活用したオンライン授業のスケジュールは、しながわ・目黒こどもスクールのウェブサイトでご確認ください。




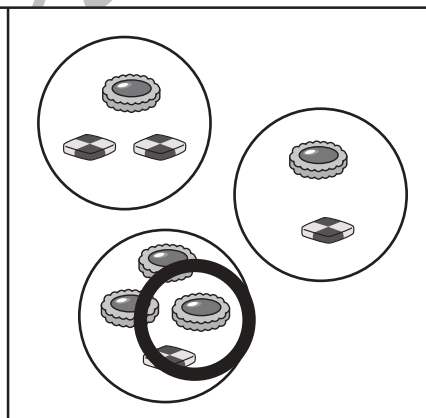
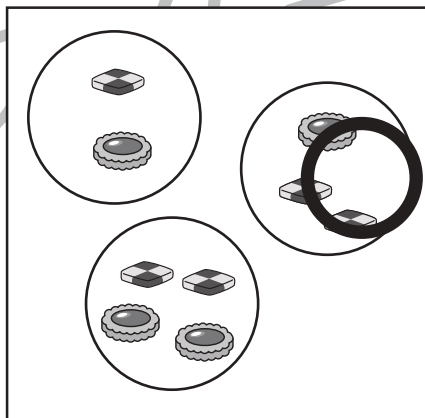
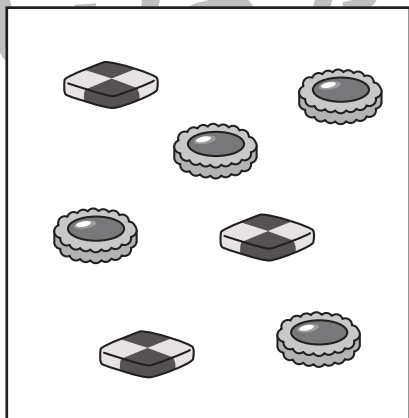
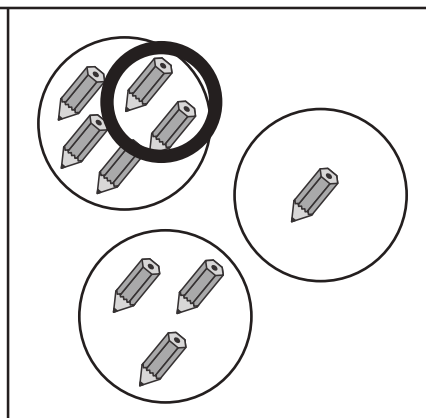
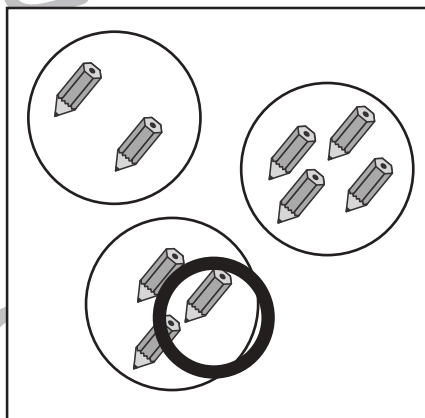

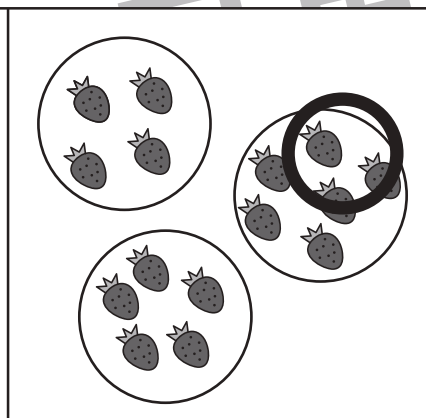
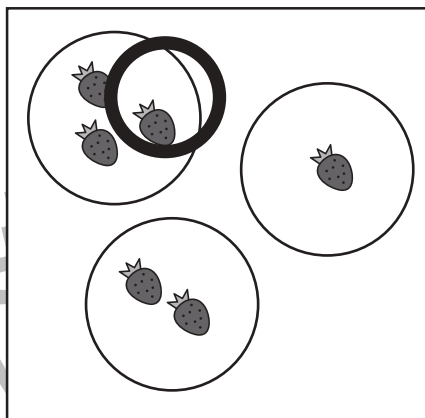



おうちで、やろう。

Study at home. 小学校受験の家庭学習教材

数量：計数 33

左の四角の絵の数になるように、右の2つの四角からそれぞれ1つずつ選んで○をつけましょう。



※1. このプリントは、しながわ・目黒こどもスクールのウェブサイトからダウンロードができます。無断複写・引用はご遠慮ください。
※2. このプリントを活用したオンライン授業のスケジュールは、しながわ・目黒こどもスクールのウェブサイトでご確認ください。

