







おうちで、やろう。

Study at home. 小学校受験の家庭学習教材

言語：しりとり 14

四角の中の絵を並びかえてしりとりをします。しりとりの最後になる絵に○をつけます。



※1. このプリントは、しながわ・目黒こどもスクールのウェブサイトからダウンロードできます。無断複写・引用はご遠慮ください。

※2. このプリントを活用したオンライン授業のスケジュールは、しながわ・目黒こどもスクールのウェブサイトでご確認ください。






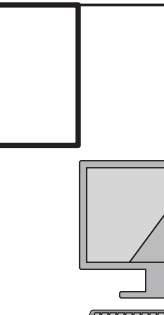










おうちで、やろう。

Study at home. 小学校受験の家庭学習教材

言語：音の理解 53

下の絵の中で、「ば・び・ぶ・べ・ぼ」の音があるものには○を、「ば・び・ぶ・べ・ぼ」の音があるものには△を、「ヨット」のようにつまる音があるものには□を、それぞれの四角の左上の太い四角の中にかきましょう。

※1. このプリントは、しながわ・目黒こどもスクールのウェブサイトでダウンロードができます。無断複写・引用はご遠慮ください。

※2. このプリントを活用したオンライン授業のスケジュールは、しながわ・目黒こどもスクールのウェブサイトでご確認ください。















おうちで、やろう。

Study at home. 小学校受験の家庭学習教材

言語：数え方8

太い四角の絵と同じ数え方をするものを、右から選んで○をつけましょう。

※1. このプリントは、しながわ・目黒こどもスクールのウェブサイトからダウンロードできます。無断複写・引用はご遠慮ください。

※2. このプリントを活用したオンライン授業のスケジュールは、しながわ・目黒こどもスクールのウェブサイトでご確認ください。

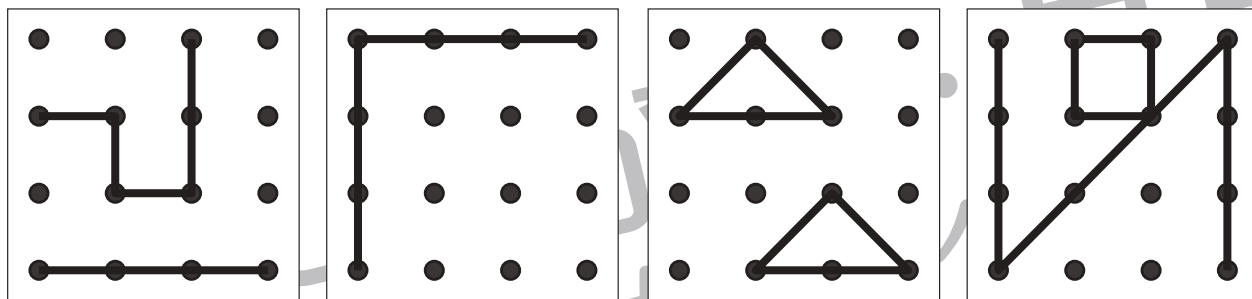


おうちで、やろう。

Study at home. 小学校受験の家庭学習教材

図形：重ね 46

上下にある2つの四角をぴったり重ねた時の見え方を考えて、矢印の下の四角に線を描きましょう。


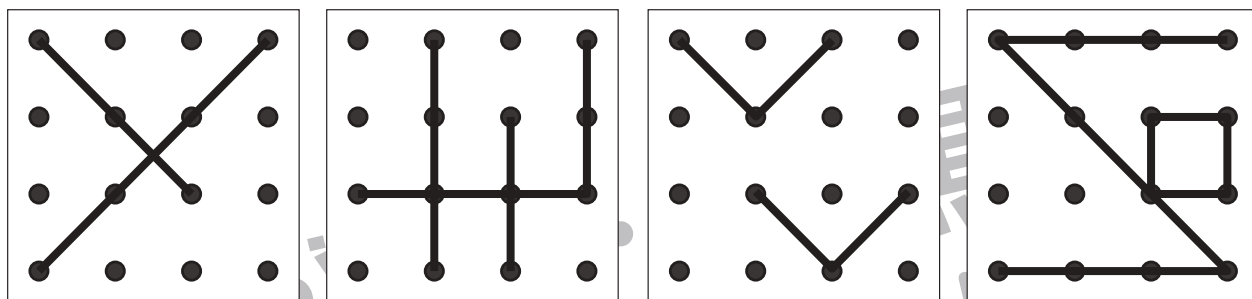


+

+

+

+



※1. このプリントは、しながわ・目黒こどもスクールのウェブサイトでダウンロードができます。無断複写・引用はご遠慮ください。
 ※2. このプリントを活用したオンライン授業のスケジュールは、しながわ・目黒こどもスクールのウェブサイトでご確認ください。

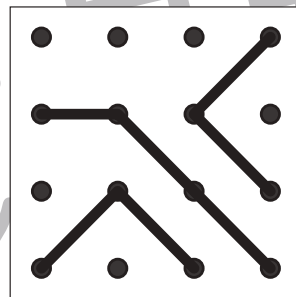
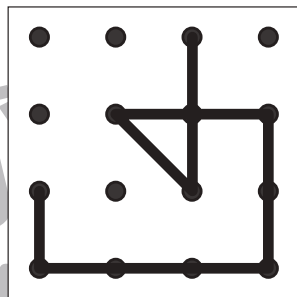
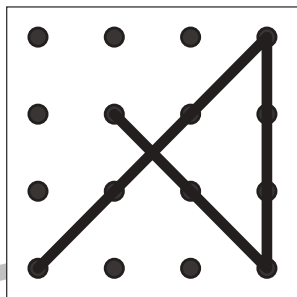
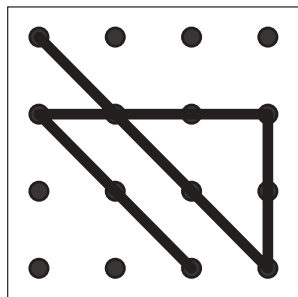


おうちで、やろう。

Study at home. 小学校受験の家庭学習教材

図形：重ね 47

上下にある2つの四角をぴったり重ねた時の見え方を考えて、矢印の下の四角に線を描きましょう。





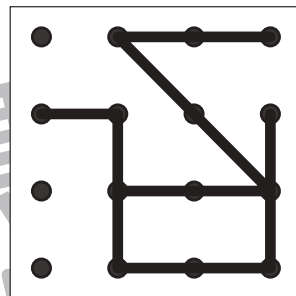
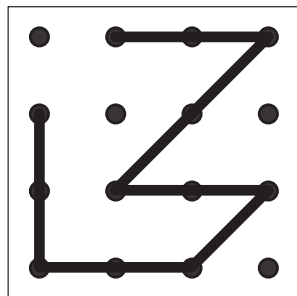
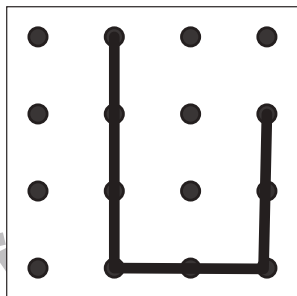
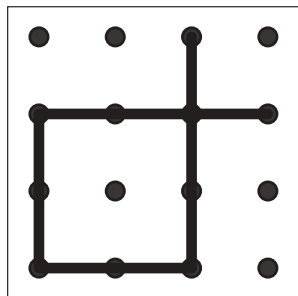


+

+

+

+



※1. このプリントは、しながわ・目黒こどもスクールのウェブサイトでダウンロードができます。無断複写・引用はご遠慮ください。
※2. このプリントを活用したオンライン授業のスケジュールは、しながわ・目黒こどもスクールのウェブサイトでご確認ください。



おうちで、やろう。

Study at home. 小学校受験の家庭学習教材

図形：重ね 48

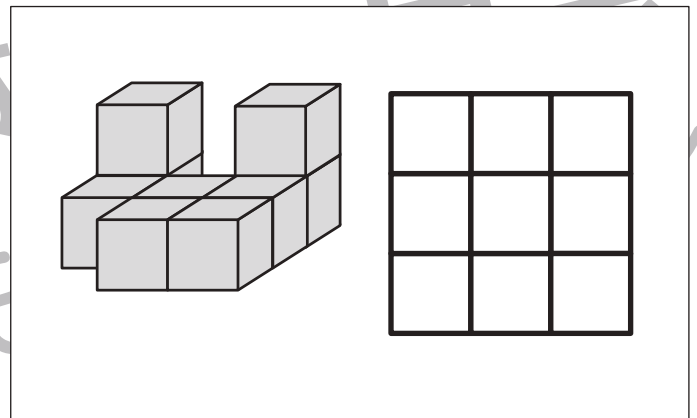
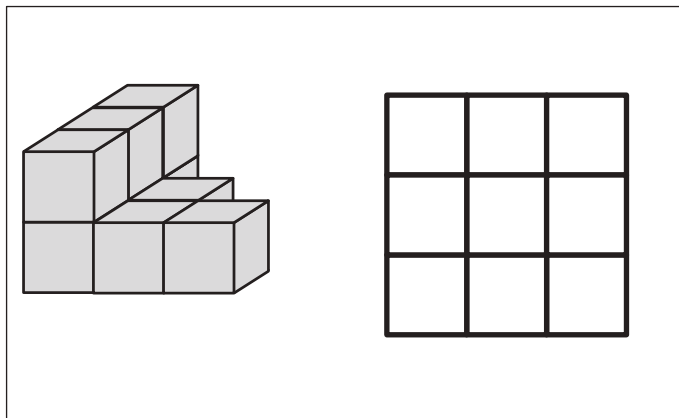
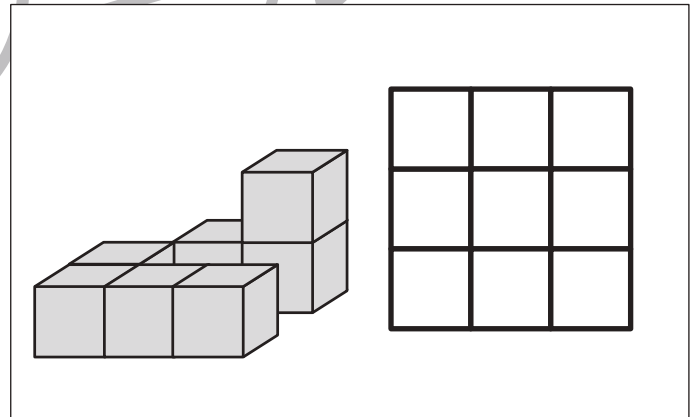
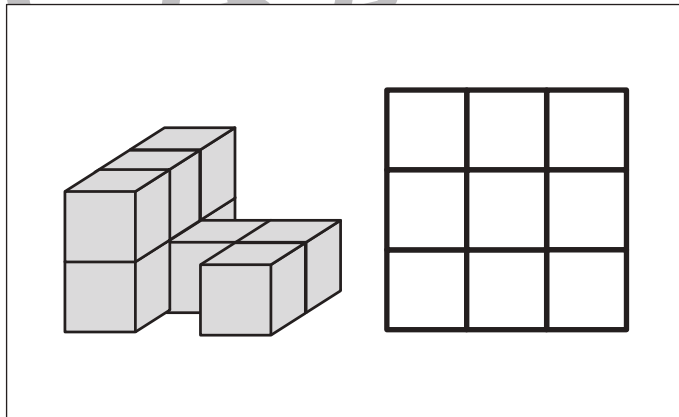
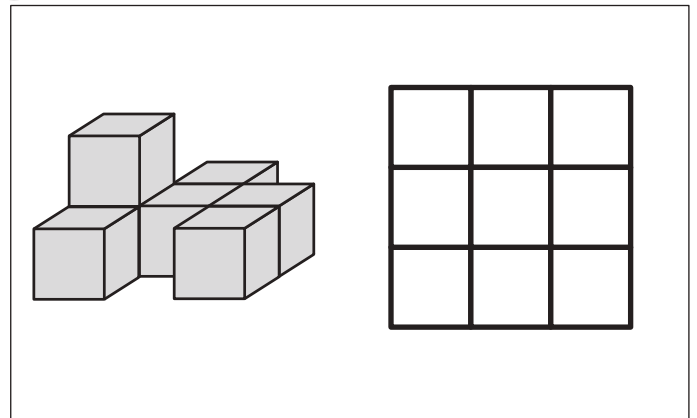
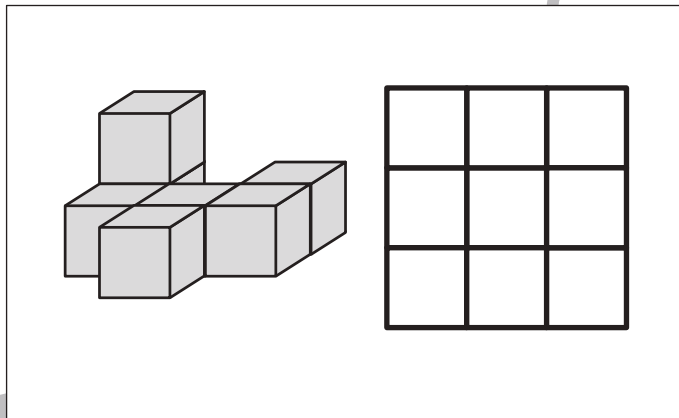
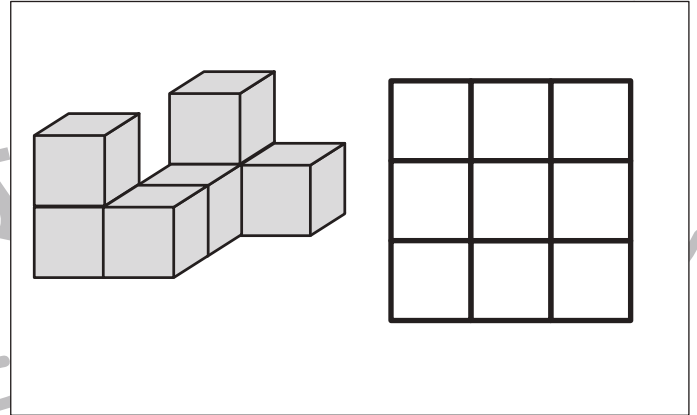
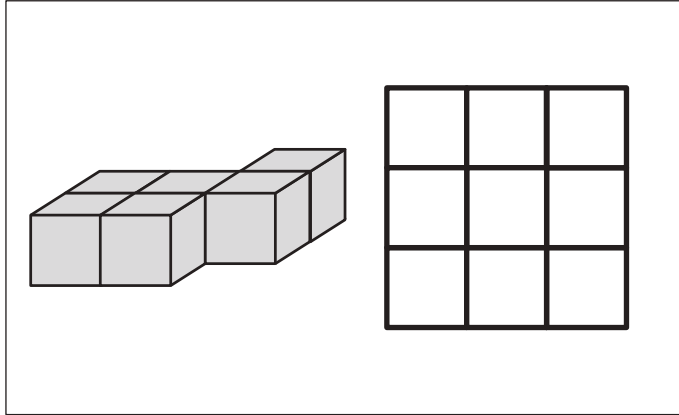
上にある3つの四角をぴったり重ねた時の見え方を考えて、矢印の下の四角に線を描きましょう。

+	+	+	+
+	+	+	+
↓	↓	↓	↓

※1. このプリントは、しながわ・目黒こどもスクールのウェブサイトでダウンロードができます。無断複写・引用はご遠慮ください。
 ※2. このプリントを活用したオンライン授業のスケジュールは、しながわ・目黒こどもスクールのウェブサイトでご確認ください。



左の積み木を縦と横に3つずつマスがある右の四角の上に置きました。どの場所に積み木を置いたのかを考えてその場所を塗ります。



※1. このプリントは、しながわ・目黒こどもスクールのウェブサイトからダウンロードできます。無断複写・引用はご遠慮ください。
 ※2. このプリントを活用したオンライン授業のスケジュールは、しながわ・目黒こどもスクールのウェブサイトでご確認ください。

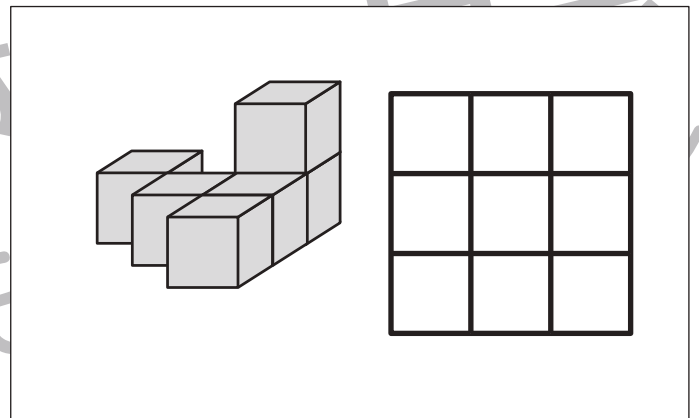
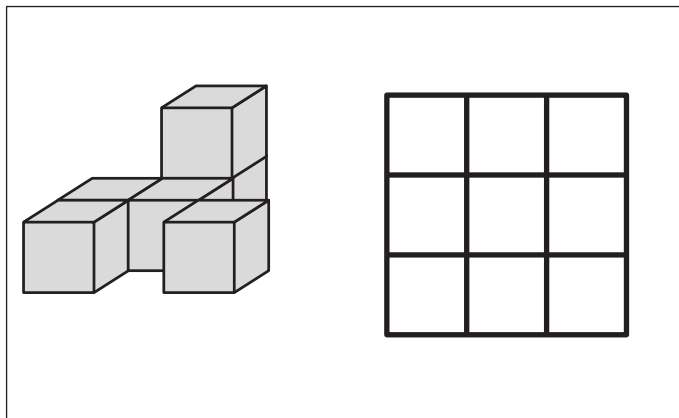
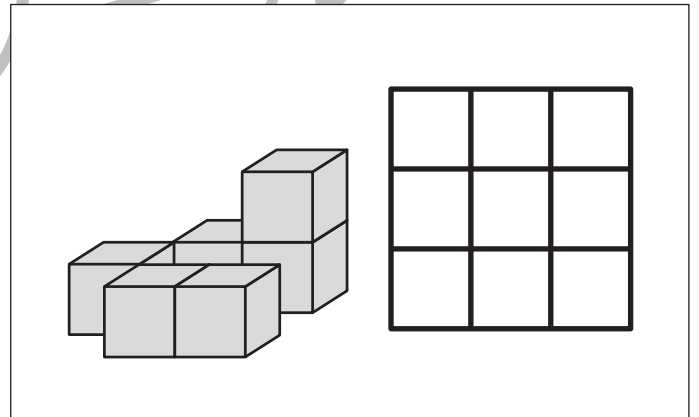
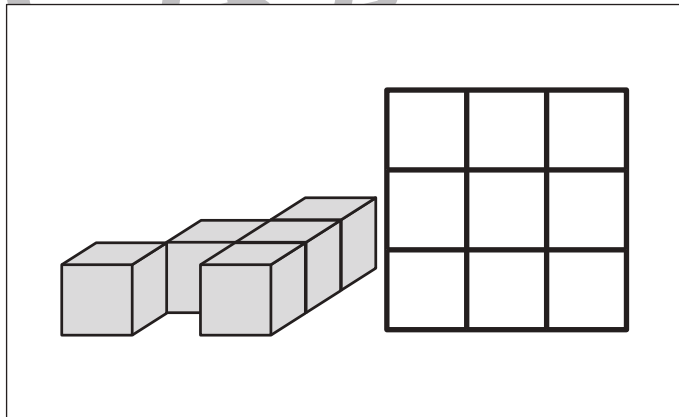
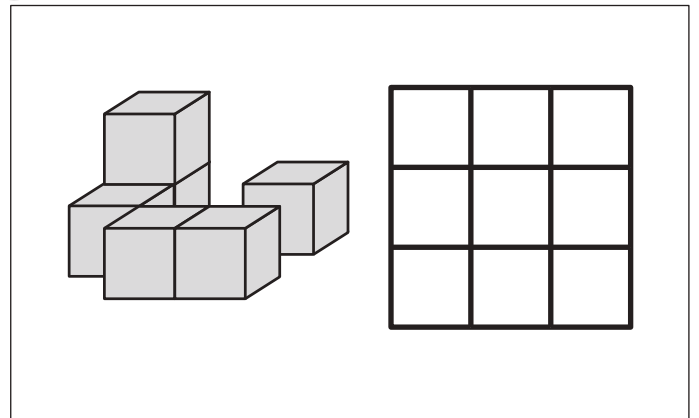
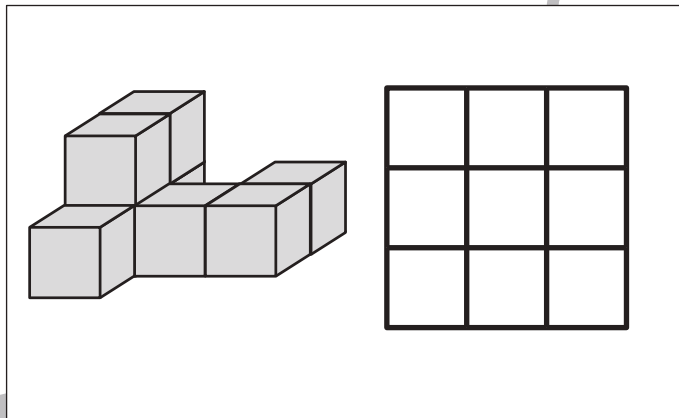
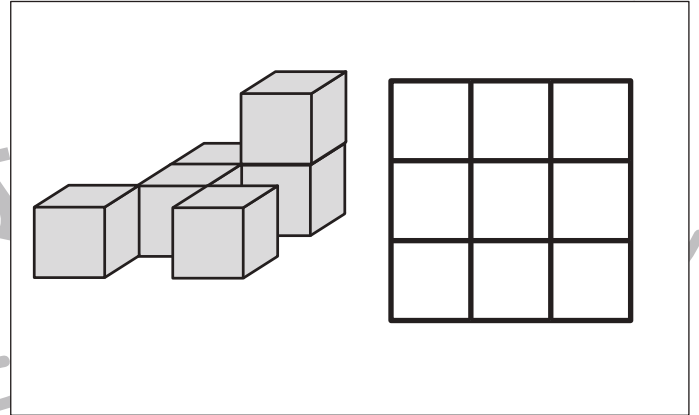
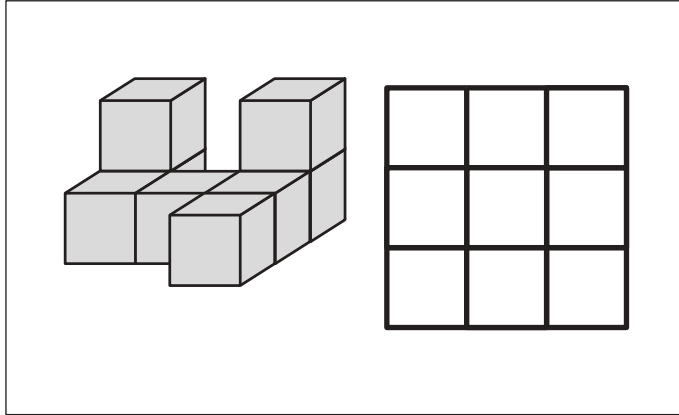


おうちで、よろう。

Study at home. 小学校受験の家庭学習教材

推理：四方観察 27

左の積み木を縦と横に3つずつマスがある右の四角の上に置きました。どの場所に積み木を置いたのかを考えてその場所を塗ります。



※1. このプリントは、しながわ・目黒こどもスクールのウェブサイトでダウンロードができます。無断複写・引用はご遠慮ください。
 ※2. このプリントを活用したオンライン授業のスケジュールは、しながわ・目黒こどもスクールのウェブサイトでご確認ください。















































おうちで、やろう。

Study at home. 小学校受験の家庭学習教材

数量：計数 33

眼鏡をかけている人・帽子をかぶっている人・リボンを髪の毛につけている人・左手に何かを持っている人を探して、その数だけ下の四角の中のおはじきをまとめて囲みましょう。

※1. このプリントは、しながわ・目黒こどもスクールのウェブサイトでダウンロードができます。無断複写・引用はご遠慮ください。

※2. このプリントを活用したオンライン授業のスケジュールは、しながわ・目黒こどもスクールのウェブサイトでご確認ください。



おうちで、やろう。

Study at home. 小学校受験の家庭学習教材

図形：点図形 70

左のお手本には黒い線と点線があります。このうち黒い線だけを右にかきます。

※1. このプリントは、しながわ・目黒こどもスクールのウェブサイトでダウンロードができます。無断複写・引用はご遠慮ください。
 ※2. このプリントを活用したオンライン授業のスケジュールは、しながわ・目黒こどもスクールのウェブサイトでご確認ください。